

MATEMATİK ETKİNLİKLERİ (ÇARPMA 5)

S1. Aşağıdaki toplama işlemlerini çarpma işlemi şeklinde yazalım.

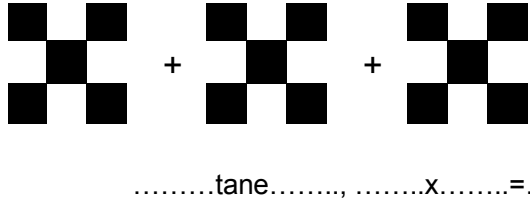
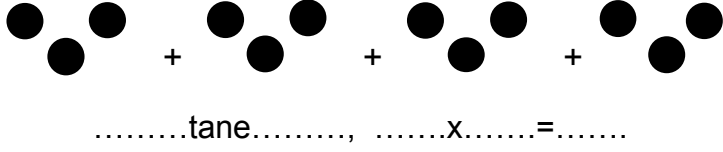

a) $5 + 5 + 5 + 5 + 5 = \dots\dots \text{tane} \dots\dots = \dots\dots \times \dots\dots = \dots\dots$

b) $3 + 3 + 3 + 3 + 3 + 3 = \dots\dots \text{tane} \dots\dots = \dots\dots \times \dots\dots = \dots\dots$

c) $1 + 1 = \dots\dots \text{tane} \dots\dots = \dots\dots \times \dots\dots = \dots\dots$

ç) $2 + 2 + 2 + 2 = \dots\dots \text{tane} \dots\dots = \dots\dots \times \dots\dots = \dots\dots$

S2. Aşağıdaki görsellerde anlatılan çarpma işlemlerini yazalım.



S3. Aşağıda çarpma şeklinde verilen işlemleri toplama işlemi şeklinde yazalım.

a) $3 \times 4 = \dots\dots \text{kere} \dots\dots = \dots\dots$

b) $7 \times 2 = \dots\dots \text{kere} \dots\dots = \dots\dots$

c) $9 \times 5 = \dots\dots \text{kere} \dots\dots = \dots\dots$

ç) $6 \times 1 = \dots\dots \text{kere} \dots\dots = \dots\dots$

d) $8 \times 0 = \dots\dots \text{kere} \dots\dots = \dots\dots$

S4. Aşağıda verilen çarpma işlemlerini cevaplayalım.

a) $6 \times 2 : \dots\dots$ f) $0 \times 7 : \dots\dots$

b) $3 \times 3 : \dots\dots$ g) $5 \times 5 : \dots\dots$

c) $5 \times 1 : \dots\dots$ ğ) $3 \times 4 : \dots\dots$

ç) $7 \times 4 : \dots\dots$ h) $1 \times 5 : \dots\dots$

d) $9 \times 5 : \dots\dots$ ı) $8 \times 3 : \dots\dots$

e) $8 \times 2 : \dots\dots$ i) $4 \times 0 : \dots\dots$

S5. Aşağıda verilen çarpma işlemlerinde çarpanların yerini değiştirerek çarpımı bulalım.

3
5
x
=

5
3
x
=

6
2
x
=

x
=

9
5
x
=

x
=

S6. Verilen çarpma işlemlerinde eksik olan çarpanları yazalım.

a) $8 \times \dots\dots = 2 \times \dots\dots$

ç) $5 \times \dots\dots = 6 \times \dots\dots$

b) $\dots\dots \times 7 = 4 \times \dots\dots$

d) $\dots\dots \times 9 = \dots\dots \times 2$

c) $3 \times \dots\dots = \dots\dots \times 1$

e) $4 \times \dots\dots = \dots\dots \times 3$

S7. Herbirinde 8 kilogram un bulunan 4 kutuda toplam ne kadar un olur?

S8. Tanesi 6 TL olan çikolatalardan 3 tane alan Jale , satıcıya 50 TL verdi. Jale, geriye kaç lira para üstü alır?

S9. Günde 2 saat parka oyun oynayan Hasan, bir hafta- da kaç saat parkta oyun oynamış olur?