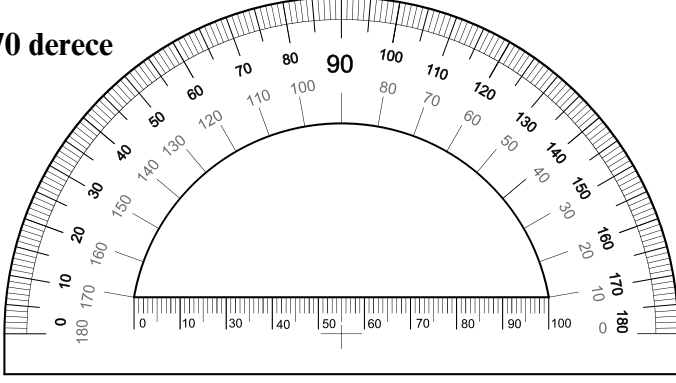


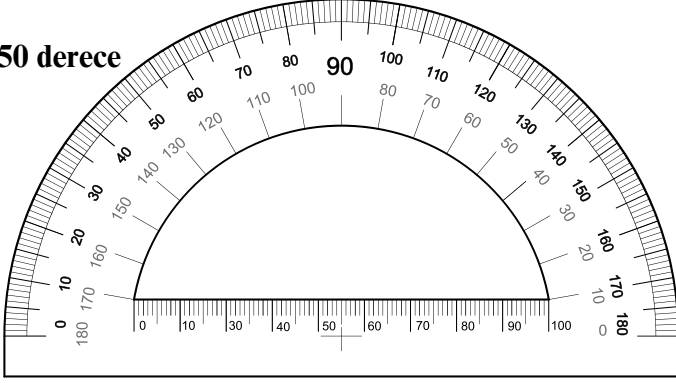
1.SORU

Aşağıda verilen açı ölçülerine uygun açıları
açıölçerleri kullanarak oluşturunuz.

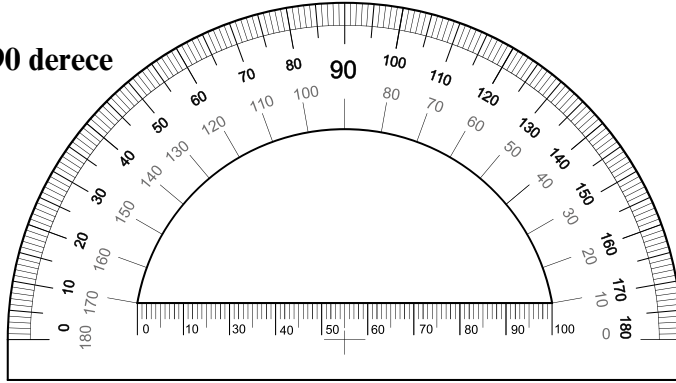
70 derece



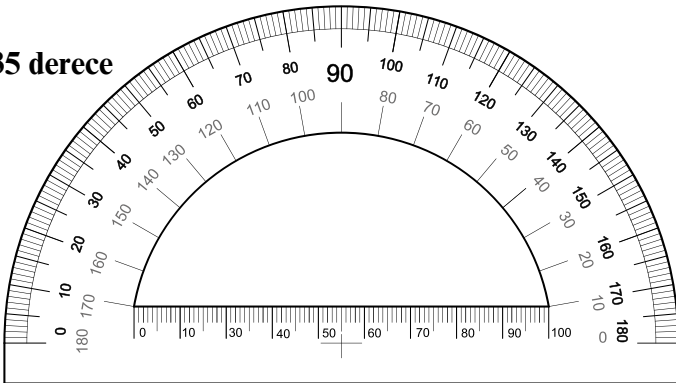
150 derece



90 derece

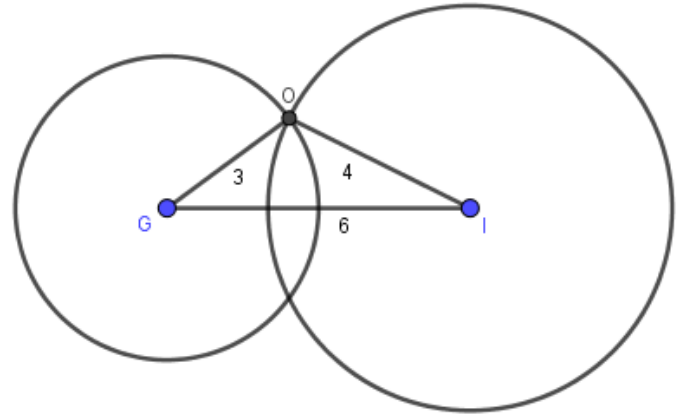
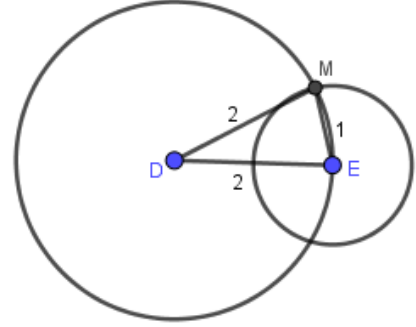
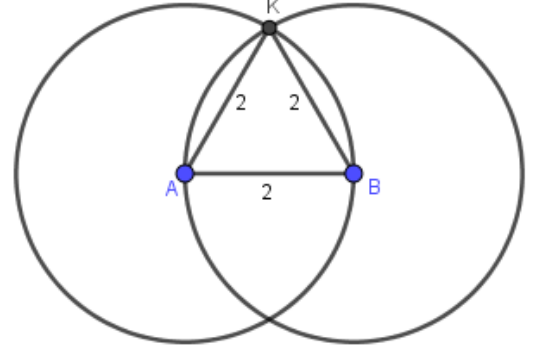


35 derece



2.SORU

Aşağıda verilen üçgenleri isimlendirip kenarlarına
göre çeşitlerini yazınız.



3. SORU

Aşağıda okunuşları verilen doğal sayıların yazılışlarını ve yazılışları verilen doğal sayıların okunuşlarını yazınız.

Kırk sekiz milyar dokuz yüz altmış bin altı yüz kırk

.....

Beş yüz yetmiş bir milyon yirmi altı bin sekiz

.....

1 930 176:

213 647 950 073:

4. SORU

Aşağıda verilen doğal sayıları çözümleyiniz.

145 806 015

74 400 021

5. SORU

Çözümlemiş halleri verilen sayıları bulalım.

$(5 \times 100000000000) + (1 \times 10000000000) + (8 \times 100000000) + (3 \times 10000) + (7 \times 100)$

.....

$20\,000\,000 + 7\,000\,000 + 300\,000 + 8\,000 + 900 + 40$

.....

$300\,000\,000\,000 + 4\,000\,000\,000 + 80\,000 + 100 + 10 + 7$

.....

6.SORU

Büyük Piramit bir ana kayanın üzerine inşa edilmiştir, yapı yaklaşık 2 milyon kireçtaşı (kalker) taş bloktan oluşur. Keops Piramidi gibi büyük piramitlerin inşası sırasında yaklaşık 20.000 işçinin çalıştığı tahmin edilmektedir. Her işçi eşit sayıda kireçtaşı taşıdığına göre bir işçi kaç kireçtaşı taşımıştır?

7.SORU

Rana bir okuma kitabı yazmaya karar verir. Bunun için 45 gün boyunca günde 8 sayfa kitap sayfası yazınca kitabını bitirmektedir.

Rana, bu kitabı günde 10 sayfa olacak şekilde yazsaydı hikaye kitabını kaç günde bitirirdi?