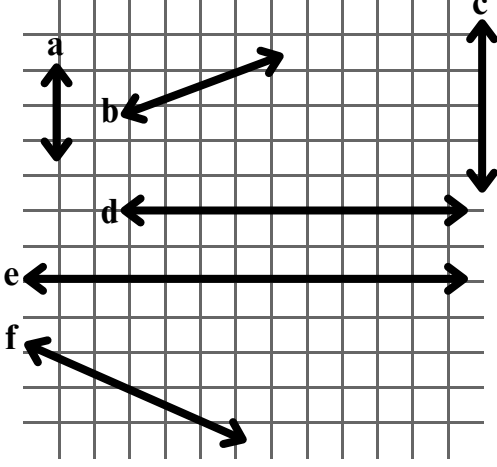


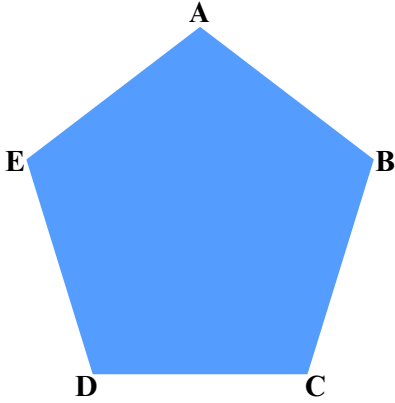
1.SORU

Aşağıda kareli kağıtta verilen a, b, c, d, e ve f doğrularının birbirlerine göre konumlarını belirleyiniz. Paralel doğru, kesişen doğru, çakışık doğru ve dik kesişen doğruya sembollerini kullanarak ikiye örnek veriniz.



2.SORU

Aşağıda verilen düzgün çokgen ile ilgili soruları cevaplandırınız.



Çokgeni isimlendiriniz:

Çokgenin kenarları:

Çokgenin köşeleri:

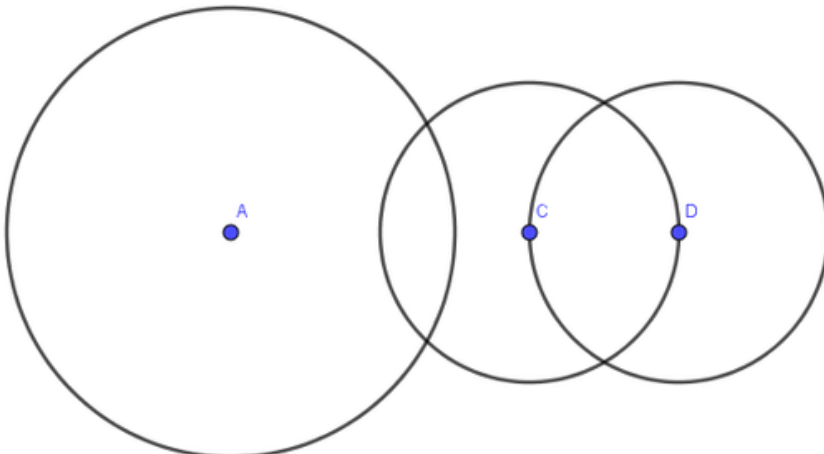
Çokgenin köşegenleri:

3.SORU

Aşağıda verilen kesişen çemberlerden C ve D merkezli çemberlerin yarıçap uzunlukları birbirine eşittir. A merkezli çemberin yarıçap uzunluğu ise farklıdır.


Bu çemberlerin merkezlerini ve kesişim noktalarından birini birleştirerek üçgen oluşturunuz.

Oluşturduğunuz üçgenleri isimlendirip, kenarlarına göre hangi üçgen çeşidi olduğunu nedeniyle birlikte yazınız.



4.SORU


1462306120 doğal sayısını abaküste modelleyelim.



5.SORU

6 008 203 719 doğal sayısını çözümleyiniz.

6.SORU



“Camp Nou” İspanya’nın Barcelona şehrinde bulunan ve 99 354 seyirci kapasitesi ile Avrupa’nın en büyük futbol stadyumudur. Kulüp 2026 yılının ağustos ayında futbol stadyumunu 105 bin kişilik kapasiteye ulaştırmayı hedeflemektedir. Buna futbol stadyumunda kişilik daha yer olmuş olur?

7.SORU



Bir apartman 6 katlıdır. Apartmanın her katında 2 daire vardır. Her dairede 4 oda olduğuna göre bu apartmanda toplam kaç oda vardır?

8.SORU



Bir okul, öğrencilerini geziye götürmeye karar verir. 610 kişilik öğrenci grubu her biri 24 kişi alan araçlarla geziye götürülecektir. Bu iş için en az kaç araç gereklidir?