


**1.SORU**

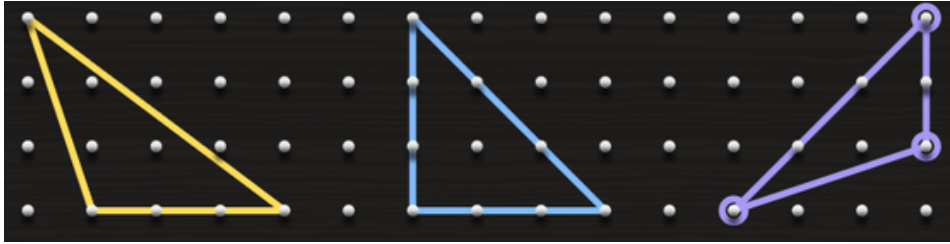
Aşağıda geometri tahtasında oluşturulan üçgenlerin açılarına göre çeşitlerini üçgenlerin altına yazınız.



.....

.....

.....



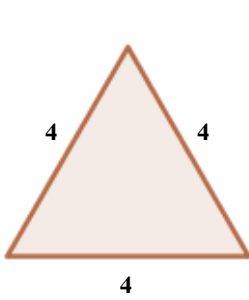
.....

.....

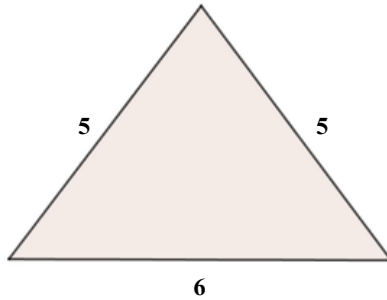
.....

**2.SORU**

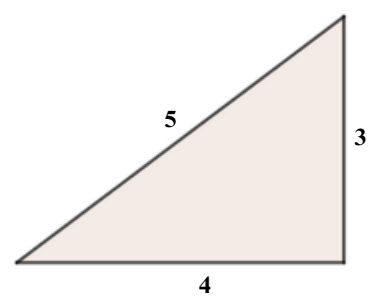
Aşağıda kenar uzunlukları verilen üçgenleri kenarlarına göre sınıflandırınız. Aşağıda verilen noktalı yerlere yazınız.



.....



.....



.....

**3.SORU**

Bir video izleme platformunda en fazla izlenen videoların izlenme sayısı verilmiştir. Aşağıda verilen doğal sayıların okunuşlarını yazınız.

15 399 232 193

8 609 266 016

6 990 306 978

#### 4.SORU



6 Mart Spor Kulübü oyuncusu Ceylin bir basketbol maçında her biri 2 puan değerinde 7 sayı atmıştır. Aynı zamanda her biri 1 puan değerinde 6 adet sayı atmıştır. Ceylin toplamda 38 puan takımına kazandırdığına göre 3 puan değerinde kaç adet atış yapmıştır?

#### 5.SORU



Bir kredi kartında toplam 13 589 TL vardır. Bu kredi kartı kullanılarak kıyafet alışverişi için 3 420 TL, teknolojik ürünler için de 7 943 TL harcanmıştır. Son durumda kredi kartında kaç TL kalır?

#### 6.SORU

Kenar uzunlukları bir doğal sayı ve çevre uzunluğu 12 birim olan kaç farklı dikdörtgen çizilebilir? Aşağıya çizilebilecek tüm dikdörtgenleri çiziniz.

#### 7.SORU

Bir kenarı 1 br olan kareli kağıtta verilen dikdörtgenlerin alanlarını hesaplayınız. Bulduğunuz sonuçları ilgili dikdörtgenlerin altlarına yazınız.

