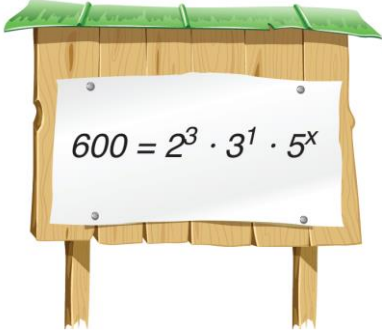


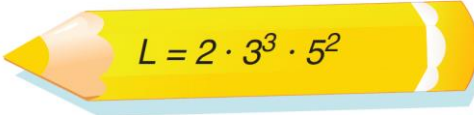
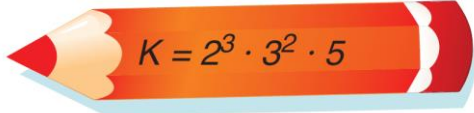
Adı :	<h1 style="text-align: center;">Yazılı Havuzu</h1>  <p style="text-align: center;">8. Sınıf Matematik Dersi I. Dönem I. Yazılı Soruları</p>	TARİH:
Soyadı :		PUAN:
Sınıf :		
No :		

SORU 1:



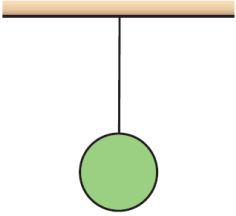
Tabelada yazan eşitliğe göre x sayısı kaçtır?

SORU 2:

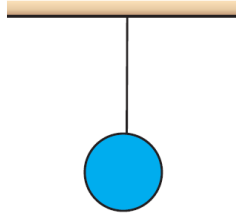


Yukarıdaki kalemler üzerinde yazan K ve L sayılarının en büyük ortak böleni kaçtır ve hangi işlemle bulunur?

SORU 3:



6 sn.



8 sn.

Bir elektrikçide yeşil ve mavi renkli iki lamba vardır. Yeşil lamba 6 saniyede bir, mavi lamba 8 saniyede bir yanıp sönmektedir.

Bu iki lamba ilk kez beraber yandıktan kaç saniye sonra tekrar beraber yanarlar?

SORU 4:

Her bir adımı $\sqrt{2}$ birim olan bir insan $\sqrt{2048}$ birimlik yolu kaç adımda gider?



SORU 5:



Yukarıda kişiler yaşlarını üslü sayıların çarpımı şeklinde söylemektedir. Buna göre bu kişilerin yaşlarını bulunuz.


Semra Hanım:

Ali Bey:

Ayşe Hanım:

Salih Bey:

SORU 6:



Ayşe, Ali ve Ahmet akıllarından bir sayı tutmuşlardır. Buna göre, Ayşe, Ali ve Ahmet'in tuttuğu sayıların sıralamasını yazınız.

..... > >

BAŞARILAR...



Çözüm için okut

Çözümler için Tıkla;
Yazılı Havuzu