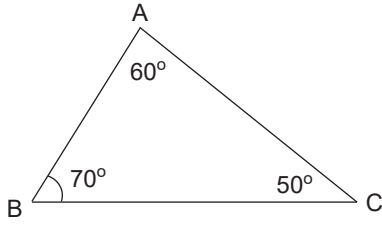


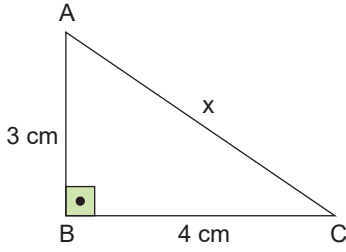
06.



Yukarıdaki şekilde verilenlere göre en uzun kenarı bulunuz.



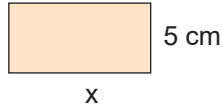
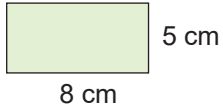
07.




ABC dik üçgeninde AC uzunluğu kaç santimetredir?



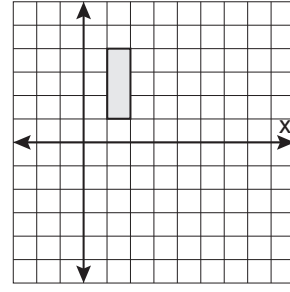
08. Aşağıda eş iki dikdörtgen verilmiştir.



Buna göre, x uzunluğu kaç santimetredir?



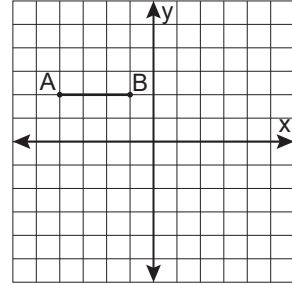
09.




Şekildeki dikdörtgenin x eksenine boyunca 4 birim ötelenmiş halinin görüntüsünü çizin.



10.



Şekildeki [AB] doğru parçasının y eksenine göre yansıması altındaki görüntüsünü çizin.



Video çözümleri için
QR'kodu okutunuz.

