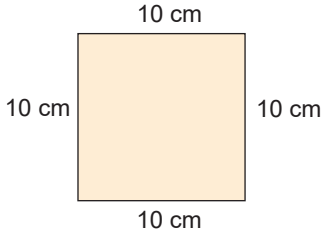




06.

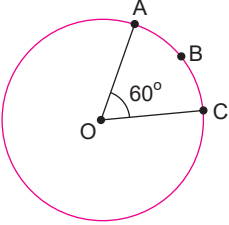


şekildeki karenin çevresi kaç santimetredir?



07.

Aşağıdaki şekilde O merkezli çemberde  $s(\text{AOC})=60^\circ$  dir.

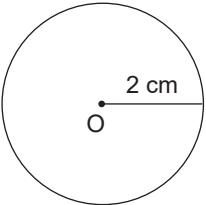


Buna göre,  $s(\widehat{ABC})$  kaç derecedir?



08.

Aşağıda O merkezli 2 cm yarıçaplı bir çember verilmiştir.



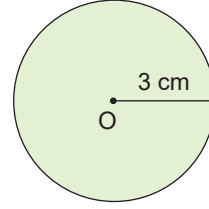
( $\pi = 3$  alınacak.)

Buna göre, çemberin çevresi kaç santimetredir?



09.

Aşağıda O merkezli 3 cm yarıçaplı bir daire verilmiştir.



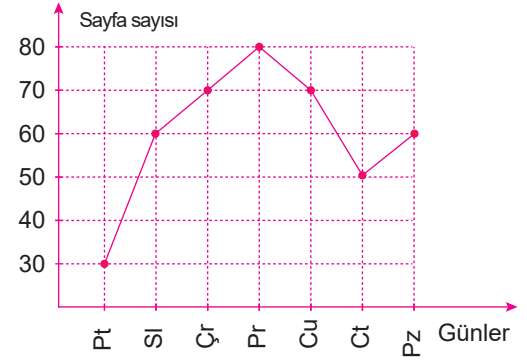
( $\pi = 3$  alınacak.)

Buna göre, dairenin alanı kaç santimetrekaredir?




10.

Aşağıdaki çizgi grafiği Ceren'in bir kitaptan günlük okuduğu sayfa sayılarını göstermektedir.



Ceren bir günde en fazla kaç sayfa kitap okumuştur?



Video çözümleri için  
QR'kodu okutunuz.

