

Adı ve soyadı:

Puanı:

Sınıf ve no: /

01. Aşağıdaki şekilde saat 6'yı göstermektedir.



Buna göre, 3 saat sonra akrep ile yelkovan arasındaki açı kaç derece olur?

- A) 90 B) 120 C) 150 D) 180

02. Aşağıdakilerden hangisi uzunluk ölçülerinin kullanıldığı spor dallarından biri
- değildir
- ?

- A) Koşu B) Yüzme
-
- C) Masa tenisi D) Uzun atlama

03. Ali, bir koşuyu 3 dakika 10 saniyelik bir sürede tamamlamıştır.

Buna göre, Ali yarışı toplam kaç saniyede tamamlamıştır?

- A) 160 B) 170 C) 180 D) 190

04. Bir halterci koparma dalında 120,75 kg, silkme dalında ise 132,50 kg kaldırmıştır.

Buna göre, bu halterci bu iki dalda toplam kaç kilogram ağırlık kaldırmıştır?

- A) 252,25 B) 252,75 C) 253,25 D) 253,75

05. Aşağıdakilerden hangisi sağlıklı yaşamla ilgili araştırma sorularından biri
- değildir
- ?

- A) Günlük yürüyüş yapıyor musunuz?
-
- B) Ürünlerin son kullanım tarihine dikkat ediyordunuz?
-
- C) Teknoloji kullanımının sağlık üzerindeki etkisi nelerdir?
-
- D) Televizyonda hangi dizileri izliyorsunuz?

06. Ace, bir günlük sürenin onikide birini kitap okuyarak geçirmektedir.

Buna göre, Ece bir haftada toplam kaç saat kitap okur?

- A) 2 B) 12 C) 14 D) 16

07. Vücut ağırlığına göre günlük su tüketimi için genel bir kılavuz olarak bazı uzmanlar, her 25 kilogram vücut ağırlığı için 1 litre su tüketimini önerir.

Buna göre, 75 kg ağırlığındaki bir kişi günde kaç litre su içmelidir?

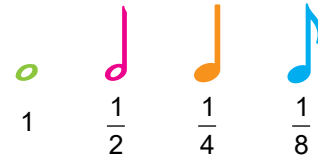
- A) 1 B) 2 C) 3 D) 4

08. Bir ressam 3 gram sarı boya ile 5 gram mavi boyayı karıştırarak yeşil rengin bir tonunu elde etmiştir.

Bu ressam, aynı yeşil tonu elde etmek için 18 gram sarı boya kullanırsa kaç gram mavi boya kullanması gerekir?

- A) 30 B) 25 C) 20 D) 15

- 09.



Yukarıda bazı notalar ve kesir karşılıkları verilmiştir.

Buna göre,



işleminin sonucu kaçtır?

- A)
- $\frac{3}{4}$
- B)
- $\frac{3}{8}$
- C)
- $\frac{5}{8}$
- D)
- $\frac{7}{8}$

- 10.

Yukarıdaki görselde hangi geometrik şekil yoktur?

- A) Üçgen B) Yamuk
-
- C) Dikdörtgen D) Kare

11.



Yukarıdaki görsel hangi geometrik şekle örnek verilebilir?

- A) Işın B) Doğru
C) Doğru parçası D) Nokta

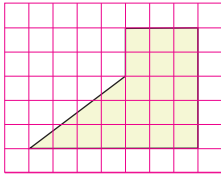
12.



Şekilde hangi tür açılara örnek yoktur?

- A) Tümler açılar B) Komşu açılar
C) Bütünler açılar D) Ters açılar

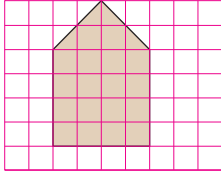
13.



Şekilde birim kareler üzerine oluşturulmuş bahçenin alanı kaç birimkaredir?

- A) 15 B) 18 C) 20 D) 21

14.



Şekilde birim kareler üzerine oluşturulmuş tarlanın alanı kaç birimkaredir?

- A) 16 B) 20 C) 22 D) 24

15.

Aşağıdakilerden hangisi doğada altın orana örnek verilemez?

- A) Ay çiçeği B) Deniz kabukları
C) Papatya D) Bal peteği

16.

Aşağıdakilerden hangisi matematiğe katkı sunan bilim insanlarımızdan biridir?

- A) İbni Sina B) İbn Batuta
C) Piri Reis D) Harezmi

17.

Yazılımcılar hangi sayı sistemini kullanır?

- A) ikili sayı sistemi B) onlu sayı sistemi
C) sekizli sayı sistemi D) onaltılı sayı sistemi

18.

Aşağıdakilerden hangisi Harezmi'nin çalışma alanlarından biri değildir?

- A) Cebirsel ifadeler
B) Denklem çözme
C) Trigonometri
D) Fibonacci sayıları

19.

Biyologlar canlıları sınıflandırırken (bitki, hayvan, mikroskopik canlılar vb.) hangi matematiksel kavramı kullanırlar?

- A) Oran B) Tam sayılar
C) Kümeler D) Çokgenler

20.

Aşağıdakilerden hangisi kesirlerin kullanıldığı meslek gruplarından biri değildir?

- A) Terzi B) Kuaför
C) Aşçı D) Marangoz

Video çözümü

