


Puani:

Sınıf ve no: /

[illegible]

01. $20 \cdot 0,5$

işleminin sonucunu bulunuz.



02. $\frac{0,4}{0,2}$

işleminin sonucunu bulunuz.




03. $x+y+z+4$ cebirsel ifadesinin sabit terimi kaçtır?

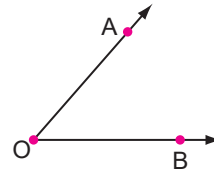
04. Bir veri grubunda en büyük sayıdan en küçük sayıyı çıkarınca açıklığı buluruz.

10	20	30	40
----	----	----	----

tablodaki verilerin açıklığı kaçtır?



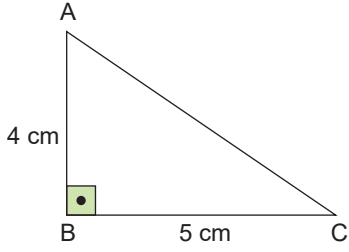
05.



Şekilde verilen açının gösterimlerinden birini yazınız.



06.



ABC dik üçgeninin alanı kaç santimetredir?

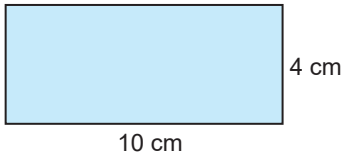


07.


Alan ölçüleri kaçar kaçar büyür ve küçülür?



08.

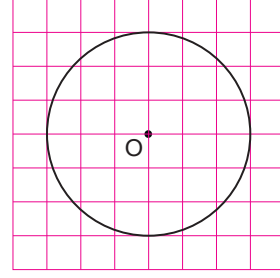


şekildeki dikdörtgenin alanı kaç santimetrekaredir?




09.

Aşağıda birim kareler üzerinde O merkezli bir çember çizilmiştir.

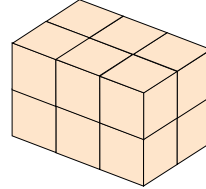


Buna göre, çemberin yarıçapı kaç birimdir?




10.

Aşağıdaki şekil bir dikdörtgenler prizmasıdır.



Buna göre, bu prizma kaç birim küpten oluşmaktadır?



Video çözümleri için
QR'kodu okutunuz.

