

_____ - _____ yılı 5. Sınıflar

2. Dönem SOSYAL BİLGİLER 1. Sınavı

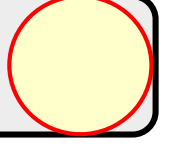
ORTAOKULU

ADI SOYADI :

SINIFI :

TARİHİ : / /

NOTU :



A- Aşağıdaki kutucuklara bilim insanlarında bulunması gereken ortak özellikleri yazın.

(6 x 3 = 18 Puan)

B- Aşağıda bilimsel araştırma yaparken geçilen basamakları numaralarıyla alttaki kutuya sıralayın. (5 x 3 = 15 Puan)

1- Elde edilen bilgileri not almak

2- Araştırma konusu seçmek

3- Kaynakça hazırlamak

4- Bilgileri derlemek düzenlemek

5- Kaynakları bulmak

--	--	--	--	--

C- Güvenli internet kullanmak için yapılması gerekenleri maddeler halinde yazın.

(5 x 2 = 10 Puan)



1-	
2-	
3-	
4-	
5-	

D- Aşağıdaki icatları ve mucitleri aşağıdaki tabloda eşleştirin. (5 X 3 = 15 Puan)



Telefon



Ampul



Atom'un Parçalanması



Yer Çekimi



DNA Onarımı

A	Thomas Edison	B	Issac Newton	C	Azin Sancar
D	Albert Einstein	E	Graham Bell		
1	?	2	?	3	?
4	?	5	?		?

E- Aşağıdaki görsellerden yararlanarak başlıca ekonomik faaliyetleri altlarındaki kutulara yazın. (8 x 3 = 24 Puan)

1-



2-



3-



4-




5-



6-



7-




8-



F- Aşağıda tabloda “BİLİNÇLİ TÜKETİCİ NE YAPAR ?” konusunu numaralarıyla alttaki kutuya sıralayın. (5 x 2 = 10 Puan)

- 1- Ürünü kullanım kılavuzuna göre kullanır.
- 2- Ürünlerde TSE damgası olmasına özen gösterir.
- 3- Alışverişe çıkmadan önce ihtiyaç listesi hazırlar.
- 4- Fiş, fatura ve garanti belgesini mutlaka alır.
- 5- Tüketici haklarını ve dilekçe hakkını kullanır.



G- Aşağıdaki soruların cevaplarını altlarına yazın. (4 x 2 = 8 Puan)

1- Ülkemizin en fazla ormanı olan bölgesi hangisidir ?

2- Ülkemizin turistik yerlerinden 3 örnek yazın.

a- _____

b- _____

c- _____

3- Ülkemizde sanayinin en yoğun olduğu kentlerimizden 3 tanesini yazın.

a- _____

b- _____

c- _____

4- Aşağıda görselleri verilen ekonomik faaliyetleri altlarına yazın.



BAŞARILAR