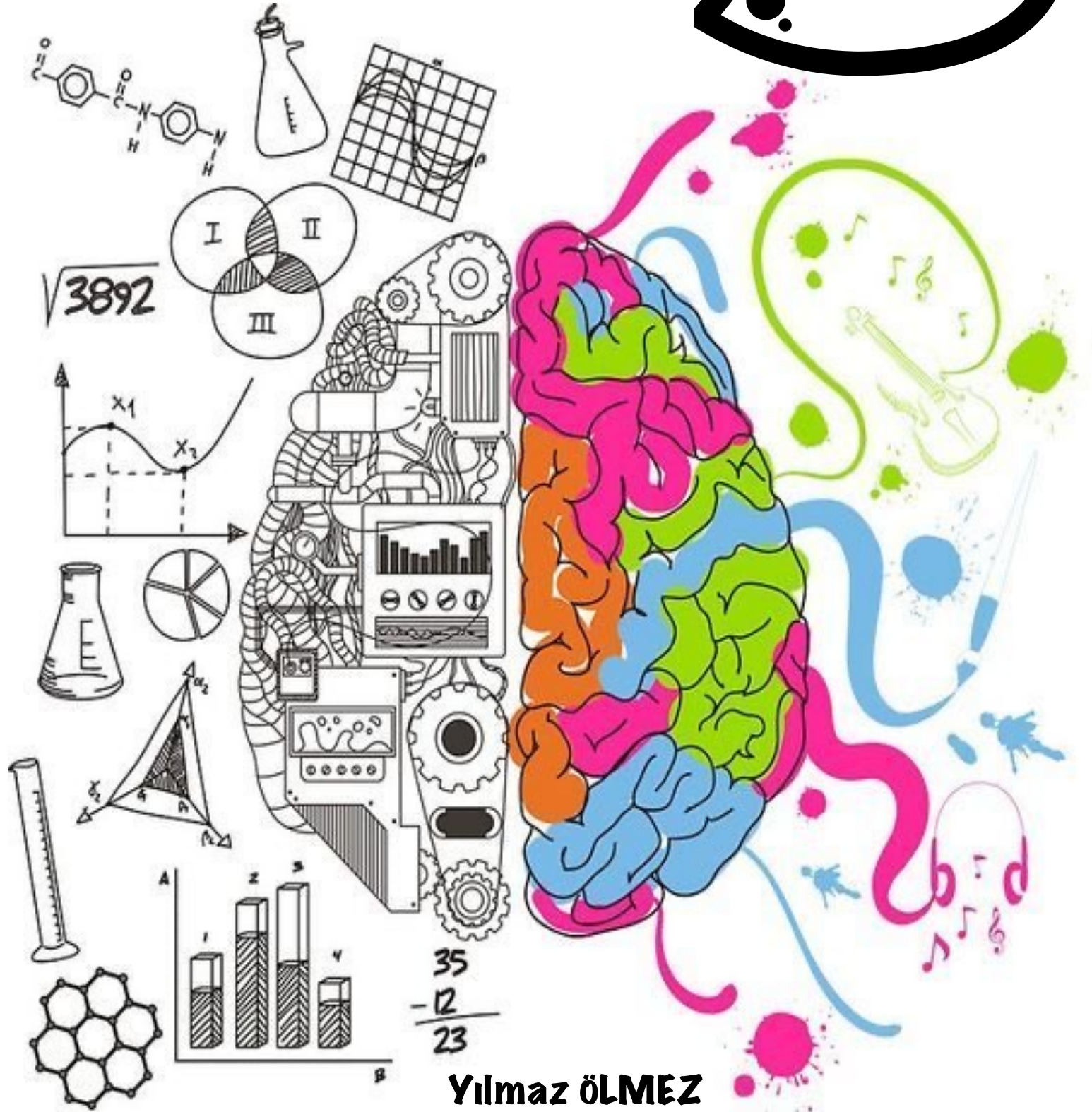


BİLSEM

DENEME SINAVI



Yılmaz ÖLMEZ

Bilsem Nedir?

Bilsem nedir, ne amalar, nasıl başvurulur?

Bilsem, Bilim ve Sanat Eđitim Merkezlerinin kısaltılmıř ismidir. İlkokullarda sınavla tespit edilen zel yetenekli đrencilerin rgn eđitim kurumlarındaki eđitimlerini aksatmayacak řekilde bireysel yeteneklerinin farkında olmalarını sađlamak ve sahip oldukları kapasitelerini geliřtirerek st dzeyde kullanmalarını sađlamak amacıyla devlete bađlı olarak aılmıř olan zel eđitim kurumlarıdır. Trkiye genelinde her ilde bir bilsem olmakla birlikte nfus yođunluđuna gre byk řehirlerde birden fazla bilsem olabilmektedir.

içindekiler

NOT : Sınava başlamadan yanınızda cevapları not alabileceğiniz bir kağıt bulundurunuz.



1. Bölüm

ŞİFRELEME

ŞİFRELEME 1

KELİMELER

PALTO

OALTP

PTLAO

LAOTP

LTOPA



SAYI KARŞILIĞI

83204

40832

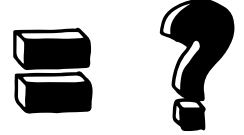
80243

23804

43802

İSTENEN

PALTO



A

B

C

D

43802

40832

48302

43082

ŞİFRELEME 2

KELİMELER

YASO
ASOY
OSAY
YOSA



SAYI KARŞILIĞI

1723
7231
1327
3271

İSTENEN

YASAK



A

27170

B

17270

C

10702

D

17072

ŞİFRELEME 3

KELİMELER

KALE
ALEK
KELA
ELKA

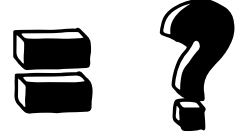


SAYI KARŞILIĞI

6134
4316
6431
1364

İSTENEN

KALE



A

1346

B

6431

C

4316

D

6134

ŞİFRELEME 4

KELİMELER

AYÇ
YAÇ
YÇA
ÇAY

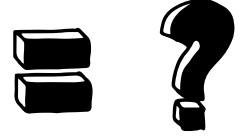


SAYI KARŞILIĞI

734
347
473
437

İSTENEN

ÇAY



A

734

B

347

C

473

D

437

ŞİFRELEME 5

KELİMELER

YAZ

YAK

AKA

SAYI KARŞILIĞI

185

561

655

Not: Sayılar karışık verilmiştir.

İSTENEN

KAYA

= ?

A

8551

B

8115

C

6551

D


6115



2.Bölüm


KÜP ÇÖZÜMLEME

KÜP ÇÖZÜMLEME 1




Renkli küp çevirildikçe oluşan durumlardan hareketle. Soru işareti (?) yerine gelecek olan rengi bulunuz ?


A




B



C



D




KÜP ÇÖZÜMLEME 2




Renkli küp çevirildikçe oluşan durumlardan hareketle. Soru işareti (?) yerine gelecek olan rengi bulunuz ?


A




B




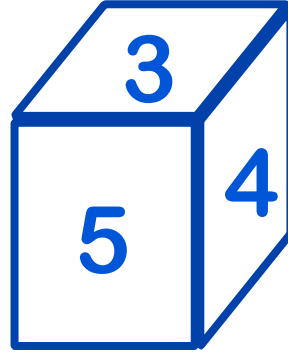
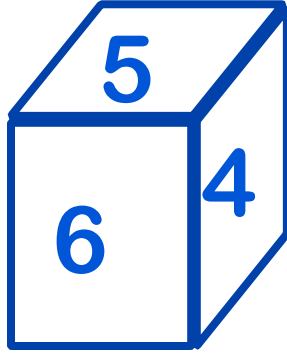
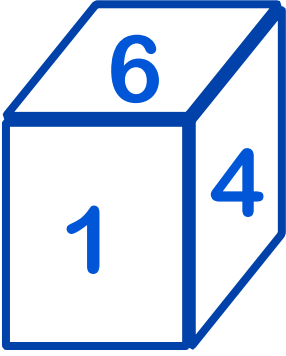
C



D



KÜP ÇÖZÜMLEME 1



1'den 6'ya kadar sayılar yazılan küp çevirildikçe bu durumlar oluşuyor. Soru işareti (?) yerine gelecek sayıyı bulunuz ?

A

5

B

6

C

1

E

2


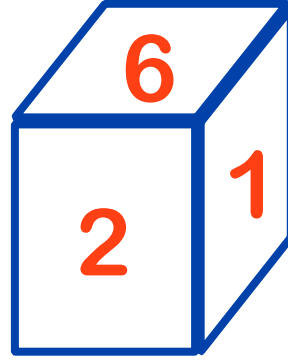
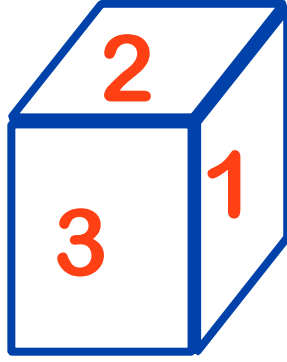
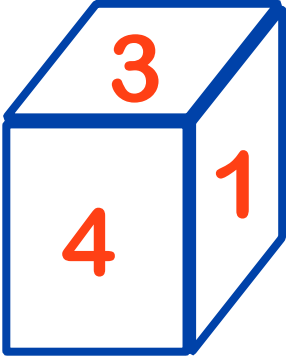
F

3

G

4

KÜP ÇÖZÜMLEME 2



1'den 6'ya kadar sayılar yazılan küp çevirildikçe bu durumlar oluşuyor. Soru işareti (?) yerine gelecek sayıyı bulunuz ?

A

2

B

3

C

4

E

5


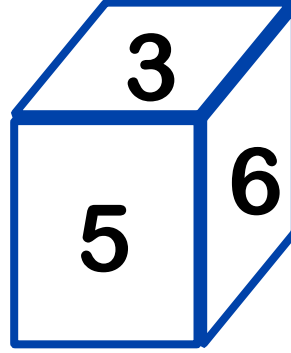
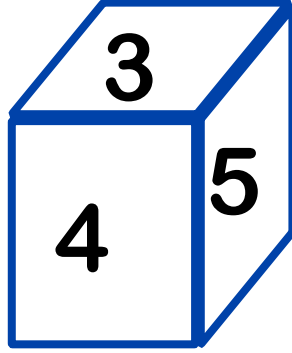
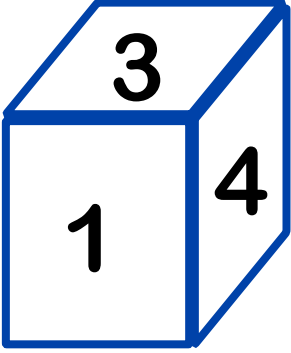
F

6

G

1

KÜP ÇÖZÜMLEME 3



1'den 6'ya kadar sayılar yazılan küp çevirildikçe bu durumlar oluşuyor. Soru işareti (?) yerine gelecek sayıyı bulunuz ?

A

1

B

2

C

3

E

4


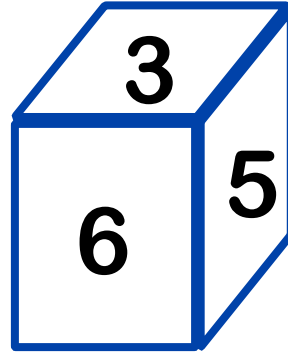
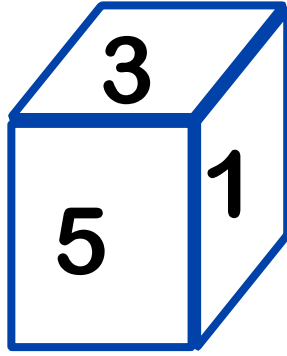
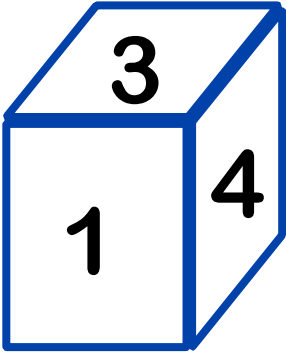
F

5

G

6

KÜP ÇÖZÜMLEME 4



1'den 6'ya kadar sayılar yazılan küp çevirildikçe bu durumlar oluşuyor. Soru işareti (?) yerine gelecek sayıyı bulunuz ?

A

1

B

2

C

3

E

4

F

5

G


6



3. Bölüm

ŞEKLİN DEVAMI

ŞEKLİN DEVAMI 1



Soru işareti yerine gelecek şıkkı bulunuz ?

A


B

C

D



ŞEKLİN DEVAMI 2




Soru işareti yerine gelecek şıkkı bulunuz ?


A



B




C



D




ŞEKLİN DEVAMI 2



Soru işareti yerine gelecek şekki bulunuz ?

A



B



C



D



ŞEKLİN DEVAMI 3



Soru işareti yerine gelecek şekki bulunuz ?

A



B



C



D






4. Bölüm

AYNADAKİ GÖRÜNTÜSÜ

AYNADAKİ GÖRÜNTÜSÜ 1



Aynadaki görüntüsünü gösteren şıkkı bulunuz ?

A

B

C

D



AYNADAKİ GÖRÜNTÜSÜ 2



A

B

C

D





6. Bölüm

GÖLGE BULMA

GÖLGE BULMA 1




Doğru gölgeyi gösteren şıkkı bulunuz ?

GÖLGE BULMA 1



Doğru gölgeyi gösteren şıkkı bulunuz ?

GÖLGE BULMA 2



Doğru gölgeyi gösteren şıkkı bulunuz ?



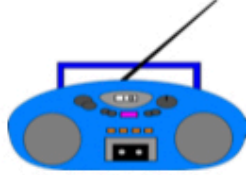
7. Bölüm

GÖRSEL İLİŞKİ

GÖRSEL İLİŞKİ 1



A.



B.



C.



Görsel ile ilişkili olan şıkkı bulunuz ?

GÖRSEL İLİŞKİ 1



Görsel ile ilişkili olan şıkkı bulunuz ?

GÖRSEL İLİŞKİ 2



Görsel ile ilişkili olan şıkkı bulunuz ?

GÖRSEL İLİŞKİ 2



☐



☐



☐



☐

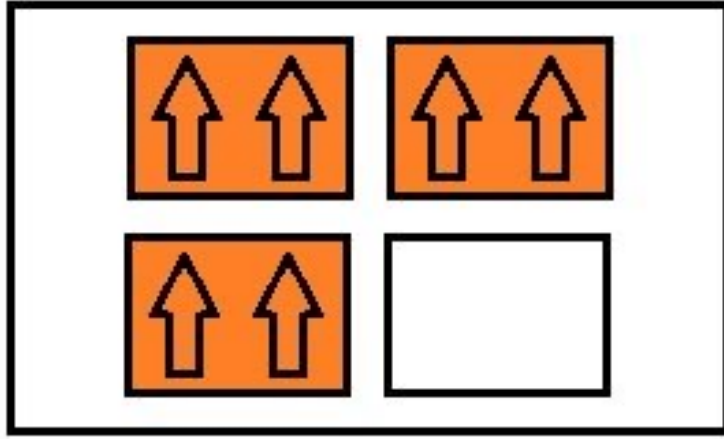
Görsel ile ilişkili olan şıkkı bulunuz ?



8. Bölüm

Şekil Tamamlama

ŞEKİL TAMAMLAMA 1



1



2



3



4




5



6

Görselde eksik bölgeye gelecek şıkkı bulunuz ?

ŞEKİL TAMAMLAMA 1



1



2



3



4



5



6

Görselde eksik bölgeye gelecek şekki bulunuz ?

ŞEKİL TAMAMLAMA 2



1

2

3



4

5

6

Görseli oluşturmak için hangi şekiller seçilmelidir ?



9. Bölüm

Değer Bulma

DEĞER BULMA 1

$$\text{Orange} + \text{Orange} + \text{Orange} = 15$$

$$\text{Orange} + \text{Cherry} + \text{Cherry} = 13$$

$$\text{Lemon} - \text{Cherry} = 6$$

$$\text{Orange} + \text{Lemon} + \text{Cherry} = ?$$

Eşitliği sağlayan değeri bulunuz ?

DEĞER BULMA 1

$$\text{SpongeBob} + \text{SpongeBob} - \text{Hamburger} = 7$$

$$\text{SpongeBob} - \text{Plankton} = 1$$

$$\text{Pineapple} = 7 - 3 + 1$$

$$\text{Plankton} + \text{Pineapple} = 9$$

$$\text{Hamburger} = ?$$

Eşitliği sağlayan değeri bulunuz ?




10. Bölüm

Kelime Eşleme


KELİME EŞLEME 1

Civciv



Tavuk

Kuzu



?

İlk kelime eşleşmesine göre “?” yerin ne gelmesi uygundur ?

A

Tavuk

B

İnek

C

Koyun

D

Horoz

KELİME EŞLEME 2

Boyun → Kolye

Parmak → ?

İlk kelime eşleşmesine göre “?” yerin ne gelmesi uygundur ?

A

Hızma

B

Yüzük

C

Toka

D

Saat


KELİME EŞLEME 3

Hakim



Dava

Öğretmen



?

İlk kelime eşleşmesine göre “?” yerin ne gelmesi uygundur ?

A

Okul

B

Kitap

C

Ders

D

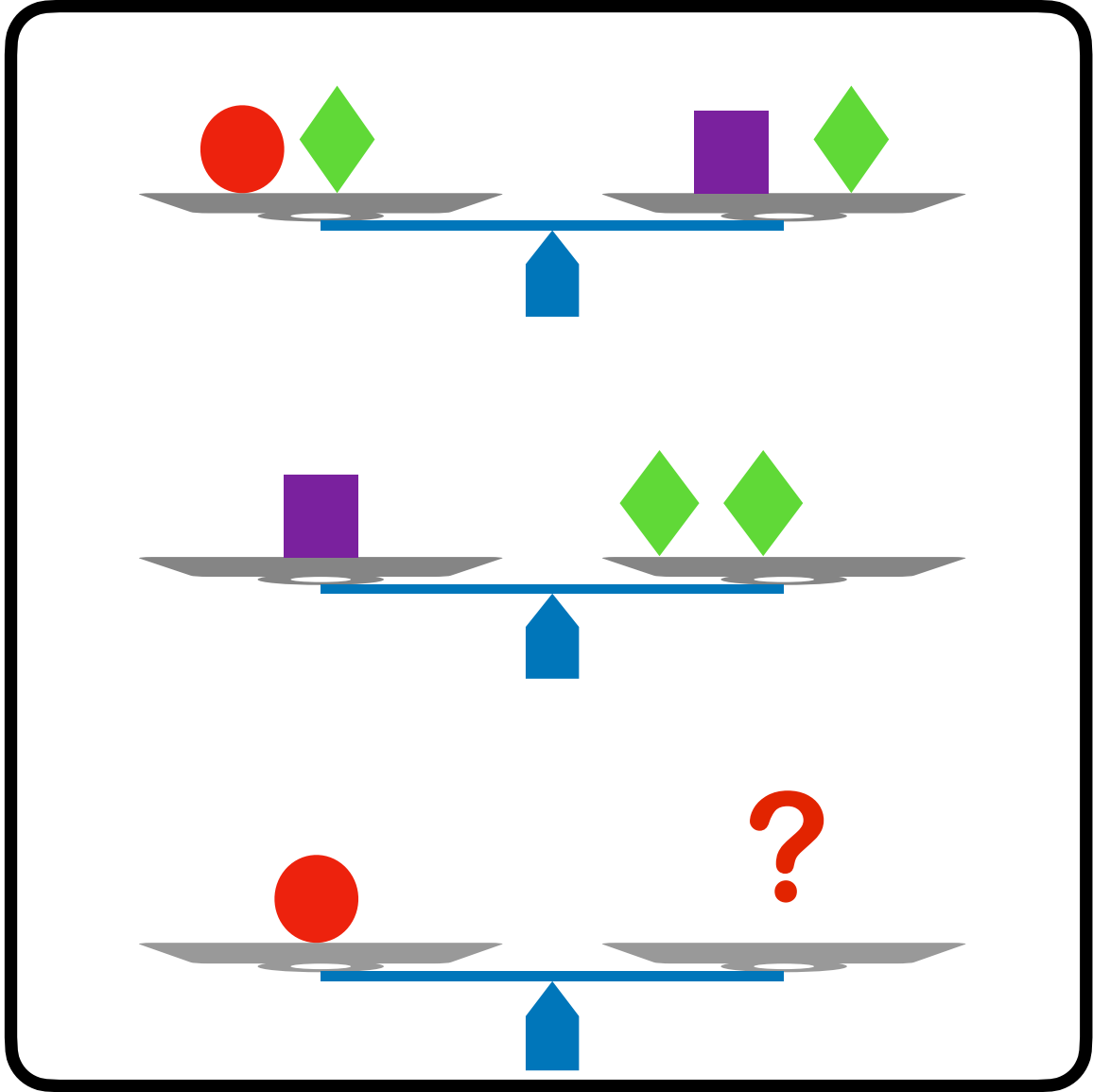
Kalem



1 1. Bölüm

Terazi Dengeleme

TERAZİ DENGELEME 1




Teraziler dengede ise “?” yerin hangi seçenek gelmesi uygundur ?


A




B



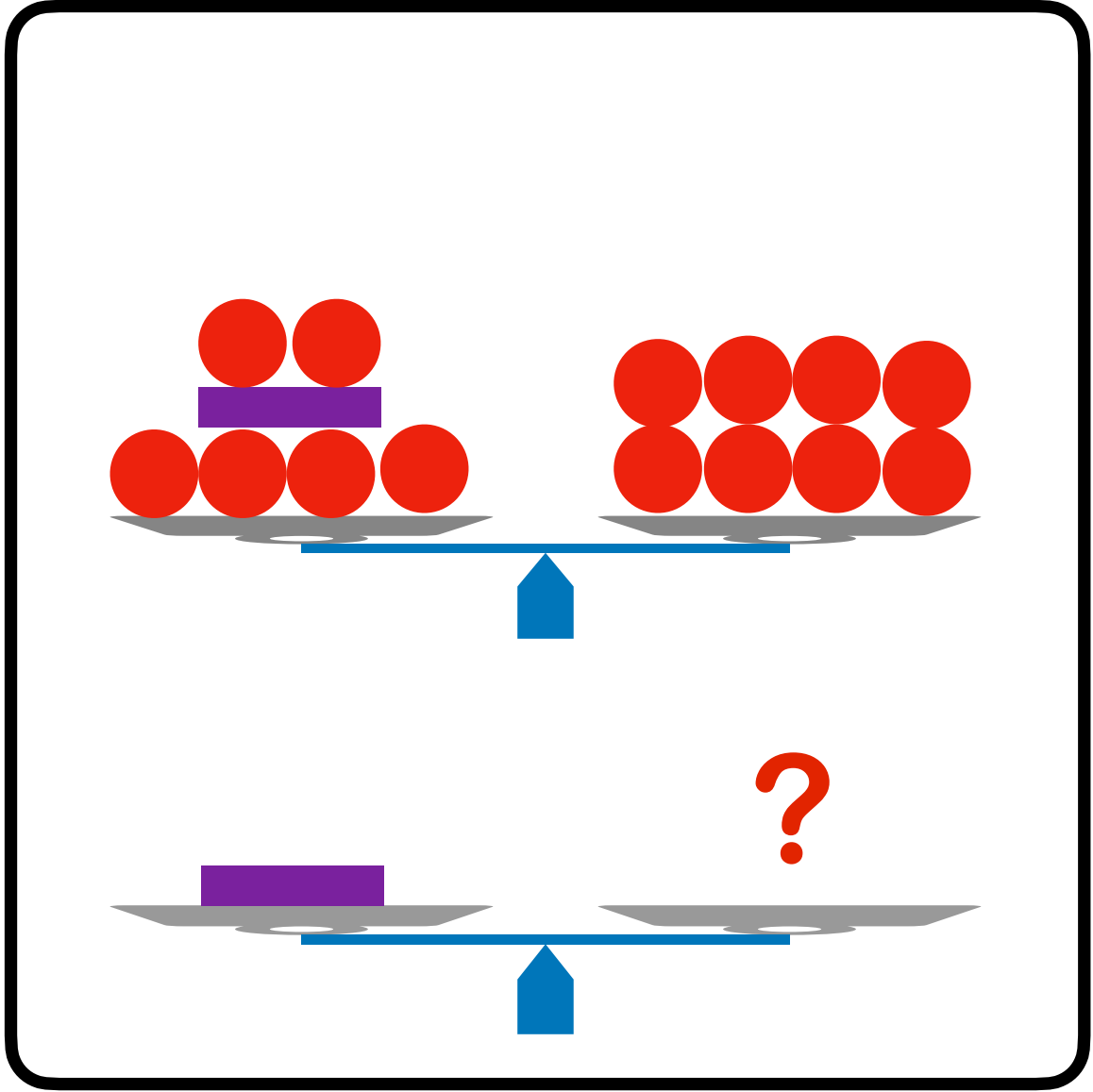
C



D




TERAZİ DENGELEME 1




Teraziler dengede ise “?” yerin hangi seçenek gelmesi uygundur ?


A




B



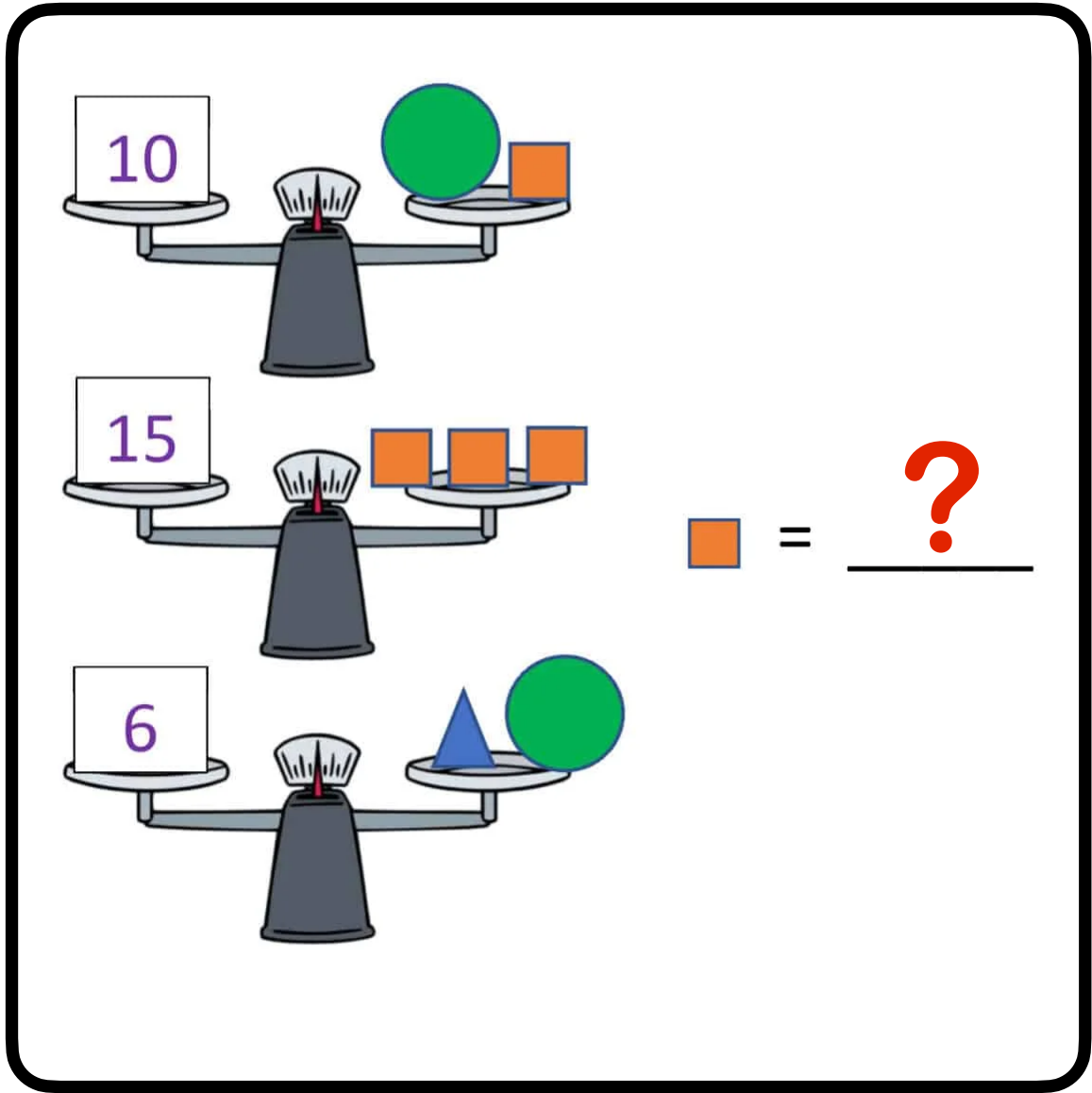
C



D



TERAZİ DENGELEME 2



Teraziler dengede ise “?” yerin hangi seçenek gelmesi uygundur ?

A

B

C

D

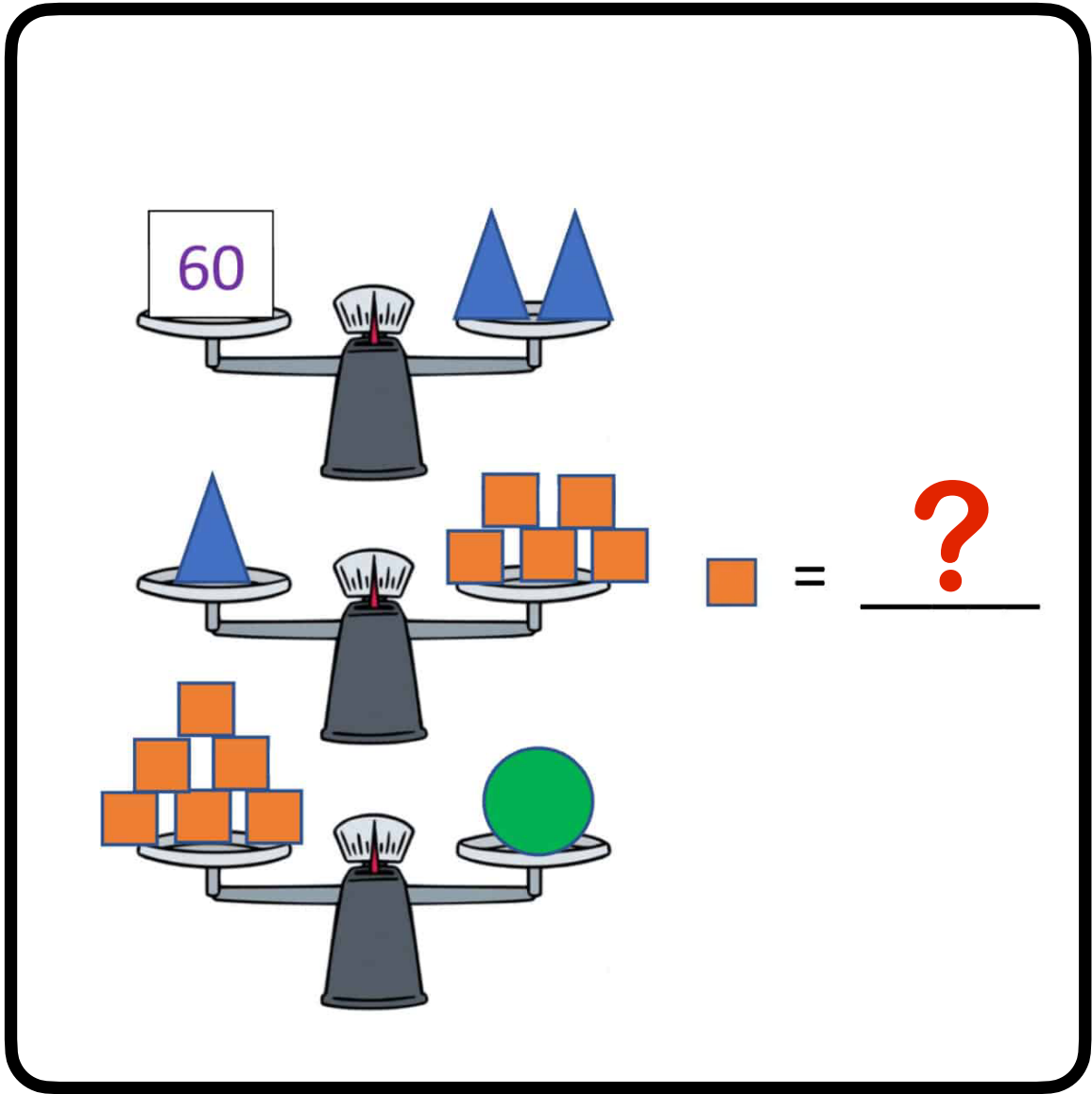
1

3

5

2

TERAZİ DENGELEME 3



Teraziler dengede ise “?” yerin hangi seçenek gelmesi uygundur ?

A

B

C

D

30

6

36

60



12. Bölüm

Örüntüler

ÖRÜNTÜ 1



(A)



(B)



(C)



(D)

NV-FS

Örüntüde “?” yerin hangisinin gelmesi uygundur ?

A

B

C

D

A

B

C

D



13. Bölüm

CEVAPLAR

