


Adı Soyadı:

3. SINIF HAYAT BİLGİSİ YIL SONU GENEL DEĞERLENDİRME - 1



DOĞRU

YANLIŞ



1. Belirli bir olay veya etkinliğe yakınlık duyma, ondan hoşlanma ve ona öncelik tanıma olarak nitelendirilen kişilik özelliği aşağıdakilerden hangisidir?

- A) ilgi
- B) yetenek
- C) davranış

2. Verilen ifadelerden yanlış olan hangisidir?

- A) Güçlü yönlerimiz günlük yaşamımızda ön plana çıkar.
- B) Güçlendirmek istediğimiz yönlerimizi planlı ve düzenli çalışarak geliştirebiliriz.
- C) Hepinizin ilgi duyduğu hoşlandığı alanlar aynıdır.

3. "Planlı ve düzenli çalıştığımda" cümlesi hangisi ile devam ettirilebilir?

- A) çevrenin kirlenmesi önlenir.
- B) başarılı ve mutlu olurum.
- C) adaletli davranmış olurum.

4. Sınıf kuralları ile ilgili aşağıda verilenlerden hangisi yanlıştır?

- A) Sınıf eşyalarını kullanırken dikkatli davranmalıyız.
- B) Öğretmenimizden izin almadan konuşmamalıyız.
- C) Kazaların çoğunluğu kurallara uymaktan kaynaklanır.

5. 3/A ve 3/B sınıfı futbol maçında karşılaşmışlardır. Kazanan takım aşağıdakilerden hangisini yapmamalıdır?

- A) Karşı tarafı tebrik etmelidir.
- B) Kaybeden takımla dalga geçip, gülmelidir.
- C) Maç sonu ellerini sıkmalı, teselli etmelidir.

6. Birbirine saygı duyan, sevgi besleyen, farklılıkları zenginlik olan gören insanların ilişkisine ne denir?

- A) arkadaşlık
- B) vatanseverlik
- C) dürüstlük

7. Bir yerin kuş bakışı görünüşünün küçültülerek, kabataslak, ölçsüz olarak kağıt üzerine aktarılmasına ne denir?

- A) düzlem
- B) harita
- C) kroki

8.

çalışkanlık
yardımseverlik
doğruluk

güvenilirlik
kıskançlık
dürüstlük

Yukarıda verilen kişilik özelliklerinden kaç tanesini arkadaşımızda olsun isteriz?

- A) 4
- B) 5
- C) 6

9. Aşağıdakilerden hangisi okulda düzenlenebilecek etkinlik veya kurslardan biri değildir?


- A) Halk oyunları kursu
- B) Bağlama kursu
- C) Diş hekimliği kursu

10. Verilen ifadelerden yanlış olan hangisidir?

- A) İlgi duyduğumuz alanda bir kurs veya etkinliğe katılabiliriz.
- B) Okuldaki kurs ve faaliyetlere katılmak bizleri mutlu eder ve bu durum ders başarılarımızı da olumlu etkiler.
- C) Arkadaşlarımızın hepsi ile aynı kulübe katılmalı ve aynı etkinlikleri yapmalıyız.

11. Aşağıdakilerden hangisi bir istektir?

A)



B)



C)





12.

Yukarıdaki levha hangi anlama gelmektedir?

- A) Üst geçit
- B) Okul geçidi
- C) İki kişilik geçit

13. Aşağıdakilerden hangisi sağlık ile ilgili bir meslek değildir?

- A) eczacılık
- B) mühendislik
- C) hemşirelik

14. Aşağıdaki trafik işaret levhalarından hangisi "yaya giremez" anlamına gelmektedir?

- A)
- B)
- C)

15. Aşağıda görselleri verilen oyuncaklardan hangisi büyüklerimizin zamanında oynadığı oyuncaklardan biri değildir?

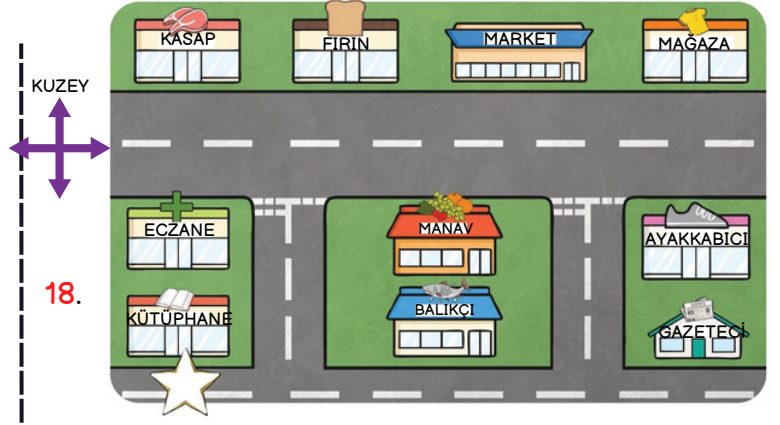
- A)
- B)
- C)

16. Adres bilgimizi yazarken hangi bilgiyi yazmamıza gerek yoktur?

- A) mahalle adı
- B) kapı numaramız
- C) öğrenci numaramız

17. Verilen bilgilerden yanlış olan hangisidir?

- A) Evde yaşayan her birey sorumluluklarını yerine getirmelidir.
- B) Evdeki işler paylaşıldığında daha çabuk biter.
- C) Ev işlerine karışılmamalı, anne ve babaların yapması sağlanmalıdır.



18.

Yukarıdaki verilen krokiye göre hangi bilgi yanlıştır?

- A) Manavın güneyinde balıkçı vardır.
- B) Fırının doğusunda kasap vardır.
- C) Gazetecinin kuzeyinde ayakkabıcı vardır.

19. Oturdıkları konutların birbirlerine göre yakın olması durumu olan kişilere ne ad verilir?

- A) komşu
- B) akraba
- C) sağdıç

20. Aşağıdakilerden hangisi bilinçli bir tüketici davranışı değildir?

- A) Sadece ihtiyacı olan ürünlerin alışverişini yapar.
- B) Harcamalarını bütçesine göre ayarlar.
- C) Uygun fiyatlı ürünler bulduğunda eve fazlaca alarak depolama yapar.

CEVAPLAR

- 1 A B C
- 2 A B C
- 3 A B C
- 4 A B C
- 5 A B C
- 6 A B C
- 7 A B C
- 8 A B C
- 9 A B C
- 10 A B C

- 11 A B C
- 12 A B C
- 13 A B C
- 14 A B C
- 15 A B C
- 16 A B C
- 17 A B C
- 18 A B C
- 19 A B C
- 20 A B C



optimistogretmen

Başarılar dilerim...



3. SINIF HAYAT BİLGİSİ YIL SONU GENEL DEĞERLENDİRME - 1 CEVAP ANAHTARI



1	A
2	C
3	B
4	C
5	B
6	A
7	C
8	B
9	C
10	C

11	A
12	B
13	B
14	A
15	B
16	C
17	C
18	B
19	A
20	C

