


3. SINIF


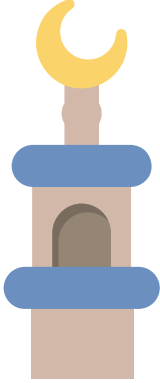
HAYAT BİLGİSİ DERSİ 33. HAFTA ÇALIŞMA KAĞIDI

- Aşağıda verilen yön bulma tekniklerinin adlarını yazalım.



.....

.....



.....

.....

- Boşlukları uygun kelimeler ile dolduralım.
- Cami minarelerinin kapıları her zamani gösterir
- Güneşin doğduğu yöne sağ kolumuzu uzattığımızda sağ kolumuz, sol kolumuz, önümüz, arkamızi gösterir.
- Karıncalar yuvalarının ağzını her zaman yönüne doğru yaparlar.
- Müslüman mezarları her zaman baş tarafıyı ayak tarafıyu gösterir.
- Kutup yıldızıi gösterir.
- Ağaçların ve taşların yosun tutmuş tarafı her zaman kuzeyi gösterir.

