

Adı Soyadı:

3. SINIF FEN BİLİMLERİ YIL SONU GENEL DEĞERLENDİRME - 1



DOĞRU

YANLIŞ



1. Dünya'nın tanımı aşağıdakilerden hangisidir?

- A) Uzayda yer alan en büyük varlık.
- B) Üzerinde yaşadığımız gezegen, yeryüzü.
- C) Üzerinde sadece cansızların bulunduğu gezegen.

2. "Dünyamızın şekliye benzer." cümlesinde boş bırakılan yer hangisi ile tamamlanabilir?

- A) küre
- B) küp
- C) tepsi

3. Yan tarafta ok ile gösterilen dünyanın katmanına ne ad verilir?

- A) manto
- B) yer kabuğu
- C) iç çekirdek



4. Kara katmanı ile ilgili verilen bilgilerden hangisi yanlıştır?

- A) Dünyanın en dıştaki kısmıdır.
- B) Atmosferdeki gazlar bu katmanı oluşturur.
- C) Canlıların üzerinde yaşadığı bölümdür.




5. Gözümüzle göremesek de varlığını hissederek anlayabileceğimiz dünya katmanı aşağıdakilerden hangisidir?

- A) Hava katmanı
- B) Su katmanı
- C) Kara katmanı

6. "Varlıkların rengini, kokusunu, sesini, büyüklüğünü, sertliğini, yumuşaklığını vb. özelliklerini sayesinde algılarız." cümlesinde boş bırakılan yere hangisi yazılmalıdır?

- A) duyu organlarımız
- B) kalbimiz
- C) ellerimiz

7. Aşağıdakilerden hangisi bir duyu organı değildir?

- A) 
- B) 
- C) 

8. Aşağıdaki cümlelerden hangisinde gözlerimiz ile algılayabildiğimiz bir durum anlatılmıştır?

- A) Mutfaktan nefis kokular geliyordu.
- B) Arının vızıltısı beni uyandırmıştı.
- C) İlkbaharın gelişi ile doğa rengarenk olmuştu.

9. "Nezle olduğumuzda besinlerin tadını ve kokusunu eskisi gibi alamayız." ifadesinden aşağıdaki çıkarımlardan hangisi yapılabilir?

- A) Duyu organları birbirleriyle ilişki içindedir.
- B) Nezle olunca ilaç kullanmalıyız.
- C) Nezle hastalığına en iyi gelen meyve portakaldır.

10. Verilen ifadelerden doğru olan hangisidir?

- A) Burnumuzla her varlığı koklayabiliriz.
- B) Kulak sağlığı için sessiz ortamlardan uzak durmalıyız.
- C) Göz renkleri insandan insana değişebilir.

11.

- Vücudumuzun dış kısmını tamamen kaplar.
- Vücudumuzu dış etkenlerden korur.
- Varlıkların sıcak, soğuk, sert, yumuşak, pürüzlü gibi özelliklerini algılamamızı sağlar.

Yukarıda özellikleri verilen duyu organı aşağıdakilerden hangisidir?

- A) 
- B) 
- C) 





12.


Kaleci Ersin, üzerine gelen sert şuta uzanıp yumrukla karşılık vermiştir ve top auta çıkmıştır. Futbol topunun Ersin'in kurtarışı sonrası auta çıkması hareketi aşağıdakilerden hangisi ile ifade edilir?

- A) sallanma B) yön değiştirme C) yavaşlama

13. Varlıkların hareket özellikleri ile ilgili aşağıda verilen bilgilerden hangisi yanlıştır?

- A) Tüm canlılar kendi özelliklerine göre hareket ederler.
B) Hareket canlıların ortak özelliğidir.
C) Bitkiler hareket edemezler.

14. Aşağıdaki hareket türlerinden hangisi diğerlerinden farklıdır?



15. "Yeşil ışığın yandığını gören bir şoför önce gaza basmış ancak trafik işaret cihazı sarı ve kırmızı ışığa dönünce fren yapmıştır." Bu ifadelerde sırası ile yapılan hareket türleri aşağıdakilerden hangisidir?

- A) yön değiştirme - yavaşlama
B) hızlanma - sallanma
C) hızlanma - yavaşlama



Görseldeki çocuklar ipe hangi kuvvet türünü uygulamaktadır?

- A) itme
B) çekme
C) döndürme

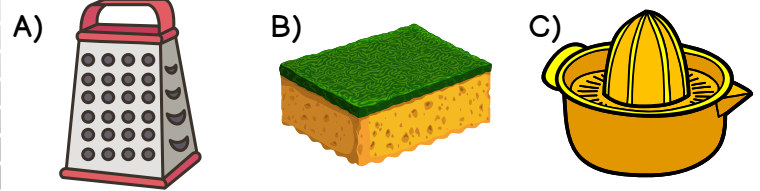
17. Hareket eden cisimlerle ilgili verilen bilgilerden hangisi yanlıştır?

- A) Hareket eden bir cismi daha da hızlandırmak için aynı yönde kuvvet uygularız.
B) Hareket eden cismi yavaşlatmak için zıt yönde kuvvet uygularız
C) Hareket eden tüm cisimler durdurulabilir.

18. Hareket eden cisimleri durdurabilen, duran bir cismi hareket ettirebilen, cisimlerin şekil ve yönlerini değiştirebilen etkiye ne ad verilir?

- A) kuvvet
B) hareket
C) elektrik

19. Aşağıdaki varlıklardan hangisi hem pürüzlü hem de yumuşaktır?



20. Maddenin üç hali vardır. Bunlar; katı, sıvı ve gazdır. Hangi madde doğada bu üç halde de bulunur?

- A) su
B) toprak
C) hava

CEVAPLAR

- 1 A B C
2 A B C
3 A B C
4 A B C
5 A B C
6 A B C
7 A B C
8 A B C
9 A B C
10 A B C

- 11 A B C
12 A B C
13 A B C
14 A B C
15 A B C
16 A B C
17 A B C
18 A B C
19 A B C
20 A B C



3. SINIF FEN BİLİMLERİ YIL SONU GENEL DEĞERLENDİRME - 1 CEVAP ANAHTARI



1	B
2	A
3	C
4	B
5	A
6	A
7	B
8	C
9	A
10	C

11	B
12	B
13	C
14	B
15	C
16	B
17	C
18	A
19	B
20	A

