

5.SINIF MATEMATİK DERSİ 2.DÖNEM 2.YAZILI SORULARI

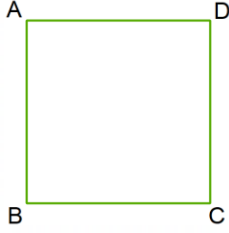
Adı Soyadı:

Sınıfı:

No:

Puan:

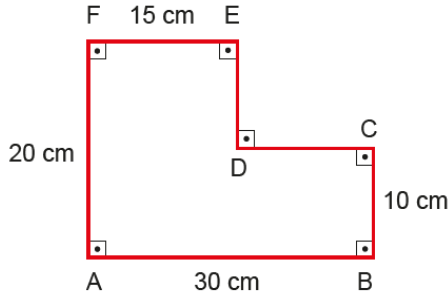
1.



Yukarıda verilen ABCD karesinin çevre uzunluğu 36 cm olduğuna göre alanı kaç cm^2 'dir?

- A) 36 B) 48 C) 72 D) 81

2.



Yukarıda verilenlere göre ABCDEF şeklinin alanı kaç cm^2 'dir?

- A) 400 B) 450 C) 500 D) 550

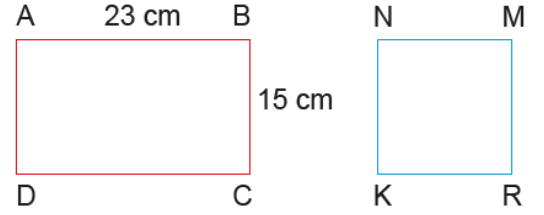
3. Her gün 50 dakika ders çalışan Işıl bir haftada kaç saat kaç dakika ders çalışmıştır?

- A) 6 saat 40 dakika B) 6 saat 20 dakika
C) 5 saat 50 dakika D) 5 saat 30 dakika

4. Ayşe 23 yıl 3 ay 17 günlük, Fatma 20 yıl 2 ay 11 günlük olduklarına göre Ayşe Fatma'dan ne kadar büyüktür?

- A) 43 yıl 5 ay 28 gün
B) 5 yıl 1 ay 6 gün
C) 3 yıl 1 ay 6 gün
D) 2 yıl 1 ay 28 gün

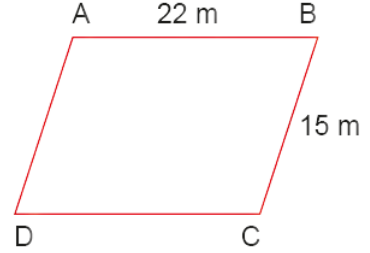
5.



Yukarıda verilen ABCD dikdörtgeninin çevre uzunluğu, KRMN karesinin çevre uzunluğuna eşit olduğuna göre karenin bir kenar uzunluğu kaç cm'dir?

- A) 15 B) 19 C) 23 D) 38

6.



Yukarıda verilen ABCD paralelkenarın çevre uzunluğu kaç m'dir?

- A) 64 B) 74 C) 80 D) 91

7. 480 dm'lik bir ip 6 parçaya bölünüyor. Her bir parçanın uzunluğu kaç cm'dir?

- A) 8 B) 80 C) 800 D) 8000

8.

0,035 km – 2,25 m

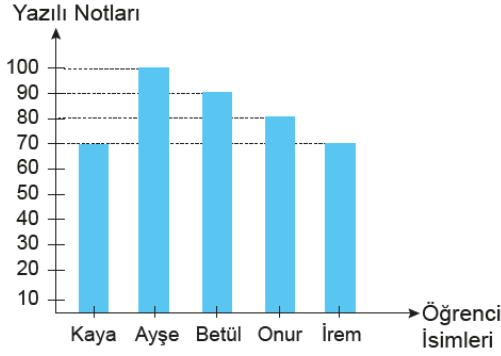
Yukarıda verilen işlemin sonucu kaç santimetredir?

- A) 327,5 B) 3 275
C) 32 750 D) 327 500

9. Bir okul başarılı öğrencileri seçmek için anket yapıyor. Aşağıdaki soruların hangisi bu anketin sorusu olabilir?

- A) Nerelisiniz?
B) Kaç kardeşsiniz?
C) Geçen sene taktir aldınız mı?
D) Babanız hangi işte çalışıyor?

10.

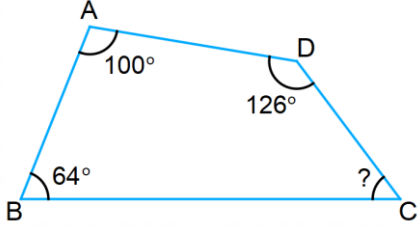


Yukarıdaki sütun grafiğinde beş öğrencinin Matematik dersi ilk yazılısından aldıkları notlar verilmiştir.

Grafiğe göre aşağıdakilerden hangisi doğrudur?

- A) En yüksek notu Betül almıştır.
- B) Ayşe, Onur'dan düşük not almıştır.
- C) İrem, Betül'den yüksek not almıştır.
- D) Kaya ile İrem aynı notu almıştır.

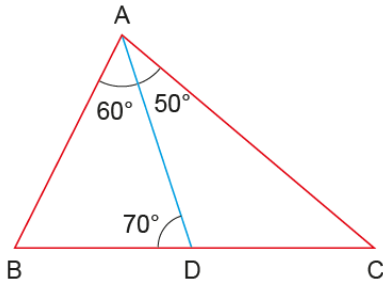
11.



Yukarıdaki ABCD dörtgeninde verilenlere göre C açısının ölçüsü kaç derecedir?

- A) 80
- B) 70
- C) 60
- D) 50

12.



Yukarıda verilen şekilde B, D ve C noktaları doğrusal olduğuna göre $\angle C$ kaç derecedir?

- A) 10
- B) 15
- C) 20
- D) 25

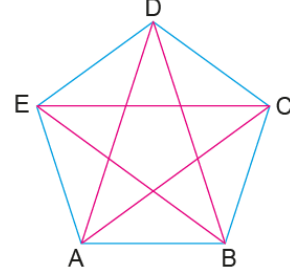
13. Aşağıdakilerden hangisi yanlıştır?

- A) Eşkenar dörtgenin köşegenleri eşittir.
- B) Karenin tüm açıları eşit ve 90° 'dir.
- C) Yamuğun 2 tane köşegeni vardır.
- D) Paralelkenarın karşılıklı açıları eşittir.

14. Aşağıdaki üçgenlerden hangisi geniş açılı bir üçgenin iki iç açısı olabilir?

- A) $50^\circ, 60^\circ$
- B) $40^\circ, 50^\circ$
- C) $30^\circ, 40^\circ$
- D) $65^\circ, 45^\circ$

15.



Aşağıdakilerden hangisi yukarıda verilen ABCDE beşgeninin köşegenlerinden birisi değildir?

- A) [EC]
- B) [AD]
- C) [BD]
- D) [BC]

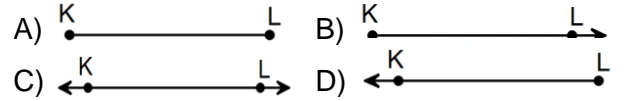
16.



Yukarıda verilen şekil ile ilgili aşağıdakilerden hangisi yanlıştır?

- A) AB ışınıdır
- B) \overrightarrow{AB} sembolü ile gösterilir
- C) [AB sembolü ile gösterilir
- D) AB doğrusudur

17. Aşağıdaki şekillerden hangisi [KL] sembolü ile gösterilir?

18. 180° 'in % 25'i kaçtır?

- A) 30
- B) 35
- C) 40
- D) 45

19. $32,27 - 21,9 = K$ ise, K aşağıdakilerden hangisine eşittir?

- A) 9,27
- B) 9,37
- C) 10,37
- D) 11,27

20. Aşağıdakilerden hangisi 39,87 ondalık kesrinden büyüktür?

- A) 39,798
- B) 39,807
- C) 39,9
- D) 38,99

Not: Sınav süresi 1 ders saatidir. Her soru 5 puan değerindedir. BAŞARILAR 😊