

ADI-SOYADI:

TÜRKÇE SORULARI

(İlk 7 soruyu metne göre cevaplandırınız)

PİKNİK GEZİMİZ



Merhaba. Benim adım Cem. Size bir anımı anlatacağım: Bir gün ailelerimizle beraber pikniğe gittik. Ailelerimiz yemekleri hazırlarken biz top oynadık. Top oynayan arkadaşlarım arasında Mert, Murat ve Olcay da vardı. Nihal ve Cemil ise top oynamadı ve ikisi de resim yaptı. Uzun süre sonra ailelerimiz “yemekler hazır çocuklar” diyerek bizi çağırdılar. Top oynarken oldukça acıkmıştık. Yemekten sonra biz tüm çocuklar, Nuray teyzem ve Zafer amcam ile beraber yürüyüşe çıktık, geri geldiğimizde ailelerimiz oyun oynamaya ve sohbete daldılar. Bu arada “Hadi çocuklar, artık gitme zamanımız geldi” diyerek bizi çağırdılar. Ama o da ne! Mert aramızda yoktu. Hemen Mert’i aramaya koyulduk. Uzun aramalarımız sonunda onu bulduk. Mert, bize çok ilginç bir şey gördüğü için uzun süre dönmediğini söylemişti...

- 1- Top oynayan çocuklar kimlerdir?
.....
- 2- Aileleri çocukları nasıl çağırdı?
.....
- 3- Yürüyüşe kimler çıktı?
.....
- 4- Aşağıdakilerden hangisi metinde çocukların yaptığı etkinliklerden birisi değildir?
A- Resim yapmak
B- Yürüyüş yapmak
C- Oyuncaklarla oynamak
- 5- Metne göre aşağıdakilerden hangisi yanlıştır?
A- Kaybolan çocuk başlangıçta top oynayanlardan birisidir
B- Yemekten önce çocuklar, Nuray teyzeleri ve Zafer amcaları ile yürüyüşe çıktılar
C- Mert, ilginç bir şey gördüğünü söyledi
- 6- Mert’in gördüğü ilginç şey ne olabilir?
.....
- 7- Bu metnin konusu(metinde bahsedilen şey) nedir?
.....
- 8- Aşağıdaki cümledeki yazım hatalarını düzelterek altına tekrar yazalım
Bugün bursa’da bulunan atatürk ilkokulu’ndaki burak ve Necdetin yanına gideyimmi?
.....
.....
- 9- Aşağıdaki kelimeleri eş ve zıt anlamlılarını yanına yazalım

<u>Eş Anlamlısı</u>	<u>Zıt Anlamlısı</u>
Siyah:	Erken:
Okul:	Tembel:
Kalp:	Dar:
- 10- Aşağıdaki cümlelerde (..) ile belirtilen yerlere uygun noktalama işaretlerini yazalım
Bir hafta kaç gündür(....)
Dikkat et, geliyor(....)
Sabah kahvaltısında ekmek(...)peynir(...)zeytin(...)yumurta ve meyve yedim(....)
Ardından Melda şöyle dedi(....)
(...) Ben Melda, geliyorum.

HAYAT BİLGİSİ SORULARI



1- Aşağıya farklı ulaşım türlerine birer taşıt örneği yazalım

Karayolu:

Havayolu:

Denizyolu:

Demiryolu:

2- Aşağıdakilerden hangisinde trafikte yanlış bir davranış söz konusudur?

- A- 9 yaşındaki Metin, otobüse binmeden önce sıraya girdi, otobüse binince koltuğa oturdu, ses çıkarmadan yolculuğuna devam etti
- B- 7 yaşındaki Neşe, babasının kullandığı arabaya bindi, babasının yanına oturdu ve emniyet kemerini bağladı
- C- 12 yaşındaki Murat, arabaya bindi, emniyet kemerini bağladı, açık olan araba pencerelerini kapattı

3- Trafikte yardıma ihtiyaç duyan yaşlı, engelli, hamile bireylere neden yardımcı olmalıyız?

- A- Bu bir kural olduğu için
- B- Biz de bir gün onlar gibi yardıma muhtaç duruma gelebileceğimiz için
- C- Büyüklerimiz yardım etmediğimiz için bize kızmasın diye

4- Acil durumlarda yapılacak aşağıdaki davranışlardan hangisi hatalıdır?

- A- Aynur, evde bir yanık kokusu hissetti, odaya girdiğinde halının ve kıyafetlerin tutuştuğunu gördü, hemen güvenli bir yere gidip 112'yi aradı
- B- Celil, yerde yatmakta olan yaralı birisini gördü, durumunu kontrol etti ve hemen 112'yi aradı
- C- Derya, bir hırsızın soygun yaptığını gördü, hemen 112'yi arayıp durumu haber verdi, ardından hırsızın peşinden koşarak onu yakalamaya çalıştı



5- Teknolojik araçların kullanımı ile ilgili aşağıdaki davranışlardan hangisi doğrudur?

- A- Çayını yudumlayıp bardağını çalışmakta olan bilgisayarın hemen yanına koymak
- B- Kablosunda sıyrıklar olan prizi kullanmamak
- C- İnternette yeni tanıştığımız birisine telefon numaramızı vermek

6- Aşağıdakilerden hangisinde hatalı bir davranış vardır?

- A- Gonca, kaydırağa binmek için kaydırağın merdivenlerine çıktı, fotoğrafını çekmek için kaydıraftan kayarken poz vermesini isteyen arkadaşının isteğini yerine getirmede
- B- Necdet, bisiklete bindi, kaskını, dizliğini ve dirsekliğini taktı, bisikletle tek kolla ve hızlı giden arkadaşını kibarca uyardı
- C- Sezai, topu yola kaçınca onu yakalamak için arkasından koştu

7- Aşağıdaki boşlukları dolduralım

İstiklal Marşı'nın şairi:

Bağımsızlığımızın sembolleri:..... ve

Türk bayrağındaki renk şehitlerimizin kanını ifade eder

Türkiye'nin başkenti:

Atatürk'ün doğduğu yer:

Atatürk'ün babasının ismi:

Atatürk'ün annesinin ismi:

Atatürk'e "Kemal" ismini verdi

Atatürk, babası ölüncegitti

Atatürk'ün çocukken oynadığı oyunlar:



ADI-SOYADI:

Milli bayramlarımız şunlardır:

- 1-.....
- 2-.....
- 3-.....
- 4-.....

Dini bayramlarımız şunlardır:

- 1-.....
- 2-.....

8- Ankara'daki ünlü yerlere, yiyeceklere ve hayvanlara örnekler yazalım

Ankara'da ünlü bir yer: Ankara Kalesi

Ankara'da ünlü başka bir yer:

Ankara'da ünlü bir yiyecek: Ankara Simidi

Ankara'da ünlü başka bir yiyecek:

Ankara'da ünlü bir hayvan: Ankara Keçisi

Ankara'da ünlü başka bir hayvan:

Ankara'da çok yetiştirilen bir tarım ürünü: Buğday

Ankara'da çok yetiştirilen başka bir tarım ürünü:

Ankara'da yetiştirilen hayvancılık ürünü: Ankara Balı

Ankara'da çok yetiştirilen, süt veren bir hayvan: Ankara

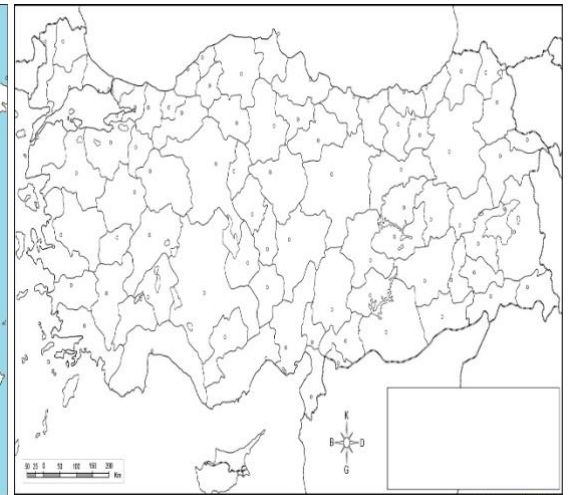
9- Aşağıdaki bilgilerden hangisi yanlıştır?

- A- Milli bayramlarımız, bizim topraklarımızı ve bağımsızlığımızı elimizden almaya kalkan ülkelere karşı kazandığımız zaferi ve zafer sürecini her yıl kutladığımız bayramlardır
- B- Dini bayramlarda dargınlar barışır, dayanışma artar
- C- Dini bayramlarımızda sınıfımızı bayraklarla süsleriz, balonlarla kutlarız

10- Aşağıdaki haritalarda dünya üzerinde Türkiye, Türkiye üzerinde Ankara'nın yerini işaretleyelim



Türkiye'yi işaretleyelim



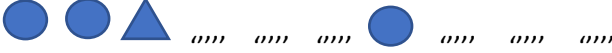
Ankara'yı işaretleyelim

MATEMATİK SORULARI

- 1- Aşağıdaki şekillerden simetrik olanları işaretleyelim, simetri çizgilerini(tam ortadan ikiye bölmükleri çizgileri) çizelim



- 2- Aşağıdaki örüntüde boş bırakılan yerleri tamamlayalım



- 3- Aşağıdaki toplama işlemlerini çarpma olarak ifade edelim

Örnek: $3+3+3+3= 4 \times 3$

$5+5+5+5= \dots\dots\dots$

$2+2+2+2+2+2= \dots\dots\dots$

$3+3+3+3+3= \dots\dots\dots$

$4+4+4+4+4+4+4= \dots\dots\dots$

- 4- Aşağıdaki çarpma işlemlerini yapalım

$8 \times 4 = \dots\dots\dots$

$7 \times 3 = \dots\dots\dots$

$9 \times 2 = \dots\dots\dots$

$5 \times 5 = \dots\dots\dots$

$6 \times 4 = \dots\dots\dots$

4

9

7

6

1



- 5- Her birisinin içerisinde 4 tane kalem olan 8 kalem kutusunda toplam kaç kalem vardır?

- 6- 12 elmayı 3 kişiye eşit olarak paylaştırsak her bir kişiye kaç elma düşer? (işlem yapalım)

- 7- 20 arabayı 4'erli gruplandırarsak kaç grup oluşur? (işlem yapalım)

- 8- Aşağıdaki bölme işlemlerini yapalım

$4 \div 2 = \dots\dots\dots$

$9 \div 3 = \dots\dots\dots$

$12 \div 3 = \dots\dots\dots$

$15 \div 5 = \dots\dots\dots$

$16 \div 4 = \dots\dots\dots$

20 | 4

14 | 2

18 | 3

15 | 3

20 | 5

- 9- Aşağıdaki boşlukları dolduralım

1 bütün çeyrektir.


4 yarım çeyrektir.

2 çeyrek yarımdır.

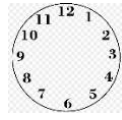
8 çeyrek bütündür.

- 10- Aşağıdaki saatleri çizelim

Saat 14:00



Saat 5 buçuk



Saat 1'i çeyrek geçiyor



Saat 7'ye çeyrek var

