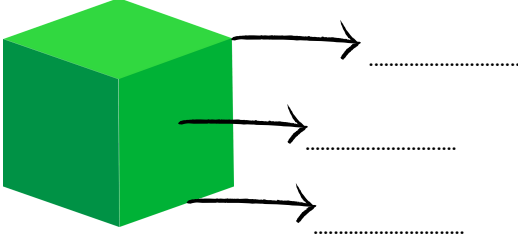


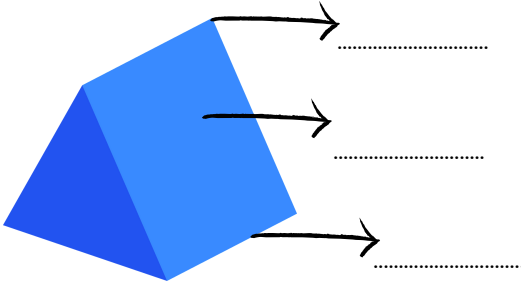
### 3. SINIF

## MATEMATİK DERSİ 27. HAFTA ÇALIŞMA KAĞIDI

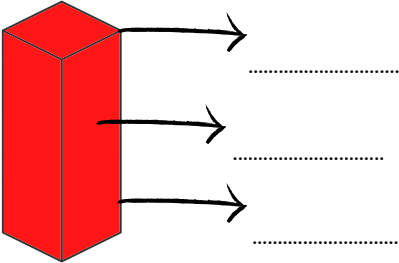
- Aşağıdaki prizmaların isimlerini altlarına yazalım, oklarla gösterilen yerlerin bilgilerini yazalım.



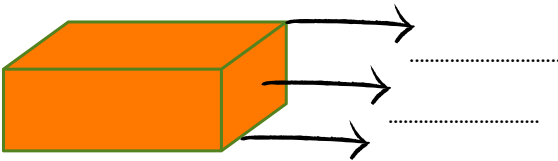
..... yüzü,  
..... ayrıtı,  
..... köşesi vardır.



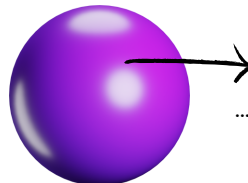
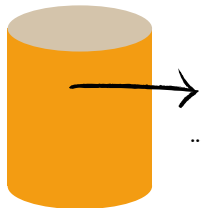
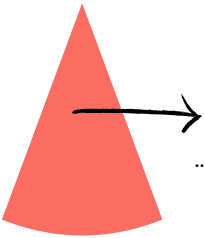
..... yüzü,  
..... ayrıtı,  
..... köşesi vardır.



..... yüzü,  
..... ayrıtı,  
..... köşesi vardır.



..... yüzü,  
..... ayrıtı,  
..... köşesi vardır.




Köşesi ve  
ayrıtları yoktur, sadece yüzleri  
vardır.


Koninin ..... yüzü, silindirin ..... yüzü,  
kürenin ..... yüzü vardır.




- Aşağıdaki izometrik kağıda cetvel kullanarak farklı uzunluklarda kare, dikdörtgen ve üçgenler çizelim




- Aşağıdaki kare ve dikdörtgeninin köşegenlerini cetvel yardımı ile çizip gösterelim.




- Aşağıdaki geometrik şekilleri kenar sayılarına göre isimlendirelim.




.....




.....



.....




.....



.....


- Aşağıdaki izometrik kağıda cetvel kullanarak kenar sayılarına göre farklı geometrik cisimler çizelim.



- Aşağıda istenenleri cetvel kullanarak dikkatlice çizelim.


- Bir kenarı 5 santimetre olan bir üçgen çizelim.

- Tüm kenarları 6 santimetre olan bir kare çizelim.



- Uzun kenarı 7, kısa kenarı 4 santimetre olan bir dikdörtgen çizelim.

- Tüm kenarları 4 santimetre olan bir üçgen çizelim.



- Bir kenarı 5 santimetre olan bir kare çizelim.

- Uzun kenarı 6, kısa kenarı 3 santimetre olan bir dikdörtgen çizelim.

