
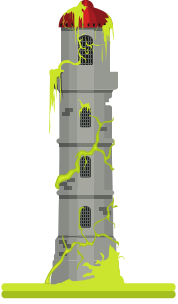



3. SINIF

FEN BİLİMLERİ DERSİ 27. HAFTA ÇALIŞMA KAĞIDI

- Verilen görselleri doğal ya da yapay çevre olarak isimlendirelim.



- Verilen ifadelerden doğru olanların başına "D", yanlış olanların başına "Y" koyalım.

- () Canlı ve cansız varlıkların bulunduğu kendiliğinden oluşan ortamlara doğal çevre denir.
- () İnsanların ihtiyaçlarını karşılamak için yaptıkları ortamlara yapay çevre denir.
- () Marketler, alışveriş merkezleri doğal çevreye örnektir.
- () Şelaleler, ovalar, tepeler yapay çevreye örnektir.
- () Doğal çevrenin korunması ve gelecek nesillere aktarılması hepimizin görevidir.
- () Oturduğumuz bina doğal çevre unsurudur.
- () Tüneller, köprüler, alt ve üst geçitler yapay çevre unsurlarıdır.
- () Mağaralar yapay çevre unsurudur.

