



Aşağıdaki işlemleri resimdeki meyvelerin fiyatlarına göre yapalım.



Aşağıdaki ürünleri almak için gerekli olan para miktarını örnekteki gibi işaretleyiniz.







Cabbar-01







1.  +  = ₺
..... + = ₺



5.  -  = ₺
..... - = ₺



2.  +  = ₺
..... + = ₺

6.  -  = ₺
..... - = ₺







3.  +  = ₺
..... + = ₺

7.  -  = ₺
..... - = ₺


4.  +  = ₺
..... + = ₺















8.  -  = ₺
..... - = ₺

Tabloda bazı ürünler ve fiyatları verilmiştir. Bu ürünler için ne kadar para ödenmesi gerektiğini işaretleyin.

| Ürünler |  |  |  |  |  |  |
|--|---|---|---|---|--|---|
|  16 ₺ | | × | × | × | | |
|  15 ₺ | | | | | | |
|  12 ₺ | | | | | | |
|  17 ₺ | | | | | | |
|  10 ₺ | | | | | | |
|  20 ₺ | | | | | | |
|  18 ₺ | | | | | | |

❁ Aşağıdaki ürünlerin üzerinde fiyatları verilmiştir. Hangi ürün ikililerine ne kadar para ödememiz gerektiğini yanlarına yazınız.



- 1  +  → $6 + 2 = 8 \text{ TL}$
- 2  +  → + = TL
- 3  +  → + = TL
- 4  +  → + = TL
- 5  +  → + = TL
- 6  +  → + = TL
- 7  +  → + = TL