

Aşağıdaki soruları dikkatle okuyarak cevaplayınız.

AĞRI DAĞI

Türkiye'nin doğu ucunda, Ağrı ilinin sınırları içerisinde yer alan Ağrı Dağı, ülkemizin en yüksek dağıdır. Yüksekliği 5137 m olan bu dağ, sönmüş bir yanardağ kütesidir. Zirvesi, kar ve buzullar ile kaplıdır. Bu kar ve buzul yıl boyunca erimez. Ağrı Dağı, yılın her mevsimi turist çeker. Doğal güzellikleri, av hayvanları, tarihsel özellikleri nedeniyle turistlerin ilgi odağıdır. Ayrıca, yüksek bir dağ olması sebebiyle birçok dağcının da göz bebeğidir. Ağrı Dağı'na tırmanmak ve Ağrı Dağı'ndan inmek neredeyse 4-5 gün sürmektedir.

1. Ağrı Dağı hakkında hangi bilgi **yanlıştır**?

- (a) Ülkemizin en yüksek dağıdır.
- (b) Zirvesi kar ve buzullarla kaplıdır.
- (c) Turistlerin ilgisini çekmez.
- (d) Dağdan inmek 4-5 gün sürer.

2. Ayrıca, yüksek bir dağ olması sebebiyle birçok dağcının da göz bebeğidir. Cümlesindeki "**göz bebeği**" deyiminin almanı aşağıdakilerden hangisidir?

- (a) İnsanlar tarafından çok sevilen yer
- (b) İnsanların uğramayı istemesiği yer
- (c) Kalabalık olmayan yer
- (d) İnsanları korktuğu yer

3. 1-Ahmet aslan gibi güçlüdür.
2-Her zaman çok çalışkandı.
3- Çocuklar arı gibi çalıştılar.
4- Bilgisayarım çok yavaştır.
Yukarıda kaç tane **benzetme cümlesi** vardır?

- (a) 1
- (b) 2
- (c) 3
- (d) 4

4. "onarmak - tamir etmek" sözcükleri arasındaki anlam ilişkisi hangi sözcükler arasında vardır?

- (a) soğuk-sıcak
- (b) uzak-yakın
- (c) doktor-hekim
- (d) gerçek-yalan

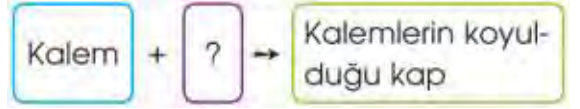
5.

Okulumuzun en iyi özelliği

Söz dizisi aşağıdakilerden hangisi ile tamamlanırsa **anlamli** olur?

- (a) sınıflarda akıllı tahtanın olmasıdır
- (b) camlarının kırık olmasıdır
- (c) kalabalık olmasıdır
- (d) küçük olmasıdır

6.



Yukarıdaki soru işaretinin (?) yerine hangi ek yazılmalıdır?

- (a) -cı
- (b) -lik
- (c) -de
- (d) -den

7. I- Bu soru diğerlerine göre daha zordu.
II- Yorulduğu için erken yattı.
III- Ben senden daha uzunum.
IV- Eve gelmeyince meraklandık.

Yukarıdaki cümlelerin hangileri karşı-
Yukarıdaki cümlelerin hangileri **karşılaştırma** cümlesidir?

- (a) I-III
- (b) II-III
- (c) I-IV
- (d) II-IV

8. "yeni" kelimesi, aşağıdaki cümlelerin hangisinde diğerlerinden **farklı anlamda** kullanılmıştır?


- (a) Yeni kazağını hemen kirletmiş.
- (b) Ayşe, okuldan daha yeni geldi.
- (c) Yeni koltuklar satın aldık.
- (d) Yeni arabasıyla gezmeye çıktılar.

9. Aşağıdaki cümlelerin hangisinde "**ne zaman?**" sorusuna cevap vardır?

- (a) Parkta uzun süre oynadı
- (b) Araba için çok para istedi.
- (c) Öğleden sonra alışverişe gitti.
- (d) Yağmur yağacak gibi.

10. 1. eğlenceli 2. kitapları 3. kitaplarıdır
4. en 5. masal 6. dünyanın
Numaralandırılmış sözcükler, anlamlı ve **kurallı bir cümle** oluşturmak için nasıl sıralanmalıdır?

(a) 6-4-1-2-5-3 (c) 4-1-5-2-3-6
(b) 4-1-5-3-2-6 (d) 3-6-4-1-5-2

11.  Söylemekten
Noktalı yere yazılabilecek en uygun deyim hangisidir?

(a) dilini yuttu (c) dili koptu
(b) dilimde tüy bitti (d) dili düştü


12. katlanır - gülü - dikenine - seven
Yukarıdaki karışık kelimeler anlamlı ve **kurallı** şekilde sıralanırsa en sonda hangi sözcük olur?

(a) katlanır (c) dikenine
(b) gülü (d) seven


13. MATEMATİK SORULARI

Kesirlerden hangisi basit kesir **değildir**?




(a) $\frac{1}{7}$ (b) $\frac{3}{4}$ (c) $\frac{9}{9}$ (d) $\frac{2}{5}$

14.  Yandaki kesir **basit kesir** olduğuna göre "A" yerine hangisi gelmelidir?

(a) 10 (b) 9 (c) 8 (d) 7

15.  • Basit kesir
• Bileşik kesir
• Tam sayılı kesir

Kesirler ve türleri eşleştirilirse sonuç nasıl olur?

(a)  (c) 
(b)  (d) 

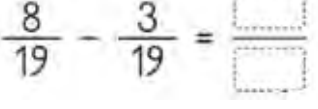
16. 

Sayı doğrusunda A ile gösterilen kesirin okunuşu aşağıdakilerden hangisidir?

(a) üç bölü beş (c) altı bölü üç
(b) üç bölü altı (d) beş bölü üç


17. Ahmet 120 lirasının $\frac{3}{4}$ 'ünü harcadı.
Ahmet'in **geriye** kaç lirası kalmıştır?

(a) 30 (c) 90
(b) 60 (d) 100

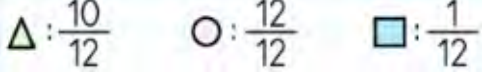
18. 

Yukarıdaki işlemin sonucu nedir?

(a) $\frac{5}{8}$ (b) $\frac{5}{19}$ (c) $\frac{5}{0}$ (d) $\frac{5}{16}$


19.  Bir kurtarma helikopteri en fazla 12 yolcu taşımaktadır. 20 kere sefer yaparak adada mahsur kalan insanları kurtarmıştır. Kurtardığı insanların $\frac{2}{3}$ 'ü erkek ise helikopter kaç tane **kadın** kurtarmıştır?

(a) 160 (c) 40
(b) 80 (d) 240

20. 


Kesirleri **büyükten küçüğe** doğru sıralandığında hangisi doğru olur?

(a)  >  >  (c)  >  > 
(b)  >  >  (d)  >  > 

21.  320 sayısının yarısı ile ceyreğinin toplamı okuduğum sayfa sayısını veriyor.

Aynur'un okuduğu kitap kaç sayfadır?

(a) 160 (b) 180 (c) 210 (d) 240

22. 

Yukarıda modellenen kesir aşağıdakilerden hangisidir?

(a) $5\frac{2}{4}$ (b) $4\frac{3}{4}$ (c) $4\frac{4}{2}$ (d) $4\frac{4}{3}$

23.

$$\frac{1}{6}, \frac{1}{3}, \frac{1}{2}, \frac{1}{8}$$

Yukarıda verilen birim kesirlerden hangisi daha **büyüktür**?

- (a) $\frac{1}{6}$ (b) $\frac{1}{3}$ (c) $\frac{1}{2}$ (d) $\frac{1}{8}$

24. 4-B sınıfında 40 öğrenci vardır. Bugün okula öğrencilerin yarısının yarısı gelmedi. O halde bugün okula kaç öğrenci **gelmiştir**?

- (a) 10 (b) 25 (c) 30 (d) 36

SOSYAL BİLGİLER SORULARI

25. I. Steteskop

II. Röntgen cihazı

III. Asansör

IV. Cep telefonu

Yukarıda verilenlerden hangileri sağlık alanında kullanılan teknolojik ürünlere örnek olarak gösterilebilir?

- (a) I - II (c) III-IV
(b) II-III (d) I - IV

26. Aşağıda verilen teknolojik ürünler ve kullanım alanları ile ilgili eşleştirmelerden hangisinde **yanlışlık** yapılmıştır?

- (a) Fırın → Beslenme
(b) Çamaşır makinesi → Temizlik
(c) Röntgen → Sağlık
(d) Projeksiyon aleti → Ulaşım

27. I. Mektup

II. Duman

III. Telgraf

IV. Telefon

Verilen haberleşme araçlarının **geçmişten günümüze** doğru sıralanışı aşağıdakilerden hangisinde doğru sırayla verilmiştir?

- (a) I - II - IV - III (c) III - IV - II - I
(b) II - I - III - IV (d) IV - III - I - II

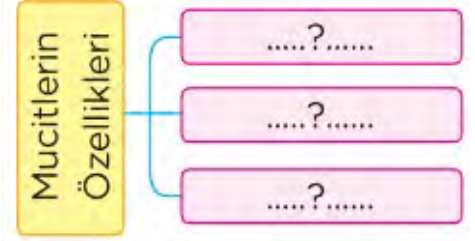
28. **Yoğun kar yağışı** olan yerlerde dağ eteklerine yerleşim yeri yapılması aşağıdaki doğal afetlerden hangisinin zararını artırır?

- (a) çığ (c) sel
(b) heyelan (d) deprem

29. Eskiden fotoğraf çekmek kolay bir iş değildi. Öncelikle iyi bir fotoğraf makinesine sahip olmak ve fotoğraf çekimi konusunda doğru bilgileri bilmek gerekiyordu. Günümüzde ise fotoğraf çekmek için akıllı telefonların ekranına dokunmak yetiyor. Hafızaları binlerce fotoğraf alabilen bu cihazlar kendilerini otomatik olarak ayarlıyorlar. Paragrafta **anlatılmak istenen** aşağıdakilerden hangisidir?

- (a) Teknolojinin gelişmesi insan yaşamını kolaylaştırır.
(b) Teknoloji insan sağlığını olumsuz etkileyebilir
(c) Teknolojinin olumsuz bir etkisi yoktur.
(d) Teknoloji her geçen gün geriye gitmektedir.

30.



Şekilde “?” olan yerlere aşağıdakilerden hangisi **yazılamaz**?

- (a) meraklı (c) tembel
(b) araştırmacı (d) sabırlı

31. Ben **kuduz aşısını**

buldum. Benim icadımdan sonra bilim adamları benim yöntemimi geliştirerek çoğu ölümcül hastalığın aşısını bularak milyonlarca insanın hayatını kurtardı. Ben kimim?



- (a) Louis Pasteur (c) Graham Bell
(b) Thomas Edison (d) Carl Benz

32. Babaannem eskiden yaptığımız yemekler kısa sürede bozulurdu, diye anlatmıştı . Yemekler bozulmasın diye bulunan teknolojik araç hangisidir?

- (a) çamaşır makinası (c) ütü
(b) fırın (d) buzdolabı

33. FEN BİLİMLERİ SORULARI

I. Ağaç yaprağı suya
II. Basketbol topu suya
III. Taş suya
Yukarıdaki cümlelerde noktalı yerlere **sırasıyla** hangileri gelmelidir?

- (a) batır, yüzer, batır
- (b) yüzer, batır, yüzer
- (c) yüzer, yüzer, batır
- (d) yüzer, batır, batır

34.



Yukarıdaki deneyde A ve B maddeleri su dolu bir kaba atılıyor, buna göre hangisi **doğrudur**?

- (a) A maddesi suya batmayan bir cisimdir.
- (b) B maddesi şeklinden dolayı suya batmıştır.
- (c) A maddesi suya batan bir cisimdir.
- (d) B maddesi suya batmayan bir cisimdir.

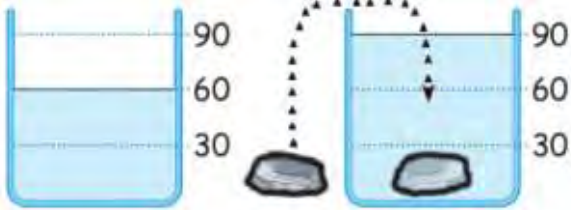
35.



Sıcaklığı 24 derece olan suyun içine **buz** parçaları atılıyor. Bu olayın sonunda aşağıdakilerden hangisi **gerçekleşir**?

- (a) Su donarak katı hale geçer.
- (b) Suyun sıcaklığı artar.
- (c) Suyun sıcaklığı azalır.
- (d) Su kaynar ve buharlaşır.

36.



Ahsen, dereceli silindire 60 mL su koyup içine bir taş parçası attığında, kaptaki suyun seviyesinin 90 mL'ye yükseldiğini gözlemliyor. Bu durumda taşın hacmi kaç mL'dir?

- (a) 30
- (b) 60
- (c) 90
- (d) 15

37.



Bir sürahi içi su doluyken 1850 gram, içi tamamen boşken 750 grm gelmektedir. O halde sürahinin içindeki suyun **kütlesi** ne kadardır?

- (a) 1100 gr
- (b) 850 gr
- (c) 2600 gr
- (d) 1300 gr

38. Doğada yer kaplayan ve kütlesi olan her varlık maddedir. Yukarıdaki açıklamaya göre hangisi madde **değildir**?

- (a) toprak
- (b) hava
- (c) ses
- (d) su

39.



Ali Eymen, eşit kollu terazi kullanarak bir narın kütlesini ölçüyor. Sağ tarafa narı koyup sol tarafa bir tane 200 gr ve bir tane 50 gr koyunca terazi dengeleniyor. Buna göre **3 tane** aynı narın kütlesi kaç gr olur?

- (a) 250 gr
- (b) 500 gr
- (c) 600 gr
- (d) 750 gr

40.



Berkay ağzına kadar su ile dolu olan A kabına 125 mL hacminde bir taş atarsa **B kabında** kaç mL su olur?

- (a) 125
- (b) 75
- (c) 50
- (d) 25

