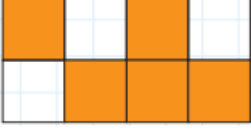


Adı Soyadı:.....

No:.....

4.SINIF 2.DÖNEM 1. YAZILI KONULARI

1. Aşağıdaki şeklin boyalı kısmını kesir olarak bulup, okunuşunu yazınız.



2. Aşağıdaki kesrin basit kesir olabilmesi için yıldız yerine yazılabilecek rakamların toplamı kaçtır?

$$\frac{\star}{5}$$

3. Aşağıdaki kesirde kaç tane birim kesir vardır?

$$\frac{8}{8}$$

4. Aşağıdaki kesirleri büyükten küçüğe sembol kullanarak yazınız.

$$\frac{1}{4}, \frac{1}{6}, \frac{1}{8}, \frac{1}{11}$$

— > — > — > —

5. İfadesinde soru işareti yerine en büyük kaç gelebilir?

$$\frac{1}{?} < \frac{1}{6}$$

6. Aşağıdaki kesirleri küçükten büyüğe sembol kullanarak yazınız.

$$\frac{5}{3}, \frac{5}{7}, \frac{5}{9}, \frac{5}{4}$$

— < — < — < —

7. Aşağıda okunuşları verilen kesirleri yazınız.

a. Dörtte iki:

$$\frac{\square}{\square}$$

b. Beşte üç:

$$\frac{\square}{\square}$$

8. Aşağıda verilen kesirlerin okunuşlarını yazınız.

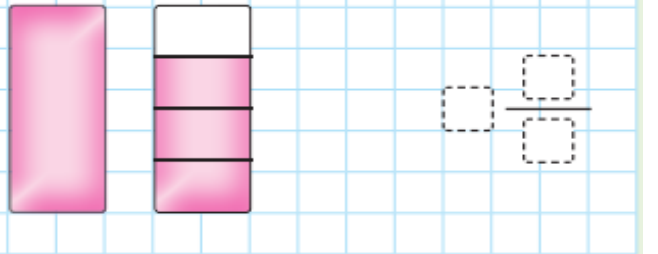
a. $\frac{6}{11}$:

b. $\frac{9}{14}$:

9. Aşağıda verilen kesri şekil ile gösteriniz.

$$\frac{6}{4}$$

10. Aşağıda verilen şekli kesir ile ifade ediniz.



11. Aşağıda tam ve kesir kısmı verilmiş olan kesirleri ve okunuşlarını yazalım.

Tam: 1 Pay: 1 Payda: 4

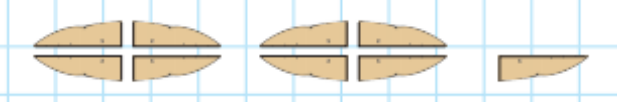
Kesir: $\frac{\square}{\square}$

Okunuşu:

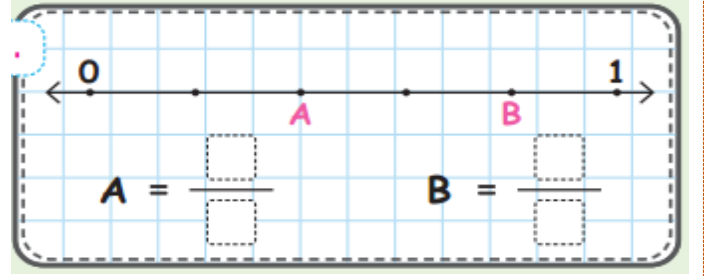
12. Aşağıda verilen modellenmiş kesri ve okunuşunu yazınız.




13. Aşağıda verilen modellenmiş kesri ve okunuşunu yazınız.



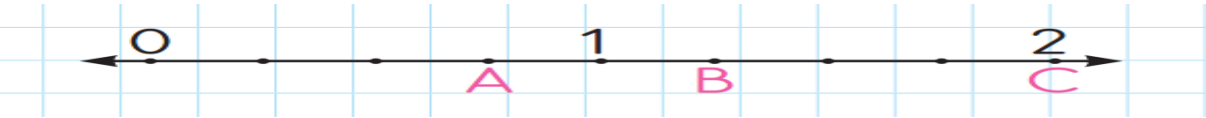
14. Harflerle belirtilen kesirleri yazalım.



15. Aşağıdaki kesirleri sayı doğrusu üzerinde gösterelim.



16. Aşağıda verilen kesirlerin sayı doğrusunda hangi bölgede yer alacağını işaretleyelim.



17. Metehan 40 lirasının $\frac{3}{5}$ ünü harcadı. Geriye kaç lirası kaldı?

18. Cumhuriyet kurulalı kaç yıl olmuştur?