

TÜRKÇE

1- Aşağıdaki kısaltmaları eşleştirdiğimizde doğru eşleşme hangi seçenekte verilmiştir?

THY

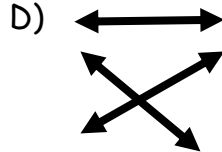
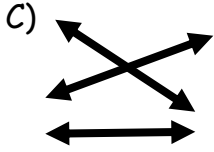
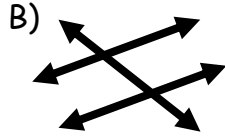
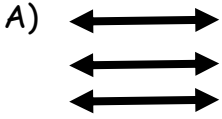
Türkiye Büyük Millet
Meclisi

TBMM

Atatürk Orman Çiftliği

AOÇ

Türk Hava Yolları



2- Aşağıda sayıların yazımı ile ilgili örnekler verilmiştir.

- Oyuna iki bin kişi geldi.
- 17.30'da tren gelecek.
- Saat dokuzu beş geçse...
- II.Selim ve IV.Murat ödevimiz.

Buna göre kaç cümlede doğru yazım yapılmıştır?

A) 4 B) 1 C) 3 D) 2

Selim ile Fırat bizim köye geldiler. Acı suyun başında oturdular ve Dağdaki Kaynak kitabını okudular. Onları uzaktan Mehmet amca izliyordu...

3-Yukarıdaki metinde kaç tane özel isim vardır?

A) 1 B) 2 C) 4 D) 5

I- Sana dağlar kadar çiçek topladım.

II- Bu ayakkabı gemi kadar.

III- Sevgisi dünya kadar büyük.

IV- Çita gibi hızlı koşuyor.

4-Yukarıdaki cümlelerden hangilerinde abartma yapılmıştır?

- A) I ve II B) I ,II ,III ve IV
C) II ve III D) I , II ve III

5- 'Sanatçının, yaptığı resimlerde sarı renk kullanmasının önemli bir sebebi vardır.'

Yukarıdaki cümlede hangi sorunun cevabı yoktur?

- A) Nerede B) Kimin C) Niçin D) Neyi

kayısı	tanınmış	Malatya'nın	en	ürünüdür
1	2	3	4	5

6- Yukarıdaki kelimelerden anlamlı bir cümle kurmak istediğimize sıralama nasıl olur?

- A) 3-2-4-5-1 B) 1-3-4-2-5
C) 3-2-4-1-5 D) 1-3-4-5-2

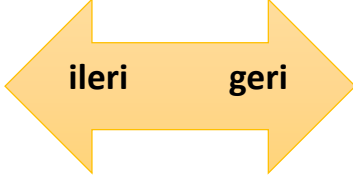
Bu ilaç Mete'ye faydalı olacak mı?

7-Yukarıdaki cümlede altı çizili kelimenin yerine hangisini kullanırsak anlam değişmez?

- A) yararlı B) iyi C) sağlık D) şifalı

8- Aşağıdaki cümlelerin hangisinde 'kol' kelimesi farklı anlamda kullanılmıştır?

- A) Kol düğmelerini bulamadım.
- B) Kolum kırıldı gelemem.
- C) Düşman iki koldan saldırdı.
- D) Kol saati kullanmalısın.



9-Yukarıdaki kelimelerin anlam ilişkisi aşağıdakilerden hangisinde yoktur?

- A) az-çok
- B) tavan-taban
- C) doğru-eğri
- D) sevimli-sevimsiz

Dilimize birçok yabancı kökenli sözcükler girmiştir. Girebilir de. Günlük hayatta yabancı kelimeleri çok kullanır olduk. Printer, dekor bunlardan bazıları. Ama önemli olan şudur ki, dil özünü kaybetmemelidir. Hele hele günlük hayatta yabancı kelimeleri çok sık kullanarak modern görünmeye çalışmak bana çok anlamsız geliyor. Çünkü modern görünmek dilimizi bozmak değildir.

10- Yukarıdaki metinde asıl anlatılmak istenen nedir?

- A) Dilimize yabancı kelimeler alabiliriz.
- B) Modern toplum olmak istiyorsak yabancı kelime kullanımını artırmalıyız.
- C) Dilimiz özünü kaybetmeden diğer dillerle etkileşim içinde olabilir.
- D) Modern görünmek yerine modern olmanın yollarını aramalıyız.

1- Bu sıralar nerede olduğunu bilmiyorum?

2- Salim abi ile nasıl tanıştınız?

3-Kim yapar çevreye bu kötülüğü anlayamıyorum?

4- Sayılar ile aran nasıl Murat?

11-Yukarıdaki cümlelerin hangilerinde soru işareti doğru kullanılmıştır?

- A) 2-4
- B) 1-3
- C) 1-2
- D) 3-4

İnsan bedeni öyle sırlarla dolu, öyle özelliklerle donatılmış ki, keşfedildikçe şaşkınlığımız her geçen gün artmaya devam ediyor. İnsan kalbinin günde ortalama 100 bin kez atması, vücudumuzdaki tüm damarların uzunluğunun yaklaşık 96 bin km olması, 300 kemikle doğan insanoğlunun yetişkinlikte 206 kemiğe düşmesi bu keşiflerden bazıları. Bilim bu mucizevi canlıyı incelemeyi bırakmayacaktır. Geçmişten günümüze insan araştırılmaya en değer canlı olmuştur ve olamaya devam edecektir.

12,13ve 14.soruları metne göre cevaplayınız.

12- Yukarıdaki metin ile ilgili hangi ifade yanlıştır?





- A) İnsan bedenindeki sırlar merak konusu olmuştur.
- B) Bilim son zamanlarda insanı incelemeye başlamıştır.
- C) Yapılan bazı keşiflere örnekler verilmiştir.
- D) İnsan bedenini keşfetme serüveni devam edecektir.

13- İnsan kalbi için hangisi doğrudur?

- A) Günde ortalama 100 kez atması
B) Günde ortalama 10 bin kez atması
C) Günde ortalama 100 bin kez atması
D) Günde ortalama 110 bin kez atması

14- İnsan için verilen ifadelerden hangisi yanlıştır?

- A) İnsan inanılmaz özelliklerle donatılmıştır.
B) İnsan damarları yaklaşık 96 000 km'dir.
C) Bilim insanı gelecekte de incelemeye devam edecektir.
D) Yeni doğan bir bebekte 206 kemik varken yaşlandıkça bu sayı 300 kemiğe çıkmaktadır.

	Bir uçurtma olsam, çıksam bulutlara.
	Rengârenk kuyruk ile dalgalansam gökyüzünde.
	Aşağıda beni izleyenlere selam versem, sağa sola dans ederek.
	Yükselsin artık çocukların en sevdiği o kırmızı oyuncak.

15- Yukarıdaki cümlelerin hangisinde hayal ürünü bir durum yoktur?

- A)  B)  C)  D) 

Türkçe testi bitmiştir. Matematik testine geçebilirsiniz.

MATEMATİK

16-

$$18 \times (26 \times 94) = (18 \times 94) \times \text{blue circle}$$
$$(44 \times 35) \times \text{red square} = 36 \times (35 \times 44)$$

Yukarıdaki eşitliklere göre blue circle + red square işleminin sonucu kaçtır?

- A) 62 B) 64 C) 60 D) 58

17- Bir kitabın yarısı 274 sayfadır.

Ceyda bu kitabın $\frac{3}{4}$ 'ünü okuduğuna göre okumadığı sayfa sayısı kaçtır?

- A) 411 B) 137 C) 548 D) 274



18- Yukarıdaki modelde gösterilen kesrin okunuşu aşağıdakilerden hangisidir?

- A) Yedi bölü on iki
B) İki tam üç bölü dört
C) Dokuz bölü dört
D) İki tam bir üçte dört

19-

$$186 \div 9$$

İşleminde kalana

yazılabilecek sayıların toplamı kaçtır?

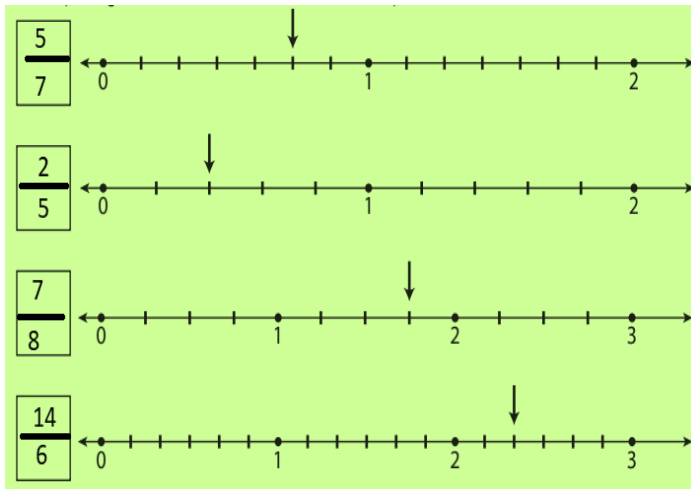
- A) 33 B) 34 C) 35 D) 36

20- Cumali akşam 21.45'te uyumuş, sabah 08.15'te uyanmıştır. Cumali kaç saat uyumuştur?

- A) 10 saat 30 dk B) 10 saat 15 dk
C) 10 saat D) 10 saat 20 dk.

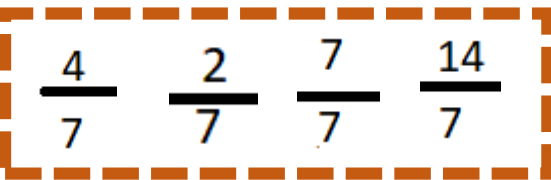
21- Zeytun 36 yaşındadır. Figen, Zeytun' un 2 katı yaşında olduğuna göre Figen ile Zeytun yaşları toplamı kaçtır?

- A) 100 B) 104 C) 108 D) 110



22-Yukarıdaki kesirlerden hangisinin sayı doğrusunda gösterimi yanlıştır?

- A) $\frac{7}{8}$ B) $\frac{5}{7}$ C) $\frac{14}{6}$ D) $\frac{2}{5}$



23-Yukarıdaki kesirler küçükten büyüğe sıralandığında 2.sırada hangi kesir yer alır?

- A) $\frac{14}{7}$ B) $\frac{7}{7}$ C) $\frac{4}{7}$ D) $\frac{2}{7}$

25- Sinem 6 Mart 2007'de doğmuştur. 11 ay sonra yürümeye başlayan Sinem için annesi 1 hafta sonra kutlama yapmaya karar verir ve davetiye hazırlar. Aşağıdaki davetiyelerden hangisi Sinem'e aittir?



26- Bir bölme işleminde bölen 12 , bölüm 24 ve kalan 8 dir. Bölünen sayı kaçtır?

- A) 294 B) 296 C) 298 D) 300

27-

Kural: 5 fazlasının 2 katı kuralına göre ilerlemiştir.

Kuralı yukarıda verilen aşağıdaki örüntülerden hangisinde yanlışlık yapılmıştır?

- A) 1-5-10-15-30-35-70-75-150
B) 6-11-22-27-54-59-118-123
C) 9-14-28-33-66-71-142-147
D) 0-5-10-15-30-35-71-140-145



28- Sezai hesap makinesindeki sayıyı en yakın onluğa yuvarlayarak 5 bölüyor. Sezai'nin işlem sonucunu aşağıdakilerden hangisidir?

- A) 154 B) 155 C) 157 D) 158

29-



Yukarıdaki tarih Poyraz'ın doğum tarihidir. 8 Mart 2023 tarihinde Poyraz kaç aylık olur?

- A) 75 ay B) 74 ay C) 76 ay D) 78 ay

30- Bir mağaza 15 liraya aldığı eldivenleri 45 liraya satmaktadır. Mağaza günde 20 eldiven sattığına göre mağaza günde ne kadar kar elde etmiştir?

- A) 610 B) 620 C) 600 D) 580


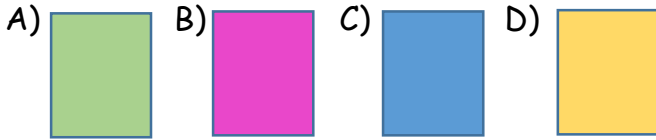
Matematik testiniz bitmiştir. Sosyal Bilgiler testine geçebilirsiniz.

SOSYAL BİLGİLER

31-




Yukarıdaki boşluğa hangi renk kartta yazan ifade getirilmelidir?



32-Yukarıdaki görselle icatların hangi özelliği vurgulanmak istenmiştir?

- A) Kullanışlılığı
- B) İcat yapmanın masraflı olması
- C) İhtiyaçtan ortaya çıkması
- D) Herkesin icat yapabileceği

33- Aşağıdaki görsellerden hangisi beşeri unsurdur?



A)



B)



C)



D)

34- Acil durum çantası ile ilgili verilen bilgilerden hangisi yanlıştır?

- A) Kolay ulaşabileceğimiz yerde olmalı
- B) İçinde hamburger gibi yiyecekler olmalı
- C) İçinde haberleşme araçları bulunmalı
- D) Kullanılan acil ilaçlar konulmalı



I



II



III



IV

35- Yukarıdaki kültürel öğelerden hangisi diğerlerinden farklıdır?

- A) I B) IV C) III D) II



36-Yeni kimlik belgesinde aşağıdaki bilgilerden hangisi bulunmaz?

- A) Uyruğu
B) Adı Soyadı
C) TC Kimlik Numarası
D) Kan Grubu

I- Kuş bakışı çizimdir

II- Ölçü kullanılarak yapılan çizimlerdir

III- Bir yeri tarif ederken yararlanabilirsiniz

IV- Gerçeğe en yakın çizimlerdir

37-Yukarıdaki ifadelerden kaç tanesi kroki için söylenebilir?

- A) 1 B) 3 C) 2 D) 4

ŞAHİN BEY

Şahin Bey 1890 yılında Antep'te doğdu. Kurtuluş Savaşı'ımızda Gaziantep ilimiz Fransızlar tarafından işgal edilmek istenince gösterdiği direnişle ünlendi.

* Gaziantep'in savunması için asker sayımız henüz yeterli değildi.

* Bu durumda görev Gaziantep halkına düşüyordu.

* Gaziantep bu sayede Fransız işgaline iki yıl direndi.

* Fransızların Gaziantep'e girmesinde en büyük engel, direniş hareketlerinin lideri Şahin Bey'di.

* Fransızlar ancak onu şehit ettikten sonra şehre girebildiler.



38-Yukarıdaki açıklamaya göre Şahin Bey ile ilgili hangi bilgiye ulaşamayız?

- A) Gaziantep doğumludur
B) En büyük direnişi Şahin Bey göstermiştir
C) Antep'i Ermenilere karşı savunmuştur
D) Şehit edilmiştir

39- Aşağıdakilerden hangisi teknolojik ürünler için yanlış bir ifadedir?

- A) İnsan hayatını kolaylaştırmaktadır.
B) Çok kullanmaya bağlı olarak hastalıklar çıkmaz.
C) Güvenli kullanım için kılavuzu okumalıyız.
D) Geri dönüşüm ile önemli tasarruflar sağlanabilir.



40-Yukarıdaki kavram haritasında boş yerlere sırasıyla hangilerini yerleştirirsek harita doğru tamamlanmış olur?

- A) Kuzey - Kuzeydoğu B) Kuzey - Kuzeybatı
C) Kuzeydoğu-Kuzey D) Kuzeydoğu-Batı

Eğitim alanında kullandığımız başlıca teknolojik araçlar şunlardır



41-Eğitim alanında kullanılan teknolojik ürünlerden kaç tanesi günümüzde çok fazla tercih edilmemektedir?

- A) 1 B) 4 C) 3 D) 2

Güvenli ulaşım günümüzde çok önemli hale gelmiştir. Gelişen teknoloji ile beraber bilim insanları oluşabilecek kazalara önlem alabilmek için de çok çaba göstermektedir. Son model arabaları incelediğimizde bilim insanlarının ne kadar çok çalıştıklarını görebiliriz. Ama teknoloji ne kadar gelişirse gelişsin, ne kadar önlem alınırsa alınsın yine bizleri kurallar koruyor...

42- Yukarıdaki metinde teknolojinin hangi özelliğinden söz edilmemiştir?

- A) Güvenli kullanımının önemli olduğu
B) Bilim insanlarının gelişimine katkı sağladığı
C) En çok gelişmenin araba teknolojisinde olduğu
D) Gelişen teknolojilerde de kuralların olduğu

İsteklerimiz ihtiyaçlardan önce gelir.
Barınma temel ihtiyaçlarımızdandır.
Bilinçli tüketici haklarını aramayı bilir.
Geri dönüşüm ülke ekonomisine katkı sağlar.

43- Yukarıdaki ifadelere D ve Y harflerin koyduğumuzda sıralama nasıl olur?

- A)

D
D
D
D

 B)

Y
D
D
D

 C)

Y
D
Y
D

 D)

D
Y
Y
D

44- 4.sınıf öğrencisi olan Sedef Naz aşağıdaki görev ve sorumluluklardan hangisini yapamaz?

- A) Ütü yapmak B) Yatağını düzeltmek
C) Ders çalışmak D) Odayı toplamak

İLKOKUL
**SOSYAL
BİLGİLER**
DERS KİTABI



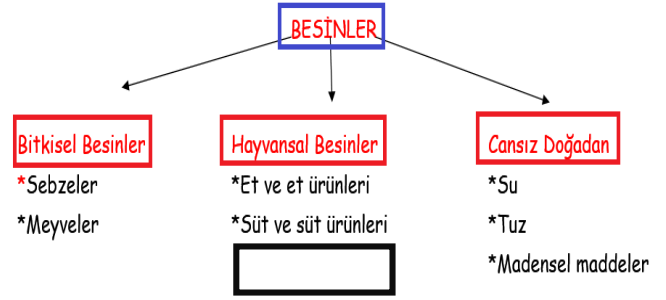
45- Yukarıda Sosyal Bilgiler ders kitabımızın kapağını görmektesiniz. Bu kapağı incelediğimizde hangi bilgiye ulaşamayız?

- A) Dersin adına
B) Yayın evine
C) Kaynakçaya
D) Sınıf seviyesine

Sosyal Bilgiler testiniz bitmiştir. Fen Bilimleri testine geçebilirsiniz.

FEN BİLİMLERİ

46-



Yukarıdaki kavram haritasına aşağıdakilerden hangisi yazılabilir?

- A) Elma B) Bal C) Fındık D) Muz



47-Görsele göre uygulanan kuvvet türü nedir?

- A) İtme B) Çekme
C) Yön değiştirme D) Hızlanma

48-



Ali topu duvara vurduktan sonra gözlemleyeceği hareket için hangi ifade doğrudur?

- A) Top hızlanma hareketi yapar
B) Top yavaşlama hareketi yapar
C) Top yön değiştirme yapar
D) Top durma hareketi yapar

49- Dünyanın küre şeklinde olduğunu savunan bilim adamları olmuştur. Bunlardan bir tanesi de gemi ile yolculuk yaparak dünyanın yuvarlak olduğunu ispatlamaya çalışan Portekizli denizcidır.

Yukarıdaki paragrafta noktalı yere ne gelmelidir?

- A) Pisagor B) Magellan
C) Galileo D) Pir-i Reis

Kokulu	Pürüzlü	Saydam
Esnek	Kırılgan	Gaz madde

50- Yukarıdaki madde özelliklerinden kaç tanesi sünger için söylenebilir?

- A) 1 B) 2 C) 3 D) 4

51- Dünya'nın kendi etrafında yaptığı hareket ile ilgili ;

- 1- Dolanman hareketi
2- Gece gündüz oluşma
3- Mevsimler oluşma

ifadelerinden hangileri doğrudur?

- A) Yalnız 1 B) 1 ve 3
C) 1,2 ve 3 D) Yalnız 2

* Enerji veren besin içeriğidir.

* Fındık ,badem, mısır ve zeytinde bol bulunur

52- Bilgileri verilen besin içeri hangisidir?


- A) Karbonhidratlar B) Proteinler
C) Yağlar D) Vitaminler



53-Üzerinde mıknatıs olan araç ok yönünde hareket ediyor ve gittikçe hızlanıyor.

Buna göre mıknatısların kutupları ile ilgili hangi bilgi doğrudur?

	1	2	3	4
A)	S	N	N	S
B)	N	S	S	N
C)	S	N	N	S
D)	S	N	S	N



54- Beyza maddeleri özelliklerine göre ayırarak yukarıdaki afişi hazırlamıştır. Afişin doğru olabilmesi için hangi ürünlerin görsellerini yer değiştirmelidir?

- A) Robot-deney tüpü B) Kola-pizza
C) Gitar-havuz D) kahve-musluk

55-Aşağıdaki bilgilerden hangisi yanlıştır?

- A) Dil tat alma organıdır.
B) En büyük duyu organı deridir.
C) Göz sağlığı için parlak ışığa doğrudan bakmamalıyız.
D) Kulak her sesi işitebilir.



I

II

III

56- Yukarıdaki görsele göre fosil oluşum sırası hangisidir?

- A) I -II-III B) I-III-II
C) II-I-III D) III-II-I



57- Yukarıdaki görsellerden kaç tanesi su canlısı fosili olabilir?

- A) 2 B) 3 C) 4 D) 1



58- Yukarıda özellikleri verilen madde hangisidir?

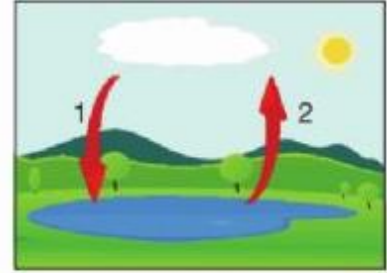
- A) Saf madde B) Sıvı madde
C) Katı madde D) Gaz madde



59- Yukarıdaki ifadeleri takip ettiğimizde kaç numaralı çıkışa ulaşırız?

- A) 1.Çıkış B) 2.Çıkış
C) 3.Çıkış D) 4.Çıkış

60-



Yukarıda verilen resimde suyun dolanımı gösterilmiştir.

Buna göre 1 ve 2 ile belirtilen olaylaraşağıdakilerden hangisinde doğru verilmiştir?

- | 1 | 2 |
|---------------|------------|
| A) Buharlaşma | Yoğuşma |
| B) Yoğuşma | Donma |
| C) Erime | Donma |
| D) Yoğuşma | Buharlaşma |

Sınavınız bitmiştir. Cevapları kontrol ediniz.

