

3. SINIF

MATEMATİK DERSİ 22. HAFTA ÇALIŞMA KAĞIDI

- Aşağıdaki şekillerin ve kesir ifadelerini eşleştirelim.




$$\frac{1}{8}$$



$$\frac{3}{8}$$



$$\frac{2}{8}$$



$$1$$



$$\frac{4}{8}$$



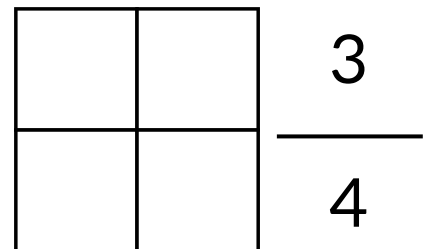
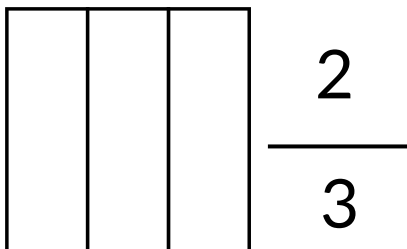
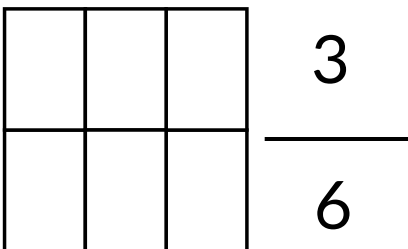
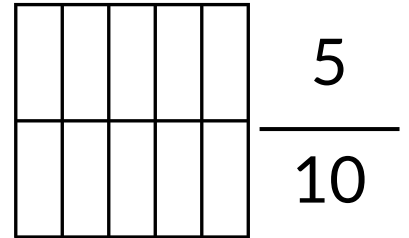
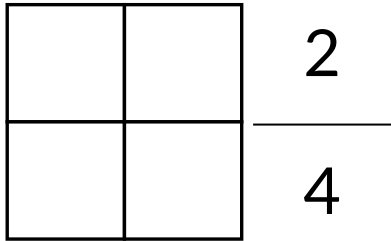
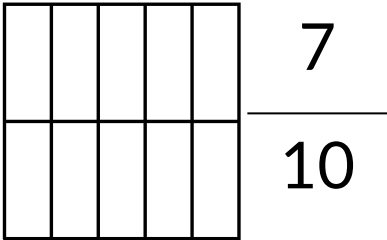
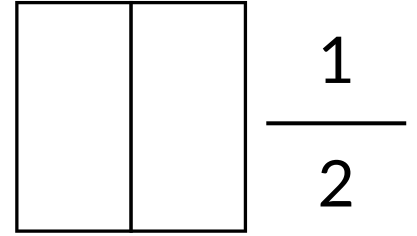
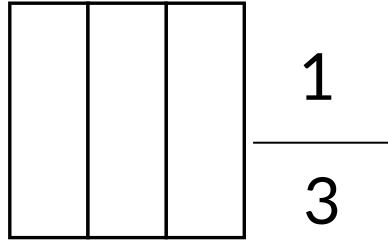
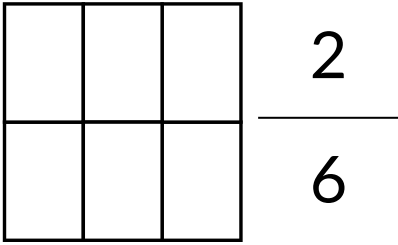
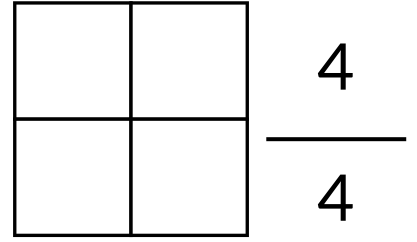
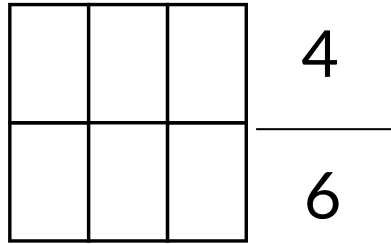
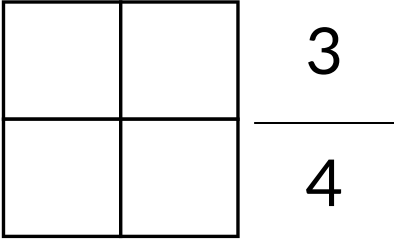
$$\frac{5}{8}$$



$$\frac{7}{8}$$



- Aşağıda verilen kesir kadar şekilleri boyyalım.



- Problemleri dikkatlice okuyalım, çözelim.

- 20 eriğin $\frac{1}{2}$ 'i kaç eriktir?



- 20 cevizin $\frac{1}{5}$ 'i kaç cevizdir?



- 18 bilyenin $\frac{1}{6}$ 'i kaç bilyedir?



- 56 kalemin $\frac{1}{8}$ 'i kaç kalemdir?



- 36 ekmeğin $\frac{1}{4}$ 'i kaç ekmektir?



- 42 çiçeğin $\frac{1}{7}$ 'i kaç ekmektir?



- 27 karpuzun $\frac{1}{3}$ 'i kaç karpuzdur?



- 18 topun $\frac{1}{2}$ 'i kaç toptur?



- 45 defterin $\frac{1}{9}$ 'i kaç defterdir?



- 20 TL'nin $\frac{1}{4}$ 'i kaç TL'dir?



- Problemleri dikkatlice okuyalım, çözelim.

- $\frac{1}{4}$ 'i 5 tane olan limonların tamamı kaç tanedir?



- $\frac{1}{6}$ 'i 3 tane olan elmaların tamamı kaç tanedir?



- $\frac{1}{5}$ 'i 2 tane olan çantaların tamamı kaç tanedir?



- $\frac{1}{7}$ 'i 10 tane olan ağaçların tamamı kaç tanedir?



- $\frac{1}{2}$ 'i 9 tane olan kutuların tamamı kaç tanedir?



- $\frac{1}{3}$ 'i 3 tane olan kurabiyelerin tamamı kaç tanedir?



- $\frac{1}{8}$ 'i 5 tane olan içeceklerin tamamı kaç tanedir?



- $\frac{1}{7}$ 'i 4 tane olan kitapların tamamı kaç tanedir?



- $\frac{1}{3}$ 'i 4 tane olan kedilerin tamamı kaç tanedir?



- $\frac{1}{4}$ 'i 9 tane olan oyuncakların tamamı kaç tanedir?

