


Adı :


Soyadı:


...../...../.....


.....



ÇARPMA VE TOPLAMA İŞLEMİ GEREKTİREN PROBLEMLER-1



4 lira	Tanesi 4 lira olan kaleminden 8 tane aldım. Kalemler için kaç lira ederim?	Çözüm:
		


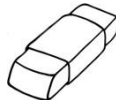

3 lira	Tanesi 3 lira olan şekerden 5 tane aldım. Şekerler için kaç lira ederim?	Çözüm:
		

7 lira	Kilosu 7 lira olan armuttan 3 kilo alırsam kaç lira ederim?	Çözüm:
		



9 lira	Kilosu 9 lira olan çilekten 2 kilo alırsam kaç lira ederim?	Çözüm:
		

<p>Tanesi 5 lira olan toplardan 7 tane, tanesi 3 lira olan şekerlerden 8 tane aldım. Toplar ve şekerler için toplam kaç lira ederim?</p>		
		<p>Çözüm: Çarpımları topla.</p>
<p>Önce çarp.</p>		



<p>Tanesi 4 lira olan silgiden 6 tane, tanesi 5 lira olan kalem tıraştan 9 tane aldım.</p> <p>Silgiler ve kalem tıraşlar için toplam kaç lira ederim?</p>		
		<p>Çözüm:</p> <p>Çarpımları topla.</p>
<p>Önce çarp.</p>		

<p>Tanesi 3 lira olan kaleminden 5 tane, tanesi 4 lira olan silgiden 6 tane ve tanesi 5 lira olan kalem tıraştan 7 tane aldım.</p> <p>Kalemler, silgiler ve kalem tıraşlar için toplam kaç lira ederim?</p>			
			<p>Çözüm:</p> <p>Çarpımları topla.</p>
<p>Önce çarp.</p>			



Kilosu 8 lira olan elmadan 3 kilo, kilosu 9 lira olan üzümden 4 kilo aldım. Elmalar ve üzümler için toplam kaç lira ederim?

		Çözüm: Çarpımları topla.
Önce çarp.		


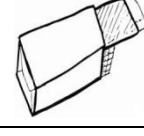
Tanesi 5 lira olan oyuncaktan 9 tane, tanesi 4 lira olan balondan 7 tane aldım. Oyuncaklar ve balonlar için toplam kaç lira ederim?

		Çözüm: Çarpımları topla.
Önce çarp.		


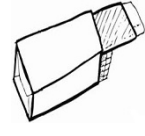

Tanesi 2 lira olan küçük şekerlerden 10 tane, tanesi 5 lira olan büyük şekerlerden 6 tane aldım. Şekerler için toplam kaç lira ederim?

		Çözüm: Çarpımları topla.
Önce çarp.		

Tanesi 4 lira olan dondurmadan 6 tane, tanesi 3 lira olan sakızdan 8 tane aldım. Dondurmalar ve sakızlar için toplam kaç lira ederim?

		Çözüm: Çarpımları topla.
Önce çarp.		

Tanesi 5 lira olan dondurmadan 3 tane, tanesi 4 lira olan sakızdan 7 tane ve tanesi 2 lira olan şekerden 8 tane aldım. Dondurmalar, sakızlar ve şekerler için toplam kaç lira ederim?

			Çözüm: Çarpımları topla.
Önce çarp.			