

ADI SOYADI:.....



DOĞRU
YANLIŞ

2. SINIF 22. HAFTA KAZANIM DEĞERLENDİRME ETKİNLİĞİ

1. Aşağıdaki sözcüklerden hangisi "şekil" kelimesinin eş anlamlısıdır?

- A) biçim B) düzgün C) görsel

2. Aşağıdaki cümlelerin hangisinde "vakit" kelimesinin eş anlamlısı geçmektedir?

- A) Arda saat 21.00'de buraya gelecek.
B) Seni her zaman seveceğim.
C) Sessizce oturduğu yerde ödevini yaptı.

3. "cimri-cömert" kelimeleri arasındaki anlam ilişkisi aşağıdakilerden hangisinde vardır?

- A) siyah - kara
B) uzak - ırak
C) fakir - zengin

4. "Aslı, annesi öğretmen olmak istiyor." cümlesinde boş bırakılan yere hangisi getirilebilir?

- A) kadar B) daha C) gibi

5. Yemekten sonra dişlerimi iyice fırçaladım.

Yukarıdaki cümlede hangi sorunun yanıtı yoktur?

- A) Ne zaman?
B) Nerede?
C) Nasıl?



6. Aşağıdaki çarpma işlemlerinden hangisinin sonucu doğrudur?

- A) $7 \times 3 = 28$
B) $5 \times 4 = 21$
C) $6 \times 5 = 30$

9×2

24




4×3

12

6×4

18

7. Yukarıdaki çarpma işlemleri sonuçları ile eşleştirildiğinde ortaya çıkan şekil hangisidir?

- A)  B)  C) 

8. Aşağıdaki işlemlerden hangisinin sonucu 6×4 işlemi ile aynıdır?

- A) 5×5
B) 7×2
C) 8×3

9. $7 \times 5 = \square \times 7$ işlemine göre; \square yerine hangi sayı gelmelidir?

- A) 12 B) 5 C) 35

10. Tanesi 3 TL olan bisküviden 4 tane alan Metin, bakkala kaç TL ödeme yapar?

- A) 12 B) 7 C) 5



11. Bize yeryüzü hakkında bilgi veren, ülkeleri, denizleri, okyanusları gösteren çizimlere ne ad verilir?

- A) harita
B) küre
C) albüm



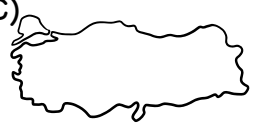


12. Türkiye Cumhuriyeti'nin başkenti neresidir?

- A) İstanbul
B) Ankara
C) İzmir



13. Aşağıdakilerden hangisi ülkemizin haritasıdır?

- A)  B)  C) 

14. Ülkemizde kaç şehir vardır?

- A) 67 B) 75 C) 81

15. Aşağıdakilerden hangisi ülkemizin çevresinde yer alan denizlerden biri değildir?

- A) Akdeniz
B) Kızıldeniz
C) Karadeniz



2. SINIF 22. HAFTA KAZANIM DEĞERLENDİRME ETKİNLİĞİ

CEVAP ANAHTARI

1. Aşağıdaki sözcüklerden hangisi "şekil" kelimesinin eş anlamlısıdır?

- ☒ biçim B) düzgün C) görsel

2. Aşağıdaki cümlelerin hangisinde "vakit" kelimesinin eş anlamlısı geçmektedir?

- A) Arda saat 21.00'de buraya gelecek.
☒ Seni her zaman seveceğim.
C) Sessizce oturduğu yerde ödevini yaptı.

3. "cimri-cömert" kelimeleri arasındaki anlam ilişkisi aşağıdakilerden hangisinde vardır?

- A) siyah - kara
B) uzak - ırak
☒ fakir - zengin

4. "Aslı, annesi öğretmen olmak istiyor." cümlesinde boş bırakılan yere hangisi getirilebilir?

- A) kadar B) daha ☒ gibi

5. Yemekten sonra dişlerimi iyice fırçaladım.

Yukarıdaki cümlede hangi sorunun yanıtı yoktur?

- A) Ne zaman?
☒ Nerede?
C) Nasıl?



6. Aşağıdaki çarpma işlemlerinden hangisinin sonucu doğrudur?

- A) $7 \times 3 = 28$
B) $5 \times 4 = 21$
☒ $6 \times 5 = 30$

9×2

24

4×3

12

6×4

18

7. Yukarıdaki çarpma işlemleri sonuçları ile eşleştirildiğinde ortaya çıkan şekil hangisidir?

- ☒ B) C)

8. Aşağıdaki işlemlerden hangisinin sonucu 6×4 işlemi ile aynıdır?

- A) 5×5
B) 7×2
☒ 8×3

9. $7 \times 5 = \square \times 7$ işlemine göre; \square yerine hangi sayı gelmelidir?

- A) 12 ☒ 5 C) 35

10. Tanesi 3 TL olan bisküviden 4 tane alan Metin, bakkala kaç TL ödeme yapar?

- ☒ 12 B) 7 C) 5



11. Bize yeryüzü hakkında bilgi veren, ülkeleri, denizleri, okyanusları gösteren çizimlere ne ad verilir?

- ☒ harita
B) küre
C) albüm



12. Türkiye Cumhuriyeti'nin başkenti neresidir?

- A) İstanbul
☒ Ankara
C) İzmir



13. Aşağıdakilerden hangisi ülkemizin haritasıdır?

- A) B) ☒

14. Ülkemizde kaç şehir vardır?

- A) 67 B) 75 ☒ 81

15. Aşağıdakilerden hangisi ülkemizin çevresinde yer alan denizlerden biri değildir?

- A) Akdeniz
☒ Kızıldeniz
C) Karadeniz