

ADI SOYADI:.....



DOĞRU
YANLIŞ

2. SINIF 21. HAFTA KAZANIM DEĞERLENDİRME ETKİNLİĞİ

1. Aşağıdaki sözcüklerden hangisinin hem eş, hem zıt anlamı vardır?

- A) giysi B) cevap C) öykü

2. Aşağıdaki cümlelerin hangisinde "tabiat" kelimesinin eş anlamlısı geçmektedir?

- A) Kar yağışından sonra doğa sessizliğe büründü.
B) Ağaçların hepsi sıcak havayı görünce çiçek açtı.
C) Seneler hızlıca geçiyor, saçları beyazlıyordu.

3. "yel-rüzgar" kelimeleri arasındaki anlam ilişkisi aşağıdakilerden hangisinde vardır?

- A) ön - arka
B) kolay - zor
C) sene - yıl

4. Aşağıdaki sözcüklerden hangisinin yazımı yanlıştır?

- A) yalnız B) traş C) spor

1 2 3 4

5. **sallandılar - çocuklar - parkta - salıncakta**
Yukarıdaki cümlelerin anlamlı ve kurallı sıralanmış hali aşağıdakilerden hangisidir?

- A) 2 - 4 - 3 - 1
B) 4 - 1 - 2 - 3
C) 2 - 3 - 4 - 1

6. Aşağıdaki çarpma işlemlerinden hangisinin sonucu diğerlerinden farklıdır?

- A) 4×3
B) 3×5
C) 6×2



$8 \times 2 =$ ★ $6 \times 3 =$ ■

7. Verilen işlemlere göre ★ + ■ kaçtır?

- A) 34
B) 40
C) 44

8. Aşağıdaki ifadelerden yanlış olan hangisidir?

- A) Bir sayının 1 ile çarpımı sayının kendisine eşittir.
B) Bir sayının sıfır ile çarpımı 0'a eşittir.
C) Bir sayının 1 ile çarpımı her zaman 1'dir.

9. Aşağıdaki çarpma işlemlerinden hangisinin sonucu hatalıdır?

- A) $7 \times 3 = 21$
B) $9 \times 4 = 36$
C) $8 \times 5 = 45$



10. Aşağıdaki çarpma işlemlerinden hangisinin sonucu en büyüktür?

- A) 7×4 B) 6×5 C) 5×4


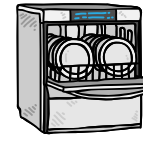

11. Aşağıdakilerden hangisi okullarda kullandığımız teknolojik aletlerden biri değildir?

- A) etkileşimli tahta
B) projeksiyon
C) ders kitabı

12. Verilen ifadelerden yanlış olan hangisidir?

- A) Teknolojik ürünleri yanlış kullanmak bize zarar verir.
B) İnternette tanımadığımız kişilerle konuşmamalıyız.
C) Tableti günün her saati güvenle kullanabiliriz.

13. Aşağıdakilerden hangisi evde kullandığımız teknolojik aletlerden biri değildir?

- A)  B)  C) 

14. Aşağıdaki teknolojik aletlerden hangisi iletişim alanında kullanılır?

- A) telefon B) mikser C) fön makinesi

15. Aşağıdakilerden hangisi teknolojik aletlerin zararlarından biridir?

- A) Zamandan tasarruf ettirir.
B) Çevre kirliliğine sebep olabilir.
C) İş gücümüzü azaltır.



2. SINIF 21. HAFTA KAZANIM DEĞERLENDİRME ETKİNLİĞİ

CEVAP ANAHTARI

1. Aşağıdaki sözcüklerden hangisinin hem eş, hem zıt anlamı vardır?

- A) giysi ☒ cevap C) öykü

2. Aşağıdaki cümlelerin hangisinde "tabiat" kelimesinin eş anlamlısı geçmektedir?

- ☒ Kar yağışından sonra doğa sessizliğe büründü.
B) Ağaçların hepsi sıcak havayı görünce çiçek açtı.
C) Seneler hızlıca geçiyor, saçları beyazlıyordu.

3. "yel-rüzgar" kelimeleri arasındaki anlam ilişkisi aşağıdakilerden hangisinde vardır?

- A) ön - arka
B) kolay - zor
☒ sene - yıl

4. Aşağıdaki sözcüklerden hangisinin yazımı yanlıştır?

- A) yalnız ☒ traş C) spor

1 2 3 4

5. **sallandılar - çocuklar - parkta - salıncakta**
Yukarıdaki cümlelerin anlamlı ve kurallı sıralanmış hali aşağıdakilerden hangisidir?

- A) 2 - 4 - 3 - 1
B) 4 - 1 - 2 - 3
☒ 2 - 3 - 4 - 1

6. Aşağıdaki çarpma işlemlerinden hangisinin sonucu diğerlerinden farklıdır?

- A) 4×3
☒ 3×5
C) 6×2



$8 \times 2 = \text{★}$ $6 \times 3 = \text{■}$

7. Verilen işlemlere göre $\text{★} + \text{■}$ kaçtır?

- ☒ 34
B) 40
C) 44

8. Aşağıdaki ifadelerden yanlış olan hangisidir?

- A) Bir sayının 1 ile çarpımı sayının kendisine eşittir.
B) Bir sayının sıfır ile çarpımı 0'a eşittir.
☒ C) Bir sayının 1 ile çarpımı her zaman 1'dir.

9. Aşağıdaki çarpma işlemlerinden hangisinin sonucu hatalıdır?

- A) $7 \times 3 = 21$
B) $9 \times 4 = 36$
☒ C) $8 \times 5 = 45$



10. Aşağıdaki çarpma işlemlerinden hangisinin sonucu en büyüktür?

- A) 7×4 ☒ 6×5 C) 5×4


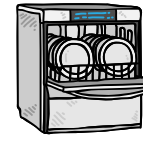

11. Aşağıdakilerden hangisi okullarda kullandığımız teknolojik aletlerden biri değildir?

- A) etkileşimli tahta
B) projeksiyon
☒ C) ders kitabı

12. Verilen ifadelerden yanlış olan hangisidir?

- A) Teknolojik ürünleri yanlış kullanmak bize zarar verir.
B) İnternette tanımadığımız kişilerle konuşmamalıyız.
☒ C) Tableti günün her saati güvenle kullanabiliriz.

13. Aşağıdakilerden hangisi evde kullandığımız teknolojik aletlerden biri değildir?

- ☒ A)  B)  C) 

14. Aşağıdaki teknolojik aletlerden hangisi iletişim alanında kullanılır?

- ☒ A) telefon B) mikser C) fön makinesi

15. Aşağıdakilerden hangisi teknolojik aletlerin zararlarından biridir?

- A) Zamandan tasarruf ettirir.
☒ B) Çevre kirliliğine sebep olabilir.
C) İş gücümüzü azaltır.

