


Toplama İşlemi Problemleri

S1) Yavru kedi 3, anne kedi ise yavru kediden 5 yaş büyüktür. Anne kedi kaç yaşındadır?

[illegible]

S5) Sena'nın 5 boya kalemi vardı. 8 tane de annesi aldı. Kaç boya kalemi oldu?

A blank 3x10 grid of squares, intended for drawing a 3D object.



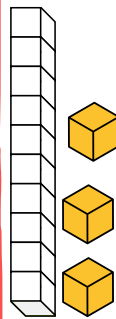
S2) Eda, kahvaltıda 7 , Seda ise 9 zeytin yedi. İkisi toplam kaç zeytin yemişlerdir?




S6) Bir aile bir günde 4 ekmek yerse 2 günde kaç ekmek yer?




S3) Salim, 1 onluk ve 3 birlikten oluşan sayıya 7 eklemiştir. Sonuç kaç çıkmıştır?

A blank 3x10 grid of squares, outlined in black, intended for drawing a rectangular prism. The grid is 3 rows high and 10 columns wide.

S7) Bir ağaçta 7 kuş vardı. Bu ağaca 9 kuş daha konarsa ağaçta kaç kuş olur?



S4) Bir kümeste 6 tavuk, 5 civ-
civ vardır. Bu kümeste toplam
kaç hayvan vardır?

[illegible]

S8) Okulda 1 teneffüs 10 dakikadır. Buna göre 2 teneffüs kaç dakikadır?

