














3. SINIF

HAYAT BİLGİSİ DERSİ 19. HAFTA ÇALIŞMA KAĞIDI

- Görselleri verilen trafik işaret levhalarının anlamlarını altlarına yazalım.

			
.....
			
.....
			
.....
			
.....

- Verilen ifadelerden doğru olanların başına "D", yanlış olanların başına "Y" yazalım.

- () Trafik işaret ve levhaları yalnızca yaya için.
- () Trafikteki herkes trafik işaret ve levhalarından sorumludur.
- () Işıklı trafik işaret cihazında sarı, kırmızı ve turuncu renkler yer almaktadır.
- () Görselleri verilen trafik işaret levhalarının anlamlarını altlarına yazalım.
- () Trafik kazalarından bazılarının sebebi bu işaret ve levhalara uyulmamasıdır.
- () Yaya geçitlerinin olduğu yerlerde geçiş üstünlüğü yaya için.
- () Trafik polisleri, trafikteki düzenin sağlanması ve yaya ile sürücülerin güvenliğinden sorumludur.

