

Adı:

Soyadı:

I/A SINIFI 1. DÖNEM 1. FEN BİLİMLERİ DERSİ YAZILISI

A)Aşağıdaki bilgiler doğru ise yay ayraç içine "D", yanlış ise "Y" yazalım.(20p)

- 1) (....) Kayaçların hepsi sert yapıdadır.
- 2) (....) Fosiller sadece hayvanlara aittir.
- 3) (....) Maddi değeri olan kayaçlara maden denir.
- 3) (....) Ülkemiz birçok maden ve kayaç çeşidi bakımından zengindir.
- 4) (....) Dünyanın kendi eksenini etrafında dönmesiyle gece gündüz oluşur.
- 5) (....) Gün içinde gölge boyları değişir.
- 6) (....) Dünya'nın kendi eksenini etrafında dönmesiyle mevsimler oluşur.
- 7) (....) Vitamin ve mineraller, vücutta enerji verici olarak kullanılır.
- 8) (....) Su ve mineraller bütün besinlerde bulunur.
- 9) (....) Bol bol karbonhidrat tüketen kişiler sağlıklı olur.
- 10) (....)Vücudun büyümesi, yenilenmesi ve çalışması için besin içeriklerinin yeterli miktarda alınması dengeli beslenmedenir.

Aşağıda verilen sorularda doğru seçenekleri işaretleyiniz.(Her soru 4 puandır,4x10)

1) Aşağıdaki bilgilerden hangisi yanlıştır?

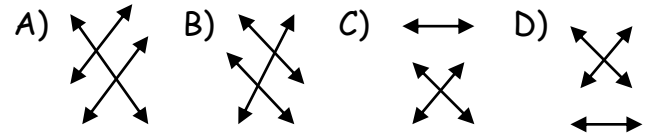
- A) Mermer ve linyit ülkemizdeki önemli madenlerdendir.
- B) Kayaçlar toprağın parçalanmasıyla oluşur.
- C) Ülkemiz bor rezervi bakımından dünyada ilk sırada yer almaktadır.
- D) Ekonomik değeri olan kayaçlara maden adı verilir.

2) Dünya'nın, Güneş etrafında dolanması ile ilgili aşağıdaki verilen bilgilerden hangisi yanlıştır?

- A) Mevsimler meydana gelir.
- B) Geçen süreye 1 gün denir.
- C) 365 gün 6 saatte tamamlanır.
- D) Elips şeklinde bir yörünge izlenir.

-Makarna	- Protein
-Kırmızı et	- Yağ
-Badem	- Karbonhidrat

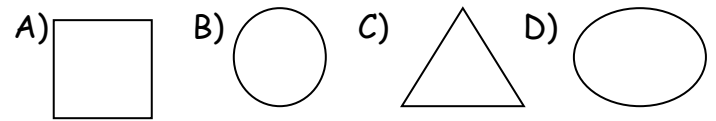
3)Yukarıda verilen besinler içeriklerine göre eşleştirildiğinde aşağıdaki şekillerden hangisi oluşur?



4) Aşağıdakilerden hangisi Dünya'nın dolanma hareketinin bir sonucudur?

- A) Gece ve gündüz oluşumu
- B) Gün kavramının oluşması
- C) Yönlerin ortaya çıkması
- D) Mevsimlerin oluşumu

5) Aşağıdakilerden hangisi Dünya'nın Güneş etrafında dolanırken çizdiği yörüngeye benzer?



6) Aşağıdaki besinlerden hangisi protein yönünden zengindir?

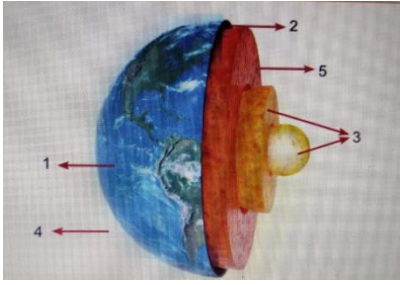
- A) Peynir B) Ceviz C) Portakal D) Ekmek

7) Aşağıdaki ifadelerden hangisi doğrudur?

- A) Güneş, Dünya'nın etrafını 24 saatte dolandır.
- B) Dünya'nın kendi eksenini etrafında bir tur dönmesi ile mevsimler oluşur.
- C) Dünya, Güneş'in etrafında dolanımını 365 gün 6 saatte tamamlar.
- D) 1 yıl 24 saattir.

8) Aşağıdakilerden hangisi fosil oluşturmaz?

- A) Ağaç yaprağı B) Midye C) Masa D) İnsan



9) Kayaçlardan oluşan tabaka hangi numara ile gösterilmiştir?

- A) 1 B) 2 C) 3 D) 4

10) Aşağıdakilerden hangileri madendir?

I. Taş kömürü

II. Altın

III. Tahta

IV. Linyit

A) I ve II

B) II ve IV

C) I, II ve III

D) I, II ve IV

C)Boşluklara uygun kelimeleri yazınız.(20p)

Protein	mineral	su	enerji
elips	yörünge	maden	gece
gündüz	bir(1)		

1) Yağlar .....verici besinlerdir.

2) Et ve süt ürünleri ..... bakımından zengin besinlerdir.

3) Tüm besinlerde ..... ve ..... bulunur

4) Dünya'nın Güneş etrafında belirli bir yörüngede ilerlemesine ..... hareketi adı verilir.

5) Altın, gümüş, kömür gibi kayaçlara ..... adı verilir.

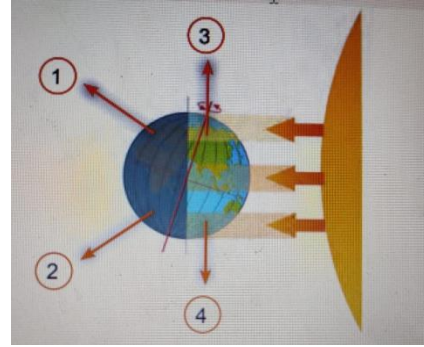
6) Dünya'nın kendi etrafında dönmesi sonucu ..... ve ..... oluşur.

7) Dünya, Güneş etrafındaki dolanımını ..... günde tamamlar.

8) Dünya, Güneş etrafında dolanırken ..... şeklinde bir yörünge çizer

Soruları cevaplayınız.(Her soru 5p)

1)Verilen şekil üzerinde gece ve gündüz olan bölümleri gösteriniz.



2) Fosiller nasıl oluşur?

2) Dünya'nın hareketlerini çizerek gösterelim.

Kendi eksenini etrafında dönme hareketi;

Güneş etrafında dolanma hareketi:

3)Bir insanın günlük beslenmesi nasıl olmalıdır açıklayınız.

Not:Her sorunun puan değeri yanında verilmiştir. Alınabilecek en yüksek puan 100dür. Sınav süresi 40dk'dır.