

PARALARIMIZ

KAZANIM DEĞERLENDİRME SINAVI

1. 1 TL kaç kuruştur?

- A) 10 B) 100 C) 1000

2. 4 tane 50 kuruş kaç TL'dir?

- A) 2 TL B) 5 TL C) 10 TL



3. Yukarıda toplam kaç TL vardır?

- A)  B)  C) 

4. 4 tane 25 kuruş kaç TL'dir?

- A) 1 TL B) 25 TL C) 100 TL

5,6 ve 7. soruları görsellere göre cevaplayalım.



5. Marketten 2 simit 1 ayran alan Gülden kaç TL ödeme yapmalıdır?

- A)  B)  C) 

6. Marketten 1 çikolatalı fındık kreması ve 1 kasa çilek alan Mehmet kaç TL ödemelidir?

- A) 60 TL B) 70 TL C) 80 TL

7. Marketten görsellerdeki ürünlerin hepsini alan Hatice kasada kaç TL ödeme yapmalıdır?

- A) 67 TL





- B) 70 TL

- C) 77 TL

8. 4 arkadaş sinemaya gittiler. Biletler için toplam kaç TL ödeme yapmışlardır?

- A) 10 TL B) 25 TL C) 40 TL



9.    
Şerife parasının 15 TL'sini harcarsa kaç TL'si kalır?

- A) 60 TL B) 70 TL C) 80 TL

10.



Sinem'in 24 TL'si var. Oyuncak treni alabilmesi için kaç TL daha biriktirmelidir?

- A) 18 TL B) 24 TL C) 28 TL

11. 2 tane 20 TL, 2 tane 10 TL toplam kaç TL yapar?

- A) 50 TL B) 60 TL C) 70 TL

12. İbrahim 50 TL'sinin 35 TL'sini harcadı. İbrahim'in kaç TL'si kaldı?



- A) 15 TL B) 35 TL C) 85 TL

13. En büyük kağıt paramız hangisidir?

- A)  B)  C) 

14. En küçük madeni paramız hangisidir?

- A)  B)  C) 

15.



Yukarıdaki paraların toplamı kaç TL'dir?

- A) 60 TL B) 65 TL C) 66 TL