

## UZUNLUK ÖLÇME

Standart olmayan uzunluk ölçülerini yazınız.


Aş. nesneler standart olmayan hangi uzunluk ölçme birimleri ile ölçülebilir.

(Karış-Kulaç-Adım-Parmak-Ayak)







Nesneler	Standart olmayan uzunluk ölçme birimleri
Telefon	
Sınıf tahtasının eni	
Kalem	
Halı	
Televizyonun Boyu	
Sınıfın eni	

\*\*\* Uzunlukları ölçmek için kullandığımız standart ölçme birimi .....dir.\*\*\*

\*\*\* 1 metre 100 eş parçaya bölündüğünde her bir parçası .....dir.

Metreden küçük uzunluklar ..... ile ölçülür.

Aş. verilen nesneleri uzunluklarını "metre" ile mi "santimetre" ile mi ölçeriz? Yanlarına yazınız.

\*\*\* Metreyi kısaca ..... ile, santimetreyi kısaca ..... ile gösteririz.\*\*\*

Doğru-yanlış sorularını cevaplayınız.

- ( ) Mezura standart ölçme aletidir.
- ( ) Şerit metre standart ölçme aletidir.
- ( ) Karış standart ölçme birimidir.

1.) Can'ın 1 adımı 48 cm'dir. Akif'in 1 adımı Can'ın 1 adımından 12 cm uzundur. Akif'in 1 adımı kaç cm'dir?

2.) Mert'in 1 adımı 1 metredir. Mert'in 6 adımı kaç metredir?

3.) Ali önce 24 m yürüdü, sonra 38 m yürüdü. Ali toplam kaç m yürüdü?

4.) Tahsin 27 metrelik kumaşın bir kısmını satınca geriye 12 m kumaş kalmıştır. Terzi ne kadar kumaş satmıştır?

5.) Sınıf ile kantin arası 10 metredir. Sınıftan kantine gidip gelen biri kaç m yol alır?

6.) Ahmet'in oyuncacı 5 cm'dir. Ahmet'in masasının eni 7 oyuncak uzunluğundadır. Masanın eni kaç cm'dir?

7.) Köpeğim 80 cm, tavşanım 52 cm'dir. Tavşanım kaç cm daha uzun olsaydı boyları eşit olurdu?

8.) Salon ile mutfak arası 4 metredir. Salondan mutfağa 2 defa gidip gelen biri toplam kaç m yürür?

9.) Kedim 37 cm, tavuğum 29 cm'dir. Kedim kaç cm daha kısa olsaydı boyu tavuğun boyu ile aynı olurdu?

10.) Kerim'in 1 adımı 52 cm'dir. Ali'nin adımı Kerim'in adımından 7 cm daha kısadır. Ali'nin 1 adımı kaç cm'dir?