


Saatler zaman ölçülerindendir. Saatin üzerinde sayılar, akrep ve yelkovan adı verilen iki kol bulunur.

Akrep: Saatteki kısa çubuktur. Saati gösterir.

- Bir saat 60 dakikadır.
- Yarım saat 30 dakikadır.
- Çeyrek saat 15 dakikadır.

Yelkovan: Saatteki uzun çubuktur. Dakikayı gösterir.

- Bir günde 24 saat vardır.
- Yelkovan 12'nin üzerindeyse buna saat başı denir.



Yelkovan
Akrep
Saat: 2 . 00

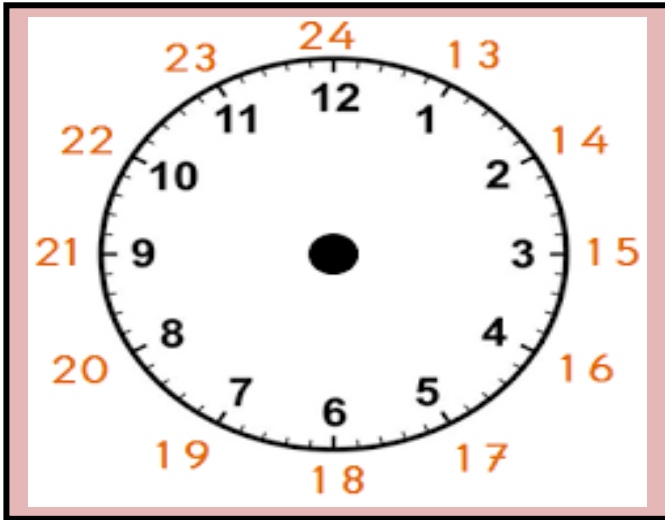
Saat

Dakika

Yandaki saate analog saat denir. Analog saatlerde 1-12 arası tüm sayılar yazılıdır. Akrep ve yelkovanın hareketi görülür.



Yandaki saate dijital saat denir. Dijital saatlerde saat ve dakika arasına **nokta** konulur. Eğer arada iki nokta üst üste (:) görürseniz bu yabancıların yazımıdır.



Analog saatlerin üzerinde 1'den 12'ye kadar sayılar bulunur. Bir gün 24 saat olduğu için öğleden sonraki saatleri akrebin gösterdiği sayıya 12 ekleyerek buluruz.
Saat: 11.00 (Öğleden önce)
Saat: 23.00 (Öğleden sonra)




Tam Saatler: Saat başlarında yelkovan 12'yi gösterir. Saat okunurken dakika kısmı söylenmez. Örneğin; 10. 00 okunurken "Saat 10" deriz.

Yarım Saatler: Yarım saatlerde yelkovan 6'yı gösterir. Akrep iki saatin arasında durur. Yarım saatleri okunurken buçuk kullanılır. Örneğin, 10.30 okunurken "Saat on buçuk" denir.


Çeyrek Saatler: 15 dakikalık aralıklardır. Yelkovan 3'ün üzerindeyse "çeyrek geçe", yelkovan 9'un üzerindeyse "çeyrek var" ifadelerini kullanırız.

Etkinlik Zamanı


1. Aşağıdaki saatlerin akrep ve yelkovanını altındaki bilgiye göre çizin. (Öğleden Önce)




Saat: 08.00



Saat: 11.30




Saat: 10.00




Saat: 04.30


2. Aşağıdaki saatlerin akrep ve yelkovanını altındaki bilgiye göre çizin. (Öğleden Sonra)




Saat: 20.00



Saat: 14.00



Saat: 16.30



Saat: 21.30

3. Aşağıdaki saatlerin kaç olduğunu altına yazınız (Öğleden Önce)



Saat:

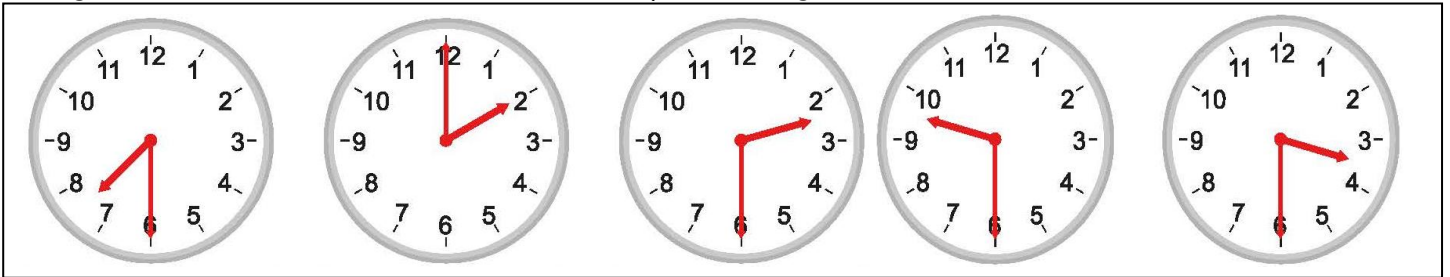
Saat:

Saat:

Saat:

Saat:

4. Aşağıdaki saatlerin altına kaç olduklarını yazınız. (Öğleden Sonra)



Saat:

Saat:

Saat:

Saat:

Saat:

5. Aşağıdaki bilgileri yazınız.

Sabahları uyandığınız saat:

Okula geldiğiniz saat:

Akşamları yatma saatiniz:

Okuldan çıktığınız saat: