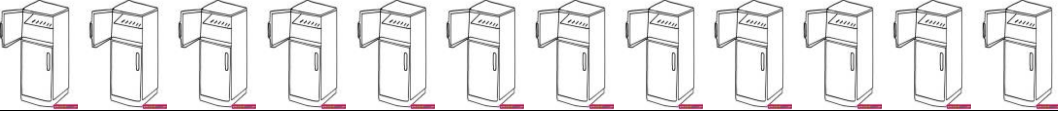
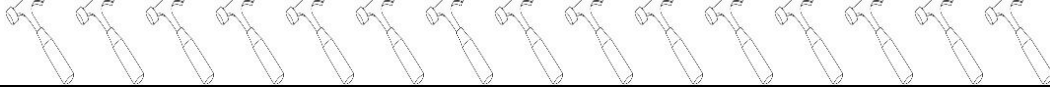



Şekilleri istenilen sayılarda paylaşarak, grup sayılarını bulunuz.


	2'şerli paylaşırsak kaç grup olur?.....
--	---

	3'erli paylaşırsak kaç grup olur?.....
--	--

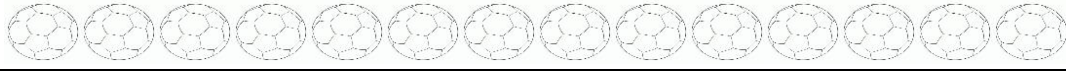
	3'erli paylaşırsak kaç grup olur?.....
---	--


	4'erli paylaşırsak kaç grup olur?.....
--	--

	5'erli paylaşırsak kaç grup olur?.....
--	--


	2'şerli paylaşırsak kaç grup olur?.....
--	---

	3'erli paylaşırsak kaç grup olur?.....
---	--

	7'şerli paylaşırsak kaç grup olur?.....
---	---

	3'er paylaşırsak kaç grup olur?.....
---	--------------------------------------


	3'erli paylaşırsak kaç grup olur?.....
---	--

	4'er paylaşırsak kaç grup olur?.....
--	--------------------------------------


	3'er paylaşırsak kaç grup olur?.....
--	--------------------------------------

	2'şerli paylaşırsak kaç grup olur?.....
---	---


	5'erli paylaşırsak kaç grup olur?.....
--	--



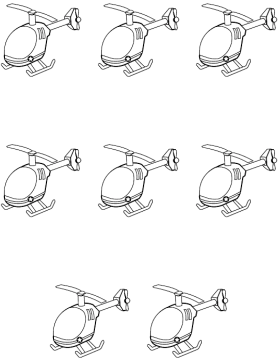
5'er paylaştırınız.




3'erli paylaştırınız.



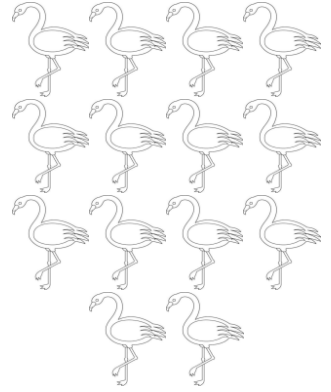
3'erli paylaştırınız.




2'şerli paylaştırınız.



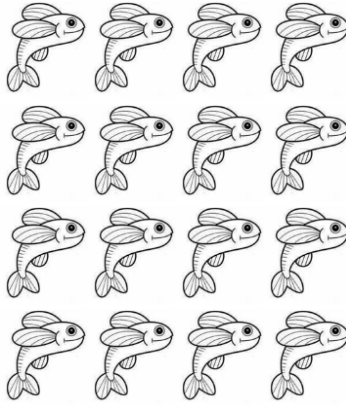
3'er paylaştırınız.




7'şerli paylaştırınız.




2'şerli paylaştırınız.




4'erli paylaştırınız.



3'erli paylaştırınız.



4'erli paylaştırınız.



6'şar paylaştırınız

Şekilleri  
istenildiği kadar  
boyayarak,  
gruplara ayırınız.