

Şekilleri istenilen sayılarda paylaşarak, grup sayılarını bulunuz.

	3'erli paylaşırsak kaç grup olur?.....
--	--

	2'şerli paylaşırsak kaç grup olur?.....
---	---

	4'erli paylaşırsak kaç grup olur?.....
---	--

	3'erli paylaşırsak kaç grup olur?.....
---	--

	5'erli paylaşırsak kaç grup olur?.....
--	--


	2'şerli paylaşırsak kaç grup olur?.....
--	---

	3'erli paylaşırsak kaç grup olur?.....
--	--

	4'erli paylaşırsak kaç grup olur?.....
--	--


	6'şar paylaşırsak kaç grup olur?.....
---	---------------------------------------

	2'şerli paylaşırsak kaç grup olur?.....
--	---


	6'şar paylaşırsak kaç grup olur?.....
--	---------------------------------------

	2'şerli paylaşırsak kaç grup olur?.....
--	---

	5'erli paylaşırsak kaç grup olur?.....
---	--

	4'erli paylaşırsak kaç grup olur?.....
---	--






5'erli paylaştırınız .



2'şerli paylaştırınız.




4'erli paylaştırınız.




3'erli paylaştırınız.



3'erli paylaştırınız.




4'erli paylaştırınız.



5'erli paylaştırınız.



3'erli paylaştırınız.



2'şerli paylaştırınız.



2'şerli paylaştırınız.



6'şar paylaştırınız.

Şekilleri  
istenildiği kadar  
boyayarak,  
gruplara ayırınız.