

# KESİRLER

Aşağıdaki kesirleri, verilen model ve sayı doğrusu üzerinde gösteriniz.

$$\frac{2}{5}$$



$$\frac{4}{8}$$



$$\frac{4}{8}$$



$$\frac{3}{4}$$



Aşağıdaki kesirleri modeller üzerinde göstererek okunuşlarını noktalı yerlere yazınız.



$$\frac{2}{6}$$

.....



$$\frac{3}{4}$$

.....

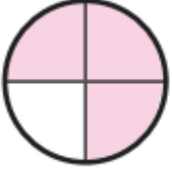


$$\frac{5}{8}$$

.....

# KESİRLER

Aşağıdaki modellerde gösterilen boyalı alanın belirttiği kesri noktalı yerlere yazınız. Kesri sayı doğrusu üzerinde gösteriniz.



....  
-----  
....



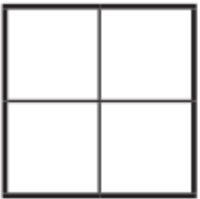
....  
-----  
....



....  
-----  
....



Aşağıdaki modeller üzerinde gösterebileceğiniz “bütün” haricindeki kesirleri örnekteki gibi noktalı yerlere yazınız.



$\frac{1}{4}$ ,  $\frac{2}{4}$ ,  $\frac{3}{4}$   
.....

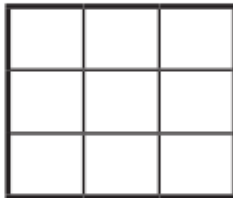


.....



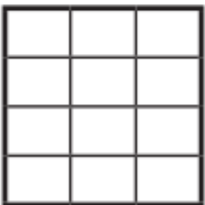
.....

.....



.....

.....



.....

.....



.....

.....