

İsim:

Sınıf:

İKİNCİ SINIF HAYAT BİLGİSİ
GÜVENLİ HAYAT ÜNİTESİ
DEĞERLENDİRME ÇALIŞMASI

Doğru

Sayı:.....

Yanlış

Sayı:.....

1- Aşağıda verilen bilgilerden hangisi yanlıştır?

- a) Araçlarda emniyet kemeri takmak güvenliğimizi sağlar.
- b) Elektrikli aletlere ıslak elle dokunabiliriz.
- c) Bazı teknolojik aletleri yetişkin gözetiminde kullanmalıyız.

2- Ulaşım araçlarından hangisi ile yolculuk yapmak diğerlerinden güvenlidir?



3- Bir yerde sel felaketi ile karşılaşıldığında aşağıdaki kurum ya da kuruluşlardan hangisi afet yerine mutlaka gitmelidir?

- a) AFAD b) TEMA c) Yeşilay

4- Araçlara binerken ve inerken aracın hangi kapısı kullanılmalıdır?


- a) bagaj kapısı
- b) sağ kapı
- c) sol kapı

5-




Aşağıdakilerden hangisi görselde verilen toplu taşıma aracının kullanımında yapılan yanlış davranışlardan biri değildir?

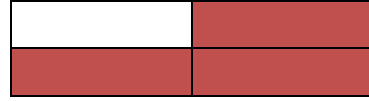
- a) Okul servisinde ayağa kalkmak
- b) Araç penceresinden dışarıya sarkmak
- c) Şoförle sohbet etmek



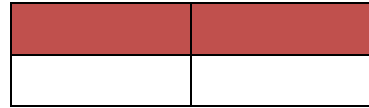
6- Yukarıda verilen tabloda toplu taşıma araçlarının olduğu kutular boyandığında ortaya çıkacak olan şekil hangisidir?



a)



b)




c)

7- T.C. Aile ve Sosyal Politikalar Bakanlığı destek ve yardım hattının numarası aşağıdakilerden hangisidir?

- a) 183 b) 110 c) 156

8- Hangisini bisiklet sürerken güvenliğimizi sağlamak için kullanmalıyız?



9-



Gece geç saatlerdeydi. Evimizin kapısını açmaya çalışan birilerinin sesini duyduk. Babam hemen telefona sarıldı ve numarasını aradı.

Hakan'ın babası aşağıdaki numaralardan hangisini aramış olamaz?

- a) 112 b) 155 c) 180

10-



Yukarıda yer alan teknolojik aletlerden kaç tanesi temizlik amacı dışında kullanılamaz?

- a) 2 b) 1 c) 4

11-

	Özel aracımızda mutlaka emniyet kemeri takmalıyız.
	Üzeri açık araçlarla yolculuk yapmak tehlikelidir.
	Araç içinde yüksek sesle konuşabiliriz.
	Toplu taşıma araçlarına bindiğimizde yüksek sesle müzik dinleyebiliriz.
	Taşıtlara sağdan binmeli ve sağdan inmeliyiz.

Yukarıda verilen doğru bilgilerin başına ✓, yanlışlara ise ✗ işareti koyduğumuzda tablomuz nasıl görünür?

✓
✗
✗
✓
✓

a)

✓
✓
✗
✗
✗

b)

✓
✓
✗
✗
✓

c)

12- Aşağıdaki durumlardan hangisinde 183'ü arayabiliriz?

- a) Ailemizde birinden sürekli şiddet gördüğümüzde
b) Evimizi su bastığında
c) Trafikte kavga çıktığında

13-



Erdem ikinci sınıf öğrencisidir ve bilgisayarda çevrimiçi oyunlar oynamayı çok sever.

İnternet ortamında zorbalığa uğrayan ve tanımadığı kişiler tarafından rahatsız edilen Erdem aşağıdakilerden hangisini yapmalıdır?

- a) Karşısındakilere aynı sertlikle cevap vermelidir.
b) Aile büyüklerine durumu anlatarak yardım istemelidir.
c) Ona zorbalık yapanları bulmaya çalışmalıdır.

14-



1- - vatman



2- - pilot



3- - şoför



4- - kaptan



Ulaşım aracı ve onu kullanan kişiye verilen isimleri eşleştirmek isteyen Fulya, kaç numaralı eşleştirmelerde yanlış yapmıştır?

- a) 2-3 b) 1-4 c) 3-4