






AŞAĞIDAKİ ÇALIŞMALARI İSTENİLDİĞİ GİBİ YAPINIZ

*** Verilen sayıları en yakın onluğa yuvarlayınız.



*** Toplama işleminde, işlemle sonucu eşleştiriniz.

$39+26=$

62

$17+76=$

99

$38+21=$

92

$57+11=$

95

$26+36=$

65

$44+55=$

93

$52+40=$

87

$61+34=$

92

$30+57=$

59

$70+22=$

68

*** Verilen sayının başını ve sonunu yazınız.

(74)

(92)

(69)

(37)

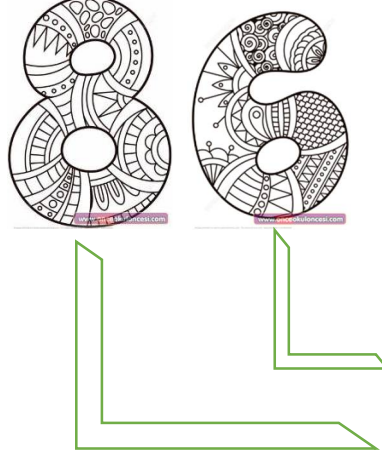
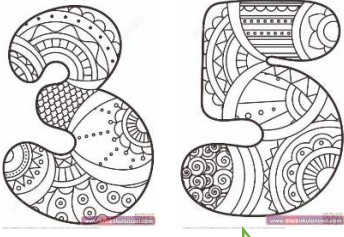
(42)

(83)

(57)

(26)

*** Verilen sayıların basamak adlarını yazınız.



*** Aşağıdaki ritmik sayıları tamamlayınız.



A+B=?



A+B=?



A+B=?

*** Verilen sayıları onluk ve birlik olarak yazınız.

