


Boyayalım ve kitapçığımızı okula gelirken getirmeyi unutmayalım.




## EĞLENCELİ ETKİNLİKLER

Ara tatilde eğlenceli etkinliklerle hem keyifli vakit geçirecek hem de tekrar yapmış olacağız.

İlk olarak etkinlik kitapçığının kapak resmini boyamaya ne dersin? Adını yazmayı da unutmamalısın.



Toplama işlemlerini yapalım. Kontrol edelim ve her doğru cevap için kalpleri boyayalım.



Toplama işlemlerinde verilmeyen toplananı bulalım.



$43 + \underline{\quad} = 52$

$18 + \underline{\quad} = 24$

$23 + \underline{\quad} = 31$

$45 + \underline{\quad} = 54$

$88 + \underline{\quad} = 95$

$15 + \underline{\quad} = 24$

$25 + \underline{\quad} = 31$

$35 + \underline{\quad} = 43$

$57 + \underline{\quad} = 64$

$53 + \underline{\quad} = 62$

$78 + \underline{\quad} = 86$

$37 + \underline{\quad} = 41$

$45 + \underline{\quad} = 51$

$15 + \underline{\quad} = 21$

$34 + \underline{\quad} = 41$

$47 + \underline{\quad} = 54$

$18 + \underline{\quad} = 25$

$45 + \underline{\quad} = 52$

$32 + \underline{\quad} = 41$

$56 + \underline{\quad} = 65$

$79 + \underline{\quad} = 86$

$72 + \underline{\quad} = 81$

$73 + \underline{\quad} = 81$

$25 + \underline{\quad} = 33$

$48 + \underline{\quad} = 52$

$19 + \underline{\quad} = 26$

$69 + \underline{\quad} = 75$

$85 + \underline{\quad} = 91$

$59 + \underline{\quad} = 63$

$65 + \underline{\quad} = 73$

$78 + \underline{\quad} = 83$

$39 + \underline{\quad} = 46$

$67 + \underline{\quad} = 71$

$62 + \underline{\quad} = 71$

$39 + \underline{\quad} = 44$

$54 + \underline{\quad} = 63$



Metni okuyalım, soruları cevaplayalım.



Meral Nine mahallemizde yaşayan, çok sevimli bir kadındır. Çocukları büyüüp evlendikten sonra evde tek başına kaldı. Bir süre sonra yalnızlıktan sıkılınca evine bir ev arkadaşı almaya karar verdi. Ev arkadaşının adı Kahve. Çünkü o, kahverengi tüyleri olan şirin bir kedi. Meral Nine, Kahve'yi çok seviyor. Sürekli onunla sohbet ediyor. Kahve de Meral Nine'nin etrafından hiç ayrılmıyor.

Meral Nine bugün sarı elbisesinin üzerine koyu yeşil bir fular takmış. Perdeleri mavi renkte ama üzerinde pembe puantiyeler var. Kahve ile birlikte açık yeşil çerçeveli pencereden dışarıya bakıyorlar. Kim bilir Kahve'ye nereyi gösteriyor?

*Funda Moneke*

1- Metne uygun bir başlık bulalım.

2- Metinde anlatılan kişi kimdir?

3- Meral Nine neden yalnız kaldı?

4- Verilen bilgilere göre görseli boyayalım.

## KAYIP NESNELERİ BUL



balık



kitap



kaplumbağa



pizza



sapan



dondurma



diş macunu



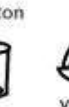
tornavida



mantar



bardak



baston



yelkenli



flama




kapkek



mum



mala



yılan



çatal



lölöp

## TEST ZAMANI

Test sorularında doğru şıkkı işaretleyelim.

1- Aşağıdakilerden hangisi nezaket ifadelerinden değildir?

- a) Teşekkür ederim. b) Günaydın c) Saat kaç?

2- Aşağıdaki çocuklardan hangisi kaynaklarla ilgili olarak doğru bilgi vermiştir?

- a) **Ali**: Kaynaklar sınırlı olduğu için hepsini biz kullanmalıyız.  
b) **Kerem**: Kaynaklar sınırlı olduğundan tutumlu davranmalıyız.  
c) **Özge**: Elektrik kaynağı sınırsız bir kaynaktır.



Kırmızı bir ayakkabı beğenmişim. Ancak kabanım artık bana küçük geldiği için kaban almam gerekiyor.

3- Ayşe'nin ifadesine göre Ayşe hakkında hangisini kesinlikle söyleyebiliriz?

- a) Ayşe'nin hem kaban hem ayakkabı alması gerekiyor.  
b) Ayşe ihtiyacını karşılamaya yönelik alışverişe öncelik veriyor.  
c) Ayşe'nin kırmızı ayakkabısı yoktur.

4- Salı günleri matematik dersimiz yok. Hangisini çantamdan çıkarmazsam boşuna taşımış olurum?



a)



b)



c)

## TEST ZAMANI

Test sorularında doğru şıkkı işaretleyelim.

1- Ev adresimizi yazarken hangisini kesinlikle yazmayız?

- a) Mahallemizin adını b) Komşumuzun adını  
b) sokağımızın adını

1	23 Nisan	Ulusal Egemenlik ve Çocuk Bayramı
2	19 Mayıs	Atatürk'ü Anma, Gençlik ve Spor Bayramı
3	30 Ağustos	Cumhuriyet Bayramı

2- Bayramlar ve tarihleri eşleştirilirken hangi sırada hata yapılmıştır?

- a) 1 b) 2 c) 3

3- Pinar ve arkadaşları sınıf kuralları ile ilgili afişler hazırlıyorlardı. Pinar afişlere slogan yazma görevi almıştı. Aşağıdaki sloganlardan hangisini afişlere yazması uygun olmaz?


- a) Tuvaletleri temiz tut, sağlığını koru!  
b) Çöplerinizi çöp kutusuyla buluşturun!  
c) Koşarsan sınıfta çarparsın kayaya!

4- Ece, Atatürk ile ilgili bilgilerden oluşturduğu albüme yazdığı cümlelerden hangisinde bir hata yapmıştır?

- a) Babasının adı Ali Rıza Bey'dir.  
b) Annesinin adı Makbule Hanım'dır.  
c) Selanik'te doğmuştur.

## EĞLENCE ZAMANI

İki resim arasındaki farkları bulalım.



## DİL BİLGİSİ ETKİNLİKLERİ

1- Alfabemizde eksik bırakılan harfleri yazalım.

A-B-C-Ç-D-.....-F-G-Ğ-H-I-İ-.....-K-L-M-.....-O-.....-P-R-S-  
.....- T-.....-Ü-V-.....- Z

2- Verilen kelimeleri örnekteki gibi hecelerine ayıralım.

### ÖRNEK

Kararsızlık = ka-rar-sız-lık

asansör=

telefon=

olumlu=

matematik=

bağımsızlık=

Türkçe=

3- Cümleleri okuyalım; kaç kelimesi, kaç hecesi olduğunu yazalım. Hece sayısının bulmanın kolay yolunun sesli harfleri saymak olduğunu unutmayalım!

Cümle	Kelime Sayısı	Hece Sayısı
Kedimin mama kabı devrilmiş.		
Türkiye'nin başkenti Ankara'dır.		
Kaybolduk.		
Ocaktaki yemekleri durmadan karıştıran annem dalgın görünüyordu.		

4- "Dedem koltuğuna oturmuş gazete ....."  
cümlesini tamamlayalım.

### PROBLEM ZAMANI

- 1- Selim 56 sayısını en yakın onluğa yuvarladığında bulduğu sayının dedesinin yaşı olduğunu fark etti. Selim, 9 yaşında ise Selim ve dedesinin yaşları toplamı kaçtır?



- 2- Elif'in kalemünün sayısı iki düzinedir. Pınar'ın kalemünün sayısı Elif'den 39 fazlaysa Pınar'ın kaç kalemi vardır?



- 3- Bir çıkarma işleminde eksilen sayı 8 onluk 2 birlikten oluşmuştur. Çıkan sayı ise 57'dir. Bu çıkarma işleminde fark kaçtır?



### KOMŞUNUN KAPISINI ÇALMAK GEREKEBİLİR!

$$\begin{array}{r} 50 \\ -32 \\ \hline \end{array}$$

$$\begin{array}{r} 38 \\ -35 \\ \hline \end{array}$$

$$\begin{array}{r} 11 \\ -5 \\ \hline \end{array}$$

$$\begin{array}{r} 24 \\ -10 \\ \hline \end{array}$$

$$\begin{array}{r} 50 \\ -45 \\ \hline \end{array}$$

$$\begin{array}{r} 43 \\ -13 \\ \hline \end{array}$$

$$\begin{array}{r} 41 \\ -22 \\ \hline \end{array}$$

$$\begin{array}{r} 42 \\ -30 \\ \hline \end{array}$$

$$\begin{array}{r} 37 \\ -19 \\ \hline \end{array}$$

$$\begin{array}{r} 69 \\ -29 \\ \hline \end{array}$$

$$\begin{array}{r} 36 \\ -18 \\ \hline \end{array}$$

$$\begin{array}{r} 72 \\ -53 \\ \hline \end{array}$$

$$\begin{array}{r} 47 \\ -44 \\ \hline \end{array}$$

$$\begin{array}{r} 25 \\ -7 \\ \hline \end{array}$$

$$\begin{array}{r} 70 \\ -16 \\ \hline \end{array}$$

$$\begin{array}{r} 25 \\ -6 \\ \hline \end{array}$$

$$\begin{array}{r} 51 \\ -14 \\ \hline \end{array}$$

$$\begin{array}{r} 86 \\ -50 \\ \hline \end{array}$$

$$\begin{array}{r} 23 \\ -9 \\ \hline \end{array}$$

$$\begin{array}{r} 94 \\ -94 \\ \hline \end{array}$$


$$\begin{array}{r} 67 \\ -25 \\ \hline \end{array}$$

$$\begin{array}{r} 88 \\ -19 \\ \hline \end{array}$$

$$\begin{array}{r} 91 \\ -37 \\ \hline \end{array}$$

$$\begin{array}{r} 10 \\ -2 \\ \hline \end{array}$$

$$\begin{array}{r} 39 \\ -30 \\ \hline \end{array}$$





## MATEMATİK ZAMANI

Sayıları büyükten küçüğe sıralayarak yanlarındaki kutulara yazalım.

35	23	12	27				
62	34	67	42				
56	26	71	73				

Toplama işlemlerini yapalım.

$\begin{array}{r} 25 \\ +19 \\ \hline 44 \end{array}$	$\begin{array}{r} 56 \\ +27 \\ \hline \end{array}$	$\begin{array}{r} 48 \\ +26 \\ \hline \end{array}$
$\begin{array}{r} 64 \\ +19 \\ \hline \end{array}$		$\begin{array}{r} 35 \\ +38 \\ \hline \end{array}$
$\begin{array}{r} 51 \\ +39 \\ \hline \end{array}$	$\begin{array}{r} 66 \\ +26 \\ \hline \end{array}$	$\begin{array}{r} 47 \\ +27 \\ \hline \end{array}$
$\begin{array}{r} 41 \\ +39 \\ \hline \end{array}$		$\begin{array}{r} 54 \\ +38 \\ \hline \end{array}$

## DİL BİLGİSİ ETKİNLİKLERİ

1- Kelime bulutlarında yazan kelimelerden eş anlamlı olanları aynı renge boyayalım.



2- Aşağıdaki cümlelerde yer alan boşluklara uygun noktalama işaretlerini koyalım.

- ✓ Eyvah, sütü yere döktüm ( )
- ✓ Halam ( ) amcam ( ) dedem ve babaannem bize gelecekler.
- ✓ Otobüs saat kaçta gelecek ( )
- ✓ Emrah ( )'ın annesi hepimiz için kek getirdi ( )

3- Cümleleri tamamlayalım.

- Yağmur yağdığı için.....
- Babam uyuyunca.....
- Suların kesilmesinden ötürü.....
- Pantolonum kirlendiği için.....
- Ocaktaki süt taşınca.....
- Çocuklar oyuna daldığı için.....

## DİL BİLGİSİ ETKİNLİKLERİ

Verilen cümleleri dikkatle okuyalım ve soruları yanıtlayalım.

1- Ayşe dün akşam bahçede yavru kedilerle oynadı.

- Kim oynadı?

.....

- Nerede oynadı?

.....

- Ne zaman oynadı?

.....

- Ayşe ne yaptı?

.....

2- Doktor Ali, yarın hastanede tüm hastalarına çiçek verecekmış.

- Kim çiçek verecekmış?

.....

- Ne zaman çiçek verecekmış?

.....

- Nerede çiçek verecekmış?

.....

- Doktor Ali ne verecekmış?

.....

- Doktor Ali ne yapacacmış?

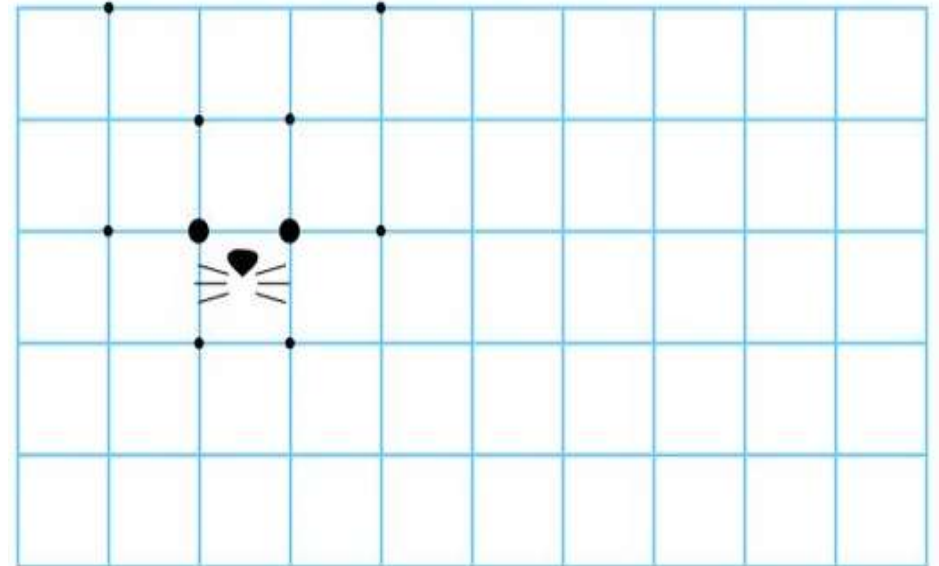
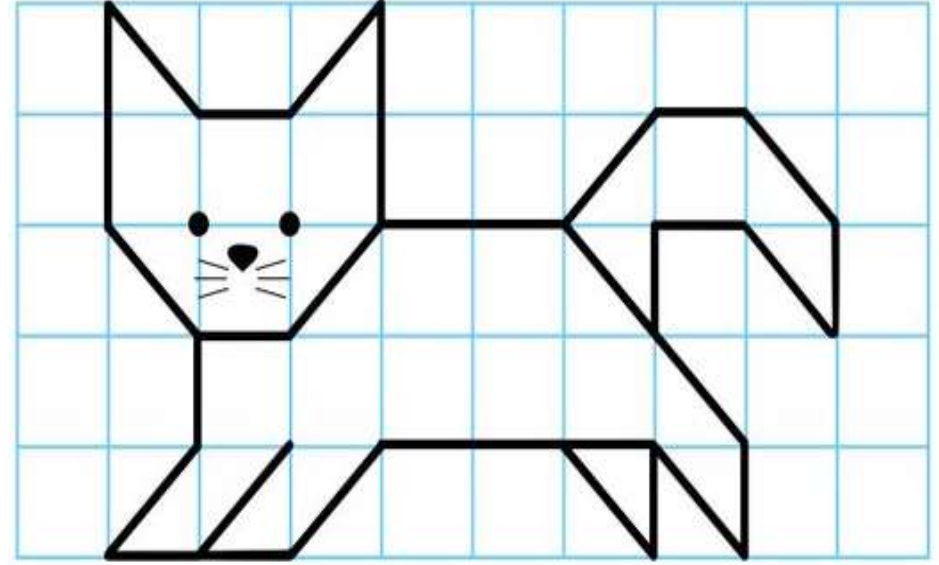
.....

- Doktor Ali kime çiçek verecekmış?

.....

## EĞLENCE ZAMANI

Kareleri sayarak üstteki kedinin aynısını alta çizelim.



## PROBLEM ZAMANI

1- Selin'in haftalık harçlığı 35 liradır. Selin iki hafta harçlığını biriktirdi. Biriken parasının 27 lirasına kitap alınca Selin'in kaç lirası kaldı?

2- Bir fırıncı sabah 38, öğleyin 25, akşam ise 12 simit sattı. Fırıncı toplam kaç simit satmıştır?

3- Ayla ve annesinin yaşları toplamı 62'dir. Ayla 14 yaşında ise annesi kaç yaşındadır?

Aşağıdaki şiiri okuyalım, defterimize yazalım.

# ORMAN

Güzel yurdumun süsü,  
Hayvanların mutlu yuvası,  
Kuşların şen türküsü,  
Koruyalım ormanları.

Gürgeni, ladini, çamı,  
Çeşit çeşit ağaçları,  
Kesmeyelim onları,  
Koruyalım ormanları.

Ekonomiye can verir,  
Çağırır yağmurları,  
İklimleri düzenler,  
Koruyalım ormanları.

Funda Menekşe



1- Şiirde hangi ağaçlardan bahsediliyor?

.....

2- Şiire göre yağmurları çağıran nedir?

.....

3- Şiire farklı bir başlık yazalım.

.....

4- Şiirde ormanların hangi faydalarından bahsediliyor?

.....

.....

## EĞLENCE ZAMANI

Verilen kelimelerin zıt anlamlılarını bulalım ve boyayalım. Kalan harflerden oluşan şifreyi bulalım.

Uzun- ince- zayıf- karanlık- uzak- sert- barış- aşağı-  
çürük- soğuk- içeri- var- sonra-kapalı- son- zengin

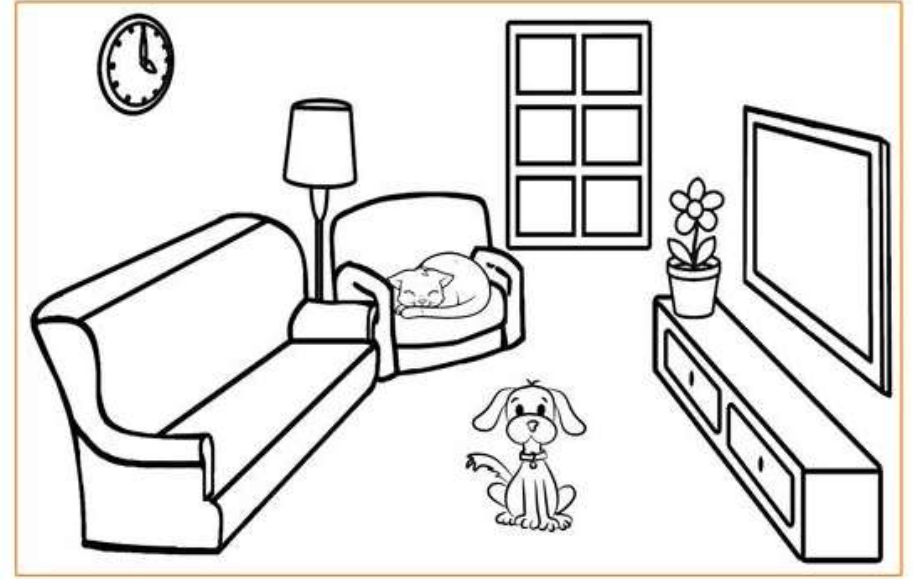
A	Y	D	I	N	L	I	K	S	S
Ş	O	I	İ	Y	O	K	E	A	K
İ	K	Ş	L	A	Ç	I	K	Ğ	A
Ş	S	A	K	K	I	S	A	L	L
M	U	R	S	I	C	A	K	A	I
A	L	I	Ö	N	C	E	V	M	N
N	Y	U	K	A	R	I	G	İ	L
E	R	Y	U	M	U	Ş	A	K	❤️

Şifre:

--	--	--	--	--	--	--	--	--

## EĞLENCE ZAMANI

Okuyalım, verilen bilgilere göre resmi boyayalım.



Biz evimizi iki tane dostla paylaşıyoruz. Kedimizin adı Sâfi, köpeğimizin ad ise Kafi. İkisini de çok seviyoruz.

Sâfi tüm gün mavi koltuğun yanındaki sarı koltukta uyuklar. Kafi'nin oraya oturmasına hiç izin vermez. Ne zamanki kırmızı abajur lambayı açtık, işte o zaman rahatsız olur koltuktan kalkar. Kafi biraz hareketlidir. Geçenlerde annemin saksısını kırdı. Biz de anneme yeni, mor renkte bir saksı aldık. İçine de turuncu papatyalardan ektik. Kahverengi televizyon sehpasının üzerine koyduk. Yere halı almak istiyoruz.

Ne dersiniz, alacağımız halı ne renk olsun? Haydi, bizim için desenli bir halı ve ona uygun perdeleri de siz çizin. Eminim çok zevkli çizimler yapacaksınız.

Bu arada Safi'yi uyandırmayın, e mi?