

2.SINIF HAYAT BİLGİSİ DEĞERLENDİRME TESTİ

SORU 1

- ☐ Grupla çalışırken arkadaşlarımızın düşüncelerine önem vermeliyiz.
- ☐ Bir sorun yaşandığında haklı olmasa da yakın arkadaşımızı desteklemeliyiz.
- ☐ Grup çalışmaları sorumluluk bilincini geliştirir.

Yukarıda verilen grup çalışmaları ile ilgili ifadelerden doğru olanlara ✓ yanlış olanlara ✗ konulursa hangi seçenek oluşur?

- A. ☒ ☐ ☐ B. ☒ ☐ ☒ C. ☐ ☐ ☒

SORU 2

Ben resim yapmaktan hoşlanıyorum. Pelin çok iyi piyano çalar. Yusuf basketbol oynamayı sever.



Melek

Melek'in açıklamasından hangi sonuç çıkarılabilir?

- A. Bizden farklı kişilerle arkadaş olmamalıyız.
- B. Arkadaşlarımızla bireysel farklılıklarımız olabilir.
- C. Herkes aynı yeteneklere sahiptir.

SORU 3

S yardımseverlik	A saygı
R kıskançlık	Y adil olma

Grup çalışmasında gerekli olan ifadelerin kutularında yazan harflerle hangi sözcük oluşturulur?

- A. RAY B. SAR C. SAY

SORU 4

Yarın dersimiz yok. Çantamdan kareli defteri, sayı boncuğunu ve cetvelimi çıkarmalıyım.

Yukarıdaki ifadede bırakılan boşluğa hangisi yazılmalıdır?

- A. müzik B. hayat bilgisi
C. matematik

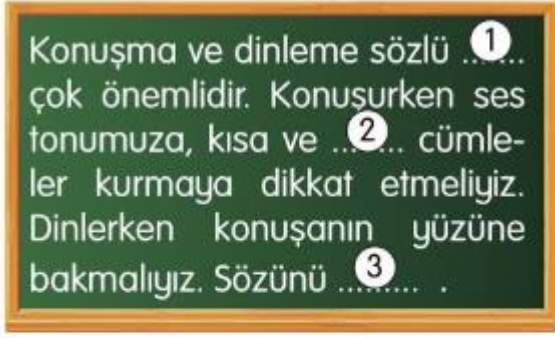
SORU 5

- Uzun boyluyum.
- Satrancı çok iyi oynayabiliyorum.
- Resim alanında başarılıyım.
- Kıvrık sarı saçlara sahibim.

Yukarıda verilen ifadelerle göre fiziksel özellikler ile beceriler ayrı ayrı eşleştirildiğinde hangi eşleştirme doğru olur?

- A.
- B.
- C.

SORU 6



Yukarıda 1, 2 ve 3 rakamları ile numaralandırılmış yerlere hangileri yazılmalıdır?

1	2	3
A. iletişimde	anlamalı	kesmeliyiz
B. oyunda	iyi	dinleriz
C. iletişimde	anlamalı	kesmemeliyiz

SORU 7



Polat'ın annesine okul yönetimin-den bir mesaj gelmiştir.

Buna göre verilenlerden hangisi mesajda sözü edilen kaynaklardan biri olamaz?

- A. su B. elektrik
C. bulaşık deterjanı

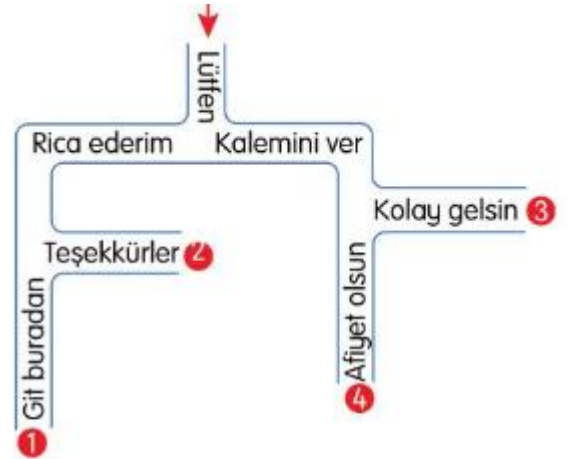
SORU 8

- Oyuna başlarken karşı takıma başarılar dilemeliyiz.
- ▲ Oyun sonunda kazananı tebrik etmeliyiz.
- Oyunu kazanmazsak oyunun kurallarını değiştirmeliyiz.

Oyun oynarken uymamız gereken kurallar hangi seçenekte verilmiştir?

- A. ■ ● B. ■ ▲ C. ▲ ●

SORU 9



Ok yönünde başlayıp nezaket ifadelerini takip ettiğimizde hangi çıkışa ulaşırız?

- A. 1 B. 2 C. 3

2.SINIF HAYAT BİLGİSİ DEĞERLENDİRME TESTİ

SORU 10

	Okul çantamı hazırlarım.
	Tamirat işlerini yaparım.
	Odamı düzenlerim.

2. sınıfa giden Meltem yukarıdaki listede kendi görev ve sorumluluklarını ✓, diğerlerini ✗ ile işaretlemiştir.

Tablonun görünümü hangi seçenekte doğru verilmiştir?

- A.

✓
✗
✓

 B.

✓
✓
✓

 C.

✓
✓
✗

SORU 11

Çocukların derse giriş çıkış saatleri
Öğrenci olan aile üyelerine verilecek harçlık miktarları
Millî bayram tarihleri

Yukarıda verilenlerden aile içinde ortak karar alınması gerekenlere O, diğerlerine D yazılırsa hangi seçenekteki tablo oluşur?

- A.

O
D
O

 B.

D
O
O




 C.

D
O
D

SORU 12

- Dayı
- Teyze
- Amca
- Hala

Yukarıdaki listede baba tarafından akrabaları ve anne tarafından akrabaları ayrı ayrı birleştirdiğimizde hangisi doğru olur?

- A.  B.  C. 

SORU 13

İŞENTE

EYNEG

ALHA

Karışık olarak verilmiş akraba adlarından hangisinin açıklaması aşağıdaki seçeneklerde yoktur?

- A. Teyzemizin, amcamızın, halamızın çocuklarıdır.
B. Teyzemizin ve halamızın eşlerine denir.
C. Dayımızın ve amcamızın eşleridir.

SORU 14

Cem, günlük yaşam planı hazırlayacaktır.

Buna göre tabletle oynamaya ayırması gereken süre hangisi olmalıdır?

- A. 1 saat B. 5 saat
C. 9 saat