







| | | | | | |
|--|--|----------------|--|---|---|
| <p>Aşağıda okunuşları verilen sayıları yazınız.</p> <p>Doksan altı :</p> <p>Kırk iki :</p> <p>Yetmiş üç :</p> | <p>Aşağıdaki sayıların kaç onluk ve birlikten oluştuklarını yazınız.</p> <p>47 :</p> <p>36 :</p> <p>86 :</p> | | | | |
| <p>Aşağıdaki boşlukları dolduralım.</p> <table border="0"> <tr> <td style="text-align: center;">Basamak Adları</td><td style="text-align: center;">Basamak Değeri</td></tr> <tr> <td style="text-align: center;">  </td><td style="text-align: center;">  </td></tr> </table> | Basamak Adları | Basamak Değeri |  |  | <p>Aşağıdaki ritmik sayılarda eksik bölümleri tamamlayınız.</p> <p>22 – 24 –26 –.....–.....–.....–.....–.....–</p> <p>.....–.....–.....–.....–.....–.....–</p> <p>3 – 6 –9 –.....–.....–.....–.....–.....–</p> <p>.....–.....–.....–.....–.....–.....–</p> <p>4 – 8 –12 –.....–.....–.....–.....–.....–</p> <p>.....–.....–.....–.....–.....–.....–</p> |
| Basamak Adları | Basamak Değeri | | | | |
|  |  | | | | |
| <p>Aşağıdaki çözümlenmiş olarak verilen sayıları yazınız.</p> <p>7 onluk + 8 birlik =</p> <p>5 onluk + 0 birlik =</p> <p>2 birlik + 6 onluk =</p> | <p>Ece'nin 2 düzine kalemi vardı. 4 kalem de kardeşi verdi. Kaç kalemi oldu?</p> <p>Cevap:</p> | | | | |
| <p>Aşağıdaki işlemlerin sonuçlarını yazınız.</p> <p>1 deste + 5 =</p> <p>1 düzine + 4 =.....</p> | <p>Marketten iki deste yumurta aldım. 3 tanesi yolda kırıldı.</p> <p>Kaç yumurta kaldı?</p> <p>Cevap:</p> | | | | |
| <p>16'dan başlayarak ileriye doğru ikişer sayarken 3. Sırada hangi sayıyı söyleriz?</p> | <p>27 'den başlayarak geriye doğru 3'er sayarken 4. sırada hangi sayıyı söyleriz?</p> | | | | |

| | |
|---|--|
| <p>Aşağıda sayıları büyükten küçüğe doğru sıralayalım.</p> <p>23, 54, 12, 76:.....</p> <p>98, 56, 71, 17:.....</p> | <p>Aşağıdaki örüntülerin kuralını yazınız.</p> <p>8-11-14-17-20 Kural:</p> <p>5-9-13-17-21 Kural:</p> |
| <p>Aşağıdaki örüntüleri kuralını bularak devam ettirin.</p> <p>62 – 68 – 74 – 80 – – –</p> <p>31 – 26 – 21 – 16 – – –</p> | <p>Aşağıdaki sayıları en yakın onluğa yuvarlayınız.</p> <p>54: 99:</p> <p>67:</p> <p>89:</p> <p>31 :</p> |
| <p>74” sayısında “7 sayısının basamak değeri kaçtır?</p> | <p>38 – 42 – 46 -?- 54 ritmik saymada “?” yerine hangi sayı gelmelidir?</p> |
| <p>Birler basamağında 7, onlar basamağında 4 olan sayı hangi onluğa yuvarlanır yazınız.</p> | <p>Onluğa yuvarlama yaparken 60 sayısına yuvarlanan en küçük sayı kaçtır?</p> |
| <p>En yakın onluğu 20 olan en küçük sayı ile, en yakın onluğu 10 olan en büyük sayının farkı kaçtır?</p> | <p>24 sayısının onlar basamağını 2 artırır, birler basamağını 3 azaltırsak yeni sayımız kaç olur?</p> |

OKU ----- GÖR ----- ANLA ----- YAP kuralını unutma ☺

Başarılar dilerim

Nurtaç Benli