

7.SINIF 7. ÜNİTE ÇALIŞMA FASİKÜLÜ

SOSYAL BİLGİLER

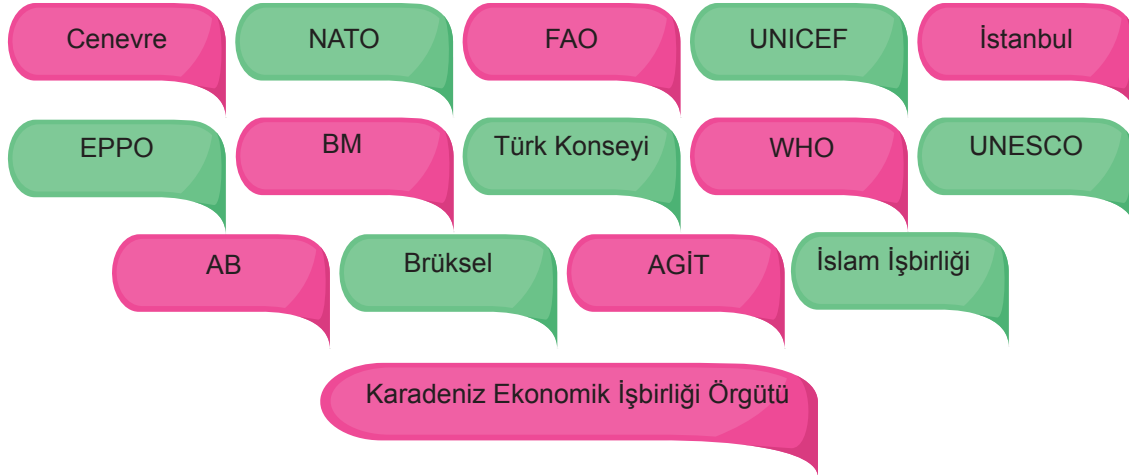
Bu kitapçık TRABZON Ölçme Değerlendirme Merkezi
tarafından hazırlanmıştır.



1. Aşağıdaki ifadelerden doğru olanların başına “D”, yanlış olanların başına “Y” yazınız.

1. () Avrupa insan hakları mahkemesi Birleşmiş Milletlere bağlı bir kuruluştur.
2. () UNESCO 1981 yılını Atatürk'ün 100. doğum günü nedeniyle “Dünya Barış Yılı” ilan etmiştir.
3. () Türk Silahlı Kuvvetleri NATO bünyesinde Afganistan, Bosna-Hersek, Kosova vb. birçok ülkede barış gücü olarak görev almıştır.
4. () Birleşmiş Milletler Gıda ve Tarım Örgütü'nün kısaltılmışı UNEP'dir
5. () UNICEF Dünyadaki tüm çocukların sağlık, eğitim ve güvenliği için mücadele eder.
6. () Temel amacı insanların hayat standartını ve beslenme düzeyini yükseltmek, açlığı önlemek olan FAO' nun çalışma alanlarından biri de tarım, ormancılık ve balıkçılığı daha sürdürülebilir hale getirmektir.
7. () Ülkemizin, Avrupa Birliği'ne tam üyelik çalışmaları hâlen devam etmektedir.
8. () Birleşmiş Milletler, Türkiye'nin üyesi olduğu bölgesel bir kuruluştur.
9. () Dış politikamız, Mustafa Kemal Atatürk tarafından belirlenen “Yurtta barış, dünyada barış.” ilkesi doğrultusunda yürütülmektedir.
10. () UNESCO, dünyadaki bütün çocukların güvenlik, sağlık, eğitim gibi her türlü haklarını korumaktadır.
11. () Karadeniz Ekonomik İşbirliği Teşkilatının kuruluşuna Türkiye öncülük etmiştir.
12. () Türkiye, Petrol İhraç Eden Ülkeler Örgütü (OPEC) üyelerindendir.
13. () Birleşmiş Milletlerin (BM) kuruluş amacı üye ülkelerin ekonomik faaliyetlerini güçlendirmektir.
14. () Türkiye, askeri örgütler arasında gösterilebilecek olan NATO 'nun bir (Kuzey Atlantik Antlaşması Örgütü) üyesidir.
15. () Karadeniz Ekonomik İşbirliği Örgütünün Merkezi Paris'tedir.
16. () BM, üyeleri arasında ortak para birimi kullanılan bir örgüttür.
17. () İslam İşbirliği Teşkilatı sadece Arap ülkelerinin üye olabildiği bir iş birliği teşkilatıdır.
18. () TANAP projesinin amacı, Azerbaycan'da üretilen doğal gazın öncelikle Türkiye'ye, ardından Avrupa'ya taşınmasıdır.
19. () Ayrımcılık ön yargıların sonucunda ortaya çıkar.
20. () Farklılıklara saygılı olmak ve onları kabullenmek, kalıp yargıların yıkılmasını sağlar.
21. () Kalıp yargılar çoğunlukla gerçeğe dayanır.

2. Verilen kelimeleri kullanarak cümlelerdeki boşlukları doldurunuz.



1. BM'nin Avrupa'daki merkezi 'dir.
2. Türkiye 1950 yılındaki Kore Savaşı'ndan sonra 1952 yılında 'ya üye olmuştur.
3. Türk dili konuşan ülkeler arasında işbirliğini geliştirmek amacıyla 2009 yılında merkezli olarak kurulmuştur.
4. Akdeniz bölgesindeki bitkileri her türlü zararlı unsur ve hastalıklara karşı korumak için kurulmuştur.
5. Salgın hastalıklara karşı mücadele eden uluslararası kuruluş 'dur.
6. Birleşmiş Milletler'in eğitim, bilim ve kültür alanında faaliyet gösteren kuruluşunun adı 'dur.
7. İslam dünyasının hak ve çıkarlarını korumak, teşkilata üye devletler arasında iş birliğini ve dayanışmayı güçlendirmek amacıyla teşkilatı kurulmuştur.
8. , Avrupa devletlerinin aralarındaki iş birliğini geliştirmek amacıyla kurulmuştur.
9. 24 Ekim 1945'te dünya barışını, güvenliğini korumak ve uluslararası ekonomik, toplumsal ve kültürel iş birliği sağlamak için kurulmuştur.
10. Dünyadaki bütün çocukların güvenlik, sağlık, eğitim gibi her türlü haklardan yararlanmalarını sağlamak ve bu haklarını korumak ve onları kollamak amacıyla kurulmuştur.
11. açlığı yok etmek ve beslenme şartlarını iyileştirmek amacıyla kurulmuştur.
12. amacı; üye ülkelerin coğrafi yakınlıklarından ve ekonomilerinin birbirlerini tamamlayıcı özelliklerinden yararlanarak ticari, ekonomik, bilimsel ve teknolojik iş birliğini geliştirmektir.

3.

Dünyada, gelişen teknoloji ve nüfus artışı, çeşitli enerji kaynaklarına olan ihtiyacın artmasına sebep olmuştur. Ülkeler, ihtiyaç duydukları enerji miktarını kendi kaynakları ile sağlayamadığı için çeşitli enerji kaynakları arayışına girmişlerdir. Bu durum, karşımıza enerji ticaretinin önemini çıkarmıştır. Günümüzdeki küresel enerji ticaretine bakıldığında Türkiye; Ortadoğu, Hazar Bölgesi, Rusya ve Orta Asya gibi petrol ve doğalgaz bakımından zengin bölgeler ile bu kaynaklara ithalat bağımlılığı yüksek olan Avrupa ülkelerinin yer aldığı coğrafyanın ortasında bulunmaktadır.

Verilen duruma göre Türkiye'nin sahip olduğu konumu göz önüne alarak enerji ticaretindeki rolünü açıklayınız.

.....

.....

.....

.....

.....

4. Aşağıda verilen Türkiye'nin üyesi olduğu uluslararası kuruluşları bulmacadan işaretleyiniz.

NATO

DÜNYA
SAĞLIK
ÖRGÜTÜ

TÜRK
KONSEYİ

GIDA VE
TARIM
ÖRGÜTÜ

BİRLEŞMİŞ
MİLLETLER

DÜNYA
TİCARET
ÖRGÜTÜ

ÇEVRE
PROGRAMI

DÜNYA
BANKASI

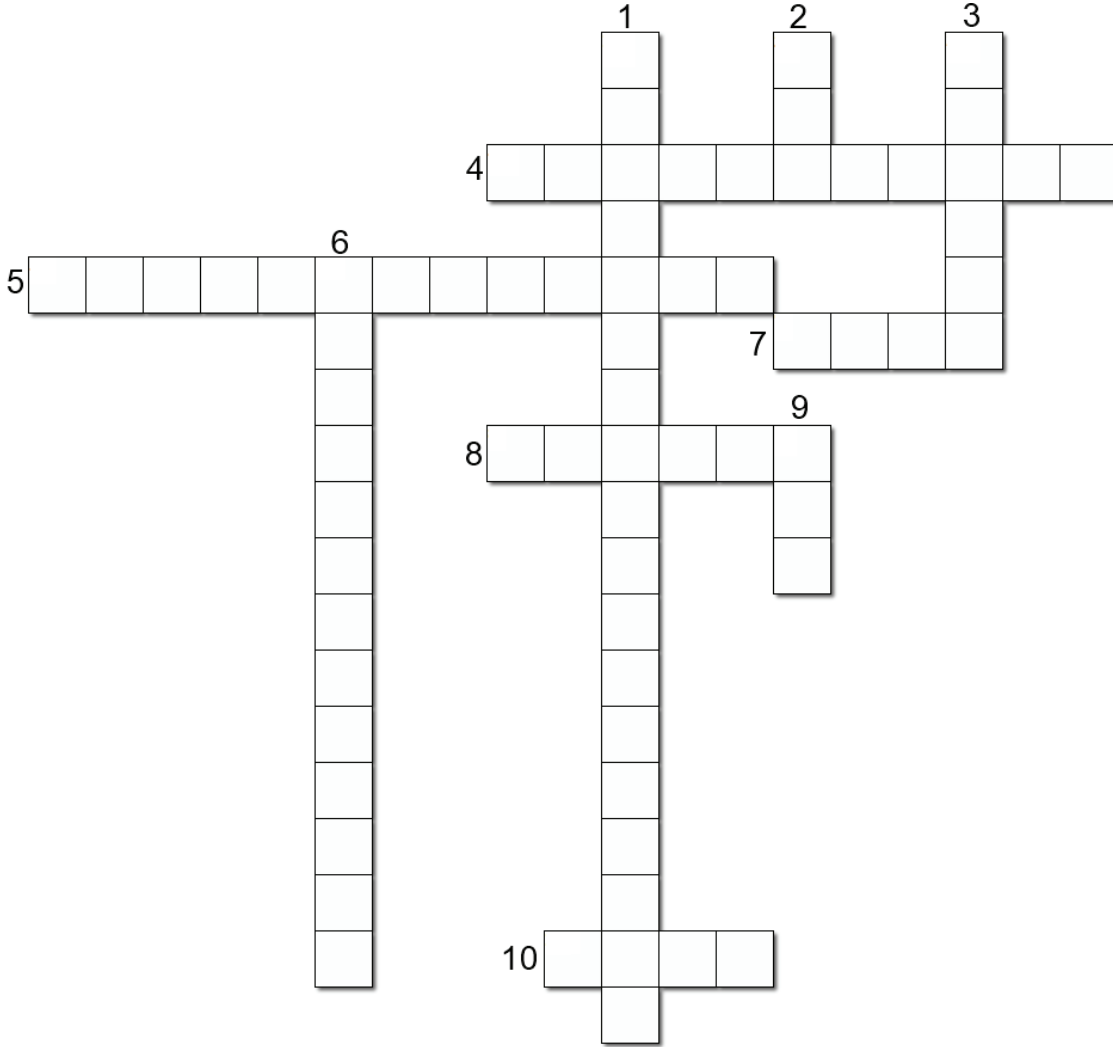
UNESCO

UNHCR

EPPO

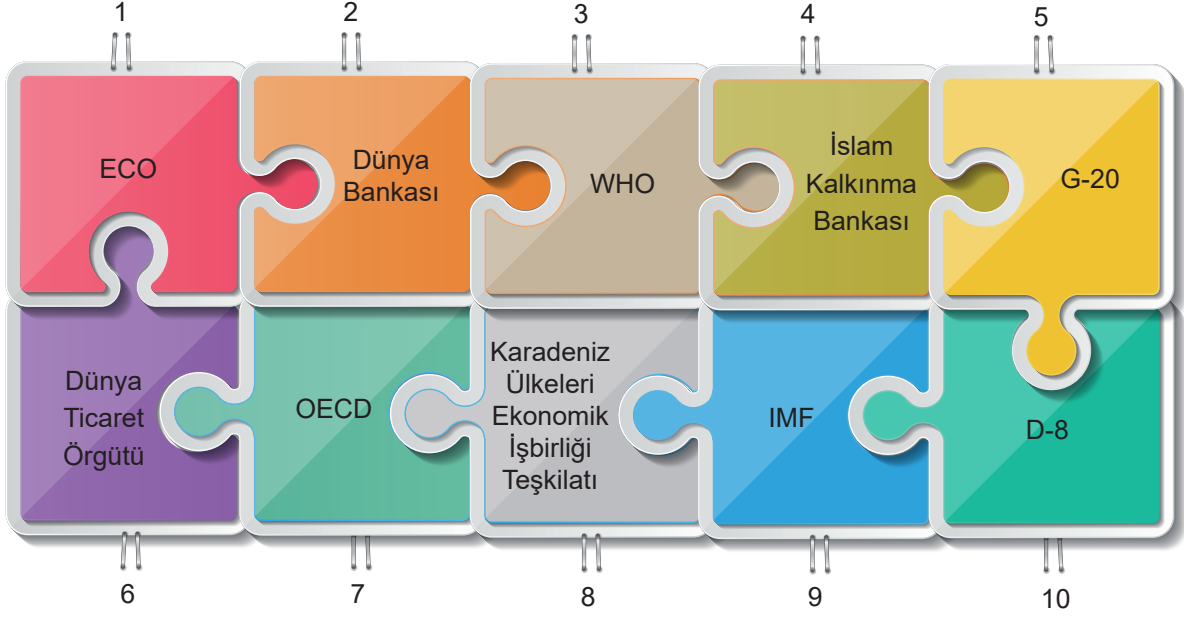
D	D	Ü	N	Y	A	B	A	N	K	A	S	I	O	A	B	T	Ç	Ç
Ü	L	K	Ü	M	M	İ	K	Ö	S	E	E	C	O	K	J	Ş	Ç	E
Y	Z	C	V	N	K	R	Y	E	S	N	S	Ö	İ	Ğ	O	İ	Ğ	V
A	A	B	C	T	N	L	M	I	P	E	R	O	İ	İ	Ü	İ	P	R
B	T	Y	U	I	P	E	Ğ	Ü	N	İ	Ç	M	N	B	V	Z	Ş	E
N	E	E	R	R	Y	Ş	Y	U	P	P	T	Y	R	T	R	Y	J	P
Ü	T	Ü	G	R	Ö	M	I	R	A	T	E	V	A	D	I	G	T	R
T	R	A	B	O	N	İ	Y	E	S	N	O	K	K	R	Ü	T	T	O
S	F	F	G	H	J	Ş	K	L	Ş	Z	C	V	B	N	M	Ö	Ç	G
B	D	A	B	G	H	M	İ	L	L	E	T	T	V	C	U	J	K	R
D	Ü	N	Y	A	T	İ	C	A	R	E	T	Ö	R	G	Ü	T	Ü	A
Ü	H	J	K	O	Ş	L	F	Z	P	A	U	İ	İ	Ğ	Ğ	A	Y	M
N	Y	T	T	T	T	L	Ü	R	U	U	Z	E	S	S	O	R	P	İ
Y	A	R	O	K	R	E	L	R	N	J	E	P	P	O	R	İ	O	N
A	T	T	P	L	Z	T	K	T	I	R	Y	U	Y	E	M	M	T	A
M	A	İ	Y	T	U	L	E	A	C	D	N	N	A	T	U	J	N	O
N	R	C	G	R	Y	E	T	E	E	R	E	H	M	T	N	K	T	T
Y	İ	A	U	J	U	R	S	A	F	F	P	C	R	G	B	L	Y	T
D	Ü	N	Y	A	S	A	Ğ	L	İ	K	Ö	R	G	Ü	T	Ü	İ	O

5. Aşağıda verilen soruların cevaplarını bulmacadaki yerlerine yazınız.



1. Türkiye'nin üyesi olduğu bir kuruluştur. 2. Dünya Savaşı'ndan sonra barış ve güvenliği sağlamak, ülkeler arasında dostane ilişkiler kurmak, ekonomik ve sosyal iş birliği sağlamak amaçlarıyla 1945 yılında kurulmuştur.
2. Uluslararası düzeyde sağlık alanında çalışmalar yapmak ve hastalıklarla mücadele etmek amacıyla kurulmuştur.
3. Eğitim, bilim, kültür ve haberleşme alanlarında uluslararası iş birliği sağlamak amacıyla kurulmuştur.
4. Türk dünyasının tarihî ve kültürel birikimlerinden en geniş şekilde yararlanılmak suretiyle Türk dili konuşan ülkeler arasındaki çok taraflı iş birliğinin geliştirilmesi amacıyla 2009 yılında İstanbul'da kurulmuştur.
5. Kuruluşun amacı, insan haklarını, demokrasiyi korumak ve güçlendirmek, ırkçılık ve yabancı düşmanlığı, sosyal dışlanma, uyuşturucu madde ve çevre sorunlarına çözüm aramaktır.
6. Avrupa devletlerinin aralarındaki iş birliğini geliştirmek amacıyla kurulmuştur. Kuruluş ile ülkemiz arasında 1963 yılında imzalanan Ortaklık Anlaşması'yla üyelik temelleri atılmıştır. Ülkemizin tam üyelik çalışmaları hâlen devam etmektedir. 28 ülkeden oluşan kuruluş, dünya üzerindeki en büyük siyasi ve ekonomik örgütlenmedir.
7. İkinci Dünya Savaşı'ndan sonra 1949 yılında kurulmuştur. Üye sayısı günümüzde 30 olan kuruluşa Türkiye 1952 yılında kabul edilmiştir.
8. Dünyadaki bütün çocukların güvenlik, sağlık, eğitim gibi her türlü haklardan yararlanmalarını sağlamak ve bu haklarını korumak amacıyla kurulmuştur.
9. İnsanların hayat standardını ve beslenme düzeyini yükseltmek, yetersiz beslenmeyi önlemek amacıyla kurulmuştur.
10. Amacı 37 üye ülkenin ekonomik, sosyal sorunlarını çözmek, ekonomik büyüme, mali istikrar, ticaret, yatırım, teknoloji, yenilik, girişimcilik ve kalkınma alanlarında iş birliği yoluyla refahı sağlamaktır.

6. Verilen yapbozdaki parçalardan birini çıkarırsak geriye sadece Türkiye'nin üyesi olduğu uluslararası ekonomik kuruluşlar kalacaktır. Çıkarılması gereken parçayı bulup aşağıdaki boşluğa yazınız.



Cevap:

7. Aşağıda verilen görsellerin hangi küresel sorunla ilgili olduğunu yazınız.



1.



2.



3.



4.



5.



6.

8. Aşağıda verilen Teşkilat adlarını ait oldukları amblemlerle eşleştiriniz.

1.  Dünya Sağlık Örgütü (WHO)
2.  İslam İşbirliği Teşkilatı (İİT)
3.  Birleşmiş Milletler (UN)
4.  Birleşmiş Milletler Eğitim Bilim ve Kültür Örgütü
5.  Akdeniz İçin Birlik (AİB)
6.  Birleşmiş Milletler Dünya Turizm Örgütü
7.  Gelişen Sekiz Ülke
8.  Ekonomik İş Birliği Teşkilatı (EİT)
9.  İktisadi İş Birliği ve Gelişme Teşkilatı
10.  Karadeniz Ekonomik İşbirliği Örgütü



a



b



c



d



e



f



g



h



i



j

ASKIDA MEKTUP VAR !



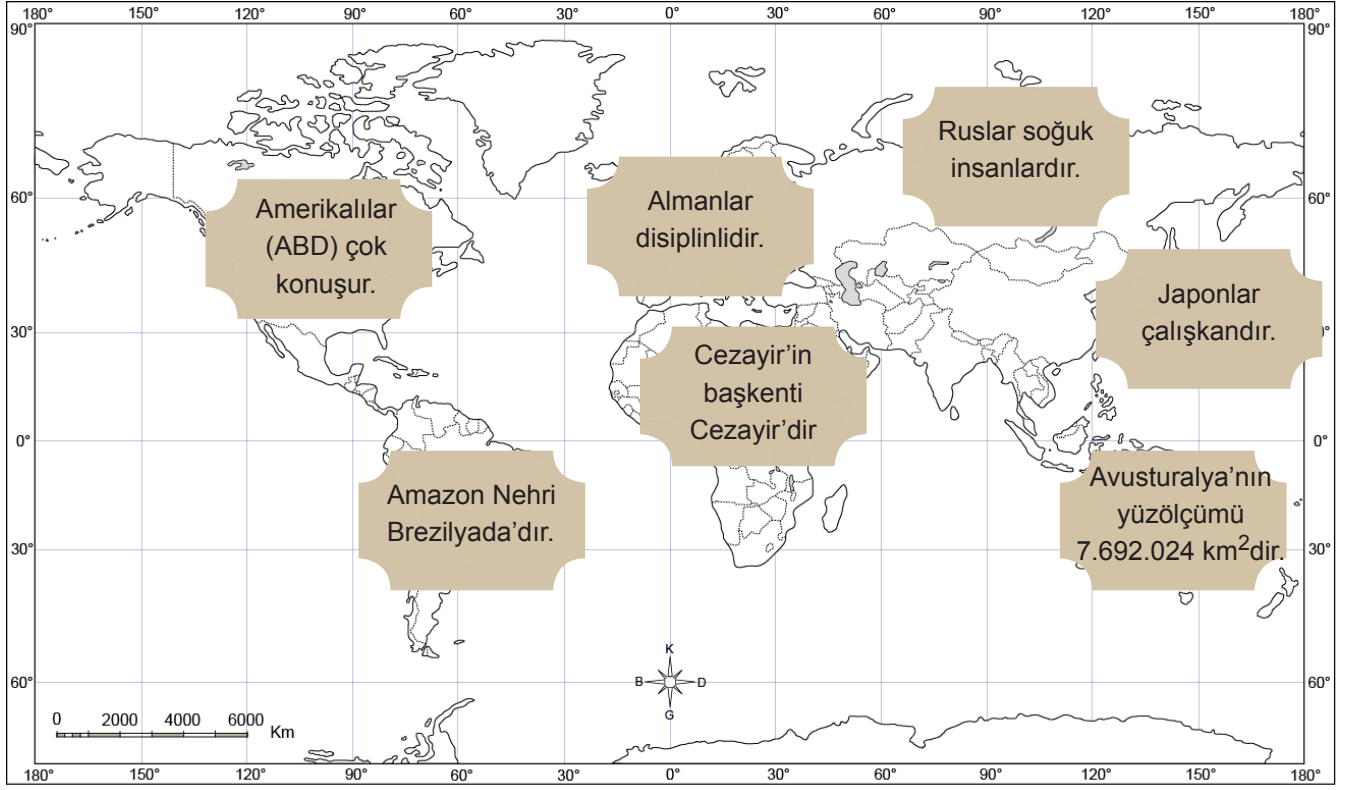
Kendisini "gönüllü Afrika fotoğrafçısı" olarak tanımlayan gönüllü, "Askıda Mektup Var" projesi ile Türkiye'deki çocukların yazdıkları mektupları Afrika'daki çocuklara ulaştırarak "gönül" postacılığı yapıyor.

"Bu proje, Afrika'daki çocukların, aynı zamanda Türkiye'deki çocukların da gönlüne dokunuyor. Çocuklar, mektubun köşesine ay yıldızlı bayrağımızı çok güzel bir şekilde çizdiler. Mektuplara, en sevdikleri oyuncakları, en önemlisi yaşadıkları şehre ait fotoğraflar koydular. Hayatında bir saat uzaklıktaki şehir merkezine gitmemiş, dünyası tamamen köyden ibaret bir çocuk, Türkiye diye bir yerin varlığından haberdar oluyor. Artık onun için dünya o köyden ibaret değil. Böylece hem bu mektubu okuyan çocuğun hem de mektubu yazan çocuğun gönlüne dokunuyoruz. 8 yaşında bir çocuk mektup yazıp Afrika'ya gönderdiğinde artık onun için Afrika çok farklı bir yer oluyor."

"Gönüllü postacı", kendisini etkileyen durumlardan birinin, çocukların mektupların içerisine yaşıtlarına hediye alınması için harçlıklarından bir miktar para koymas $\acute{\imath}$ olduğunu sözlerine ekledi.

Verilen gazete haberine göre gönüllü Afrika fotoğrafçısının yaptığı bu projenin kültürler arası bağlantılar açısından önemini açıklayınız.

10. Sencer öğretmen Sosyal Bilgiler dersinde öğrencilerine kalıp yargılar konusunu anlattıktan sonra dünya haritasını gösterir ve hangi ülke için yazılan bilgilerin kalıp yargı olduğunu öğrencilerine sorar.



Siz de yukarıdaki haritadan yararlanarak verilen bu ülkelerle ilgili söylenenlerin hangilerinin kalıp yargı olduğunu ilgili alanda işaretleyiniz.

ÜLKELER	Kalıp yargı
Brezilya	
Japonya	
Rusya	
Almanya	
Avustralya	
Cezayir	
Amerika (ABD)	

11. Vahşi çöp depolama katı atıkların genellikle yerleşim bölgelerinden uzak açık alanlara gelişigüzel bırakılmasıdır. Verilen resimde günümüzün önemli çevre sorunlarından vahşi çöp depolama alanı gösterilmektedir.



Bu çevre sorununun çözülmesinde aşağıdaki görsellerden hangilerinin kullanılması faydalı olacaktır?



1.



2.



3.



4.



5.

Arakanlı Müslümanlara Etnik Temizlik

Myanmar'ın Arakan eyaletinde 2012'de Budistler ile Müslümanlar arasında çatışmalar çıkmış, olaylarda çoğu Müslüman binlerce kişi katledilmiş, yüzlerce ev ve iş yeri ateşe verilmişti. Arakan'daki sınır karakollarına 25 Ağustos 2017'de düzenlenen eş zamanlı saldırıları gerekçe gösteren Myanmar ordusu ve Budist milliyetçiler, kitlesel şiddet eylemleri başlatmıştı. BM'ye göre, Ağustos 2017'den sonra Arakan'daki baskı ve zulümden kaçıp Bangladeş'e sığınanların sayısı 900 bine ulaştı. Uluslararası insan hakları kuruluşları, yayınladıkları uydu görüntüleriyle yüzlerce köyün yok edildiğini kanıtlamıştı. BM ve uluslararası insan hakları örgütleri, Arakanlı Müslümanlara yönelik şiddeti "insanlık suçu" olarak adlandırıyor.

a. Arakan'da yaşanan olayları nasıl değerlendiriyorsunuz?

b. Arakanlı Müslümanlara yapılan katliamları önlemek için neler yapardınız?

c. Birleşmiş Milletler Genel Sekreterine bu konu ile ilgili bir mektup yazabilme imkanınız olsaydı ne yazmak isterdiniz?

13. Aşağıda verilen fotoğraları inceleyiniz. II. fotoğrafta oluşan durumun sebeblerini I. fotoğrafa göre yorumlayınız.



I. fotoğraf



II. fotoğraf

.....

.....

.....

.....

.....

14. Verilen görsellerden hangileri küresel iklim değişikliğinin sonuçlarındandır?




1.



2.



3.



4.



5.



6.

15. Aşağıdaki kutucuklarda çeşitli kavramlar verilmiştir. Kutucuk numaralarını kullanarak soruları cevaplayınız.

Birleşmiş
Milletler

1

Doğal afetler

2

G20 Ülkeleri

3

Küresel İklim
Değişikliği

4

Açlık

5

Avrupa
Konseyi

6

Terör

7

Gelişen
Sekiz Ülke
(D-8)

8

Özelleştirme
ve
genelleştirme

9

Canlı
yaşamının
olumsuz
etkilenmesi

10

Türk
Konseyi

11

Karadeniz
Ekonomik
İşbirliği
Teşkilatı

12

Altyapı
hizmetlerinin
yetersiz
kalması

13

Kuzey
Atlantik
Anlaşması
Örgütü
(NATO)

14

Göç

15

a.

Hangileri
Türkiye'nin üye
olduğu uluslararası
kuruluşlardandır?

b.

Hangileri
üye ülkeler
ile ekonomik
alandaki işbirliğini
amaçlayan
kuruluşlardandır?

c.

Hangileri küresel
sorunların ortaya
çıkardığı
sonuçlardandır?

d.

Hangileri kalıp
yargıların
nedenlerindendir?

e.

Hangileri küresel
sorunlardandır?

16.

Sümela Manastırı daimi listede yer alsın



Dünya Kültür Mirası Geçici Listesinde yer alan Sümela Manastırı, Doğu Karadeniz'de turistlerin ilk ziyaret ettiği mekanların başında geliyor.

Dünya Kültür Mirası Geçici Listesinde yer alan Sümela Manastırı, Doğu Karadeniz'de turistlerin ilk ziyaret ettiği mekanların başında geliyor. Trabzon'un Maçka ilçesinde Karadağ'ın Altındere Vadisi Milli Parkı'na bakan dağın eteğine kurulan manastır tasarım, mimarlık ve eşsiz doğasıyla ziyaretçilerini büyülüyor. Çok önemli bir kültür ve doğa hazinesi olan Sümela Manastırı için Dünya Kültür Mirası daimi listesine alınması için çalışmalar başlandı.

Haberde yer alan Dünya Kültür Mirası listelerini oluşturan kuruluş aşağıdakilerden hangisidir?

- A) WHO B) FAO
C) UNESCO D) UNICEF

17. Birleşmiş Milletler 'e bağlı kuruluşlarından biri olan FAO (Gıda ve Tarım Örgütü) 16 Ekim 1945 tarihinde kurulmuştur. Bu kuruluşun amacı dünyadaki gıda ve tarım ile ilgili çalışmaları organize edip geliştirmek ve gıda güvenliğini sağlamaktır. FAO dünyada 130 dan fazla ülkede faaliyetlerini sürdürmektedir. Ülkemiz 1948 tarihinde FAO'ya üye olmuştur.

Buna göre aşağıdakilerden hangisi FAO'nun çalışmaları arasında yer alır?

- A) Tarımsal üretimi iyileştirmek
B) Ülkeler arası siyasi ilişkileri düzenlemek
C) Üyelerine uzun ve kısa vadeli kredi vermek
D) Uluslararası ticari ilişkileri geliştirmek

18. Ülkeler; kendi güvenliklerini korumak, dünyada barış ve huzur ortamını sağlamak, komşu ve diğer ülkelerle işbirliği yapmak amacıyla uluslararası örgütlere üye olurlar. Ülkemiz de kendi çıkarlarını korumak, bölgesinde söz sahibi olmak ve dünya barışının sağlanmasına katkıda bulunmak amacıyla farklı örgütlere üye olmuştur. Birleşmiş Milletler, Kuzey Atlantik Anlaşması Örgütü (NATO), Avrupa Konseyi bunlardan bazılarıdır.

Aşağıdakilerden hangisi uluslararası örgütlere üye olmanın ülkemize sağlayacağı katkılardan biri olamaz?

- A) Karşılaşılan sorunlarda diğer ülkelerle birlikte çalışabilmek
B) Dış tehditlere karşı kendini daha kolay savunabilmek
C) Dünya barışını tek başına sağlayabilmek
D) Kendi menfaatlerini daha etkin koruyabilmek

19. Birleşmiş Milletler, 2. Dünya Savaşı'ndan sonra barış ve güvenliği sağlamak, ülkeler arasında dostane ilişkiler kurmak, ekonomik ve sosyal iş birliği sağlamak amacıyla kurulmuştur. Birleşmiş Milletler çatısı altında farklı amaçlarla kurulmuş ve farklı alanlarda çalışmalar yapan alt kuruluşlar vardır. Uluslararası düzeyde sağlık alanında çalışma yapmak ve hastalıklarla mücadele etmek amacıyla kurulan Dünya Sağlık Örgütü (WHO), dünyadaki bütün çocukların güvenlik, sağlık, eğitim gibi her türlü haklardan yararlanmalarını sağlamak ve bu haklarını korumak amacıyla kurulan Çocuk Yardım Fonu (UNICEF) bu alt kuruluşlardan bazılarıdır.

Verilen bilgiden hareketle Birleşmiş Milletler ile ilgili aşağıdakilerden hangisine ulaşamaz?

- A) Yalnızca sağlık ve çocuk hakları alanında çalışmalar yapmaktadır.
B) Amaçlarından biri de dünya barışını korumaktır.
C) Uluslararası düzeyde çalışmalar yürütmektedir.
D) Kurulmasında yaşanan savaş etkili olmuştur.

20. İslam Konferansı Örgütü, Müslümanların üçüncü mukaddes mabedi olan ve İsrail'in işgali altındaki Kudüs'te bulunan Mescid-i Aksa'nın, 21 Ağustos 1969 tarihinde Avustralyalı radikal bir Yahudi tarafından yakılma girişimi sonrasında İslam dünyasında uyanan tepkiler üzerine, 22-25 Eylül 1969 tarihlerinde Rabat'ta ilk kez düzenlenen İslam Zirve Konferansı'nda alınan bir kararla kurulmuştur. Örgütün ismi 28-30 Haziran 2011 tarihlerinde Astana'da düzenlenen 38. Dışişleri Bakanları Konseyi (DBK) Toplantısı'nda İslam İşbirliği Teşkilatı (İİT) olarak değiştirilmiştir.

Verilen bilgiden hareketle İslam İşbirliği Teşkilatı'yla ilgili aşağıdakilerden hangisine ulaşamaz?

- A) Teşkilatın kurulmasına İslam Zirve Konferansı'nda karar verilmiştir.
- B) İlk kurulduğunda İslam Konferansı Örgütü adı ile faaliyet göstermiştir.
- C) İslam İşbirliği Teşkilatı adını 2011 yılında gerçekleşen Dışişleri Bakanları Konseyi toplantısında almıştır.
- D) Teşkilatın kurulmasına tepki olarak İsrail Kudüs'ü işgal etmiştir.

21. Barış ve güvenliği sağlamak, ülkeler arasında dostane ilişkiler kurmak, ekonomik ve sosyal iş birliği sağlamak amacıyla 1945 yılında kurulan Birleşmiş Milletler Cemiyeti'nin 2021 yılı itibarıyla 193 üyesi bulunmaktadır. Türkiye'nin kurucu üyesi olduğu cemiyetin Amerika'daki merkezi New York'ta (Niv York), Avrupa'daki merkezi ise Cenevre'dedir. Birleşmiş Milletler çatısı altında farklı amaçlarla kurulmuş ve farklı alanlarda çalışmalar yapan kuruluşlar vardır.

Metinden hareketle Birleşmiş Milletler ile ilgili aşağıdaki çıkarımlardan hangisi doğru değildir?

- A) Birleşmiş Milletler Cemiyeti'nin etkinlik alanı uluslararasıdır.
- B) Cemiyet, farklı alanlarda hizmet vermektedir.
- C) Askeri amaçlı kurulan uluslararası bir cemiyettir.
- D) Farklı ülkelerde merkezi temsilcilikleri bulunmaktadır.

22. Türkiye'nin Avrupa Birliği'ne (AB) üyelik süreci, 31 Temmuz 1959'da yaptığı ortaklık başvurusu ile başlamıştır. 12 Eylül 1963 tarihinde imzalanıp 1 Aralık 1964 tarihinde yürürlüğe giren Ankara Antlaşması ile üyelik koşulları gerçekleşinceye kadar geçerli olacak bir ortaklık anlaşması hayata geçirilmiştir. 10-11 Aralık 1999 tarihlerinde Helsinki'de yapılan AB Devlet ve Hükümet Başkanları Zirvesi'nde Türkiye'nin adaylığı resmen onaylanmış ve diğer aday ülkelerle eşit konumda olacağı açık ve kesin bir dille ifade edilmiştir. 3 Ekim 2005 tarihinde Lüksemburg'da yapılan hükümetler arası konferans ile Türkiye resmen AB'ye katılım müzakerelerine başlamıştır.

Türkiye'nin Avrupa Birliği'ne üyelik süreci ile ilgili verilen bilgiler incelendiğinde aşağıdaki sorulardan hangisinin cevabına ulaşamaz?

- A) Türkiye'nin AB üyelik süreci ne zaman başlamıştır?
- B) Türkiye'nin AB'ye üyeliği ne zaman resmen onaylanmıştır?
- C) Türkiye ile AB arasında ortaklık antlaşması ne zaman başlamıştır?
- D) Türkiye AB'ye katılım müzakerelerine ne zaman başlamıştır?

23. Kuzey Atlantik Anlaşması Örgütü (NATO) 1949 yılında kurulmuştur. Üye sayısı günümüzde otuz olan NATO'ya Türkiye 1952 yılında kabul edilmiştir. NATO'nun asli görevi, üye ülkelerin özgürlük ve güvenliklerini korumaktır. NATO'nun merkezi, örgütün Kuzey Amerika ve Avrupa'daki 30 üyesinden biri olan Belçika'nın başkenti Brüksel'de bulunmaktadır.

Metindeki bilgiler dikkate alındığında NATO ile ilgili aşağıdakilerden hangisi çıkarabilir?

- A) Kuruluşun esas amacı üye ülkelerin güvenliğini sağlamaktır.
- B) Türkiye bu kuruluşun kurucu üyelerinden biridir.
- C) Üye ülkeleri sadece Avrupa Kıtası'ndaki devletlerdir.
- D) NATO günümüzde yeni üye kabul etmemektedir.

- 24.** Günümüzde varolan pek çok uluslararası kuruluş kendi alanlarında önemli çalışmalarda bulunmaktadır.

Buna göre aşağıdakilerden hangisi bu kuruluşların faaliyet göstereceği bir alan değildir?

- A) İnsan haklarını ihlallerini belirlemek
- B) Küresel sorunlarla mücadele etmek
- C) Gelişmemiş ülkelerin kaynaklarını sömürmek
- D) Savaş gibi olumsuz durumlar karşısında düzeni sağlamak

- 25.**



Trabzon Ölçme Değerlendirme Merkezi

- Verilen habere göre aşağıdakilerden hangisi söylenmez?

- A) Türkiye projede önemli bir kavşak konumundadır.
- B) Demir İpek Yolu, geçtiği ülkelerin ekonomisine katkı sağlayacaktır.
- C) Proje, Asya ve Amerika kıtalarını ekonomik olarak birbirine bağlayacaktır.
- D) Türkiye'nin demir yolu ile Çin'e erişimini sağlayacaktır.

- 26. Türk Konseyi 2009 yılında;**

- Türk dili konuşan devletler arasında bilim, teknoloji, eğitim ve kültür alanlarında etkileşimi arttırmak,
- Taraflar arasında karşılıklı güveni güçlendirmek,
- Bölgede ve bölge dışında barışı korumak gibi amaçlarla kurulmuştur.

Buna göre Türk Konseyi'nin;

- I. Türk devletleriyle kültürel bağları güçlendirmek,
- II. üye ülkeler arasında ticari faaliyetleri arttırmak,
- III. bölge ve dünya barışına katkıda bulunmak

**amaçlarından hangilerini gerçekleştirmeye çalıştığı
söylenbilir?**

- A) Yalnız II B) I ve III
C) II ve III D) I, II ve III

27. Gelişen Sekiz Ülke (D-8)'in kurulmasına yönelik ilk adım, Türkiye'nin daveti üzerine İran, Pakistan, Bangladeş, Malezya, Endonezya, Mısır ve Nijerya'nın katılımıyla 22 Ekim 1996 tarihinde İstanbul'da düzenlenen Kalkınmada İşbirliği Konferansı'nda atılmıştır. Bu konferansın ardından 15 Haziran 1997 tarihinde İstanbul'da yapılan Devlet/Hükümet Başkanları Zirvesi ile D-8 resmen kurulmuştur. D-8' in amacı üye devletlerin küresel ekonomideki pozisyonunu güçlendirmek, ticaret ilişkilerinde bu ülkelere yeni fırsatlar yaratmak ve ticareti çeşitlendirmek, uluslararası düzeyde karar alma sürecine katılım sağlamak ve yaşam standartlarını güçlendirmektir.

Verilen bilgiye göre aşağıdakilerden hangisi D-8'in kuruluş amaçları arasında gösterilemez?

- A) Üye ülkelerin dünya ekonomisi içindeki durumlarını güçlendirmek
- B) Üyelerin ticaret faaliyetlerini çeşitlendirmelerine katkı sağlamak
- C) Diğer ülkelere karşı güvenliği sağlamak için işbirliği yapmak
- D) Üyelerine ticari ilişkilerde yeni fırsatlar yaratmak

28. Avrupa Konseyi'nin amaçları, insan haklarını korumak, demokrasiyi güçlendirmek, ırkçılık, yabancı düşmanlığı ve sosyal dışlanmaya son vermek ve çevre sorunlarına çözüm aramaktır.

Verilen bilgilere göre konseyin etkinlik alanları içerisinde aşağıdakilerden hangisi olamaz?

- A) Sosyal eşitsizliği ortadan kaldırmak
- B) Kültürel çatışmaları derinleştirmek
- C) İnsanlarda çevre bilincini oluşturmak
- D) Demokrasi kültürünü geliştirmek

29. • "Türkiye'nin güvenliğini gaye tutan, hiçbir milletin aleyhinde olmayan bir barış istikameti bizim daima prensibimiz olacaktır."
• "Yurtta barış, dünyada barış"

Verilen sözlerden hareketle hangisi Mustafa Kemal ATATÜRK'ün dış politika anlayışına ters düşer?

- A) Topraklarımızı genişletmek
- B) Dünya barışına katkıda bulunmak
- C) Diğer devletler ile barış içerisinde olmak
- D) Uluslararası ilişkilerde eşitliği esas almak

30. Kalıp yargılar, kanıtlanamayan inançlara dayanan, tahmini ve duygusal, yanlış ya da gerçeğin tamamını göstermeyen, herhangi bir kişi hakkında kısa yoldan bilgi edinmeyi sağlayan, toplumda sorgulanmadan hızlı biçimde yayılan, olumlu veya olumsuz nitelendirmelerdir.

Metindeki tanıma göre kalıp yargıların nedeni aşağıdakilerden hangisi olamaz?

- A) Önyargılı yaklaşımda bulunmak
- B) Yeterince araştırma yapmamak
- C) Yanlış değer yargılarına sahip olmak
- D) İnsanlara hoşgörülü yaklaşmak

31. Türkiye, Akdeniz'i Karadeniz'e bağlayan, Balkanlar, Kafkaslar ve Orta Doğu'yu birleştiren bir köprü konumundadır. Yüzyıllarca farklı medeniyetlerin beşiği olan Türkiye, doğu ve batı kültürünü sentezleyen bir bölge olmakla beraber, tüm Türk Dünyası'nın da merkezindedir. Gelişen ekonomisi, iç ve dış dinamikleriyle, hâli hazırda bölgede istikrarlı bir duruş sergilemesi ve çoğu kez de ülkeler arası denge unsuru olması ile de bu önemli konumunu güçlendirmekte olan Türkiye, aynı zamanda çok sayıda uluslararası kuruluşu üyedir.

Verilenlere göre Türkiye'nin durumu ile ilgili olarak aşağıdakilerden hangisi söylenbilir?

- A) Türkiye yalnızca askeri örgütlere üyedir.
- B) Coğrafi konumu, tarihi geçmişi ve potansiyeli ile stratejik bir öneme sahiptir.
- C) Dünyada en fazla kuruluşu üye olan ülke Türkiye'dir.
- D) Ekonomisini geliştirmek için çok sayıda kuruluş ile işbirliği yapmaktadır.

32.



Verilen görselde önyargı ile ilgili olarak anlatılmak istenen hangisidir?

- A) Ön yargılar insanları birbirine yaklaştırır.
- B) İnsanların dış görünüşüne bakarak ön yargıya sahip olmalıyız.
- C) İnsanları dış görünüşüne göre değerlendirmemeliyiz.
- D) İnsanların dış görünüşleri kimliklerini ele verir.

33.

Türk Destanı “Dede Korkut” Dünya Somut Olmayan Kültür Mirası Temsilî Listesi’ne oy birliğiyle kabul edildi.

“ Dede Korkut Mirası Destan, Masal ve Müzik” çok uluslu dosyası, Dünya Somut Olmayan Kültür Mirası Temsilî Listesi’ne oy birliğiyle kabul edildi. Türk dünyasının yüzlerce yıllık kültürel kimliğinin taşıyıcısı ve ortak mirası olan Dede Korkut etrafında şekillenen destan, masal ve müzik geleneği, Türkiye’nin başta kuzeydoğusu olmak üzere ülke genelinde yaşatılıyor. Dede Korkut kültürünü oluşturan destan, masal ve müzik içindeki dilden dile, kuşaktan kuşağa aktarılan değerler, Türkiye’nin kültürel belleğinde canlılığını koruyor. Geçmişle bugün arasındaki kültürel bağın güçlenmesine, kültürel devamlılığın, aidiyet ve kimlik anlayışının geleceğe taşınmasına katkıda bulunuyor.

Metne göre Dede Korkut destanı ile ilgili aşağıdakilerden hangisine ulaşamaz?

- A) Destan, Somut Olmayan Kültür Mirası Temsilî listesine alınarak Türk kültürünün tarihteki izleri ortaya çıkarılmıştır.
- B) Yapılan çalışma ile Türklerin insanlık tarihinde yeri ve Türk kültürü daha geniş kitleler tarafından tanınması sağlanacaktır.
- C) Geçmişle bugün arasındaki kültürel bağı güçlendiren bu destanın kültür mirası listesine alınması edebi sanatlar açısından büyük önem taşır.
- D) Destan günümüze kadar varlığını sürdürememiş ve unutulmuştur.

34.

“Beni hor görme kardeşim
Sen altınsın, ben tunç muyum?
Aynı vardan var olmuşuz
Sen gümüşsün, ben sac mıyım?”

Ne var ise sende bende
Aynı varlık her bedende
Yarın mezara girende
Sen toksun da ben aç mıyım.”

Âşık Veysel’e ait halk türküsünün dizelerinde vurgulanmak istenen aşağıdakilerden hangisinde doğru olarak belirtilmiştir?

- A) Bütün insanların ölümlü olduğu
- B) Bazı insanların daha değerli olduğu
- C) İnsanların empati kurması gerektiği
- D) Bütün insanların eşit olduğu

35. Dünyada insanlığı tehdit eden çeşitli küresel sorunlar vardır. Bu tehditlerin bazıları doğrudan beşeri nedenlerle bazıları da doğal nedenlerle gerçekleşen, can ve mal kaybına neden olan büyük çaplı olaylardır.

İnsanlığı tehdit eden küresel sorunlardan hangisinin kaynağı diğerlerinden farklıdır?

- A) Sel
- B) Terör
- C) Kuraklık
- D) İklim değişikliği

36. • I. Dünya Savaşı sonucunda uluslararası barış ve güvenliği sağlamak için Milletler Cemiyeti kuruldu fakat II. Dünya savaşı çıktı.
- II. Dünya Savaşı sonrasında savaşları ve barışa yönelik tehditleri önlemek, ülkeler arasında dost ilişkiler sağlanması amacıyla Birleşmiş Milletler kuruldu ama devletlerarası sorunlar günümüzde de devam etmektedir.

Yukarıdaki açıklamalara göre kurulan uluslararası kuruluşlarla ilgili aşağıdakilerden hangisine ulaşamaz?

- A) Uluslararası kuruluşlar sorunları çözmekte yetersiz kalmaktadır.
- B) Milletler Cemiyeti görevine halen devam etmektedir.
- C) Devletlerarası sorunları çözmek için uluslararası kuruluşlar kurulmuştur.
- D) Milletler Cemiyeti yeni bir savaş çıkmasını engellememiştir.

37. Aşağıdaki seçeneklerden hangisinde uluslararası kuruluşun amacı **yanlış** verilmiştir?

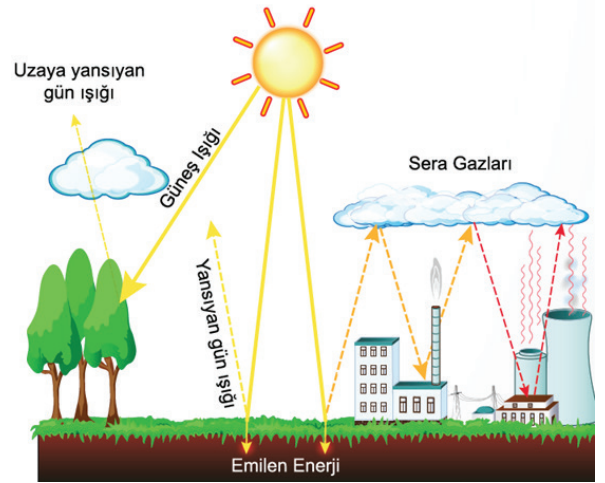
- A) Avrupa Birliği-Avrupa ülkeleri arasında işbirliğini sağlamak
- B) Karadeniz Ekonomik İşbirliği Teşkilatı-Karadeniz'e kıyısı olan ülkeler arasında işbirliği oluşturmak
- C) Akdeniz için Birlik-Akdeniz'de işbirliğini güçlendirmek
- D) Asya İşbirliği Diyaloğu-Asya ile Avrupa ülkeleri arasındaki işbirliğini geliştirmek

38. Küresel ısınma yaşam kalitemizi, ekonomik gelişmeyi ve içinde yaşadığımız çevreyi tehdit eder hale geliyor. Soluduğumuz havanın, kullandığımız suyun kirlenmesine, tabiat dengelerinin bozulmasına ve insan sağlığının bozulmasına neden oluyor.

Aşağıdakilerden hangisi küresel ısınmanın zararlarını azaltmak için yapılacak çalışmalardan biri değildir?

- A) Toplu taşıma araçları kullanılmalıdır.
- B) Fosil yakıtların kullanım oranı artırılmalıdır.
- C) Geri dönüşüme uygun ürünler tercih edilmelidir.
- D) Yenilenebilir enerji kaynakları kullanılmalıdır.

39.



Verilen görsel incelediğinde, günümüz dünya sorunlarından hangisine dikkat çekildiği söylenebilir?

- A) Açlık B) Doğal afetler
- C) Kıtık D) Küresel ısınma

40.



Arjantin Devlet Başkanı Macri: Küresel sorunlar küresel çözümler gerektirir.

Arjantin Devlet Başkanı Mauricio Macri, G-20 Liderler Zirvesi açılış konuşmasında, "Dünyaya, küresel sorunların, küresel çözümler gerektirdiğini göstermemiz gerekir." dedi.



Gazete haberindeki "Küresel sorunlar küresel çözümler gerektirir" sözüyle aşağıdakilerden hangisi vurgulanmaktadır?

- A) Küresel sorunları sadece gelişmiş ülkeler çözebilir.
- B) Dünyadaki en büyük küresel sorun açlıktır.
- C) Küresel problemlerin üstesinden ancak ülkeler arası ortak işbirliği ile gelinebilir.
- D) Küresel sorunlar çözülürken bazı ülkeler göz ardı edilmelidir.

41. Bir ürünü değerlendirirken bir ülkenin ismi, o ülke ile ilgili bilgi veren bir ipucudur ve ürün tercihinde önemli bir etkidir. Menşei ülke(üretile yer) etkisinin ardında yatan temel gerekçe aslında tüketicilerin ülkeleri ve o ülkelerdeki insanları bazı özelliklerle ilişkilendirmesi ve sahip olunan ülke çağrışımlarını o ülkelere gelen ürünlere de atfetmesidir. Örneğin; tüketicilerin, teknolojiye iyi olduğunu düşündüğü bir ülkenin ürettiği elektronik aletleri tercih etmesi

Verilen bilgilere göre,

- I. Tüketiciler ülkelere yönelik kalıp yargılara sahiptir.
- II. Kalıp yargılar ürünlere karşı tutumu etkilemektedir.
- III. Menşei ülke etkisi tüketicinin satın alma tercihlerini etkilemektedir.

yargılarından hangilerine ulaşılabilir?

- A) Yalnız I
- B) I ve II
- C) I ve III
- D) I, II ve III

42.



Yukarıdaki broşür TC Tarım ve Orman Bakanlığı ile Birleşmiş Milletler Gıda ve Tarım Örgütü (FAO) işbirliği ile "Gıdanı Korum-Sofrana Sahip Çık" isimli kampanyaya aittir.

Buna göre kampanya ile dikkat çekilmek istenen küresel sorun aşağıdakilerden hangisidir?

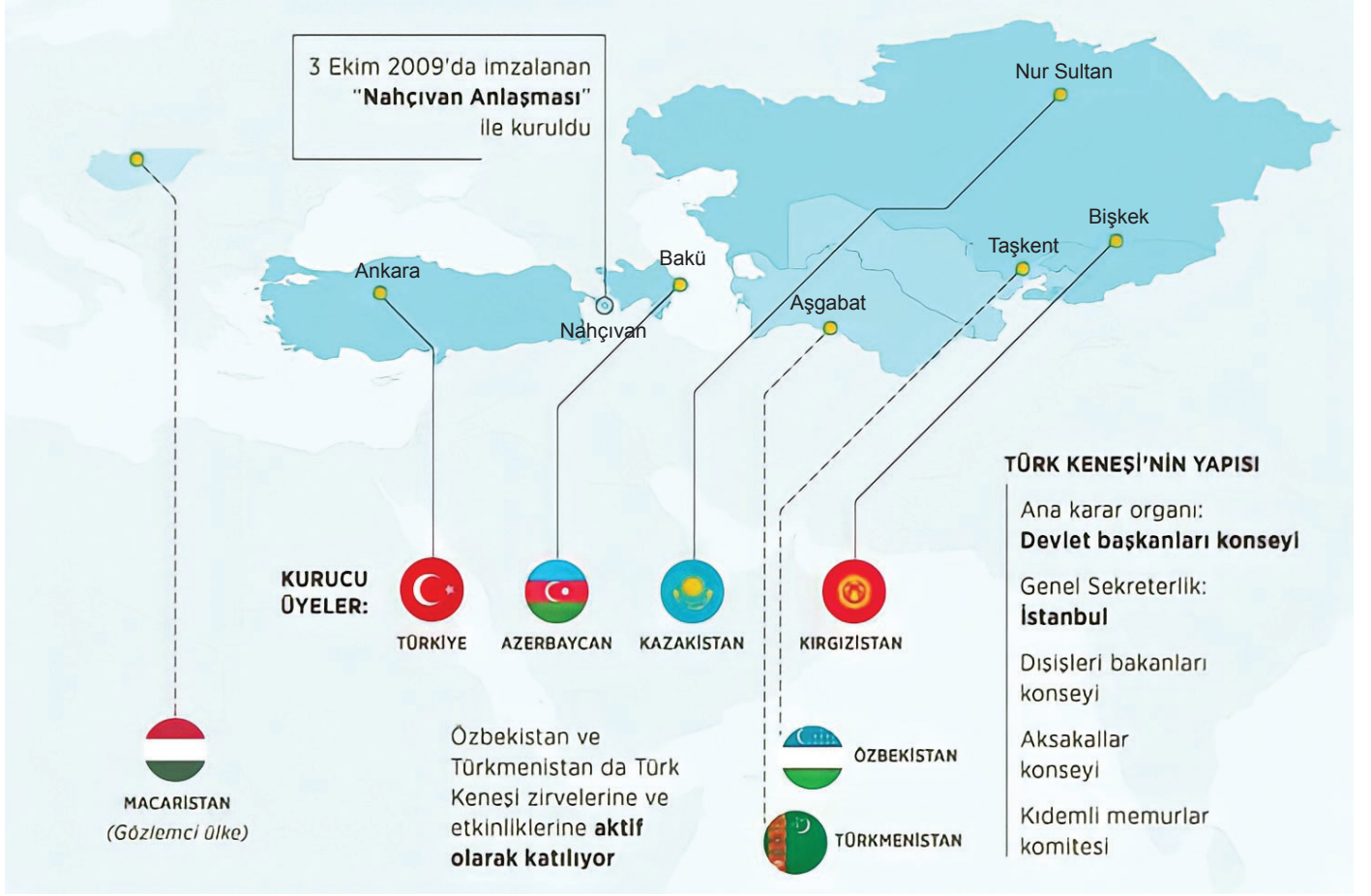
- A) Çevre kirliliği
- B) Yoksulluk
- C) Açlık
- D) Kuraklık

43. Dünya hızlı bir değişim ve gelişim içerisinde ve teknoloji akıl almaz bir hız ile gelişiyor. Teknolojinin gelişimi bizlerin hayatının her anlamda olumlu yönde etkiliyor ve hayatımızı kolaylaştırıyor. İnsanların yapmakta zorlandığı tehlikeli işler makineler ve robotlar tarafından yapılmaya başlandı. Bu durum hayatımızı kolaylaştırmış gibi görünse de çeşitli iş kollarında insanların yerini makinelerin alması, istihdam sorununu da beraberinde getirecektir.

Yukarıdaki paragrafta bahsedilen ve gelecekte artış göstermesi beklenen sorun aşağıdakilerden hangisidir?

- A) Terör
- B) Göç
- C) İşsizlik
- D) İklim değişikliği

44.




Verilen görselde Türk Keneşi(Türk Konseyi) ile ilgili aşağıdaki sorulardan hangisinin cevabı yoktur?


- A) Türk Keneşinin ne zaman kurulduğu
- B) Türk Keneşinin yönetim yapısının nasıl olduğu
- C) Hangi ülkelerin Türk Keneşine üye olduğu
- D) Türk Keneşinin faaliyet alanlarının neler olduğu


45.


Karadeniz Ekonomik İşbirliği Örgütü

Karadeniz Ekonomik İşbirliği Örgütü (KEİ), Karadeniz havzasının barış, istikrar ve refah bölgesi olması amacıyla ikili ve çok taraflı ekonomik, teknolojik ve sosyal ilişkileri teşvik ediyor

 26 Haziran 1992'de kuruldu

 Merkezi: İstanbul




 12 üyesi bulunuyor

 Hali hazırda Bulgaristan'ın yürüttüğü KEİ Dönem Başkanlığı, altışar aylık dönemler halinde **alfabetik sıraya göre yürütülüyor**

 Türkiye, Ocak- Haziran 2017 arasında **KEİ Dönem Başkanlığı'nı** üstlendi



KEİ'NİN YAPISI

-  Dışişleri Bakanları Konseyi
-  KEİ'nin tek karar organı
-  Yılda iki defa toplanıyor

Verilen görsel ve bilgidten aşağıdakilerden hangisine ulaşılabilir?

- A) Örgüte sadece Karadeniz'e kıyısı olan ülkeler katılabilir.
- B) Örgütün dönem başkanlığı ülkelerin gelişmişlik düzeyine göre belirleniyor.
- C) Ülkemizin de üyesi olduğu bu örgüt uluslararası iş birliğine bir örnek teşkil etmektedir.
- D) Türkiye şu ana kadar dönem başkanlığı görevini üstlenmemiştir.

46. Aşağıda küresel sorun ve çözüm önerileri eşleştirilmiştir.

Küresel Sorun

- I. Açlık
- II. Göç
- III. Salgın hastalıklar
- IV. İklim Değişikliği

Çözüm Önerisi

- Yenilenebilir enerji kaynaklarına yönelmek
- Yaşam şartlarının yükseltilmesi ve can güvenliğinin sağlanması
- Herkesin genel sağlık hizmeti, güvenli ve erişilebilir ilaç ve aşıya ulaşması
- İsrafın önlenmesi ve tarımda verimliliğin artırılması

Verilenlerin doğru olabilmesi için hangi iki seçenek yer değiştirmelidir?

- A) I ve II
- B) I ve IV
- C) II ve III
- D) III ve IV

47.

DÜNYA GENELİNDEKİ GÖÇMEN SAYISI



DÜNYA GENELİNDEKİ GÖÇMEN NÜFUSUN

%52'si erkek

%48'i kadın



Dünya genelinde iş, aile ve eğitimin yanı sıra çatışma, doğal afet gibi çeşitli sebeplerle doğdukları ülkelerden başka ülkelere göç edenlerin sayısı 50 yılda 3 kattan fazla arttı.

Görselde verilen bilgilere göre göçmen nüfusla ilgili olarak aşağıdakilerden hangisine ulaşılabilir?

- A) Göçmen nüfus içerisinde kadınların oranı sürekli artış göstermektedir.
- B) Göç edenlerin büyük bir bölümü eğitim için başka ülkelere gitmektedir.
- C) Göçmen nüfus en fazla Avrupa Birliği ülkelerine gitmektedir.
- D) Göçmen nüfusun yarısından fazlasını erkekler oluşturmaktadır.

48.



Küresel ölçekteki en büyük sorunlardan biri de küresel ısınmadır. Atmosfere aşırı karbondioksit salınımından dolayı meydana gelen bu olayda karbondioksit salınımı şu andaki artış hızıyla devam ederse 2060 yılında ortalama sıcaklıklardaki artışın 4°C'yi bulacağı belirtiliyor. Karbondioksit salınımını azaltmanın en çabuk ve masrafsız yolu ise enerji verimliliğine yönelik önlemleri almaktan geçiyor.

Verilen görsel ve bilgidен;

- I. aşırı karbondioksit salınımının atmosfere zarar verdiğine,
- II. sıcaklık artışının gelecek yıllarda daha belirgin hissedileceğine,
- III. küresel ısınma sorununa karşı enerji verimliliğinin bir çözüm olacağına

ifadelerinden hangilerine ulaşılabilir?

- A) Yalnız I
- B) I ve II
- C) I ve III
- D) I, II ve III

NATO ARTIK 30 ÜYE

Uluslararası alanda en önemli askeri ittifak olarak ön plana çıkan NATO, Makedonya'nın katılımıyla 30 üyeye ulaştı.



Kuruluş tarihi: 4 Nisan 1949



Sovyetler Birliği'nin yayılmacı politikalarına karşı kuruldu.



30 üyesi bulunuyor.



Merkezi Brüksel'de

- İttifakın kararları 30 üyenin "oybirliğiyle" alınıyor.
- Her iki yılda bir üye ülkelerden birinde NATO zirvesi düzenlenirken her yıl üye ülkelerin dış işleri bakanları iki, savunma bakanları da dört kere bir araya geliyor.



NATO ÜYESİ ÜLKELER

ABD	İngiltere
Makedonya	Türkiye
Çekya	İtalya
Karadağ	Fransa
Romanya	Polonya
İspanya	Norveç
Slovaçya	Belçika
Estonya	Letonya
Litvanya	Almanya
	Slovenya
	Hollanda
İzlanda	
Kanada	
Portekiz	
	Lüksemburg
	Hırvatistan
	Arnavutluk
	Yunanistan
	Macaristan
	Bulgaristan
	Danimarka

Verilen görsele göre aşağıdakilerden hangisine ulaşılabilir?

- A) Örgüt Sovyetler Birliği politikalarına karşı kurulmuştur.
- B) Örgüt büyüme ve genişleme politikasından vazgeçmiştir.
- C) Alınan kararlar tüm ülkelerin onayıyla alınmaktadır.
- D) Düzenli aralıklarla toplantılar düzenlenmektedir.

ÇEVRE KİRLİLİĞİ HER YIL 12,6 MİLYON İNSANIN ÖLÜMÜNE NEDEN OLUYOR

Çevre kirliliğinin neden olduğu hastalıklar her yıl 12,6 milyon insanın ölümüne yol açıyor.

Hava kirliliğine bağlı hastalıklar nedeniyle her yıl **4.6 milyon** insan yaşamını yitiriyor.



Ölümlerin **%90'ı düşük ve orta gelir düzeyli** ülkelerde yaşanıyor. **%90**



663 milyon insanın içilebilir suya erişimi bulunmuyor.



Dünya nüfusunun **%92'si** yüksek derecede kirlenici madde bulunan hava soluyor.

En kirliliği Suudi Arabistan, Katar, Mısır ve Bangladeş soluyor.

En temiz havayı, Solomon Adaları, Yeni Zelanda, Kiribati, Brunei Darussalam, Vanuatu, İsveç, Micronesi, Fiji ve Avustralya halkları soluyor.

Kirli suyun içme suyu olarak tüketilmesinin yol açtığı hastalıklar nedeniyle her yıl dünyada **502 bin kişi** yaşamını yitiriyor.



Yaklaşık **1.8 milyar** insan pis su kaynaklarını kullanıyor.

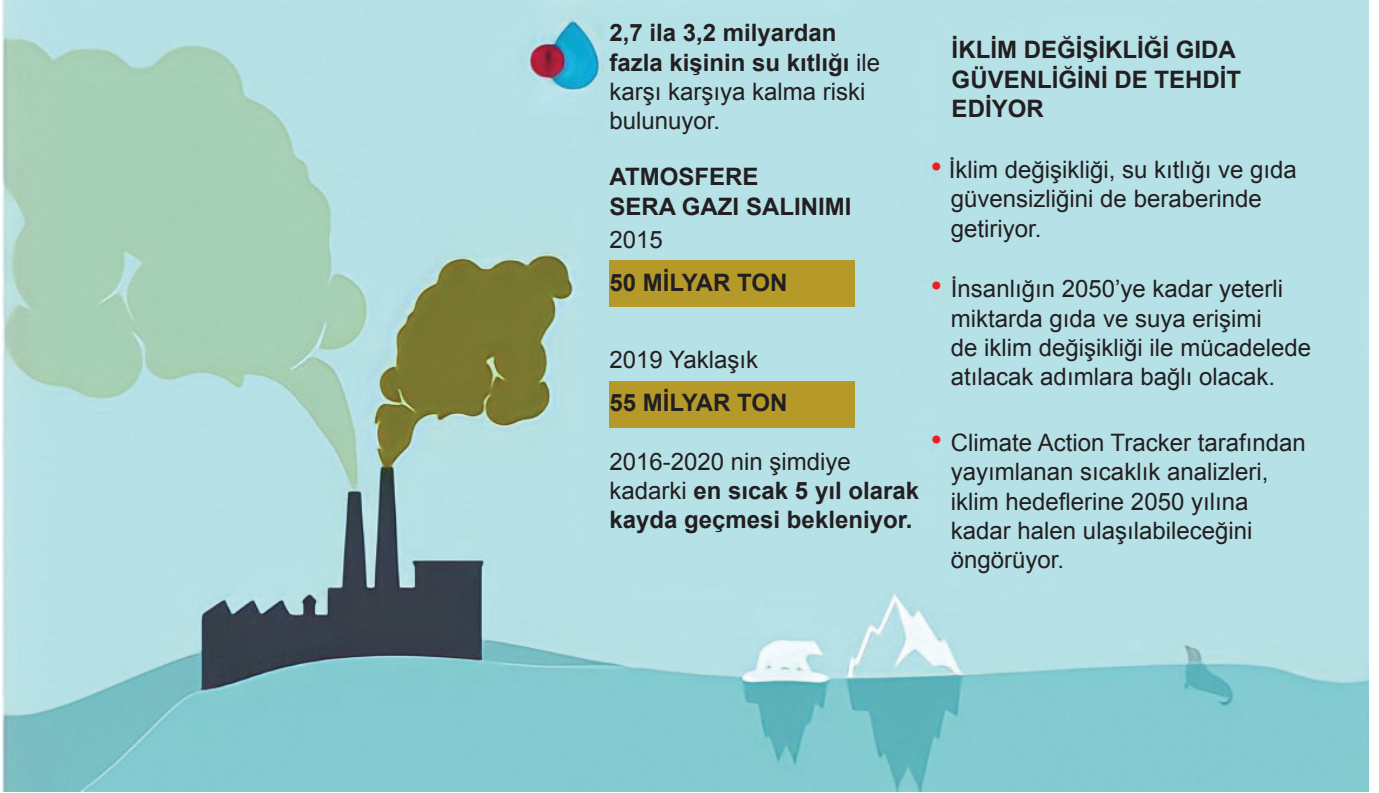


Her yıl yaklaşık **1000** çocuk ölenebilir, su ve temizlikle bağlantılı ishal gibi hastalıklar nedeniyle yaşamını yitiriyor.

Verilen görselden aşağıdakilerden hangisine ulaşamaz?

- A) Çevre kirliliği küresel bir sorundur.
- B) Hava kirliliği her yıl çok sayıda insanın ölümüne neden olmaktadır.
- C) Su kirliliğinin gelecek yıllarda azalması beklenmektedir.
- D) Yüksek gelirli ülkelerde hava kirliliğine bağlı ölümler daha azdır.

51.



Verilen görsel ve bilgiden;

- küresel iklim değişikliğinin yaşamı olumsuz etkilediği,
- atmosfere sera gazı salınımını giderek azaldığı,
- gelecekte insanların su kıtlığı ile karşılaşabileceği

yargılarından hangilerine ulaşılabilir?

A) I ve II

B) I ve III

C) II ve III

D) I, II ve III

CEVAP ANAHTARI

- 1Y, 2D, 3D, 4Y, 5D, 6D, 7D, 8Y, 9D, 10Y, 11D, 12Y, 13Y, 14D, 15 Y, 16Y, 17Y, 18D, 19D, 20D, 21Y
1. Cenevre
 2. NATO
 3. Türk Konseyi/İstanbul
 4. EPPO
 5. WHO
 6. UNESCO
 7. İslam İşbirliği
 8. AB
 9. BM
 10. UNİCEF
 11. FAO
 12. Karadeniz Ekonomik İşbirliği Örgütü
- Türkiye sahip olduğu konum itibari ile enerji ağlarının yoğunlukla bulunduğu bir ülke olarak enerji kaynakları ve uluslararası pazarlar arasında köprü görevi görmek ve bu sebeple enerji ticaretinde kilit rol oynamaktadır. Türkiye'nin üstlendiği bu rol gereği dahil olduğu birçok uluslararası proje mevcuttur. Kerkük-Yumurtalık Ham Petrol Boru Hattı, Bakü-Tiflis-Ceyhan(BTC) Ham Petrol Boru Hattı, Mavi Akım Doğalgaz Boru Hattı, Nabucco Doğalgaz Boru Hattı bu projelerin başlıcalarıdır.

4.

D	D	Ü	N	Y	A	B	A	N	K	A	S	I	O	A	B	T	Ç	Ç
Ü	L	K	Ü	M	M	İ	K	Ö	S	E	E	C	O	K	J	Ş	Ç	E
Y	Z	C	V	N	K	R	Y	E	S	N	S	Ö	İ	Ğ	O	İ	Ğ	V
A	A	B	C	T	N	L	M	I	P	E	R	O	İ	İ	Ü	İ	P	R
B	T	Y	U	I	P	E	Ğ	Ü	N	İ	Ç	M	N	B	V	Z	Ş	E
N	E	E	R	R	Y	Ş	Y	U	P	P	T	Y	R	T	R	Y	J	P
Ü	T	Ü	G	R	Ö	M	İ	R	A	T	E	V	A	D	İ	G	T	R
T	R	A	B	O	N	İ	Y	E	S	N	O	K	K	R	Ü	T	T	O
S	F	F	G	H	J	Ş	K	L	Ş	Z	C	V	B	N	M	Ö	Ç	G
B	D	A	B	G	H	M	İ	L	L	E	T	T	V	C	U	J	K	R
D	Ü	N	Y	A	T	İ	C	A	R	E	T	Ö	R	G	Ü	T	Ü	A
Ü	H	J	K	O	Ş	L	F	Z	P	A	U	İ	İ	Ğ	Ğ	A	Y	M
N	Y	T	T	T	T	L	Ü	R	U	U	Z	E	S	S	O	R	P	İ
Y	A	R	O	K	R	E	L	R	N	J	E	P	P	O	R	İ	O	N
A	T	T	P	L	Z	T	K	T	I	R	Y	U	Y	E	M	M	T	A
M	A	İ	Y	T	U	L	E	A	C	D	N	N	A	T	U	J	N	O
N	R	C	G	R	Y	E	T	E	E	R	E	H	M	T	N	K	T	T
Y	I	A	U	J	U	R	S	A	F	F	P	C	R	G	B	L	Y	T
D	Ü	N	Y	A	S	A	Ğ	L	I	K	Ö	R	G	Ü	T	Ü	İ	O

5. 1. BİRLEŞMİŞ MİLLETLER
2. WHO
3. UNESCO
4. TÜRK KONSEYİ
5. AVRUPA KONSEYİ
6. AVRUPA BİRLİĞİ
7. NATO
8. UNICEF
9. FAO
10. OECD

6. 3

7. 1. Küresel ısınma
2. Kuraklık
3. Açlık
4. Göç
5. Çevre kirliliği
6. İklim değişikliği

8. 1c, 2b, 3a, 4d, 5i, 6f, 7j, 8h, 9e, 10g

9. Yapılan bu proje ile yaşam şartları oldukça zor olan ve açlık sorunu ile boğuşan Afrika kıtasında çocukların sorunlarının, kendilerinden çok uzaktaki çocukların varlığından haberdar olduklarını öğrenmesi, bu zor koşullarda yaşayan Afrikalı çocuklara umut vermektedir. Aynı zamanda Türkiye'deki çocuklarda Afrika konusunda farkındalık oluşturmak ve Afrika'da daha çok çocuğun kalbine dokunmaktır. Ayrıca farklı kültürde bulunan bu iki bölgenin birbirlerinin kültürlerini yakından tanımasına yardımcı olmaktadır.

10.

ÜLKELER	Kalıp yargı
Brezilya	
Japonya	X
Rusya	X
Almanya	X
Avustralya	
Cezayir	
Amerika (ABD)	X

11. 1, 2, 3 ve 4. görseller kullanılmalıdır.
12. a. Arakan'da son dönemlerde yaşanan olaylar artan ayrımcılık ve şiddetin en bariz göstergesidir. Müslüman halka yapılan zulüm, beraberinde mülteci sorununu da ortaya çıkarmakta, bölge halkının yaşam hakkını elinden almaktadır
- b. Öncelikle Müslüman halka karşı katliamda bulunan ayrımcılara karşı etkili yaptırımlar gerekmektedir. Müslümanları korumak için BM' e başvurulmalı ve yaşam hakları sağlanmalıdır. Daha sonraki aşamalarda ayrımcılık yapan insanların bu zihniyetten kurtulması için gerekli eğitimler verilerek insanlar bilinçlendirilmelidir.
- c. İlgili soruda boş bırakılan alana konu ile ilgili duygu ve düşüncelerinizi yazınız.
13. • Sel ve taşkın riskine karşı dere yatağının düzenlenmemesi (Dere ıslahı yapılmaması)
• Dere kenarlarına yerleşim yapılması
14. 1, 3 ve 5. görseller
15. a. 1, 3, 6, 8, 11,12, 14
b. 3, 8, 12
c. 10, 13
d. 9
e. 2, 4, 5, 7, 15

- | | |
|-------|-------|
| 16. C | 35. B |
| 17. A | 36. B |
| 18. C | 37. D |
| 19. A | 38. B |
| 20. D | 39. D |
| 21. C | 40. C |
| 22. B | 41. D |
| 23. A | 42. C |
| 24. C | 43. C |
| 25. C | 44. D |
| 26. B | 45. C |
| 27. C | 46. B |
| 28. B | 47. D |
| 29. A | 48. D |
| 30. D | 49. B |
| 31. B | 50. C |
| 32. C | 51. B |
| 33. D | |
| 34. D | |



meb.gov.tr