


Adı:.....
Soyadı:.....


Sınıfı:.....
No:.....


...../...../.....
.....


KESİRLER-3


Size verilen kesir sayılarına göre şekilleri örnekteki gibi boyayınız ve boşlukları doldurunuz.

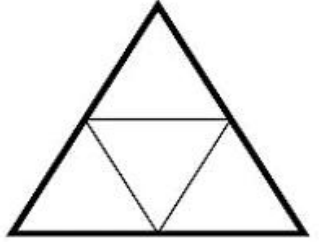
Pay: 4 eşit parçadan 2 tanesi alınmış.	
pay $\frac{2}{4}$ payda	
Payda: Bir bütün 4 eşit parçaya bölünmüş.	


Pay: eşit parçadan	
..... $\frac{2}{6}$	
Payda: Bir bütün	

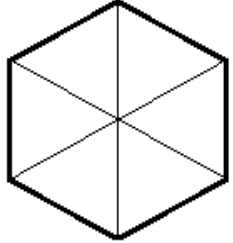
Pay: eşit parçadan	
..... $\frac{1}{2}$	
Payda: Bir bütün	

Pay: eşit parçadan	
..... $\frac{4}{7}$	
Payda: Bir bütün	

Pay: eşit parçadan	
..... $\frac{1}{3}$	
Payda: Bir bütün	

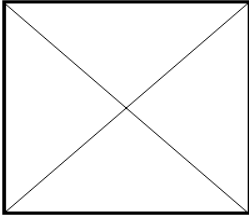
Pay: eşit parçadan	
..... $\frac{3}{4}$	
Payda: Bir bütün	

Pay: eşit parçadan	
..... $\frac{3}{5}$	
Payda: Bir bütün	

Pay: eşit parçadan	
..... $\frac{2}{6}$	
Payda: Bir bütün	

Pay: eşit parçadan

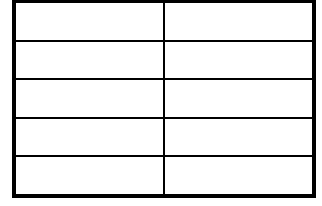
$$\frac{1}{4}$$



Payda: Bir bütün

Pay: eşit parçadan


$$\frac{6}{10}$$



Payda: Bir bütün

Pay: eşit parçadan

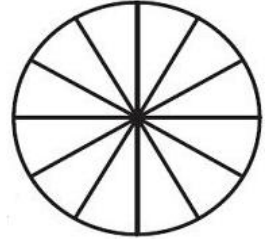
$$\frac{2}{5}$$



Payda: Bir bütün

Pay: eşit parçadan

$$\frac{7}{12}$$



Payda: Bir bütün

Pay: eşit parçadan

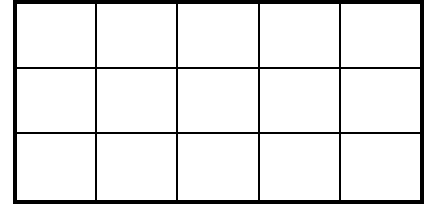
$$\frac{4}{5}$$



Payda: Bir bütün

Pay: eşit parçadan


$$\frac{9}{15}$$



Payda: Bir bütün

Pay: eşit parçadan

$$\frac{4}{4}$$



Payda: Bir bütün

Pay: eşit parçadan

$$\frac{3}{3}$$



Payda: Bir bütün