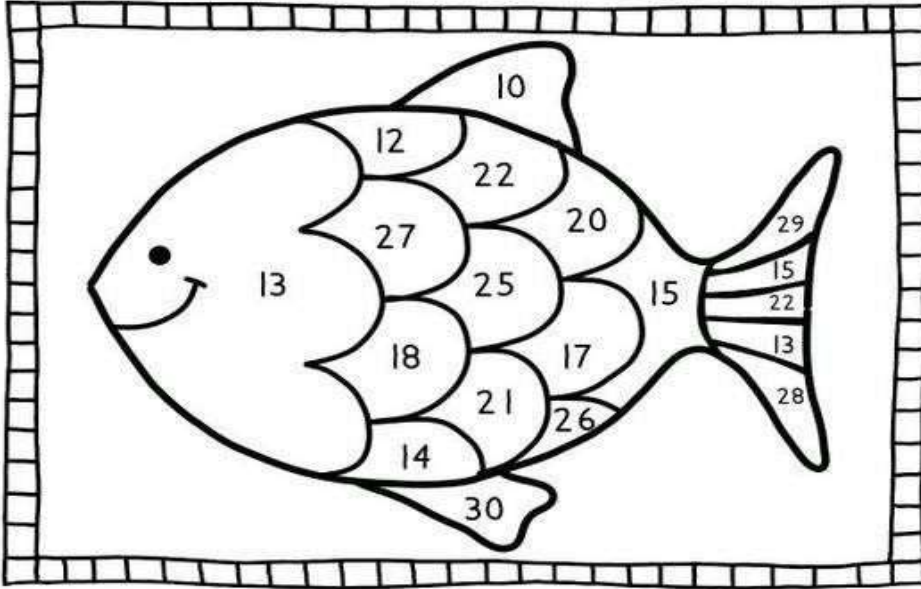




Eğlenceli Matematik

Aşağıdaki toplama işlemlerini yapalım.
Bulduğumuz sonuçlara göre, balığı istenilen renklerde boyayalım.



| kırmızı | sarı | yeşil | mor |
|-------------------------------|------------------------------|-------------------------------|-------------------------------|
| $6+6=$ <input type="text"/> | $10+3=$ <input type="text"/> | $17+4=$ <input type="text"/> | $6+4=$ <input type="text"/> |
| $10+5=$ <input type="text"/> | $11+6=$ <input type="text"/> | $12+10=$ <input type="text"/> | $15+15=$ <input type="text"/> |
| $7+7=$ <input type="text"/> | $13+7=$ <input type="text"/> | $9+9=$ <input type="text"/> | $25+4=$ <input type="text"/> |
| $15+10=$ <input type="text"/> | $18+9=$ <input type="text"/> | $22+4=$ <input type="text"/> | $15+13=$ <input type="text"/> |



Eğlenceli Matematik

Aşağıdaki toplama işlemlerinde verilmeyen toplananı bulalım

| | |
|-------------------------------|-------------------------------|
| <input type="text"/> + 4 = 12 | 7 + <input type="text"/> = 14 |
| 7 + <input type="text"/> = 15 | <input type="text"/> + 5 = 11 |
| <input type="text"/> + 5 = 12 | 4 + <input type="text"/> = 12 |
| 8 + <input type="text"/> = 14 | <input type="text"/> + 8 = 14 |
| <input type="text"/> + 9 = 16 | 6 + <input type="text"/> = 13 |
| 9 + <input type="text"/> = 18 | <input type="text"/> + 7 = 10 |
| <input type="text"/> + 4 = 13 | 6 + <input type="text"/> = 13 |
| 8 + <input type="text"/> = 12 | <input type="text"/> + 4 = 11 |



Eğlenceli Matematik

Aşağıdaki toplama işlemlerinde verilmeyen toplananı bulalım

| | |
|--------------------|--------------------|
| $8 + \square = 11$ | $4 + \square = 9$ |
| $5 + \square = 12$ | $6 + \square = 10$ |
| $6 + \square = 11$ | $2 + \square = 12$ |
| $7 + \square = 10$ | $5 + \square = 11$ |
| $3 + \square = 9$ | $7 + \square = 9$ |
| $4 + \square = 8$ | $3 + \square = 10$ |
| $2 + \square = 11$ | $9 + \square = 10$ |
| $9 + \square = 12$ | $8 + \square = 12$ |
| $1 + \square = 7$ | $0 + \square = 7$ |
| $0 + \square = 6$ | $1 + \square = 8$ |



Eğlenceli Matematik

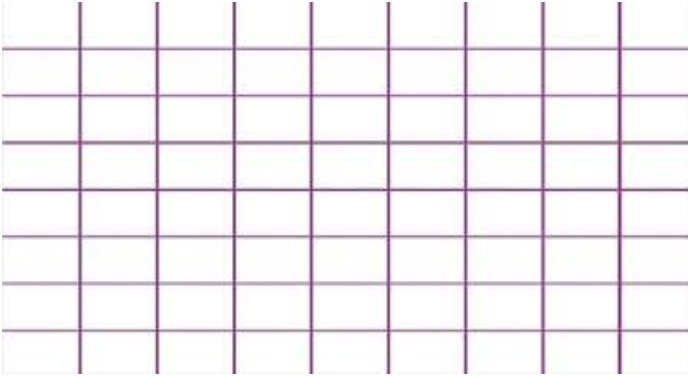
Aşağıdaki toplama işlemlerini yapalım. Bulduğumuz sonuçlara göre, balığı istenilen renklerde boyayalım.

yeşil 2 sarı 4 mor 6
mavi 3 pembe 5 turuncu 7

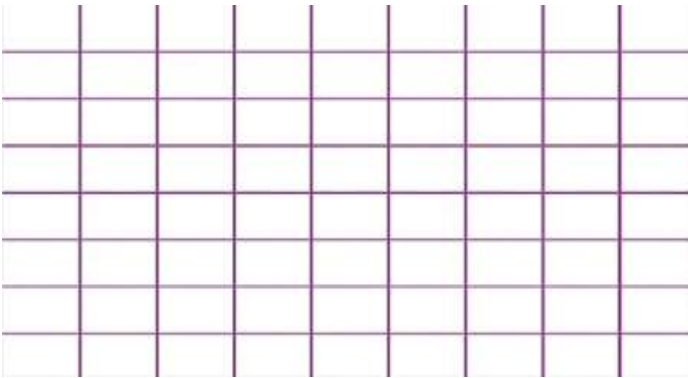
Eğlenceli Matematik

Problemleri çözelim.

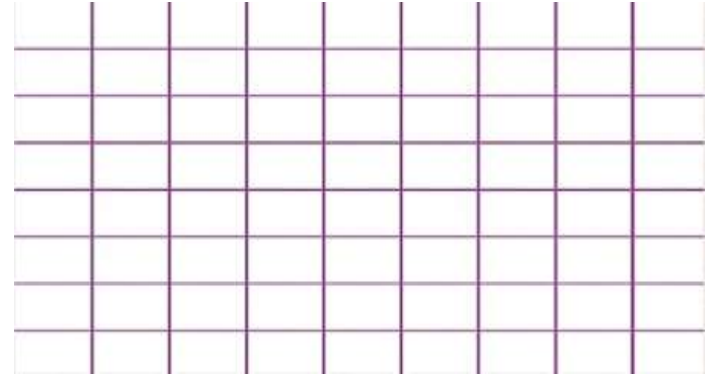
- 1- Ali'nin 12 tane boya kalemi vardı. Ali bir miktar boya kalemi daha alınca boya kalemlerinin sayısı 20 oldu. Ali kaç tane boya kalemi almıştır?



- 2- Annem bir tepsi poğaç yaptı. Poğaçaların 9 tanesini kardeşimle ben yedik, 4 tanesini de babam yediğinde poğaçalar bitti. Annem kaç tane poğaç yapmıştı?



- 3- Selin bu sabah 15 sayfa kitap okudu. 7 sayfa daha okursa kitabı bitmiş olacak. Selin'in kitabı kaç sayfadır?



- 4- Alper 8 yaşındadır. Kaç yıl sonra 14 yaşında olur?

