

6.SINIF 5. ÜNİTE ÇALIŞMA FASİKÜLÜ

SOSYAL BİLGİLER

Bu kitapçık UŞAK Ölçme Değerlendirme Merkezi
tarafından hazırlanmıştır.




1)

1-) Buğday	2-) Zeytinyağı	3-) Mısır	4-) Şeker	5-) Sirke
6-) Pamuk	7-) Makarna	8-) Üzüm	9-) Fındık	10-) Çikolata


Yukarıda ülkemizde yetişen bazı tarım ürünleri ve tarım ürünlerinin işlenmiş halleri (mamul madde) karışık olarak verilmiştir.

Verilen kavramların yanındaki rakamları uygun şekilde kutucuklara yerleştiriniz.

Tarım Ürünleri



Mamul Maddeler



2) İnsanların geçimlerini sağlamak için yaptıkları faaliyetlerin tümü ekonomik faaliyetler olarak adlandırılır.

Ülkemizde yapılan ekonomik faaliyetlerden 5 tanesini yazınız.


Cevaplar:

3) Enerji kaynakları tükenebilir-yenilenemeyen ve tükenmeyen-yenilenebilir olmak üzere iki grupta incelenir.


Verilen enerji kaynağı türünün yanındaki numarayı uygun kutucuğa yerleştiriniz.

- | | | | |
|---------------|---------------------|-------------------------|--------------------|
| 1. Taş kömürü | 2. Jeotermal enerji | 3. Hidroelektrik enerji | 4. Linyit |
| 5. Doğal gaz | 6. Güneş enerjisi | 7. Petrol | 8. Rüzgâr enerjisi |

Yenilenebilir enerji



Yenilenemeyen enerji



4) Meslek seçerken kendimize sormamız gereken sorulardan 5 tanesini yazınız.

- 1.
- 2.
- 3.
- 4.
- 5.

5) Aşağıda verilen bulmacayı çözünüz.

1- Ülkemizin tahıl ambarı Konya'nın su rüyasını gerçekleştirmek için yapılan proje
2- Yenilenemeyen enerji türlerinden biri
3- Toprağa dayalı olarak yapılan ekonomik faaliyet
4- Toprağın bulunduğu yerden; yağışlar, sel suları, rüzgar, çığ vb. etkenlerle taşınması olayı
5- Ülkemizde Akdeniz, Ege ve Güney Marmara'da üretimi yapılan sanayi bitkisi
6- Bireyin hayatını devam ettirebilmek ve geçimini sağlamak için yaptığı iş
7- Vatandaşların gelirlerinin bir kısmını devlete vermesi
8- Kütahya, Manisa ve Muğla'da çıkarılıp termik santralde kullanılan yakıt türü
9- Bacasız sanayi

									5			8			
								7							
			2												
1															
		4													
	9				6										
3															

6) Aşağıda açıklama şeklinde verilen maddeleri ilgili oldukları alanlara örnekteki gibi yerleştiriniz.

- A- Erozyonu yavaşlatma.
- B- Bitki örtüsünün tahrip edilmesi.
- C- Nadas uygulamalarından vazgeçmek.
- D- Çeşitli canlıları barındırmak.
- E- Tarım alanlarının daralması.
- F- Tarım alanlarında verimin azalması.
- G- Havayı temizleme.
- H- Orman yangınlarını önleyici tedbirler almak.

Ormanların faydaları	A
Ormanların azalma nedenleri	
Erozyonu önlemek için alınan tedbirler	
Erozyonun olumsuz etkileri	

7) Doğayı kirlenme durumları açısından iki enerji türünü verilen boşluklara uygun şekilde yazınız.

- A. Fosil enerji kaynakları içinde atmosferi en fazla kirleten enerji kaynağı olup ülkemizde tamamı Zonguldak ve çevresinde çıkarılan maden madenidir.
- B. Tükenebilir enerji kaynakları içinde çevreye en az zarar veren ve Hamitabat (Kırklareli) ve Çamurlu'dan (Mardin) çıkarılan enerji kaynağı madenidir.

8) Aşağıda verilen boşluklara uygun gelecek ifadeleri yazınız.

* Çay bitkisi ülkemizde sadece Doğu Karadeniz kıyılarında yetişir diğer bölgelerde yetişmez. Çünkü

* Akdeniz kıyılarında arpa, buğday ve şeker pancarı gibi bitkiler yetiştirilebilir ancak bölge insanı bu ürünleri yetiştirmeyi tercih etmeyip farklı tarım ürünlerini yetiştirir. Çünkü

* Ülkemizde büyükbaş mera hayvancılığı Erzurum-Kars bölümünde yoğun olarak yapılır. Çünkü

9) Özellikleri verilen enerji kaynaklarını uygun şekilde yanlarına (X) atarak işaretleyiniz.

Açıklama	Linyit	Taş kömürü	Petrol	Doğal gaz	Güneş enerjisi	Jeotermal enerji	Hidroelektrik enerji
Tamamı Zonguldak'tan çıkarılan ve demir çelik sanayisinde kullanılan enerji türüdür.							
Evlerde ısınma amaçlı kullanmanın yanı sıra termik santralde elektrik üretimi için kullanılır. En fazla Soma ve Tunçbilek'te çıkar.							
Otomobil ve termik santrallerde kullanılıp en fazla Güneydoğu Anadolu'da çıkarılır.							
Çevreyi en az kirleten tükenebilir enerji kaynağıdır.							
Güneşli gün sayısının fazla olduğu şehirlerde kullanılan enerji türüdür.							
Akarsular üzerine kurulan santrallerde üretilen enerji türüdür.							
Fay hatlarının bulunduğu yerlerden çıkan sıcak su buharı ile üretilen enerjidir.							

10) Aşağıdaki bilgiler doğru ise yay ayraç içine “D”, yanlış ise “Y” yazınız.

- () Fosil enerji kaynakları kömür, petrol, doğal gazdır.
- () Bor en fazla Uşak ilimizden çıkarılır.
- () Fabrikalarda ham madde olarak kullanılan tarım ürünlerine organik tarım ürünleri denir.
- () Yatırım yapabilmek için gerekli olan unsurlardan biri de sermayedir.
- () Doğal kaynakları bilinçsizce tüketirsek karşılaşacağımız sorunlardan biri de erozyondur.
- () Eğimli tarım arazilerinde tarlayı eğime dik sürmek erozyonu engellemek için alınan önlemlerden biridir.
- () Kâğıt fabrikası için en uygun bölge Güneydoğu Anadolu Bölgesidir.

11) Aşağıda verilen açıklamalar ile kavramları örnekteki gibi eşleştiriniz.

A	Yenilenebilir enerji kaynağı	Petrol	C
B	Yatırım yapabilmek için gerekli olan unsurlardan biri	Nitelikli insan	
C	Yenilenemez enerji kaynağı	Rüzgâr	
D	Çalışan vatandaşların gelirlerinin bir kısmını devlete vermesi	Pazar	
E	İşini en iyi ve başarılı şekilde yapan kimse	Öğretmenlik	
F	Konuşkan ve sabırlı olan kişilerin tercih ettiği meslek	Vergi	

12) Ülkemizde büyükbaş hayvancılığın yapılış şekli olarak mera hayvancılığı ve besi hayvancılığı karşımıza çıkmaktadır. Besi hayvancılığında iklim ve bitki örtüsünün etkisi son derece azken, bu tür hayvancılığın nüfusun yoğun olduğu büyükşehirlerde komşu illerde yapıldığı gözlemlenmektedir.

Buna göre besi (ahır) hayvancılığının büyükşehirlerde komşu illerde yapılma sebebi nedir?

- A) Ham maddeye yakınlık
- B) Yeterli iş gücünün oluşu
- C) Tüketim merkezlerine bağlantılı oluşu
- D) Enerji kaynaklarının yoğun oluşu

13) Ülkeler sahip oldukları insan gücünü eğitim aracılığıyla nitelikli insan gücüne dönüştürdükleri ölçüde güçlü olurlar.

Buna göre aşağıdakilerden hangisi nitelikli insan gücünün özellikleri arasında yer almaz?

- A) Girişimcidir, işini severek yapar.
- B) Tüketici bir toplum için çaba sarf eder.
- C) Kullandığı malzemeyi en iyi şekilde değerlendirir.
- D) İyi bir gözlemcidir, üretkendir.

14) Sahip olduğumuz ormanlar tüm canlılar için birçok fayda sağlamaktadır. Ormanlar; kar, yağmur gibi yağış türlerini yaprakları, dalları, gövdesi hatta kökleri ile tutar ve toprağı besler.

Yukarıda verilen bilgide ormanların hangi faydası üzerinde durulmuştur?

- A) Yer altı ve yeryüzü sularını düzenleme
- B) Havayı temizleme
- C) Çeşitli canlıları barındırma
- D) Erozyonu yavaşlatma

15)



Bir yere yatırım yaparken dikkat edilecek en önemli unsurlardan biri de kurulacak fabrikaların ham madde kaynağına yakın olmasıdır.

Buna göre haritada numaralı verilen alanlara;

- I. Ayçiçek yağı,
- II. Un,
- III. Konserve,
- IV. Dokuma

fabrikalarından hangisinin kurulması uygun değildir?

- A) I B) II C) III D) IV

16)

Bölgelerimiz	Ürünler
Marmara Bölgesi	Ayçiçeği
Güneydoğu Anadolu Bölgesi	Buğday
Karadeniz Bölgesi	Fındık
İç Anadolu Bölgesi	Antep fıstığı

Yukarıdaki tabloda bölgelerimiz ve bu bölgelerde en çok yetiştirilen tarım ürünleri verilmiştir.

Tablodaki bilgilerin doğru olabilmesi için hangi iki ürünün yer değiştirmesi gerekir?

- A) Ayçiçeği - Fındık B) Antep fıstığı - Buğday
C) Buğday - Ayçiçeği D) Fındık - Antep fıstığı

- 17) Ülkemizde yaz yağışlarının yoğun olarak görüldüğü yerlerde büyükbaş mera hayvancılığı yapılmaktadır.



Buna göre haritada numaralandırılan yerlerden hangisinde iklime bağlı olarak büyükbaş mera hayvancılığı yapılmaktadır?

- A) I B) II C) III D) IV

- 18) Türkiye ılıman kuşakta bulunan bir konumda yer aldığı için deniz turizmi açısından elverişli bir konuma sahiptir.

Bu bilgiye sahip olan 6. Sınıf öğrencisi Ahmet ve ailesinin yazın deniz turizmi için aşağıdaki yerlerden hangisine gitmesi beklenmez?

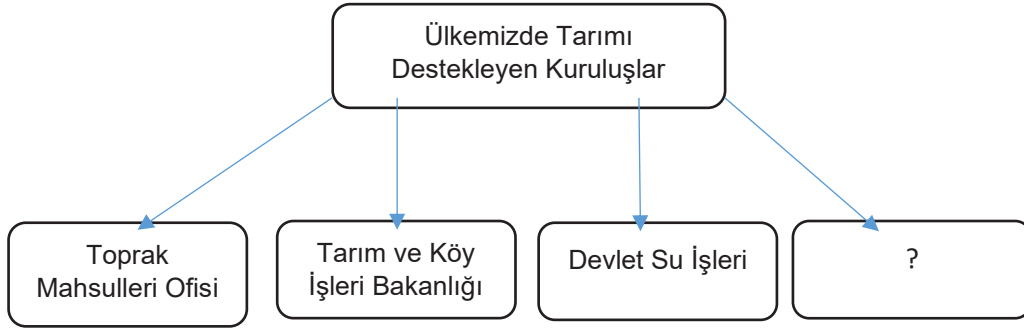
- A) Marmaris B) Fethiye
C) Alanya D) Kapadokya

- 19) Ülkemizde yapılan hayvancılık türleri besi, mera ve kümes hayvancılığı olarak sınıflara ayrılmıştır. Sanayi tesislerinin en yoğun olarak görüldüğü Marmara Bölgesi ve bölgeye komşu iller ülkemizde kümes hayvancılığının en yoğun yapıldığı yerlerdir.

Marmara Bölgesinde bu durumun ortaya çıkmasının temel sebebi aşağıdakilerden hangisidir?

- A) Ulaşımın kolay olması
B) Kümes hayvancılığı için elverişli iklim koşullarının olması
C) Nüfusun ve tüketimin fazla olması
D) Yeryüzü şekillerinin sade olması

20)



Yukarıda, ülkemizde tarımın gelişimini destekleyen kuruluş örnekleri verilmiştir.

Tabloda soru işareti ile boş bırakılan yere aşağıdakilerden hangisi getirilmelidir?

- | | |
|-------------------|----------------|
| A) TOKİ | B) RTÜK |
| C) Ziraat Bankası | D) Belediyeler |

21) Orta kuşakta yer alan Türkiye iklim çeşitliliğine sahiptir. İklim çeşitliliği de beraberinde bitki çeşitliliğini getirmektedir. Ülkemizde bölgeler arasında görülen iklim ve bitki örtüsü farklılığı yapılan hayvancılık türünü de etkiler.

Buna göre İç Anadolu Bölgesi'nin iklim ve bitki örtüsü düşünüldüğünde bölgede hangi hayvancılık türünün yapılması beklenir?

- | | |
|-------------------------|-------------------------|
| A) Büyükbaş hayvancılık | B) İpek böcekçiliği |
| C) Balıkçılık | D) Küçükbaş hayvancılık |

22) Bir yere yatırım yapılırken dikkat edilmesi gereken hususlardan biri de ham maddeye yakın olmaktır.

Aşağıda verilen işletmelerden hangisi ham maddeye yakınlık kriterine uymamaktadır?

- | | |
|---|-------------------------------|
| A) Zonguldak Ereğli Demir Çelik Fabrikası | B) Batman Petrol Rafinerisi |
| C) Konya Un Fabrikası | D) Aydın Zeytinyağı Fabrikası |

23) Yenilenebilir enerji kaynaklarından biri de su gücünden elde edilen hidroelektrik enerjisidir.

Ülkemizin akarsu ve nehir varlıkları düşünüldüğünde hidroelektrik enerjisi üretiminin en fazla hangi bölgemizde olması beklenir?

- | | |
|-------------------------|-----------------------|
| A) Doğu Anadolu Bölgesi | B) Marmara Bölgesi |
| C) Akdeniz Bölgesi | D) İç Anadolu Bölgesi |

- 24) I- Güneş enerjisi
II- Taş kömürü
III- Hidroelektrik enerji
IV- Linyit
V- Rüzgâr Enerjisi

Çevreye duyarlı bireylerin yukarıdakilerden hangilerini kullanmaları beklenmez?

- A) II, IV
B) I, III ve IV
C) II, III ve V
D) III, IV ve V

- 25) Ali öğretmen öğrencileriyle “Doğal kaynaklar” konusunu işlerken, “Doğal kaynaklar ile ilgili kavramlar nelerdir?” sorusunu yöneltmiştir. Bu soruya sınıftaki öğrencilerin cevapları ise şu şekilde olmuştur:

Arzu: Güneş

Ahmet: Orman

Mehmet: Madenlerimiz

Ufuk: Sanayi

Öğrencilerin verdiği cevaplardan hangisi Ali öğretmenin sorduğu sorunun cevabı olamaz?

- A) Güneş
B) Maden
C) Sanayi
D) Orman

- 26) Tarımda verimi arttırmak için devletimizin desteklediği ve çiftçilerimizin uyguladığı bazı yöntemler vardır.

Buna göre tarımda verimi arttıracak yöntemlere örnek olarak;

- I- Gübreleme,
II- Anız yakılması,
III- Aşırı sulama,
IV- Tohum ıslahı,
V- Makineleşme

uygulamalarından hangileri gösterilebilir?

- A) I, III ve IV
B) I, III ve V
C) I, IV ve V
D) II, III ve IV

- 27) Sanayi bitkileri gıda fabrikalarında ham madde olarak kullanılan ve işlendikten sonra insanların tüketimine sunulan tarım ürünleridir.

Bu açıklamaya göre aşağıdakilerden hangisi sanayi bitkisi değildir?

- A) Şeker pancarı
B) Buğday
C) İncir
D) Ayçiçeği

28) Elektrik elektronik, seramik, gübre, uzay aracı yakıtı, el dezenfektanı, ilaç, ev gereçleri gibi pek çok alanda kullanılan; ülkemizde Eskişehir, Kütahya ve Balıkesir çevresinde çıkarılan maden aşağıdakilerden hangisidir?

- A) Bakır B) Bor C) Linyit D) Alüminyum

29)



Yukarıda Türkiye'nin farklı bölgelerinde kurulan kâğıt fabrikalarının yerleri gösterilmiştir.

Bu bölgelerde kâğıt fabrikalarının kurulmasında yatırım unsurlarından hangisine dikkat edilmiştir?

- A) İş gücü B) Ham maddeye yakınlık
C) Enerji D) Ulaşım

30) Erzurum iline et kombinası üzerine yatırım yapmak isteyen bir girişimci, bu girişimi yaparken hangi unsura dikkat etmiştir?

- A) Bölgede teknolojinin gelişmiş olması
B) Bölgeye ulaşımın kolay olması
C) Bölgede ham maddenin bol olması
D) Bölgede nüfusun yoğun olması

31)

- Yakıt kullanımında çok yaygındır.
- Plastik eşya, ilaç yapımı gibi alanlarda da kullanılır.
- Ülkemizde sadece Güneydoğu Anadolu Bölgesi'nde çıkarılır. Bu bölgede çıkarılan miktarı ülkemizin ihtiyacının sadece 1/10'unu karşılar.

Buna göre özellikleri verilen enerji kaynağı aşağıdakilerden hangisidir?

- A) Linyit B) Taş Kömürü C) Doğal gaz D) Petrol

- 32) • Pilot
• Doktor
• Öğretmen
• Avukat

Verilen mesleklerdeki bireyler aşağıdaki ekonomik faaliyet türlerinden hangisinde yer alır?

- A) Tarım B) Hizmet C) Sanayi D) Ticaret

- 33) İnsanların bilinçsiz bir şekilde doğal kaynakları -özellikle ormanları- tahrip etmesi ilerleyen yıllarda insanların çeşitli sorunlarla karşılaşmasına neden olabilir.

Buna göre ormanların tahribi sonucunda insanların aşağıdaki sorunlardan hangisi ile karşılaşması beklenmez?

- A) Sel B) Heyelan C) Deprem D) Çığ

- 34) Sahip olduğumuz doğal kaynaklarımızın korunması ve gelecek nesillerin temiz bir çevrede yaşaması için elimizden gelen gayreti göstermeliyiz.

Buna göre aşağıdakilerden hangisi doğal kaynakların korunması için alınacak tedbirlerden biri değildir?

- A) Kâğıt atıkları geri dönüşüme göndermeliyiz.
B) Termik santrallere filtre takmalıyız.
C) Enerji tüketiminde yenilenebilir enerji kaynaklarını kullanmalıyız.
D) Daha fazla tarımsal üretim için ormanlık alanları tarlaya dönüştürmeliyiz.

- 35) Ülkemizde ve dünyada seracılık faaliyetleri ılıman iklimin hâkim olduğu, güneşli gün sayısının fazla olup don olaylarının görülmediği yerlerde yapılır.



Buna göre haritada numaralandırılan yerlerin iklim özellikleri düşünüldüğünde numaralı yerlerden hangisinde seracılık faaliyetinin yapılması beklenmez?

- A) I B) II C) III D) IV

- 36) Bireyler ve kurumlar olarak devletimize ödediğimiz vergiler bize hizmet olarak geri döner.

Buna göre aşağıdakilerden hangisi devletin vergi alarak vatandaşlarına sunduğu hizmetlerden biri değildir?

- A) Sosyal Yardımlaşma ve Dayanışma Vakfı'nın kimsesizlere karşılıksız yardım yapması
- B) Polis ve jandarmanın halkın can ve mal güvenliğini sağlaması
- C) Yetişkin bireylerin araç sahibi olması
- D) Vatandaşların evlerine elektrik ve su hizmetinin ulaştırılması

- 37) Alışveriş, hayatımızda vazgeçemediğimiz önemli bir olgudur. Bilmeliyiz ki aslında alışveriş yaptığımızda hepimiz vergi ödüyoruz. Ancak yaptığımız her alışverişte devlete vergi vermek için ürünlerin

Verilen metinde boş bırakılan yere aşağıdakilerden hangisi getirilebilir?

- A) en ucuzunu almalıyız.
- B) Türkiye'de üretilenini tercih etmeliyiz.
- C) fiş ya da faturasını almalıyız.
- D) en yakın tarihli üretilenini tercih etmeliyiz.

- 38) • Vergiler herkesten aynı miktarda alınır.
• Toplu taşıma araçlarını kullanan bireyler de motorlu taşıtlar vergisi (MTV) ödemek zorundadır.
• Devlet kurumlarında öncelikle vergisini tam ve zamanında ödeyenlere hizmet verilir.
• Vergi çeşitleri yasalarda belirtilmiştir.

Verilen cümleler D/Y şeklinde sınıflandırıldığında aşağıdakilerden hangisine ulaşılır?

- | | | | |
|------|------|------|------|
| A) D | B) Y | C) D | D) Y |
| Y | D | Y | Y |
| D | D | Y | Y |
| D | Y | D | D |

- 39) • En çok Marmara Bölgesi'nde yetiştirilir.
• Hem yağ sanayisinde kullanılır hem de meyvesi kuruyemiş olarak tüketilir.
• Yağının yemek yapımında kullanımı yaygındır.

Özellikleri verilen tarım ürünü aşağıdakilerden hangisidir?

- A) Pirinç
- B) Mısır
- C) Ayçiçeği
- D) Zeytin

40)



I- Pirinç

II- Fındık Yağı

III- Zeytinyağı

IV- Tütün

Yukarıdaki haritada ülkemizde açılması planlanan fabrika yatırım örnekleri verilmiştir.

Buna göre haritada verilenlerden hangisi yatırımcının ham maddeye yakınlık açısından zarar etmesine neden olur?

A) I

B) II

C) III

D) IV

41)

- Ekonomik faaliyetler üretim, dağıtım ve olmak üzere üçe ayrılır.
- Konya ovası ülkemizin ambarı olarak bilinir.
- Sıcak su buharı ile elektrik üretilen santrallere enerji santrali denir.

Verilen cümlelerdeki boşluklara aşağıdaki kavramlar yerleştirildiğinde hangi seçenekteki kavram boşta kalır?

A) Hidroelektrik

B) Jeotermal

C) Tüketim

D) Tahıl

42)

“Benim ismim Ramazan. Doğal ve tarihi güzellikleri olan yerleri gezmeyi seviyorum. Yerli ve yabancı turistlere ülkemizin doğal ve tarihi yapılarını tanıtmayı çok istiyorum.”

Buna göre Ramazan’ın aşağıdaki mesleklerden hangisini yapması daha uygundur?

A) Şoförlük

B) Öğretmenlik

C) Turizm rehberliği

D) Psikolog

43)

Ülkemizin bölgeler arası yeryüzü şekillerindeki farklılık ülkemizde farklı iklim türlerinin görülmesine neden olur. Buna bağlı olarak bazı tarım ürünleri ülkemizin birçok bölgesinde yetişirken bazı ürünler çok dar bir alanda yetişir.

Buna göre aşağıda verilen ürünlerden hangisi diğerlerine göre daha dar bir alanda yetişir?

A) Çay

B) Elma

C) Patates

D) Şeker pancarı

- 44) Yenilenemeyen enerji kaynakları yandıklarında karbondioksit gazı açığa çıkarırlar. Bu zararlı gazların atmosferde birikmesi küresel ısınma ve asit yağmurları gibi olumsuz sonuçları ortaya çıkarır. Temiz bir çevrede yaşamak için çevre dostu alternatif, yenilenebilir enerji kaynakları kullanılmalıdır.

Buna göre aşağıdakilerden hangisi çevre dostu, yenilenebilir enerji kaynakları arasında yer alır?

- A) Taş kömürü B) Linyit C) Petrol D) Güneş

- 45) Aşağıdakilerden hangisi devlete ödediğimiz vergilerin bize hizmet olarak dönmesi durumuna örnek olamaz?

- A) Şehir hastanelerinin yapılması.
B) Atatürk Barajı'nın yapılması.
C) Fatih Sultan Mehmet Köprüsü'nün yapılması.
D) Ailemiz için yeni bir araba satın alınması.

- 46) Bir ülkenin kalkınmasında eğitilmiş ve nitelikli insan gücüne büyük ihtiyaç vardır. Ülkeler yetiştirdikleri nitelikli insan gücünün kendi ülkelerinde yaşamaları ve çalışmaları için büyük çaba sarf etmektedir.

Nitelikli insan gücünü elinde tutan ve eğitilmiş bireylerin fazla olduğu ülkede aşağıdakilerden hangisinin görülmesi beklenmez?

- A) Fabrikaların ürettiği ürünlerin kalitesi artar.
B) Ülkenin kalkınma hızı artar.
C) Fabrikalardaki işsizlik oranı artar.
D) Ülkenin enerji ve zaman verimliliği artar.

- 47) Tahıl, buğdaygillerden hasat edilen ürünlere ve onların tohumlarına verilen addır.

Dünyanın her yerinde yaygın olarak bulunan, yiyecek olarak tüketilen bitki ürünleridir.

Günlük hayatta ekmek ve ürünlerinin yapımlarında un halinde kullanılırlar.

Buna göre aşağıdakilerden hangisi tahıl grubunda yer alan ürünlerden değildir?

- A) Yulaf B) Çavdar C) Arpa D) Ayçiçeği

48) Taneli tarım ürünleri olarak da bilinen ve kış aylarında yoğun olarak tüketilen besin kaynaklarımıza baklagiller denir.

Buna göre aşağıdakilerden hangisi baklagiller grubunda yer alan ürünlerden değildir?

- A) Mercimek B) Nohut C) Buğday D) Fasulye

49) Ilıman kuşakta bulunan; üç tarafı denizlerle çevrili olan ülkemiz ayrıca sahip olduğu göl, baraj ve akarsuları ile su kaynakları bakımından oldukça zengindir.

Ülkemizin konumu ve sahip olduğu özellikleri düşünüldüğünde ülkemizdeki sular üzerinde;

- I- Ulaşım,
II- Turizm,
III- Enerji üretimi

faaliyetlerinden hangilerinin yapıldığı söylenebilir?

- A) I ve II B) I ve III C) II ve III D) I, II ve III

50) Ülkemizde yapılan hayvancılık türlerinden biri de koyun yetiştiriciliğidir.

Koyun yetiştiriciliğinin yoğun olarak yapıldığı bölgeler için buna bağlı olarak aşağıdakilerden hangisi söylenebilir?

- A) Her mevsim yağışlıdır ve bitki örtüsü ormandır.
B) Petrokimya sanayisi gelişmiştir.
C) Dokuma sanayisi gelişmiştir.
D) Turizm faaliyetleri yoğundur.

51) Yatırım faaliyetlerinde bulunmak isteyen bir girişimci için aşağıdakilerden hangisi yatırımın başarısızlıkla sonuçlanmasına neden olabilir?

- A) Projemi gerçekleştirmek için yeterli miktarda sermayem olmalıdır.
B) Ham madde ile üretim yapacağım fabrika arasındaki mesafe uzak olmalıdır.
C) Yapacağım yatırım sonrası üretilen ürünlerin pazarlanması için araştırma yapmalıyım.
D) Yatırım yerine yakın enerji kaynaklarının var olduğunu kontrol etmeliyim.

- 52) Uzun yıllar yurt dışında çalışan Mehmet Bey emeklilik birikimi ile yurdumuza yatırım yapıp ülkemize yarar sağlamak istemiştir.

Buna göre Mehmet Bey'in aşağıda verilen yatırım örneklerinden hangisini yapması uygun olmaz?

- A) Konya bisküvi fabrikası
- B) Bolu tavukçuluk gıda işletmesi
- C) Artvin bal yetiştiriciliği işletmesi
- D) Kayseri seracılık faaliyetleri

- 53) Devletin kamu hizmetlerini yerine getirebilmek için yasal olarak kişilerden ve kurumlardan aldığı paraya vergi denir. Vergi alma işinde tek yetkili organ devlettir. Vatandaş olarak bizler vergimizi zamanında ödersek

Verilen metinde boş bırakılan yeri aşağıdakilerden hangisi ile tamamlarsak yanlış bir ifade olur?

- A) devletin hizmet alanını genişletmiş oluruz.
- B) ülkemizin gelişimine katkıda bulunmuş oluruz.
- C) okul, hastane, yol gibi hizmetleri daha iyi koşullarda almış oluruz.
- D) ülkemizin yabancı ülkelerle olan gelişmişlik düzeyi sıralamasına olumsuz etki etmiş oluruz.

- 54) Ankara'da yıllardır kirada oturan Temel Bey kendine ait bir ev satın almıştır.

Temel bey ve ailesi yeni ev alarak aşağıda belirtilen vergi türlerinden hangisini ödemekle yükümlü olmuştur?

- A) Motorlu taşıtlar vergisi
- B) Kurumlar vergisi
- C) Emlak vergisi
- D) Özel iletişim vergisi

55)

“ Ev hanımı iken kendi işinin patronu oldu.”

Ev hanımıyken İzmir Büyükşehir Belediye'sinin İŞKUR ve KOSGEB ile birlikte açtığı girişimcilik kursuna katılan Nimet Hanım kendi işinin patronu oldu. Evde yaptığı köftelerin çok beğenilmesi üzerine Nimet Hanım kurstan bir buçuk ay sonra kendine ait köfte dükkânı açtı ve oldukça rağbet gören iş yerine kavuşup aile bütçesine büyük katkıda bulundu.

Verilen haberdeki Nimet Hanım'ın aşağıdaki özelliklerden hangisine sahip olduğu söylenemez?

- A) Mücadelecidir.
- B) Yılgınlık gösterir.
- C) Üretkendir.
- D) İşini severek yapar.

56) **Kemal:** Hayvanları seven ve hayvanlarla ilgilenip onlarla vakit geçirmekten hoşlanan biriyim.

Bekir: İnsanlarla iletişim kurabilen, öğretmeyi, öğrenmeyi seven ve sabırlı biriyim.

Olca: Sürekli araştırma yapan, deney yapmaktan hoşlanan biriyim.

Mehmet: Araçları tamir etmeyi, araçlara bakım yapmayı ve araç kullanmayı seven biriyim.

Yukarıdaki cümleleri kuran kişiler ile seçeneklerde verilen meslekler eşleştirildiğinde hangisi boşta kalır?

- A) Öğretmen B) Bilim adamı C) Avukat D) Veteriner

57) İnsanlar hem kendilerinin hem ailelerinin hem de bakmakla yükümlü olduğu kişilerin ihtiyaçlarını karşılamak için bir iş ile uğraşıp gelir elde etmek zorundadırlar. Bireylerin kazanç elde etmek için yaptıkları işler, o kişilerin mesleği olarak tanımlanır.

Buna göre meslek seçiminde aşağıdakilerden hangisine dikkat edilmesi beklenmez?

- A) Kişilerin sahip olduğu yetenekler
B) Seçeceğimiz mesleğin gerektirdiği fiziksel özellikler
C) Ailemizin hangi mesleği seçmemizi istediği
D) Seçeceğimiz mesleğe gelecekte ihtiyaç olup olmayacağı

58) **Elif:** Sabırlı biri değilim ve çabuk sinirlenirim.

Berra: Hayvanlara zarar vermem ama evcil olmayan hayvanlardan çok korkarım.

Duygu: Asansöre yalnız binmeye korkuyorum ve yükseklik korkumu yenemiyorum.

Sude: İnsanların kuralları ve yasaları ihlal etmesini onaylamıyorum ve vatandaşların güvenliğini önemsiyorum.

Buna göre aşağıdakilerin hangisinde meslek tercihinin doğru yapıldığı söylenbilir?

- A) Elif-Öğretmen B) Berra-Veteriner
C) Duygu-İnşaat mühendisliği D) Sude-Polis

59) Elektrik - elektronik ve haberleşme alanlarında kullanılıp ayrıca dünyada en çok kullanılan 2. metal türü de olan madendir. Ülkemizde Murgul (Artvin), Küre (Kastamonu) ve Maden (Elazığ)'de çıkartılır.

Verilen bilgi aşağıdaki madenlerden hangisiyle ilgilidir?

- A) Krom B) Bakır C) Demir D) Alüminyum

60) Ülkemiz bulunduğu konum, yeryüzü şekilleri ve iklimi nedeni ile su kaynakları bakımından zengin bir ülkedir. Sahip olduğumuz su kaynaklarımızdan birçok alanda faydalanmaktayız.

Aşağıdakilerden hangisinde su kaynaklarına duyulan ihtiyaç en azdır?

- A) Balıkçılık B) Ulaşım C) Madencilik D) Tarım

61) Akdeniz Bölgesi'nin bugünkü bitki örtüsü maki adını verdiğimiz kısa boylu bodur ağaçlardan oluşmaktadır. Hâlbuki Akdeniz Bölgesi'nin milattan önce 2000'li yıllardaki bitki örtüsü kaynaklarda orman olarak geçmektedir.

Akdeniz Bölgesi'nde görülen bitki örtüsü değişikliğinin sebepleri arasında aşağıdakilerden hangisi gösterilemez?

- A) Yeni tarlalar açma düşüncesi
B) Koylara yeni turistik tesisler açma düşüncesi
C) Yabani hayvanların sayısının giderek azalması
D) İnsanların bilerek çıkarttığı yangınlar

- 62) • Vergiler herkesten aynı miktarda alınır.
• Vergileri devlete istediğimiz zaman ödeyebiliriz.
• Ülkesinin gelişmesini isteyen bireyler vergi vermenin gerekliliğini bilir.
• Ödediğimiz vergiler bize okul, hastane, yol yapımı ve benzer hizmetler olarak geri döner.

Yukarıda vergi kavramı ile ilgili verilen cümlelerden kaç tanesi doğru bir ifadedir?

- A) 1 B) 2 C) 3 D) 4

63) Aşağıdakilerden hangisinin nitelikli insanın önemini ifade ettiği söylenemez?

- A) Sakla samanı gelir zamanı.
B) İş bilen kılıç kuşananıdır.
C) İşini bilmeyen kasap ne bıçak kor ne masat.
D) Usta pehlivan alttan güreşir.

- 64) Çevre dostu yenilenebilir enerji türlerinden biri de güneş enerjisidir. Güneş enerjisinden yararlanabilmek için yıl içinde güneşli gün sayısının fazla olması gerekmektedir.

Buna göre aşağıdaki illerimizden hangisinde yaşayan bireyler güneş enerjisinden diğerlerine göre daha az yararlanır?

- A) Adana B) Antalya C) Şanlıurfa D) Erzurum

- 65) • Hem sulanabilen hem de yaz kuraklığı yaşanan bölgelerde yetişir.
• GAP'tan sonra en fazla üretimi Güneydoğu Anadolu Bölgesi'nde olmaktadır.
• Ülkemizde sanayi sektöründe çalışanların en yoğun olduğu tekstil sektörünün ham maddesidir.
• Hasat döneminde üretim yerlerine yoğun mevsimlik tarım işçisi göçü yaşanmaktadır.

Özellikleri verilen tarım ürünü aşağıdakilerden hangisidir?

- A) Buğday B) Mercimek C) Pamuk D) Şeker pancarı

- 66) Ülkemizde enerji üretimi düşünüldüğünde doğa dostu yenilenebilir enerji türlerinin yanı sıra yoğun enerji tüketimine bağlı olarak çevreye zarar veren yenilenemez enerji türleri de tercih edilmektedir. Yenilenemez enerji türlerinden biri de termik santrallerden elde edilen enerjidir.

Buna göre ülkemizde termik santrallerin en fazla Ege Bölgesi'nde olmasının nedeni aşağıdakilerden hangisidir?

- A) En fazla enerji tüketiminin Ege Bölgesi'nde olması
B) Linyit madeninin en çok Ege Bölgesi'nde çıkarılıyor olması
C) Ege Bölgesi'nde çevrenin korunması ve çevre duyarlılığı konusuna insanların dikkat etmemesi
D) Yenilenebilir enerji türlerinin Ege Bölgesi'nde tercih edilmiyor olması

- 67) • Divriği, Hekimhan ve Hasaңcelebi'de çıkarılıp Ereğli, Karabük ve İskenderun'da işlenir. Kullanım alanı inşaat ve otomotiv sanayisidir.
• Guleman, Fethiye ve Köyceğiz'de çıkarılıp Elazığ ve Antalya'da işlenir. Kullanım alanı madeni eşyalar ve çeliğin sertleştirilmesi işlemidir.
• Güney Marmara, Kütahya ve Eskişehir'de çıkarılıp Balıkesir ve Eskişehir'de işlenir. Kullanım alanı uçak, jet ve roket yakıtı, cam sanayisi ve tarım ilaçlarıdır.

Yukarıda verilen bilgiler ile seçeneklerdeki madenler eşleştirildiğinde hangisi boşta kalır?

- A) Demir B) Kükürt C) Krom D) Bor

68) Yatırım yapmak isteyen bir girişimcinin dikkat etmesi gereken unsurlardan biri de ham maddeye yakınlıktır.

Buna göre Güneydoğu Anadolu Bölgesi'ne yatırım yapmak isteyen biri için aşağıdakilerden hangisi uygun değildir?

- | | |
|------------------------|-------------------|
| A) Ayçiçek yağı | B) Pamuklu dokuma |
| C) Petrokimya ürünleri | D) Un fabrikası |

69) Aşağıda ülkemizin farklı bölgelerine ait bazı özellikler verilmiştir.

- I- Denizlere sahip olması
- II- Geniş meralara sahip olması
- III- Yer altı kaynaklarının olması
- IV- Ormanlarının olması

Verilen özellikler ile aşağıdaki ekonomik faaliyetler eşleştirildiğinde hangi seçenek boşta kalır?

- | | | | |
|-----------|-----------------|----------|---------------|
| A) Ulaşım | B) Mobilyacılık | C) Tarım | D) Madencilik |
|-----------|-----------------|----------|---------------|

70) Ülkemizin farklı bölgelerinde görülen iklim tiplerine bağlı olarak farklı tarım ürünleri yetiştirilmektedir.

Buna göre aşağıda verilen eşleştirmelerin hangisinde yanlışlık yapılmıştır?

- | | |
|---------------------------|--------------------------------|
| A) Karasal iklim - Arpa | B) Akdeniz iklimi - Muz |
| C) Akdeniz iklimi - Limon | D) Karadeniz iklimi - Portakal |

71) Türkiye'nin sahip olduğu orman varlığı düşünüldüğünde aldığı bol yağışa bağlı olarak ormanları en zengin bölgemiz'dir. Orman varlığı bakımından aşırı sıcak ve şiddetli kurak nedeniyle en fakir bölgemiz ise'dir.

Yukarıda verilen boşluklara sırasıyla aşağıdakilerden hangisi gelmelidir?

- A) Karadeniz Bölgesi - Güneydoğu Anadolu Bölgesi
- B) Karadeniz Bölgesi - Akdeniz Bölgesi
- C) Akdeniz Bölgesi - Güneydoğu Anadolu Bölgesi
- D) Karadeniz Bölgesi - Doğu Anadolu Bölgesi

- 72) Devlet vatandaşlarına yol, köprü, baraj, hastane, okul yaptırır; suyumuzun ve elektriğimizin evlere ulaşmasını sağlar.

Devletin bu hizmetleri yerine getirebilmesi için vatandaşlardan beklentisi aşağıdakilerden hangisidir?

- A) Askerlik yapmak
B) Seçimlerde oy kullanmak
C) Çevreyi temiz tutmak
D) Vergi vermek

73)

SEKTÖR	2005		2013		2017	
	Kişi sayısı x 1000	%	Kişi sayısı x 1000	%	Kişi sayısı x1000	%
TARIM	5.015	25,5	5.204	21,2	5.464	19,4
SANAYİ	4.241	21,6	5.101	20,7	5.383	19,1
İNŞAAT	1.097	5,6	1.768	7,2	2.095	7,4
HİZMETLER	9.281	47,3	12.529	50,9	15.246	54,1

Yukarıdaki tabloda TÜİK'in 2005 ve 2017 yılları arasında yapmış olduğu hane halkı iş gücü anketi sonuçları verilmiştir.

Bu tabloda ülkemizde çalışanların sektörlere göre dağılımı incelendiğinde aşağıdakilerden hangisi söylenemez?

- A) 2005 - 2017 yılları arasında inşaat sektöründe çalışanların sayısı yüzde yüze yakın artış göstermiştir.
B) Sanayi sektöründe çalışanların sayısı artarken çalışan nüfus içindeki oranı düşüş göstermiştir.
C) Hizmet sektöründe çalışanların oranı her zaman tüm çalışanların oranının yarısından fazla olmuştur.
D) Tarım sektöründe çalışanların sayısı artarken tarım çalışanlarının oranında sürekli düşüş gözlemlenmiştir.

74) Aşağıdakilerden hangisi yeniliklere açık nitelikli insan gücüne örnek olamaz?

- A) Hastalıkların tedavisinde yeni yöntemler kullanıp başarılı olan doktor
B) Doğa dostu ve ham maddesi ülkemizde olan enerji kaynakları kullanıp motor üretebilen mühendis
C) Kurduğu mermer fabrikasında daha fazla üretim için işçileri yoğun çalıştıran işveren
D) Daha az enerji ile daha fazla tarımsal üretim yapabilen tarım makineleri tasarlayan mühendis

75) Ülkelerin en önemli güçlerinden biri sahip olduğu insan kaynağıdır. Ülkemiz Avrupa ülkelerine kıyasla insan kaynağı bakımından önemli bir potansiyele sahiptir. Fakat insan kaynağını daha etkili bir güce dönüştürmenin yolu da eğitimden geçer. Ülkeler sahip oldukları insan gücünü eğitim aracılığıyla nitelikli insan gücüne dönüştürdükleri ölçüde güçlü olurlar.

Nitelikli insan gücünün özellikleri düşünüldüğünde aşağıdakilerden hangisi söylenemez?

- A) Yenilikleri ve gelişmeleri takip eder.
- B) Malzemeyi, enerjiyi ve zamanı en verimli şekilde kullanır.
- C) Çalışkandır, üretkendir ve iyi bir gözlemcidir.
- D) Grup çalışması yerine bireysel çalışmayı tercih eder.

76) Sahip olduğumuz doğal kaynaklardan biri de ormanlarımızdır. Ormanlarımızın en büyük faydaları arasında oksijen üretip insan hayatını kolaylaştırması yer alır. Durum böyleyken insanlar bilerek ormanları tahrip etmekte ve her geçen yıl dünyadaki mevcut orman miktarı azalmaktadır.

Buna göre aşağıdakilerden hangisi ormanların tahrip edilmesi sonucu ortaya çıkabilecek sorunlardan biri değildir?

- A) Erozyon ve heyelan tehlikesi artar.
- B) Doğal denge bozulur.
- C) Tarım ürünlerinin verimliliği artar.
- D) Yabani hayvanlar evsiz kalır.

77) Yatırım yapmak isteyen bir girişimcinin dikkat etmesi gereken bazı unsurlar vardır. Bunlardan biri de ham maddeye yakınlık ilkesidir.

Buna göre Olcay Bey'in aşağıdaki illerimizin hangisinde un fabrikası açması uygun olur?

- A) Rize
- B) Artvin
- C) Ankara
- D) Düzce

78) Ülkemizde tarımı destekleyen kuruluşlar vardır. Bu kuruluşlardan biri, çiftçilerimizin ürettiği tarım ürünlerini satın alıp uygun depolama koşullarında saklar, üretimin çok az ya da olmadığı dönemlerde sakladığı ürünleri ihtiyaç duyulan alanlara verir.

Hakkında bilgi verilen kuruluş aşağıdakilerden hangisidir?

- A) Devlet Su İşleri
- B) Tarım Kredi Kooperatifleri
- C) Toprak Mahsulleri Ofisi
- D) Ziraat Bankası

79) Ülkemizde iklim çeşitliliğine bağlı olarak farklı tarım ürünleri yetiştirilmektedir. Tarım ürünleri kendilerine uygun iklim tipinin olduğu bölgelerde yetişme imkânı bulur.

Buna göre aşağıdaki tarım ürünlerinden hangilerinin aynı iklimde yetişmesi beklenir?

A) Zeytin - Üzüm

B) Çay - Buğday

C) Fındık - Antep fıstığı

D) Portakal - Ayçiçeği

CEVAP ANAHTARI

1)

Tarım Ürünleri

1,3,6,8,9

Mamul Maddeler

2,4,5,7,10

2) Tarım, hayvancılık, madencilik, ticaret, hizmet, turizm, sanayi, ormancılık, ulaşım.

3)

Yenilenebilir enerji

2,3,6,8

Yenilenemeyen enerji

1,4,5,7

4)

1. Nasıl bir hayat sürdürmek istiyorum?
2. Neler yapmaktan hoşlanıyorum?
3. İlgilerim ve yeteneklerim nelerdir?
4. Seçeceğim mesleğin özellikleri nelerdir?
5. Seçeceğim meslek ilgi ve yeteneklerime uygun mudur?

5)

									5			8			
									Z			L			
								7	V	E	R	G	İ		
									Y			N			
			2						T			Y			
1		K	O	P					İ			İ			
		4		E	R	O	Z	Y	O	N		T			
	9		T												
3		T	A	R	İ	M									
	U		O		E										
	R		L		S										
	İ				L										
	Z				E										
	M				K										

6)

Ormanların faydaları	A-D-G
Ormanların azalma nedenleri	B
Erozyonu önlemek için alınan tedbirler	C-H
Erozyonun olumsuz etkileri	E-F

7) Taş kömürü – Doğal gaz

8) Aşağıda verilen boşluklara uygun gelecek ifadeleri yazınız.

* çay her mevsim yağış isteyen bir bitkidir ve ülkemizde sadece Doğu Karadeniz kıyılarında her mevsim yağış görülür.

* Akdeniz Bölgesi'nde tarım ile ilgilenenler muz, kivi, portakal gibi ekonomik getirisi fazla olan ürünleri yetiştirmeyi tercih ederler.

* Erzurum-Kars Bölümünde yaz yağışları ile geniş otlaklar ortaya çıkar ve büyükbaş hayvanlar yeterince beslenebilir.

9)

Açıklama	Linyit	Taş kömürü	Petrol	Doğal gaz	Güneş enerjisi	Jeotermal enerji	Hidroelektrik enerji
Tamamı Zonguldak'tan çıkarılan ve demir çelik sanayisinde kullanılan enerji türüdür.		X					
Evlerde ısınma amaçlı kullanmanın yanı sıra termik santralde elektrik üretimi için kullanılır. En fazla Soma ve Tunçbilek'te çıkar.	X						
Otomobil ve termik santrallerde kullanılıp en fazla Güneydoğu Anadolu'da çıkarılır.			X				
Çevreyi en az kirleten tükenbilir enerji kaynağıdır.				X			
Güneşli gün sayısının fazla olduğu şehirlerde kullanılan enerji türüdür.					X		
Akarsular üzerine kurulan santrallerde üretilen enerji türüdür.							X
Fay hatlarının bulunduğu yerlerden çıkan sıcak su buharı ile üretilen enerjidir.						X	

10) Aşağıdaki bilgiler doğru ise yay ayraç içine “D”, yanlış ise “Y” yazınız.

- (D) Fosil enerji kaynakları kömür, petrol, doğal gazdır.
(Y) Bor en fazla Uşak ilimizden çıkarılır.
(Y) Fabrikalarda ham madde olarak kullanılan tarım ürünlerine organik tarım ürünleri denir.
(D) Yatırım yapabilmek için gerekli olan unsurlardan biri de sermayedir.
(D) Doğal kaynakları bilinçsizce tüketirsek karşılaştığımız sorunlardan biri de erozyondur.
(D) Eğimli tarım arazilerinde tarlayı eğime dik sürmek erozyonu engellemek için alınan önlemlerden biridir.
(Y) Kâğıt fabrikası için en uygun bölge Güneydoğu Anadolu Bölgesidir.

11) Aşağıda verilen açıklamalar ile kavramları örnekteki gibi eşleştiriniz.

A	Yenilenebilir enerji kaynağı	Petrol	C
B	Yatırım yapabilmek için gerekli olan unsurlardan biri	Nitelikli insan	E
C	Yenilenemez enerji kaynağı	Rüzgâr	A
D	Çalışan vatandaşların gelirlerinin bir kısmını devlete vermesi	Pazar	B
E	İşini en iyi ve başarılı şekilde yapan kimse	Öğretmenlik	F
F	Konuşkan ve sabırlı olan kişilerin tercih ettiği meslek	Vergi	D

- 12) C
13) B
14) A
15) D
16) B
17) D
18) D
19) C
20) C
21) D
22) A
23) A
24) A
25) C
26) C
27) C
28) B
29) B
30) C
31) D
32) B
33) C
34) D
35) D
36) C
37) C
38) D
39) C
40) D
41) A
42) C
43) A
44) D
45) D

- 46) C
47) D
48) C
49) D
50) C
51) B
52) D
53) D
54) C
55) B
56) C
57) C
58) D
59) B
60) C
61) C
62) B
63) A
64) D
65) C
66) B
67) B
68) A
69) C
70) D
71) A
72) D
73) C
74) C
75) D
76) C
77) C
78) C
79) A



meb.gov.tr