

## GEOMETRİK ŞEKİLLERİ SINIFLANDIRMA

Aşağıdaki geometrik şekillerle ilgili verilen bilgilerde yer alan noktalı yerleri doldurunuz.



Merhaba benim adım .....

..... kenarım ve ..... köşem var. Kenar

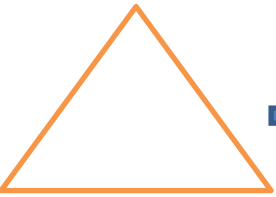
uzunluklarım ..... eşittir.



Merhaba benim .....

..... kenarım ve ..... köşem var.

Karşılıklı ..... uzunluklarım birbirine eşittir.




Merhaba benim adım .....

..... kenarım ve ..... köşem var.


Kenar uzunluklarım ..... ya da farklı olabilir.

## GEOMETRİK ŞEKİLLERİ SINIFLANDIRMA



Merhaba benim adım .....

Kenarım ve .....yoktur.



Merhaba benim adım .....

Çemberin içi ..... haliyim.

Aşağıda verilen ifadeleri okuyunuz. İfade doğru ise " D " yanlış ise " Y " yazınız.

..... Kare ile dikdörtgenin kenar ve köşe sayıları birbirine eşittir.

..... Çemberin kenar uzunlukları birbirine eşittir.

..... Dikdörtgenin 4 kenarı vardır.

..... Karenin 3 köşesi vardır.

..... Çemberin köşesi yoktur.

..... Dikdörtgenin tüm kenarları birbirine eşittir.