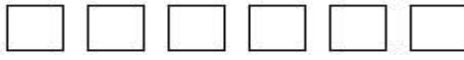
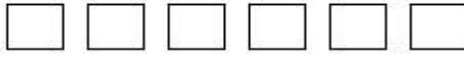
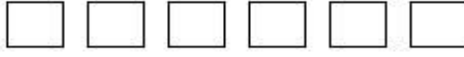


Bir Çokluğun Birim Kesir Kadarını Bulma

Aşağıdaki şekillerin belirtilen kesir sayısı kadarını, örnekteki gibi bulup boyyalım.



$$\frac{1}{5} \rightarrow 15 \div 5 = 3$$



$$\frac{1}{6} \rightarrow \dots\dots\dots$$



$$\frac{1}{7} \rightarrow \dots\dots\dots$$



$$\frac{1}{3} \rightarrow \dots\dots\dots$$



$$\frac{1}{5} \rightarrow \dots\dots\dots$$




$$\frac{1}{7} \rightarrow \dots\dots\dots$$



$$\frac{1}{4} \rightarrow \dots\dots\dots$$




$$\frac{1}{8} \rightarrow \dots\dots\dots$$




$$\frac{1}{7} \rightarrow \dots\dots\dots$$



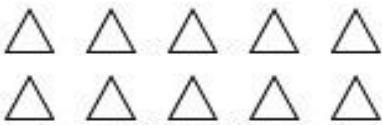
$$\frac{1}{5} \rightarrow \dots\dots\dots$$



$$\frac{1}{3} \rightarrow \dots\dots\dots$$




$$\frac{1}{4} \rightarrow \dots\dots\dots$$



$$\frac{1}{2} \rightarrow \dots\dots\dots$$



$$\frac{1}{3} \rightarrow \dots\dots\dots$$



$$\frac{1}{6} \rightarrow \dots\dots\dots$$

PROBLEMLER

1. 24 kiři olan sınıfımızın $\frac{1}{3}$ i erkek olduđuna göre kızlar kaç kiřidir?

8		
---	--	--

erkek kız

$24 \div 3 = 8$ erkek öğrenci sayısı
 $24 - 8 = 16$ kız öğrenci vardır.

2. 32 tane olan kalemlerimin $\frac{1}{4}$ ini kardeřime verdim. Geriye kaç kalemim kaldı?

--	--	--	--

3. 48 tane olan misketlerimin $\frac{1}{6}$ ini arkadaşıma verdim. Kaç misketim kaldı?

--	--	--	--	--	--

4. 96 fındığın $\frac{1}{9}$ ini yedim. Geriye kaç fındık kalır?

--	--	--	--	--	--	--	--	--

5. Annem 50 yaşındadır. Benim yaşımla annemin yaşının $\frac{1}{5}$ i olduđuna göre ben kaç yaşındayım?

--	--	--	--	--

6. Dedem 72 yaşındadır. Benim yaşımla dedemin yaşının $\frac{1}{8}$ i olduđuna göre dedem kaç yaşındadır?

--	--	--	--	--	--	--	--

7. Bir çiçekçinin bir günde sattığı 27 çiçeğin $\frac{1}{3}$ i karanfil, diğerkleri papatyadır. Bir günde kaç tane papatya satmıştır?

--	--	--

8. Akif 90 TL olan parasının $\frac{1}{6}$ ini abisine verdi. Geriye kaç TL parası kaldı?

--	--	--	--	--	--