

MATEMATİK TEKRAR ÇALIŞMASI 2

Verilen sayıların okunuşlarını yazınız.

Verilen sayıları rakamlarla yazınız.

81.....



elli beş.....

31.....

on yedi.....

42.....



kırk.....

Aşağıdaki toplama ve çıkarma işlemlerini zihinden yapınız.

$$19 + 29 = \dots\dots\dots 80 - 10 = \dots\dots\dots 50 - 30 = \dots\dots\dots 15 + 23 = \dots\dots\dots$$

$$10 + 27 = \dots\dots\dots 18 + 15 = \dots\dots\dots 80 - 40 = \dots\dots\dots 40 - 10 = \dots\dots\dots$$

Kutuların altına bilyelerin kaç onluk ve kaç birlikten oluştuğunu yazınız.



..... onluk + birlik

..... onluk + birlik

..... onluk + birlik

Beşer ritmik sayarken 6. söylediğimiz sayı kaçtır?

Üçer ritmik sayarken 5. söylediğimiz sayı kaçtır?

İkişer ritmik sayarken 10. söylediğimiz sayı kaçtır?

İkişer ritmik sayarken 4. söylediğimiz sayı kaçtır?

53, 51, 49, 48, 45, 43 örüntüsünü bozan sayıyı bulun.

21, 25, 29, 33, 37, örüntüsünde noktalı yere kaç yazılmalıdır?

71, 68, 65, 62, 59, örüntüsünde noktalı yere kaç yazılmalıdır?



MATEMATİK TEKRAR ÇALIŞMASI 2

Verilen sayıların okunuşlarını yazınız.

Verilen sayıları rakamlarla yazınız.

85.....



kırk dokuz.....

64.....

seksen bir.....

60.....




yetmiş altı.....

Aşağıdaki toplama ve çıkarma işlemlerini zihinden yapınız.

$$70 - 30 = \dots\dots\dots 60 - 50 = \dots\dots\dots 11 + 16 = \dots\dots\dots 25 + 24 = \dots\dots\dots$$

$$50 - 30 = \dots\dots\dots 17 + 18 = \dots\dots\dots 90 - 30 = \dots\dots\dots 28 + 16 = \dots\dots\dots$$

Kutuların altına bilyelerin kaç onluk ve kaç birlikten oluştuğunu yazınız.



..... onluk + birlik

..... onluk + birlik

..... onluk + birlik

Üçer ritmik sayarken 8. söylediğimiz sayı kaçtır?

Üçer ritmik sayarken 4. söylediğimiz sayı kaçtır?

Beşer ritmik sayarken 8. söylediğimiz sayı kaçtır?

İkişer ritmik sayarken 10. söylediğimiz sayı kaçtır?

19, 23, 27, 31, 38, 39 örüntüsünü bozan sayı hangisidir?

23, 19, 15, 11, 7, örüntüsünü devam ettirdiğinizde hangi sayıya ulaşırsınız?

59, 56, 53, 50, 47, örüntüsünü devam ettirdiğinizde hangi sayıya ulaşırsınız?

