

7.SINIF 3. ÜNİTE ÇALIŞMA FASİKÜLÜ

SOSYAL BİLGİLER

Bu kitapçık KIRIKKALE Ölçme Değerlendirme Merkezi
tarafından hazırlanmıştır.



1. Aşağıda verilen resimlere göre boşlukları uygun şekilde doldurunuz.

a)




- Görseldeki bölgenin nüfus yoğunluğu:
- Nedenler:
- Örnek:

b)



- Görseldeki bölgenin nüfus yoğunluğu:
- Nedenler:
- Örnek:

c)



- Görseldeki bölgenin nüfus yoğunluğu:
- Nedenler:
- Örnek:

2. Göç olayı bazı nedenlerden dolayı meydana gelen nüfus hareketleridir. Çevremizde de çoğu zaman bazen biz bazen de başkalarının göç olayı içerisinde yer aldığına şahit olmuşuzdur. Bununla ilgili bir soru sorulduğunda göçe dair anılarınızı anlatabilirsiniz. Peki, okuduğunuz bir roman, izlediğiniz bir film ya da belgeselde göç olgusuyla hiç karşılaştınız mı? Buna dikkat ettiniz mi?

Göç olgusuyla karşılaştıysanız ve ona dikkat ettiyseniz;

- Hangi roman?
- Hangi film?
- Hangi belgesel?

olduğunu belirtiniz. Bahsi geçen durumda göç etme nedenini yazınız. Sizin bu göç olayından etkilenme nedeninizi belirtiniz.

3. Bir adada yaşıyorsun ve bu adadan ayrılman gerekiyor. Gideceğin yerin özelliklerini belirleme hakkını sana bırakıyorlar; fakat bu yerin sadece üç özelliğini seçebiliyorsun. Tercih edeceğin yerlerin özellik listesi aşağıda seninle paylaşılıyor.

Buna göre tercih edeceğin yerde hangi özelliğin yer almasını istiyorsanız yanına işaret koyunuz ve bunun nedenini açıklayınız.

ÖZELLİK	İŞARET İLE BELİRTİLECEK ALAN	NEDENİ
Denize kıyısı olan yer		
Tarım ve hayvancılığa elverişli yer		
İklim şartları uygun yer		
Ticaretin geliştiği yer		
Tarihi ve kültürel değeri olan yer		
Başkent olan bir yer		
Kutsal bir yer		
Maden kaynaklarının olduğu bir yer		
Turizmin geliştiği yer		
Sanayi ve teknolojinin geliştiği yer		
İrmak ve göl kenarı		

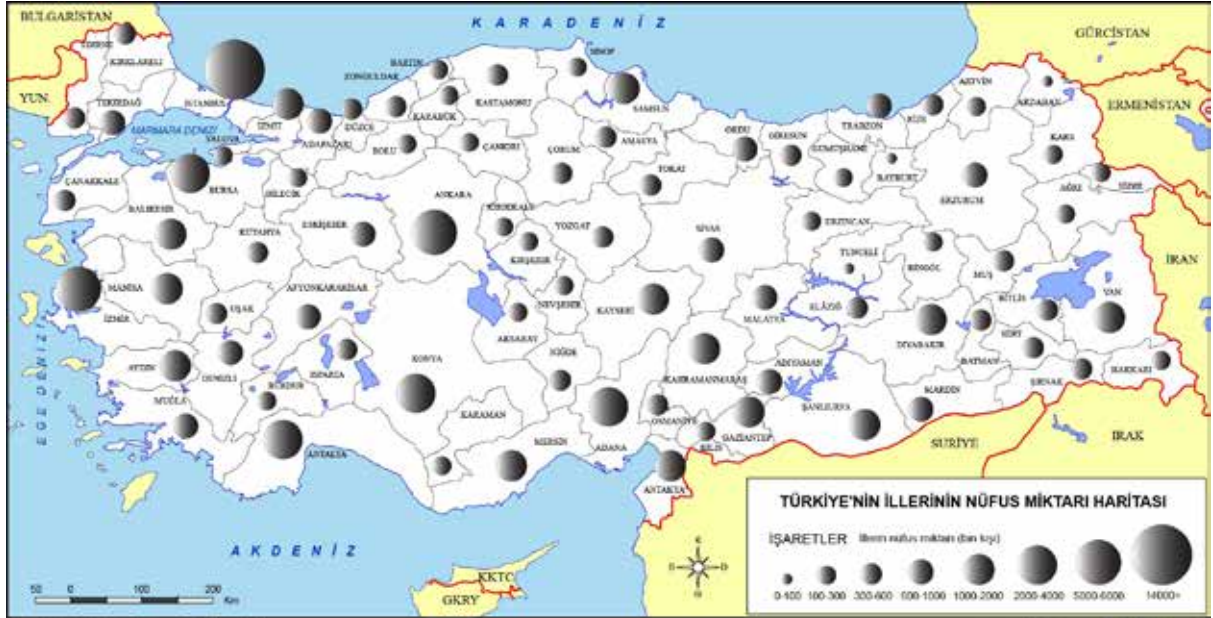
4. Kutucukların yanında harfleri karışık olarak verilen kavramları bularak kutucuklara yazınız. Numaralanmış harfleri aşağıdaki şifre kutucuklarına uygun olacak şekilde yerleştirerek şifreyi çözünüz.

	9					5	İKONOME
		8				1	MİĞETİ
4			7				KAĞSIL
			3				AŞVAS
		2					ÖRTER
6							BAMEDELÜ

Şifre :

<input type="text"/>	<input type="text"/>	<input type="text"/>	<input type="text"/>	<input type="text"/>	<input type="text"/>	<input type="text"/>	<input type="text"/>	<input type="text"/>
1	2	3	4	5	6	7	8	9

5.



Yukarıda belirtilen iki harita karşılaştırıldığında nüfus miktarı ve nüfus yoğunluğu arasındaki ilişki nasıl açıklanabilir?



6. İstanbul'un TÜİK verilerine göre aşağıda karışık hâlde verilen yıl ve nüfus verilerini grafik şeklinde düzenleyerek grafiği yorumlayınız.

(2014)	(2017)	(2010)	(2015)	(2013)	(2016)	(2012)	(2011)
14.337.018	15.029.231	13.225.685	14.657.434	14.160.467	14.804.116	13.854.740	13.624.240

Nüfus



Yıl



Empty box for drawing the population graph.

7. "Seyahatin önündeki tek engel kapının eşiğidir." (Boşnak atasözü)

"Herkes, yerleşme ve seyahat hürriyetine sahiptir. (...) Seyahat hürriyeti, suç soruşturma ve kovuşturması sebebiyle ve suç işlenmesini önlemek amaçlarıyla kanunla sınırlanabilir." (Anayasamızın 23. maddesi).

Yukarıda verilen Boşnak atasözünde anlatılmak istenen ile anayasamızın 23. maddesinde belirtilen seyahat hürriyetini kısıtlayan durumları karşılaştırarak yorumlayınız.

Empty box for comparing the Boşnak saying with the 23rd article of the Constitution regarding travel freedom.

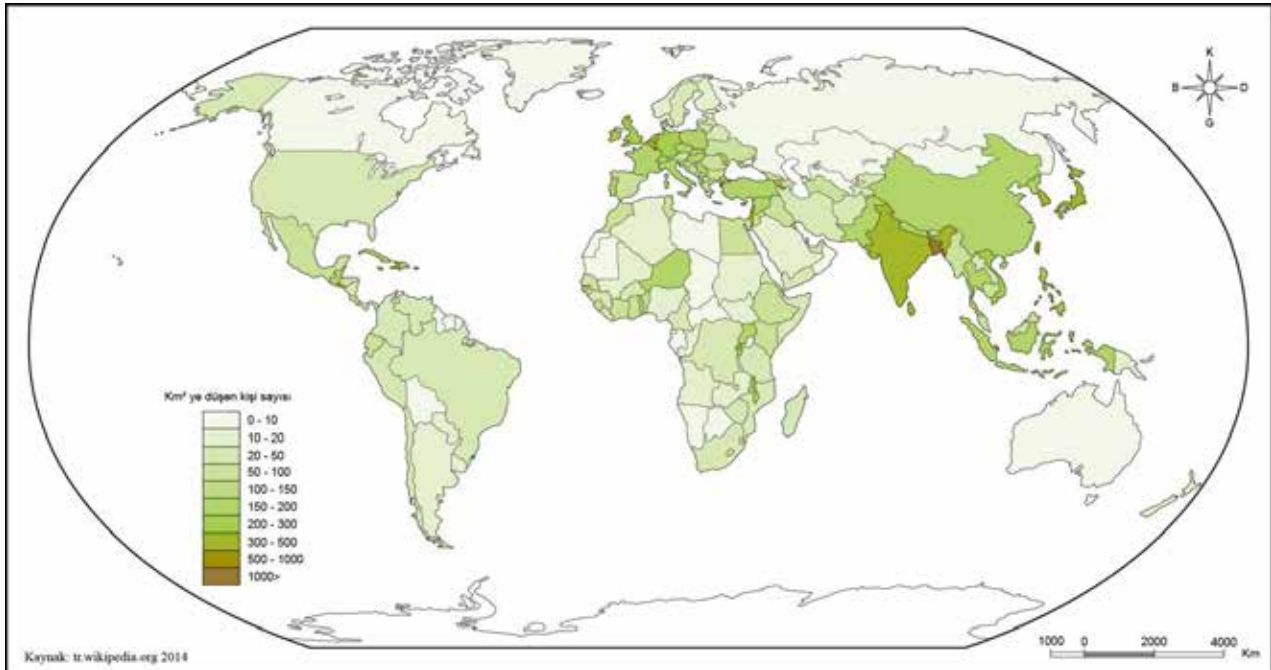
8.

Su kaynakları	Adrese dayalı kayıt sistemi	Savaş
Ekonomi	Dış göç	Mübadele

Tabloda verilen ifadeleri cümlelerde boş bırakılan yerlere uygun şekilde yazınız.

- ülkeler arasında gerçekleşen nüfus hareketidir.
- Nil Nehri'nde yerleşmeye etki eden en önemli faktörlerdendir.
- savaş nedeniyle yapılan nüfus değişimidir.
- Nüfus sayımı adrese dayalı olarak ile yapılmaya başlamıştır.

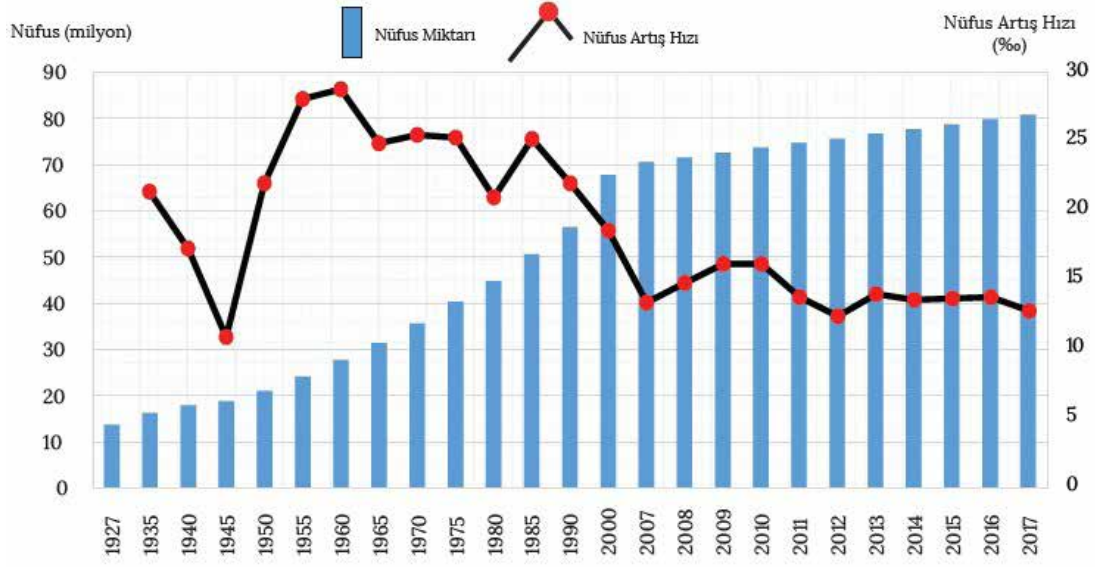
9.



Yukarıda 2014 yılına ait Dünya Nüfus Yoğunluğu Haritası'nda kilometrekareye (km^2) düşen kişi sayısı gösterilmiştir. Buna bağlı olarak belirtilen yargılardan doğru olanların başına "D", yanlış olanların başına "Y" yazınız.

- (...) Nüfus yoğunluğunun en fazla olduğu yer Asya kıtasındadır.
- (...) Kilometrekareye düşen insan sayısı farklılığının en büyük nedeni yeryüzü şekilleridir.
- (...) Denize kıyısı olan yerler aynı nüfus yoğunluğuna sahiptir.
- (...) Kutup bölgeleri nüfus yoğunluğunun az olduğu yerlerdendir.

10. Aşağıda Türkiye'nin nüfus miktarı ve nüfus artış hızı grafiği verilmiştir.



Verilen grafiğe göre aşağıdaki ifadelerden doğru olanların başına "D", yanlış olanların başına "Y" yazınız.

- (....) Türkiye'de nüfus sürekli artmıştır.
- (....) Türkiye'de nüfusun en fazla olduğu yıl 1960'tır.
- (....) Türkiye'de nüfus artış hızı sürekli artış göstermiştir.
- (....) Türkiye'de nüfus artış hızı en fazla 1945-1955 yılları arasındadır.
- (....) Türkiye'de 2009-2010 yılları arasında nüfus sabit kalmıştır.

11. Aşağıda verilen illeri uygun açıklamalar ile yanlarında bulunan harfleri kullanarak eşleştiriniz.

A	Zonguldak
B	İzmit
C	Adana
D	İstanbul
E	Antalya
F	Konya
G	Batman
H	Kırıkkale

....	Ülkemizde tahıl ambarı olarak bilinen ilimizdir.
....	Ülkemizde en verimli topraklarına sahip ilimizdir.
....	Ülkemizde petrolün en çok çıkarıldığı ilimizdir.
....	Ülkemizin en fazla nüfus yoğunluğuna sahip ilimizdir.
....	Ülkemizde silah sanayisinin en çok geliştiği ilimizdir.
....	Ülkemizde taş kömürünün en çok çıkarıldığı ilimizdir.
....	Ülkemizde turizm faaliyetlerinin çok olduğu ilimizdir.
....	Ülkemizde sanayi faaliyetlerinin geliştiği ilimizdir.

15. Aşağıda verilen ifadeleri nüfus dağılımını etkilemeleri açısından doğru bölümlere yazınız.

SEYREK NÜFUS

- Düz arazi
- Çorak topraklar
- Soğuk iklim şartları
- Yetersiz tatlı su kaynakları
- Verimli topraklar
- Dağlık arazi
- Ulaşım zorluğu
- Yeterli tatlı su kaynakları
- Ulaşım kolaylığı
- Ilıman iklim şartları

YOĞUN NÜFUS

16. Aşağıda verilen tablodaki bilgilere göre verilen ifadelerden doğru olanların başına "D", yanlış olanların başına "Y" yazınız.

İller	Yüz ölçümü (km ²)	Nüfus miktarı
Konya	38.873	2.403.053
Kırıkkale	4.791	286.602
İstanbul	5.343	15.519.267
Erzurum	25.066	767.848
Antalya	20.177	2.511.700

(...) Nüfus yoğunluğu en az olan ilimiz Kırıkkale'dir.

(...) Nüfus yoğunluğu en fazla olan ilimiz İstanbul'dur.

(...) Konya'nın nüfus yoğunluğu Erzurum'un nüfus yoğunluğundan fazladır.

(...) Antalya'nın nüfus yoğunluğu İstanbul'un nüfus yoğunluğuna eşittir.

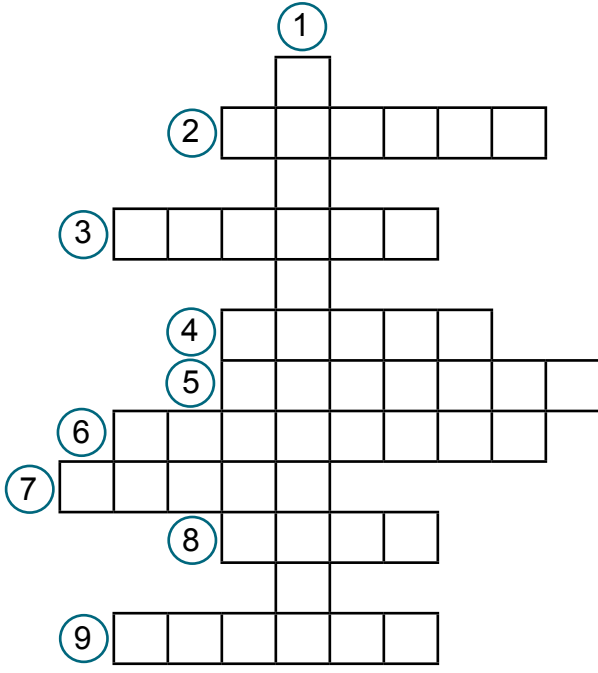
(...) Trabzon'un nüfus yoğunluğu Kırıkkale'nin nüfus yoğunluğundan azdır.

17. Aşağıda verilen bilgileri uygun göç çeşitleri ile eşleştiriniz.

A	Babamın işi nedeniyle 20 yıl önce Kırıkkale'ye yerleştik. O zamandan beri Kırıkkale'de yaşıyoruz.
B	Ailemle birlikte fındık toplamak için Giresun'a gittik.
C	Bilgisayar mühendisiyim. Daha iyi iş imkânları olduğu için Amerika'ya yerleştim.
D	Fabrikada çalışmak için Almanya'ya gittim ve oraya yerleştim.

.....	Mevsimlik Göç
.....	Dış Göç
.....	İç Göç
.....	Beyin Göçü

18. Aşağıda verilen bulmacayı çözünüz.



1. Dağ, ova, plato gibi yeryüzünde bulunan oluşumların genel adı.
2. İnsan ile ilgili, insanoğluna ait olan.
3. Yerleşim yerleri arasında bir yerden bir yere gidiş geliş.
4. Bir yerde uzun bir süre boyunca gözlemlenen ortalama hava olayları.
5. Para kazanmak amacıyla yapılan her türlü alım satım faaliyeti.
6. İnsanların bir yerde sürekli yaşamak amacıyla bulunması.
7. İnsan eli değmemiş, beşeri olmayan.
8. İlçe ve ilçeden büyük, insanların yoğun olarak yaşadığı yerleşim yeri.
9. Gezmek, görmek, dinlenmek ve eğlenmek amacıyla yapılan gezi.

19. Aşağıda verilen şehirlerde nüfusun yerleşmesinde ve gelişmesinde en fazla etkili olan bir unsuru işaretleyiniz?

ŞEHİR	SANAYİ	TARIM	EĞİTİM	TİCARET	TURİZM	MADENCİLİK
Adana						
Eskişehir						
Kocaeli						
Antalya						
Zonguldak						

20. Aşağıda verilen ifadeleri nüfus dağılımını etkilemeleri açısından doğru bölümlere yazınız.

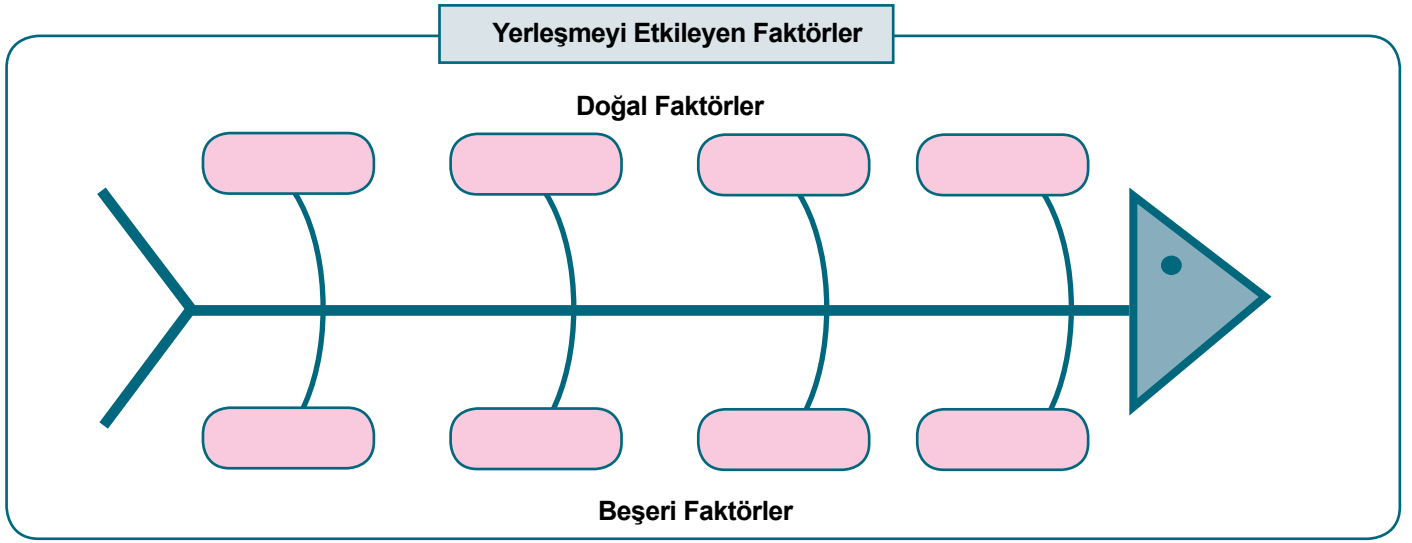
Afetler	Ulaşım kolaylığı	Su kaynakları
Sağlık imkânları	İş imkânları	İklim
Eğitim imkânları	Yer altı kaynakları	

BEŞERİ FAKTÖRLER

DOĞAL FAKTÖRLER

21. Aşağıda verilen ifadeleri balık kılıçındaki uygun yerlere yazınız.

İklim Tarım Ulaşım Madencilik Yer Şekilleri Bitki Örtüsü Sanayi Su Kaynakları



22. Cümlelerde boş bırakılan yerleri uygun ifadeler ile tamamlayınız.

ırmaklar	madencilik	ticaret	engebeli
gür ormanlar	Kayseri	mağaralar	düz

- a) Yer şekillerinin..... olduğu yerler, yerlere göre daha yoğun nüfusa sahiptir.
- b) bir bölgede yerleşmenin yoğunlaşmasını olumsuz etkiler.
- c) Eski çağlarda insanlar tarafından barınak olarak kullanılmıştır.
- d) Zonguldak'ta yerleşmenin yoğun olmasının temel nedenidir.

23. Aşağıdaki ifadelerden doğru olanların başına "D", yanlış olanların başına "Y" yazınız.

- (...) Ülkemizde dağların kuzey yamaçları güney yamaçlarına göre daha yoğun yerleşmelere sahiptir.
- (...) Türkiye'nin nüfusu ülkenin her tarafına eşit dağılmıştır.
- (...) İç göçler sonucunda bir ülkenin toplam nüfusu değişmez.
- (...) En fazla göç alan bölgemiz Marmara Bölgesi'dir.
- (...) Nüfus yoğunluğunun en fazla olduğu ilimiz Konya'dır.


24. Aşağıda verilen bilgileri okuyunuz ve ilgili olduğu göç türünü yazınız.

- a) Hakan Bey üniversiteyi bitirdikten sonra çalışmalarını devam ettirmek için İngiltere'ye yerleşmiştir.
- b) Irak' ta yaşayan Mahmut ve ailesi buradaki iç savaştan kaçarak Türkiye'ye yerleşmiştir.
- c) Kemal Bey pamuk toplama mevsiminde memleketinden Çukurova'ya gelmiş ve işi bittikten sonra geri dönmüştür.
- d) Ankara'daki Gazi Üniversitesi Türk Dili ve Edebiyatı Öğretmenliği Bölümünü kazanan Aylin, eğitimini tamamlayabilmek için Ankara'ya yerleşti.

25. Aşağıdaki tabloda verilen ifadeler ile uygun oldukları kavramları işaretleyiniz.

	YERLEŞME ÖZGÜRLÜĞÜ	SEYAHAT ÖZGÜRLÜĞÜ
Koronavirüs olarak bilinen COVID-19 virüsünün yayılmasından dolayı Türkiye'den bazı ülkelere, bu ülkelere de Türkiye'ye geliş-gidişler durdurulmuştur.		
Salda Gölü ve çevresi Kültür ve Turizm Bakanlığı tarafından koruma altına alınmıştır. Bu nedenden dolayı buraya konut yapmak yasaklanmıştır.		

26. Aşağıda verilen bulmacayı çözünüz.



1. Sınırları belli bir alanda yaşayan kişi sayısı.
2. Ülkemizde nüfus yoğunluğu en fazla olan şehrimiz.
3. Ülkemizde nüfus yoğunluğu en az olan şehrimiz.
4. Bir ülkede doğum oranlarının ölüm oranlarından fazla olmasından kaynaklı nüfus artış nedeni.
5. Kilometrekareye düşen kişi sayısı.
6. Yerleşmeyi etkileyen kara, deniz, hava, demiryollarının genel adı.

27. Aşağıdaki tabloda verilen ifadelerden uygun olanları kullanarak cümlelerde boş bırakılan yerleri doldurunuz.

Türkiye İstatistik Kurumu	2000
Nüfus Müdürlüğü	II. Mahmut
1935	Adrese Dayalı Nüfus Kayıt Sistemi
1927	III. Selim

- Osmanlı Devleti'nde ilk nüfus sayımı..... döneminde 1831 tarihinde orduya kaç asker alınacağını öğrenmek ve halktan alınacak vergiyi hesaplamak için yapılmıştır.
- Cumhuriyet dönemi ilk nüfus sayımı..... yılında yapılmıştır.
- Türkiye 2007 yılından itibaren geçmiş ve nüfus sayımında sokağa çıkma yasağı uygulamasını kaldırmıştır.
- Ülkemizde en son genel sayım yılında yapılmıştır.
- Türkiye'de nüfus sayımı..... tarafından yapılır ve sonuçlar değerlendirilerek ilgili kurumlarla elde edilen bilgiler paylaşılır.

28. Aşağıdaki tabloda bazı yerleşim yerlerinin özellikleri ile yerleşmeyi etkileyen “doğal” ve “beşeri” nedenler verilmiştir.

Verilen özelliklerin yerleşmeyi etkileyen doğal ve beşeri nedenlerin hangisiyle ilişkili olduğunu ✓ ile işaretleyiniz.

Yerleşim Yerlerinin Özellikleri	Yerleşmeyi Etkileyen Doğal Nedenler				Yerleşmeyi Etkileyen Beşeri Nedenler					
	İklim	Yer Şekilleri	Bitki Örtüsü	Su Kaynakları	Sanayi	Tarım	Turizm	Ulaşım	Madencilik	Sosyal ve Kültürel Etkinlikler
İlk Çağ insanların tarım yapabilmek için su kenarlarına yerleşmesi										
Kış mevsiminin ılık geçmesinden dolayı Ege Bölgesi'nin yerleşim yeri olarak tercih edilmesi										
Taş kömürünün ülkemizde çıktığı tek yer olan Zonguldak'ın yerleşim yeri olarak tercih edilmesi										
Yaz sıcaklıklarının uzun sürmesine bağlı olarak denize girme süresinin uzun olduğu, tarihî ve doğal güzellikleri bulunan Antalya'nın yerleşim yeri olarak tercih edilmesi										
Engebesi ve yükseltisi fazla olan Hakkâri yöresinin nüfusunun seyrek olması										
Gür ormanların bulunduğu Doğu Karadeniz Bölümü'nde nüfusun seyrek olması										
Üniversitelerin, sanatsal, kültürel etkinliklerin yoğun olduğu Ankara'nın yerleşim yeri olarak tercih edilmesi										
Fabrika ve iş imkânlarının fazla olduğu Marmara Bölgesi'nin yerleşim yeri olarak tercih edilmesi										
Yolların kavşak noktasında yer alan hava alanı, demiryolu, limanı bulunan İstanbul'un ülkemizin nüfusu en fazla olan şehri olması										

29.



Yukarıda verilen 2019 yılına ait Nüfus Yoğunluğu Haritası'nda illerin nüfus yoğunlukları gösterilmektedir. Bazı illerde nüfus yoğunluğu fazla iken bazılarında nüfus yoğunluğu azdır.

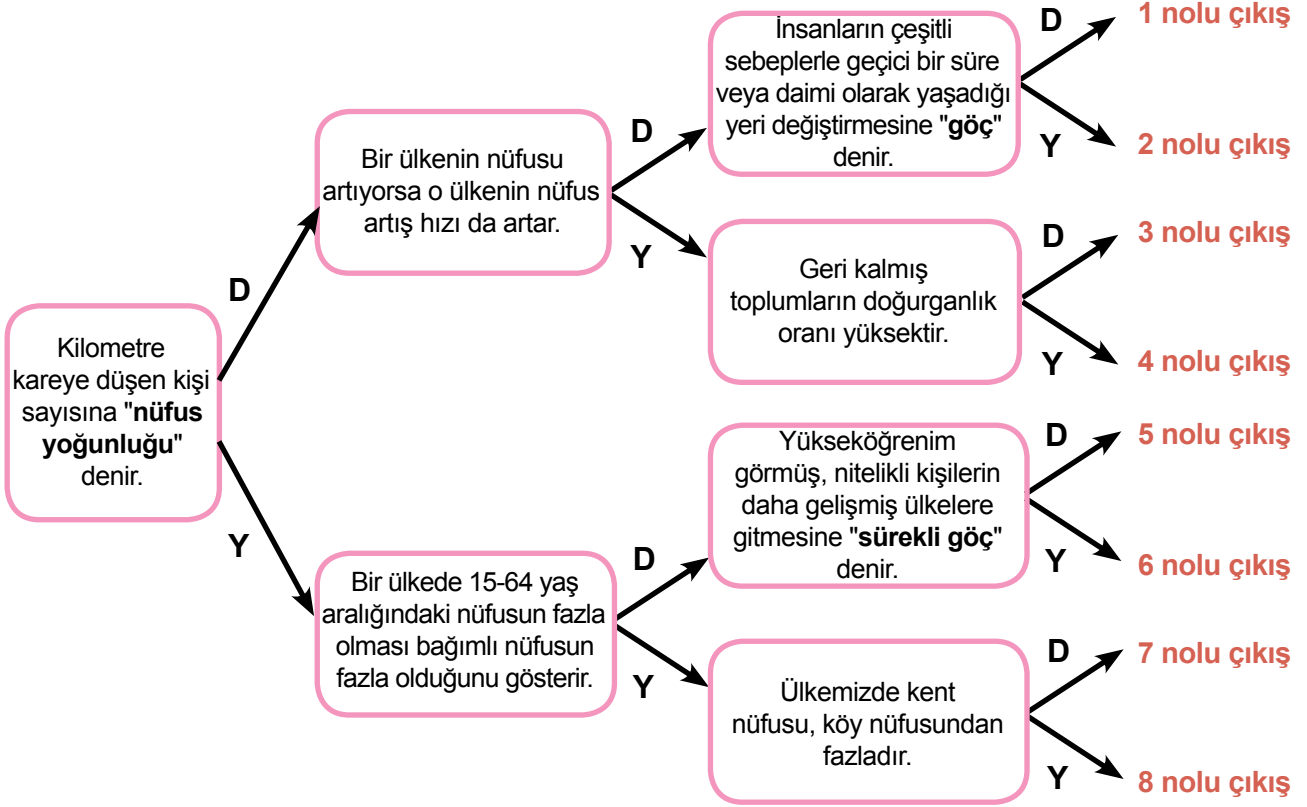
2019 Nüfus Yoğunluğu Haritası incelendiğinde;

a) Nüfus yoğunluğu en fazla olan il hangisidir?	
b) Nüfus yoğunluğu en az olan il hangisidir?	
c) Nüfus yoğunluğu en fazla olan ilk 3 il hangileridir?	
d) Kuzeydoğumuzda yer alan Kars- Erzurum yöresinin nüfus yoğunluğunun az olmasının sebebi nedir?	
e) Nüfus yoğunluğu en az olan bölge hangisidir?	

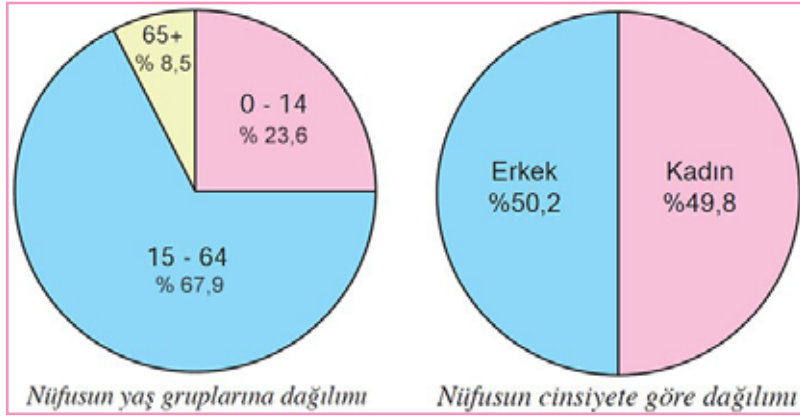
30. Tabloda verilen nüfus artışının sonuçlarını olumlu veya olumsuz olarak uygun kutucuklara işaretleyiniz.

NÜFUS ARTIŞININ SONUÇLARI	OLUMLU	OLUMSUZ
Üretim artar.		
Vergi gelirleri artar.		
Altyapı sorunları ortaya çıkar.		
Konut sıkıntısı yaşanır.		
Mal ve hizmet talepleri artar.		

31. Aşağıda verilen bilgiler doğru ise "D" harfini, yanlış ise "Y" harfini seçerek doğru çıkışa ulaşınız.



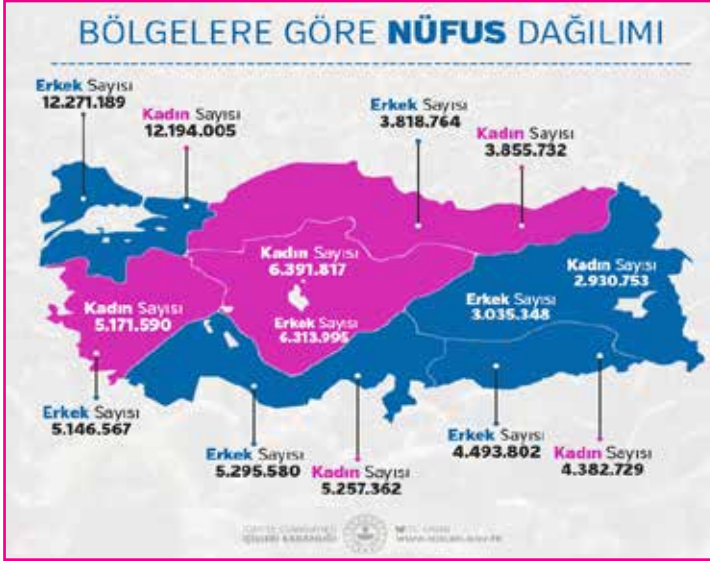
32.



Verilen grafiğe göre aşağıdaki ifadelerde doğru olanların başına "D", yanlış olanların başına "Y" yazınız.

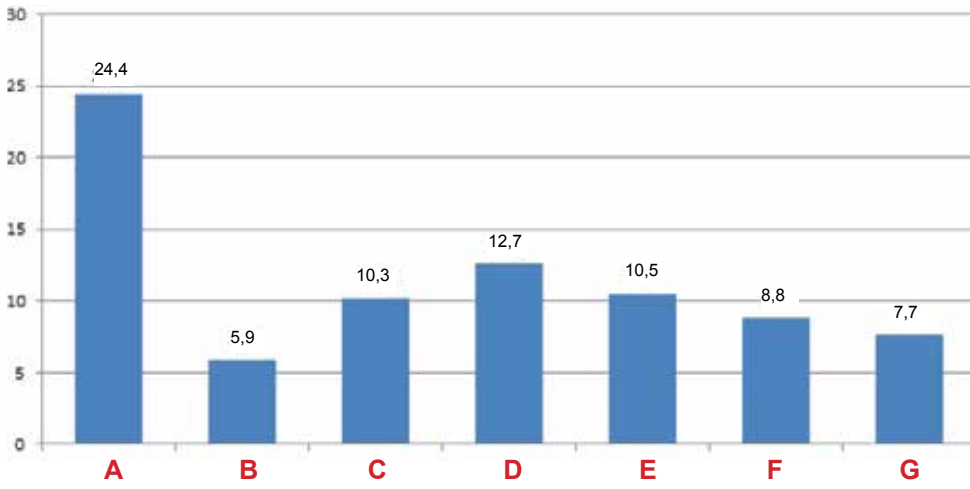
- (....) Ülkemizde bağımlı olan nüfus, aktif nüfus sayısından azdır.
- (....) 0-14 yaş grubu oranı 65 yaş üstü grubundan daha azdır.
- (....) Ülkemizde kadın nüfus oranı ile erkek nüfus oranı birbirine yakındır.
- (....) Erkek nüfusun büyük bölümü tarım alanında çalışmaktadır.
- (....) Yaş dağılımı verileri incelendiğinde ülkemiz gelişmekte olan bir ülkedir.

33.



Yanda İçişleri Bakanlığının yayımlamış olduğu bölgelere göre kadın ve erkek nüfus dağılımı verilmiştir.

Buna göre 7 bölgemizin nüfus dağılımını yaklaşık olarak gösteren aşağıdaki grafikteki sütunların hangi bölgelere ait olduğunu uygun boşluklara yazınız.



A :

B :

C :

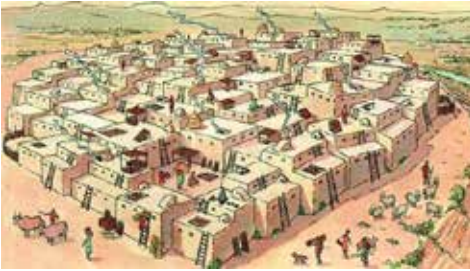
D :

E :

F :

G :

34.



Yanda görseli verilen, günümüzden 9000 yıl önce kurulan, Neolitik Dönem'in en kalabalık ve en büyük yerleşkesi olarak kabul edilen Çatalhöyük ile ilgili verilen soruları cevaplayınız.

a) Çatalhöyük'te yaşayanların temel ekonomik faaliyetleri nelerdir?

b) Çatalhöyük'te evler neden bitişik yapılmıştır?

35.

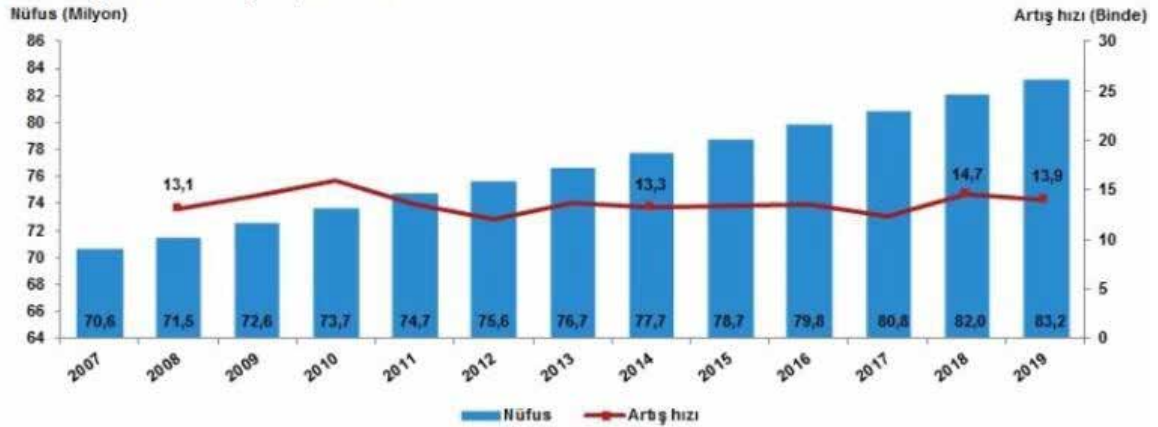


Türkiye'nin 2015 yılı illerin Nüfus Miktarı Haritası incelendiğinde verilenlerden hangilerine ulaşılabilir, hangilerine ulaşamaz?

	ULAŞILABİLİR	ULAŞILAMAZ
En az nüfusa sahip illerine		
En az yağış alan illerine		
En fazla çocuğa sahip illerine		
En fazla okuryazar olan illerine		
En fazla nüfusa sahip illerine		

36. Aşağıdaki grafikte Türkiye'nin 2007-2019 yılları arasında nüfus ve nüfus artış hızları verilmiştir.

Nüfus ve yıllık nüfus artış hızı, 2007-2019



Sadece bu grafiğe göre aşağıdaki bilgileri doğru ya da yanlış olarak değerlendiriniz.

	DOĞRU	YANLIŞ
En fazla nüfus artışı 2019 yılında olmuştur.		
En az nüfusa 2007 yılında sahip olmuştur.		
Nüfus artış hızı sürekli artmıştır.		
Nüfus sürekli artmıştır.		
En fazla nüfusa 2019 yılında sahip olmuştur.		

37. Dış göç; insanların, savaş, terör, işsizlik, açlık ve doğal afetler gibi sebeplerde dolayı ülkelerini terk edip başka ülkelere gitmesine denir.

Suriye ve Irak'ta iç savaştan dolayı buradaki insanların birçoğu ülkemize göç etmek zorunda kalmıştır.



Ülkemize göç eden bu insanların karşılaşılabileceği sorunları aşağıdaki kutucuklara yazalım.

.....
.....

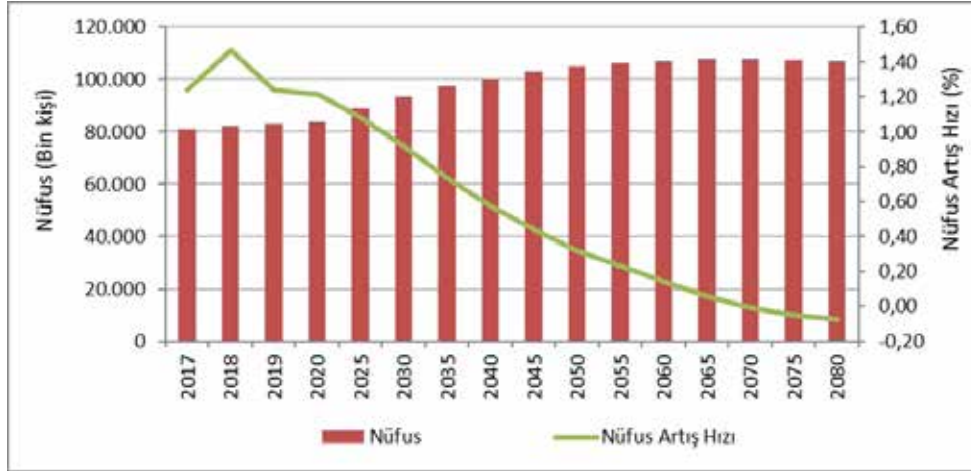
.....
.....

.....
.....

.....
.....

.....
.....

38. Nüfus projeksiyonları geleceğe yönelik politika üretme noktasında büyük önem taşımaktadır. Mevcut nüfus eğilimlerinin tespit edilmesi ve bu eğilimlerin devamı hâlinde gelecekteki nüfus yapısı hakkında kestirimlerde bulunulması daha sağlıklı politikalar üretilmesini sağlar.



Kaynak: TÜİK, Nüfus Projeksiyonları, 2018-2080

Yukarıda verilen nüfus projeksiyonu incelendiğinde 2080 yılında toplumun ihtiyaçları neler olabilir?

	İHTİYAÇ DUYULUR	İHTİYAÇ DUYULMAZ
Daha çok ilkokula		
Daha çok yaşlı bakım merkezine		
Daha çok toplu ulaşım araçlarına		
Daha çok çocuk parkına		

39.



Geçmişten günümüze kadar insanların yerleşmesinde birçok unsur etkili olmuştur.

Aşağıdakilerden hangisi yerleşmeyi etkileyen beşeri unsurlardan değildir?

- A) Sanayi B) Yeryüzü şekilleri C) Ulaşım D) Eğitim

40. Tarihçilerin yapmış olduğu araştırmalar sonucunda Anadolu'nun tarih öncesinden beri yerleşim yeri olarak tercih edildiği görülmüştür.

Buna göre Anadolu'nun yerleşim yeri olarak tercih edilmesinde en az etkili olan doğal unsur aşağıdakilerden hangisidir?

- A) Yeryüzü şekillerinin sade olması B) İklimin ılıman olması
C) Kuzey yarım kürede olması D) Su kaynaklarının olması

41. Geçmişten günümüze insanların yerleşim yeri tercihlerinde beşeri ve doğal faktörler etkili olmuştur.

Aşağıdakilerden hangisi yerleşmeyi etkileyen doğal faktörlerden biri değildir?

- A) Yeryüzü şekilleri B) İklim özellikleri
C) Bitki örtüsü D) Tarım faaliyetleri

42.

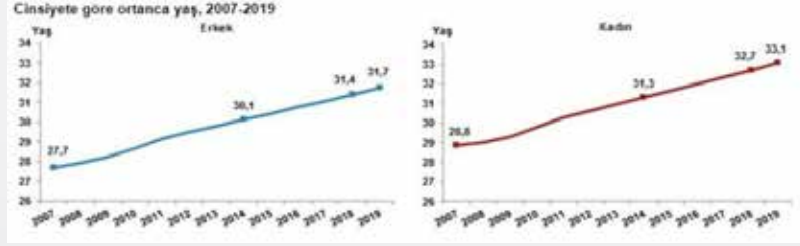


Yukarıda verilen görsel incelendiğinde nüfus dağılımını etkileyen etmenlerden hangisinden daha çok bahsedilmiştir?

- A) İklim B) Yeryüzü şekilleri
C) Ekonomik faaliyetler D) Ulaşım çeşitleri

43.

TÜRKİYE NÜFUSUNUN ORTANCA YAŞI 32,4'E YÜKSELDİ



Ortalama yaş, yeni doğan bebekten en yaşlıya kadar nüfusu oluşturan kişilerin yaşları küçükten büyüğe doğru sıralandığında ortada kalan kişinin yaşı olarak karışımıza çıkıyor. Ortalama yaş aynı zamanda nüfusun yaş yapısının yorumlanmasında kullanılan önemli göstergelerden biridir.

Türkiye'de 2018 yılında 32 olan ortalama yaş, 2019 yılında 32,4'e yükseldi. Cinsiyete göre incelendiğinde, ortalama yaşın erkeklerde 31,4'ten 31,7'ye, kadınlarda ise 32,7'den 33,1'e yükseldiği görüldü.

Verilen bilgilere göre aşağıdaki yorumlardan hangisi yapılamaz?

- A) Nüfusun yaşlandığı
B) Sağlık hizmetlerinin geliştiği
C) Nüfusun arttığı
D) Hayat standartlarının yükseldiği

44. Aşağıda Ankara'nın 1930'lardaki ve günümüzdeki fotoğrafları görülmektedir.



Aşağıdakilerden hangisi Ankara'nın gelişmesinde etkili olan unsurlardan biri değildir?

- A) Matematik konumu
B) Jeopolitik konumu
C) Siyasi merkez olması
D) Yeryüzü şekillerinin sade olması

45.

Türkiye Cumhuriyeti Anayasası - 15. Madde

IV. Temel Hak ve Hürriyetlerin Kullanılmasının Durdurulması

Savaş, seferberlik, sıkıyönetim veya olağanüstü hâllerde, milletlerarası hukuktan doğan yükümlülükler ihlal edilmemek kaydıyla, durumun gerektirdiği ölçüde temel hak ve hürriyetlerin kullanılması kısmen veya tamamen durdurulabilir veya bunlar için anayasada öngörülen güvencelere aykırı tedbirler alınabilir.

Anayasamızda hak ve özgürlüklerin kısıtlanıp durdurulacağı durumlar belirtilmiştir. Koronavirüs salgını nedeniyle bazı ülkeler gidiş gelişler kısıtlanmıştır.

Buna göre aşağıdaki temel haklardan hangisinin kısıtlandığı söylenebilir?

- A) Eğitim hakkı
B) Yaşama hakkı
C) Seyahat hakkı
D) Düşünceyi ifade etme özgürlüğü

46.



Uygurların vatanında "Hulin" isimli bir dağ vardı. Hulin Dağı'ndan Tuğla ve Selenge isimli iki ırmak akardı. Bir gece oradaki bir ağacın üzerine gökyüzünden ilâhi bir ışık indi. İki ırmak arasında yaşayan halk bunu dikkatle izlediler. Daha sonra ağacın gövdesinde şişkinlik oluştu, ilâhi ışık dokuz ay on gün şişkinlik üzerinde durdu. Ağacın gövdesi yarıldı ve içinden beş çocuk görüldü. Bu ülkenin halkı bu çocukları büyüttü. En küçükleri olan Buğu Han büyüyünce hükümdar oldu. Ülke zengin halk mutlu oldu.

Aradan uzun zaman geçti. Yulug Tigin isimli bir prens hakan oldu. Yulug Tigin, Çinlilerle çok savaştı. Bu savaşlara son vermek için oğlu Gali Tigin'i bir Çin prensesi ile evlendirmeye karar verdi. Çinliler, prensese karşılık hükümdardan Tanrı Dağı'nın eteğindeki Kutlu Dağ adını taşıyan kayayı istediler.

Gali Tigin kayayı verdi. Çinliler kayayı götürmek için kayanın etrafında ateş yaktılar, kaya kızınca üzerine sirke döktüler. Ufak parçalara ayrılan kayayı arabalara koyarak Çin'e taşıdılar. Memleketteki bütün kuşlar, hayvanlar kendi dilleriyle bu kayanın gidişine ağladılar. Bundan yedi gün sonra da Gali Tigin öldü. Kıtık ve kuraklık oldu. Yurtlarını bırakarak göç etmek zorunda kaldılar.

Uygur Türklerine ait Göç Destanı'na göre, Türklerin yurtlarını terk edip başka yerlere göç etmelerinin sebebi nedir?

- A) Çinlilerin baskısı
B) Hükümdarlık mücadelesi
C) Cihan hâkimiyeti düşüncesi
D) İklim değişimi

47.



Yandaki görsel göç türleriyle ilgili yapılan hangi araştırma içinde yer alır?

- A) Mübadele
B) Zorunlu göç
C) Dış göç
D) İç göç

48.



Antalya'da çiftçilik yapan Soner Bey ve ailesi haritada belirtilen ok yönünde göç etme kararı almıştır. Bu kararı alırken aşağıdaki unsurlardan hangisinin en az etkili olduğu söylenebilir?

- A) Ulaşım imkânları
B) İş imkânları
C) Tarım imkânları
D) Eğitim imkânları

49. Harita üzerinde oklar ile gösterilen yönde göç hareketi verilmiştir.



Aşağıdakilerden hangisi bu göçlerin nedenleri arasında gösterilemez?

- A) Yer şekilleri
- B) Deprem
- C) Sağlık imkânları
- D) İş imkânları

50. Öğretmenin sorusu:?

Öğrencinin cevabı: Marmara Bölgesi

Öğrencinin cevabı aşağıdaki sorulardan hangisine ait olamaz?

- A) Nüfus yoğunlunun en fazla olduğu bölgemiz neresidir?
- B) Ticaretin en yoğun yapıldığı bölgemiz neresidir?
- C) Ulaşım ağının en gelişmiş olduğu bölgemiz neresidir?
- D) Tarımsal nüfusun en fazla olduğu bölgemiz neresidir?

51.

GÖÇ VEREN YER	GÖÇ ALAN YER
Suriye	Türkiye
Bayburt	İstanbul
Tokat	Rize
Türkiye	İsviçre

Tabloda verilen göç türlerinin yukarıdan aşağı doğru sıralanışı aşağıdakilerden hangisinde doğru verilmiştir?

- A)

Mevsimlik Göç
İç Göç
Mülteci
Beyin Göçü
- B)

Mülteci
İç Göç
Mevsimlik Göç
Beyin Göçü
- C)

Beyin Göçü
İç Göç
Mevsimlik Göç
Mülteci
- D)

İç Göç
Mevsimlik Göç
Beyin Göçü
Mülteci

52.

LEYLEKLER NEDEN GÖÇ EDER?

Havaların nisan ve mayıs aylarından itibaren ısınmaya başladığını nereden bildikleri şaşkırtıcı, hatta bir mucize olan leylekler, sıcak yaz aylarını geçirmek için, soğuk kış aylarını geçirdikleri ülkelerden geri dönerler.

Yuvaya önce erkek leylek gelir. Çok telaşlı bir şekilde, geçen yıl bırakıp gittiği yuvayı çubuk ve otlarla onarır yenilemeğe başlar. İş bittiğinde ise özlem içinde başını gökyüzüne çevirip dişisinin bir an önce gelmesini umut etmeye başlar. Takriben bir hafta sonra dişi leylek de erkek leylek tarafından onarılmış olan yuvaya döner ve hemen yerini alır.

Leyleklerin birbirlerini karşılama törenleri çok ilginç olur. Yuvanın sahibi erkek, dişisini karşılamak için kanatlarını hızla çırpar ve gagasıyla tıkırdar. Daha sonra etraflarına aldırmadan en güzel anlarını yaşamaya başlarlar. baş döndüren bir yükseklikte gerçekleşen bu tutkulu sevgi gösterisinin meyveleri dört veya beş yumurta olur. Takriben dört, bilemediniz beş hafta sonra tüy yumağı civcivler yumurtalarından çıkmaya başlarlar. İşte bundan sonra anne ve baba leylek için stres başlar, baba leylek çığırkan yavrularının beslenmeleri için gerekli solucan, çekirge ve sümüklü böcekler bulabilmek için harekete geçer, hatta bir süre sonra talep daha da artar fare, kurbağa, balık ve yılanlar münüyü süslerler.

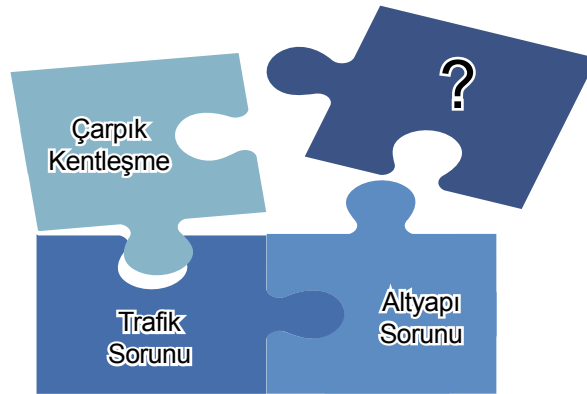
Baba leylek yavrularını beslemekle yükümlü iken, anne leylek kanatlarının altına alarak yavrularını yağmur, fırtına ve kızgın güneş sıcaklığından korur.

Doğal yaşamın bir parçası olan leylekler, bölgede havalar soğumaya başlar başlamaz, başka bölgelerden gelen diğer leyleklerle gökyüzünde birleşerek, seyre değer bir görüntü oluşturup yollarına devam ederler.

Bu metne göre leyleklerin göç sebebi aşağıdakilerden hangisidir?

- A) Besin bulmak
B) Yuvalarının tahrip olması
C) Yeni yerler görmek
D) Mevsimin değişmesi

53.



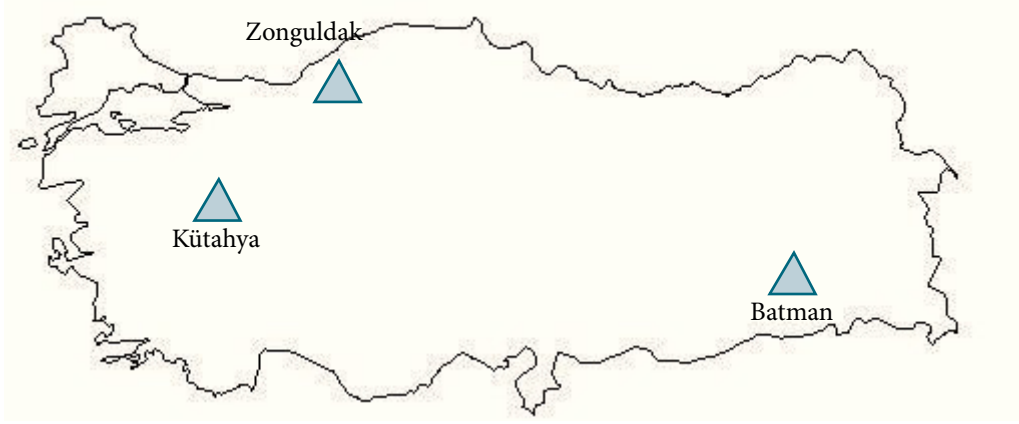
Yapboz parçalarında soru işareti olan yere aşağıdakilerden hangisi yazılamaz?

- A) Kaynakların azalması
B) Dengesiz nüfus dağılışı
C) Konut sıkıntısı
D) Tarımsal üretim fazlalığı

54. Aşağıda verilen bilgilerden hangisi nüfus sayımı sonucunda elde edilecek bilgilerden değildir?

- A) Nüfus yoğunluğu
B) Nüfus artış hızı
C) Toplumun zeka düzeyi
D) Okuryazarlık oranı

55.



Haritada  işareti ile verilen yerlerde nüfus yoğunluğunun temel nedeni aşağıdakilerden hangisidir?

- A) Turizm
B) Ulaşım
C) Tarım
D) Yer altı kaynakları

56. İç göçlerin sonuçları şunlardır:

- Konut yetersizliği
- Eğitim hizmetlerinin zorlaşması
- Yatırımların dengesiz dağılması
- Sağlık hizmetlerinin zorlaşması

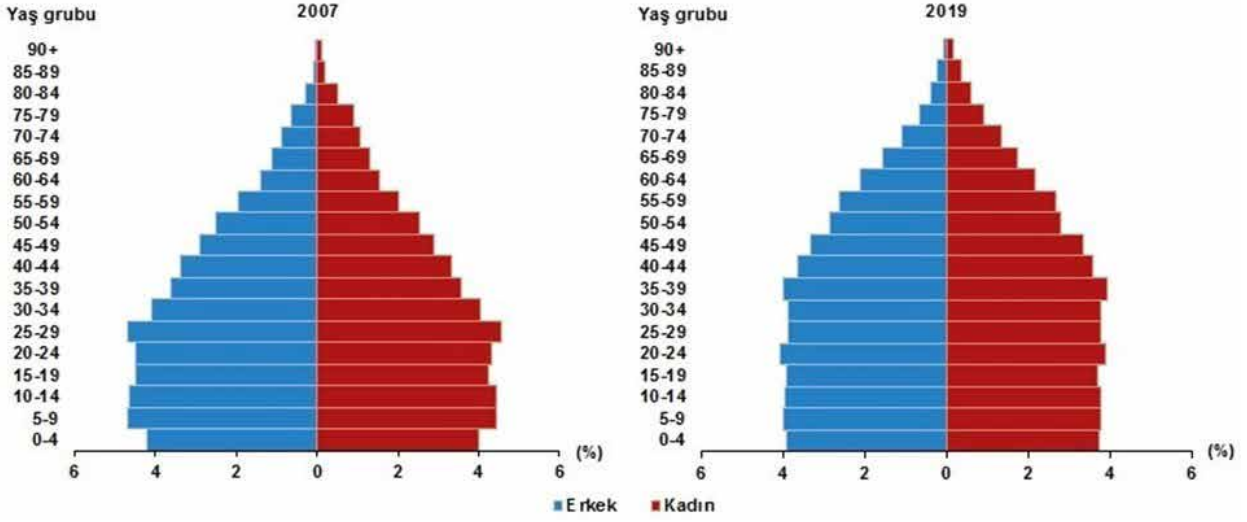
Buna göre iç göçün sonuçlarının,

- I. Kültürel
- II. Ekonomik
- III. Siyasi
- IV. Sosyal
- V. Sağlık

alanlarından hangileriyle ilgili olduğu söylenebilir?

- A) I, II, III
B) IV, V
C) III, IV, V
D) I, II, IV, V

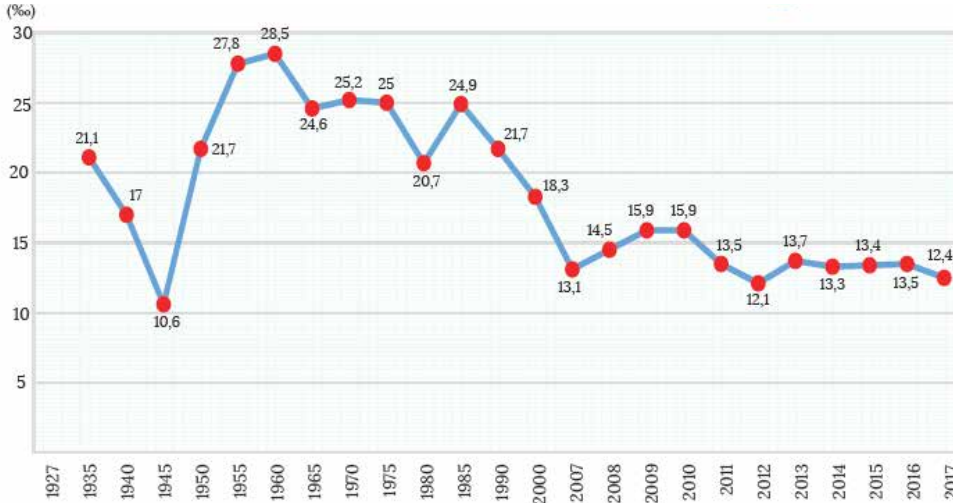
57. Aşağıda Türkiye'nin 2007 ve 2019 yılı nüfus piramidi verilmiştir.



Bu piramitlerle ilgili aşağıda verilen yorumlardan hangisi yapılamaz?

- A) 2019 yılında doğum oranı 2007 yılındaki doğum oranından daha azdır.
- B) 2007 yılında en fazla nüfus oranına sahip yaş aralığı 25-29 yaş iken, 2019 yılında bu yaş aralığı 35-39 yaş olarak değişmiştir.
- C) Her iki yılda da 65 yaş üstü grubunun nüfus oranı 15-64 yaş grubu nüfus oranından azdır.
- D) 2019 yılında doğal nüfus artışına bağlı olarak nüfus oranı artmıştır.

58.



Ülkemizin nüfus artış hızı grafiği incelendiğinde aşağıdaki ifadelerden hangisi yanlış olur?

- A) 1945 yılından itibaren nüfus artış hızı sürekli artmıştır.
- B) 1985 yılından itibaren nüfus artış hızı azalmıştır.
- C) 2008-2009 yılları arasında nüfus artış hızı aynı kalmıştır.
- D) Nüfus artış hızı en fazla 1955-1960 yılları arasında olmuştur.

59. Ülkeler nüfuslarının özelliklerini belirlemek için aralıklarla nüfus sayımı yapmaktadırlar.

Ülkelerin nüfus sayımı yapmasının temel nedeni aşağıdakilerden hangisidir?

- A) Diğer ülkelerle olan ilişkilerini belirleyebilmek
B) Ülkeye alınacak turist sayısını belirlemek
C) Kalkınma planının yapılması ve uygulanması
D) Yer altı kaynaklarını çıkarabilmek

60. Aşağıda verilen bilgilerden hangisi gelişmiş ülke nüfus özelliği değildir?

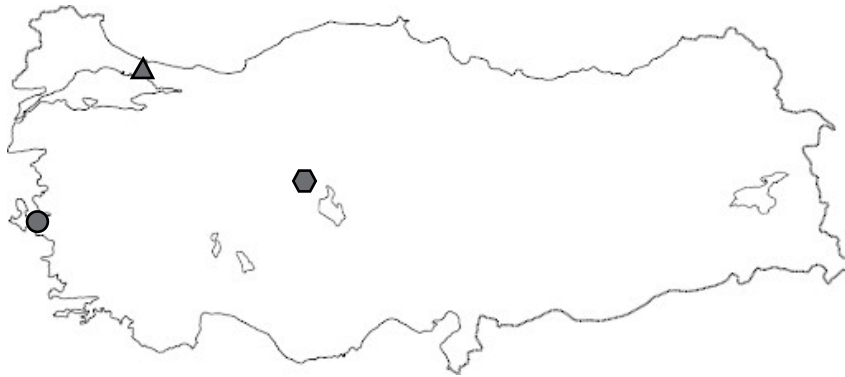
- A) Sanayi ve hizmet alanında çalışan nüfus fazladır.
B) Kent nüfus oranı fazladır.
C) Kişi başına düşen millî gelir yüksektir.
D) Sağlık ve eğitim hizmetleri geri kalmıştır.

61. Anayasamızın 23. maddesinde herkesin yerleşme ve seyahat özgürlüğüne sahip olduğu belirtilmektedir. Ancak bu madde yerleşme ve seyahat özgürlüğünün kısıtlandığı durumları da belirtmiştir.

Aşağıdakilerden hangisi bu özgürlüklerin kısıtlanma nedenlerinden biri değildir?

- A) Suç işlenmesini önlemek
B) Sosyal ve ekonomik gelişmeyi sağlamak
C) Ülkede genel ve yerel seçimlerin olması
D) OHAL ilan edilmesi

62. Aşağıdaki haritada işaretlerle belirtilen şehirler sanayi, ticaret, ulaşım gibi alanlarda gelişmiş ve nüfusu fazla olan şehirlerdir.



Bu şehirleri nüfusuna göre sıralamaya koyduğumuzda doğru sıralama aşağıdakilerden hangisidir?

- A) ▲ ● ●
B) ● ▲ ●
C) ● ● ▲
D) ▲ ● ●

63.

YILLARA GÖRE TÜRKİYE NÜFUSU			
Yıl	Toplam Nüfus	Erkek Nüfusu	Kadın Nüfusu
2019	83.154.997	41.721.136	41.433.861
2018	82.003.882	41.139.980	40.863.902
2017	80.810.525	40.535.135	40.275.390
2016	79.814.871	40.043.650	39.771.221
2015	78.741.053	39.511.191	39.229.862
2014	77.695.904	38.984.302	38.711.602
2013	76.667.864	38.473.360	38.194.504
2012	75.627.384	37.956.168	37.671.216
2011	74.724.269	37.532.954	37.191.315
2010	73.722.988	37.043.182	36.679.806
2009	72.561.312	36.462.470	36.098.842
2008	71.517.100	35.901.154	35.615.946
2007	70.586.256	35.376.533	35.209.723

Bu tabloya göre aşağıda verilen bilgilerden hangisi yanlıştır?

- A) Verilen bütün yıllarda kadın erkek nüfusu birbirine yakındır.
 B) Nüfus artış hızı her yıl artmıştır.
 C) 2007 yılında kadın erkek nüfusu arasındaki fark 166.810 kişidir.
 D) Türkiye'nin nüfusu 2007 yılından 2019 yılına kadar her yıl artmıştır.

64.

İller	Yüz ölçümü (km ²)	Toplam Nüfus	Nüfus Yoğunluğu
Kırıkkale	4.791	286.000	
Düzce	3.641		106
Adana		2.200.000	1.131
Kırşehir	6.570		

Tabloya göre aşağıdaki sorulardan hangisinin cevabı bulunamaz?

- A) Kırşehir'in nüfus yoğunluğu ne kadardır?
 B) Düzce'nin toplam nüfusu ne kadardır?
 C) Kırıkkale'nin nüfus yoğunluğu ne kadardır?
 D) Adana'nın yüz ölçümü kaç kilometrekaredir?

65.

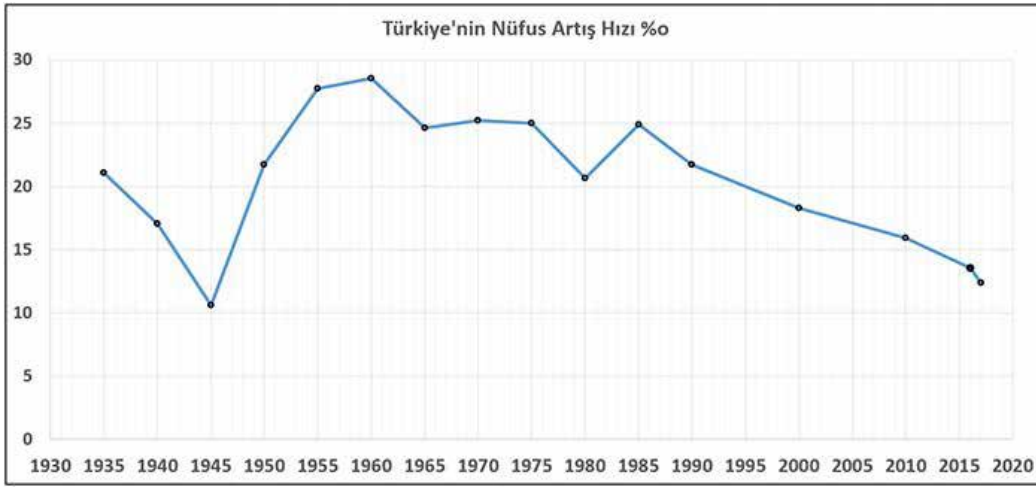
Çatalhöyük 9500 yıllık geçmişi olan ve yaklaşık 8000 insanı barındırmış geniş bir kasabadır. İlk yerleşme yeri olarak bilinmektedir. Çarşamba Irmağı ilkbaharda taşarak Çatalhöyük'ü bir yarımadaya dönüştürüyordu. Bu da yerleşim yerinin savunulmasını kolaylaştırıyordu.



Buna göre aşağıdakilerden hangisi Çatalhöyük'ün yerleşim yeri olarak seçilmesinde etkili olmuştur?

- A) Verimli tarım arazilerine sahip olması
B) İklim özelliklerinin elverişli olması
C) Güvenli bir konumda bulunması
D) Yüzey şekillerinin uygun olması

66. Aşağıda Türkiye'nin yıllara göre nüfus artış hızı grafiği verilmiştir.



Grafikteki bilgilerden yola çıkarak aşağıdakilerden hangisine ulaşamaz?

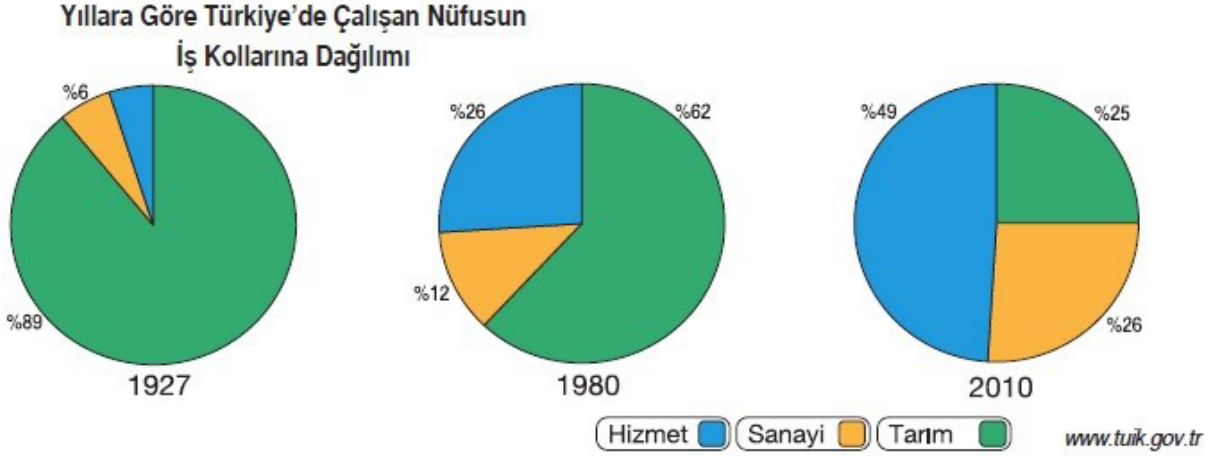
- A) Ülke nüfusu sürekli artış göstermiştir.
B) En düşük nüfus artış hızı 1940-1945 yılları arasındadır.
C) Yıllara göre nüfus artış hızı değişiklik göstermiştir.
D) 1960 yılında Türkiye nüfusu 28 milyona ulaşmıştır.

67. Eğitim görmüş ve yetenekli kişilerin çalışma veya imkân yetersizliği gibi nedenler yüzünden kendi ülkesinden başka bir ülkeye yerleşmesine beyin göçü denir.

Aşağıdakilerden hangisi beyin göçüne örnek olabilir?

- A) Ahmet ve ailesinin fındık toplamak için 2 aylığına Giresun'a yerleşmesi
B) Tayini çıkan Ali Bey'in Erzurum'a yerleşmesi
C) NASA'da uzay çalışmaları yapmak amacıyla Hazal Hanım'ın ABD'ye yerleşmesi
D) Buğra'nın üniversite eğitimi almak için İstanbul'a yerleşmesi

68. Aşağıda 1927-1980-2010 yılları nüfus sayımlarına göre Türkiye'de çalışan nüfusun iş kollarına dağılım grafiği verilmiştir.



Verilen grafiklere göre aşağıdaki bilgilerden hangisi yanlıştır?

- A) 1927 yılında tarım sektöründe çalışan nüfus diğer sektörlerle göre daha fazladır.
B) 1980 yılında hizmet sektöründe çalışanların toplamı sanayide çalışanlardan azdır.
C) Hizmet sektöründe çalışanların oranı ilerleyen yıllarda artmıştır.
D) Yıllar itibarıyla, tarım sektörü istihdamında azalma yaşanmıştır.
69. Dünyada ve ülkemizde son günlerde ortaya çıkan COVID-19 virüsü gibi hastalıklardan dolayı anayasal bazı haklarımız kısıtlanmıştır. Hatta bazı yerleşim yerleri karantina altına alınarak bu yerleşim yerine giriş çıkışlar yasaklanmıştır.

Buna göre aşağıdakilerden hangisi seyahat hakkının sınırlandırılmasının amaçlarından biri değildir?

- A) Toplum sağlığını korumak
B) Ülke genelinde virüsün yayılmasını engellemek
C) Giriş çıkışın yasaklandığı yerlerin doğal güzelliğini korumak
D) Virüsten dolayı artan ölümlerin önüne geçmek
70. Göçün sosyal, ekonomik ve kültürel sonuçlarından bazıları şunlardır:

- I. Çarpık kentleşme
- II. Altyapı yetersizliği
- III. Trafik sorunları
- IV. İşsizlik oranının artması
- V. Eğitim ve sağlık hizmeti yetersizliği
- VI. Göç alan yerlerde üretim ve ticaretin artması

Bunlardan hangileri göçün ekonomik sonuçlarındandır?

- A) Yalnız VI
B) I, II, III
C) IV, VI
D) IV, V, VI

71. Adrese Dayalı Nüfus Kayıt Sistemi 2006 yılında bir kanun ile getirilmiş, bu sistem ile nüfus sayımı adrese dayalı olarak yapılmıştır. Böylece nüfus sayımının evden yapılma zorunluluğu ortadan kalkmıştır. Fakat daha önceki genel nüfus sayımlarında yapılan sokağa çıkma yasağı ile vatandaşlar sayımın yapıldığı gün içinde evinde bulunmak zorundaydı.

Yukarıda verilen bilgiden hareketle hangi sonuca ulaşılabilir?

- A) 2006 yılı öncesi seçimler, sonu “sıfır” ve “beş” ile biten yıllarda gerçekleştirilmiştir.
B) Yeni sistem ile vatandaşın yerleşme ve seyahat etme hakkı kısıtlanması ortadan kalkmıştır.
C) Yerleşme ve seyahat etme hakkı kısıtlanamaz.
D) Sokağa çıkma yasağı ile nüfus sayımı yapılması daha kolaydır.

72. I. Ülkemizde ilk nüfus sayımı 1927 yılında yapılmıştır. (...)
II. 2007 yılına kadar toplamda 14 kez geleneksel yöntemlerle nüfus sayımı gerçekleştirilmiştir. (...)
III. Adrese Dayalı Nüfus Kayıt Sistemi ile ilk kez 2003 yılında nüfus sayımı gerçekleştirilmiştir. (...)

Verilen ifadelerden boş bırakılan yerlere doğru ise (D), yanlış ise (Y) yazıldığında doğru cevap aşağıdakilerden hangisidir?

A)

	D	Y
I		*
II	*	
III	*	

B)

	D	Y
I		*
II		*
III	*	

C)

	D	Y
I	*	
II		*
III	*	

D)

	D	Y
I	*	
II	*	
III		*

73. Nüfus dağılımını etkileyen en önemli faktörlerden biri iklimdir.
..... Ülkemizde sanayinin nüfus dağılımına herhangi bir etkisi yoktur.
..... Verimli tarım alanları nüfus bakımından yoğun yerleri oluşturur.

Verilen bilgilerden doğru olanların başına (D), yanlış olanların başına (Y) harfi koyulduğu zaman aşağıdakilerden hangisi doğru olur?

A)

D
D
D

B)

Y
D
Y

C)

Y
Y
D

D)

D
Y
D

74.

Pandemi: Birden fazla ülkeyi etkileyen salgın hastalık.

Koronavirüs (COVID-19): Solunum yetmezliğine yol açan grip çeşidi.

“Dünyada koronavirüs salgını başladığında, ülkemiz hemen harekete geçmiş, birtakım tedbirler almıştır. Bazı yerleşim yerleri karantina altına alınmış, 65 yaş üstü ve 20 yaş altı insanlarımızın sokağa çıkmaları kısıtlanmış, özellikle İstanbul, Ankara ve İzmir gibi büyük şehirlerimize giriş çıkışlar zorunlu olmadıkça kısıtlanmıştır.”



Buna göre salgın dolayısıyla hangi hak ve özgürlüğün kısıtlandığı söylenebilir?

- A) Düşünce ve kanaat özgürlüğü
B) Seyahat özgürlüğü
C) Haberleşme özgürlüğü
D) Basın özgürlüğü

75.

Türkiye'de son 10 yılda okuryazar olmayan kadınların oranı yüzde 14,7'den yüzde 6,1'e gerilerken, geçen yıl itibarıyla okuma yazma bilmeyen 2 milyon 197 bin 257 kişiden yüzde 85,2'sini kadınlar oluşturdu. AA muhabirinin, Türkiye İstatistik Kurumu (TÜİK) verilerinden yaptığı derlemeye göre, 2009-2018 yıllarını kapsayan 10 yıllık dönemde 15 ve yukarı yaş grubunda okuryazar olmayan nüfus oranı yüzde 9,2'den yüzde 3,6'ya geriledi. Söz konusu oran erkeklerde yüzde 3,6'dan yüzde 1,1'e, kadınlarda yüzde 14,7'den yüzde 6,1'e düştü. Bununla birlikte, 2009'da okuma yazma bilmeyen nüfusun yüzde 80,4'ünü kadınlar oluştururken, 2018'de bu oranın yüzde 85,2'ye yükselmesi dikkati çekti.

Anadolu Ajansı, 14.06.2019 tarihli internet haberi

Verilen internet haberine göre aşağıdakilerden hangisine ulaşamaz?

- A) 2009-2018 yılları kapsamında 15 yaş ve yukarı yaş grubunda okuryazar olmayan nüfus oranı gerilemiştir.
B) 2009'da okuma yazma bilmeyen nüfus miktarının çoğunluğunu erkekler oluşturmuştur.
C) 15 yaş ve yukarı yaş grubunda okuryazar olmayan nüfus oranı erkeklerde yüzde 3,6'dan yüzde 1,1'e düşmüştür.
D) Habere göre son 10 yılda okuryazar olmayan kadınların oranı yüzde 14,7'den yüzde 6,1'e gerilemiştir.

78.



Benim adım Fatma, Anadolu'nun küçük bir köyünde yaşamaktayım. Bizim köy önceleri çok kalabalıktı. Birçok kişi tarlalarda çalışıp ekmek parası kazanırdı. Köyümüze traktör, biçerdöver gibi tarım araçları gelince birçok kişi işsiz kaldı. Ayrıca köyümüze kışın çok kar yağdığı için yollar kapanır, diğer yerler ile iletişim kesilir. Bizim köyde zamanında okul olmadığı için okuma yazma öğrenemedim. Şimdi köyde kalan az sayıda çocuk okumak istiyorlar. Okul olmadığı için ilçemizdeki yatılı bölge okuluna gidiyorlar, tatillerde köye gelip ailelerinin yanında kalıyorlar. Birçok kişi büyük şehirlere göç etti. Ben köyü çok seviyorum, göç etmeyi hiç düşünmedim.

Fatma ninenin anlattığı durumda, köyden kente göçün sebeplerinden hangisi bulunmamaktadır?

- A) Tarımda makineleşme
B) Eğitim imkânlarının yetersizliği
C) Sağlık hizmetlerinin yetersizliği
D) Ulaşım hizmetlerinin yetersizliği

CEVAP ANAHTARI

1.

a)
Fazla
Tarım alanları elverişli
Adana

b)
Fazla
Sanayileşme
İstanbul

c)
Az
Bitki örtüsü elverişli
Karadeniz Bölgesi

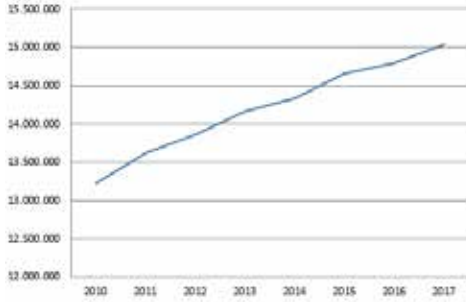
2. Kişisel yoruma dayalı cevaptır.

3. Kişisel yoruma dayalı cevaptır.

4. Ekonomi, Eğitim, Sağlık, Savaş, Terör, Mübadele **Şifre: MEVSİMLİK**

5. Nüfus, belli bir bölgedeki toplam nüfus sayısıdır. Nüfus yoğunluğu, belli bir bölgede, birim yüzeye düşen birey sayısıdır. Haritalar karşılaştırıldığında da nüfus miktarlarının fazla olduğu yerlerin nüfus yoğunluklarının da fazla olduğu görülmektedir. Fakat bazı durumlarda da yaklaşık değerdeki nüfus miktarına sahip yerlerin yüz ölçümlerinden dolayı nüfus yoğunluklarının fazla olduğu da görülmektedir. Tam tersi olarak baktığımızda da yüz ölçümlerinin benzer olan yerlerde kişi sayılarının değişmesinden dolayı da nüfus yoğunluğu farklılığı bulunmaktadır.

6.



GRAFİK YORUMU: Nüfusun verilen yıllar aralığında her yıl artış gösterdiği görülmektedir.

7. Yukarıdaki sözde anlatılmak istenen, herkesin seyahat etme özgürlüğünün olduğudur. İsteyen herkesin seyahat edebileceğini ve buna herhangi bir durumun engel olmadığını anlatmak istemektedir. Anayasamızın 23. maddesinde belirtilen seyahat hürriyetini düşündüğümüzde ise bu sözün bazı durumlarda kısıtlandığı görülmektedir. Seyahat hürriyeti; suç soruşturma ve kovuşturması sebebiyle ve suç işlenmesini önlemek amaçlarıyla kanunla sınırlanabilir.

8. Dış Göç - Su Kaynakları - Mübadele - Adrese Dayalı Kayıt Sistemi

9. D - Y - Y - D

10. D - Y - Y - D - Y

11. Yukarıdan aşağıya: F - C - G - D - H - A - E - B

12. Suç işlenmesini önlemek; Kamu mallarını korumak; Sosyal ve ekonomik gelişmeyi sağlamak; Sağlıklı ve düzenli kentleşmeyi gerçekleştirmek.

13. Demografi, Beşeri, Beyin Göçü, Seyahat, Çatalhöyük **Şifre: YERLEŞME**

14. Dış Göç - Mübadele - İç Göç - Beyin Göçü

15. Seyrek nüfus: Çorak topraklar, soğuk iklim şartları, yetersiz tatlı su kaynakları, ulaşım zorluğu, dağlık arazi
Yoğun nüfus: Verimli topraklar, düz arazi, yeterli tatlı su kaynakları, ılıman iklim şartları, ulaşım kolaylığı

16. Y - D - D - Y - Y

17. A- İç göç B- Mevsimlik göç C- Beyin göçü D- Dış göç

18. 1) Yer şekilleri 2) Beşeri 3) Ulaşım 4) İklim 5) Ticaret 6) Yerleşme 7) Doğal 8) Kent 9) Turizm

19.

ŞEHİR	SANAYİ	TARIM	EĞİTİM	TİCARET	TURİZM	MADENCİLİK
Adana		•				
Eskişehir			•			
Kocaeli	•					
Antalya					•	
Zonguldak						•

20. **Beşeri faktörler:** Ulaşım kolaylığı, eğitim imkânları, iş imkânları, sağlık imkânları

Doğal faktörler: İklim, afetler, yer altı kaynakları, su kaynakları

21. **Doğal faktörler:** İklim, Yer şekilleri, Bitki örtüsü, Su kaynakları

Beşeri faktörler: Tarım, Madencilik, Ulaşım, Sanayi

22. a) Düz - engebeli b) gür ormanlar c) mağaralar d) madencilik

23. Y - Y - D - D - Y

24. Beyin Göçü - Mülteci Göçü - Mevsimlik Göç - Sürekli Göç

25.

	YERLEŞME ÖZGÜRLÜĞÜ	SEYAHAT ÖZGÜRLÜĞÜ
Koronavirüs olarak bilinen COVID-19 virüsünün yayılmasından dolayı Türkiye'den bazı ülkelere, bu ülkelere de Türkiye'ye geliş-gidişler durdurulmuştur.		•
Salda Gölü ve çevresi Kültür ve Turizm Bakanlığı tarafından koruma altına alınmıştır. Bu nedenden dolayı buraya konut yapmak yasaklanmıştır.	•	

26. 1) Nüfus 2) İstanbul 3) Tunceli 4) Doğal Nüfus Artışı 5) Nüfus Yoğunluğu 6) Ulaşım

27. * II. Mahmut * 1927 * Adrese Dayalı Nüfus Kayıt Sistemine * 2000 * Türkiye İstatistik Kurumu

28.

Yerleşim Yeri Özellikleri	Yerleşmeyi etkileyen doğal nedenler				Yerleşmeyi etkileyen beşeri nedenler					
	İklim	Yer Şekilleri	Bitki Örtüsü	Su Kaynak-	Sanayi	Tarım	Turizm	Ulaşım	Madencilik	Sos. ve Kült.
İlk Çağ insanların tarım yapabilmek için su kenarlarına yerleşmesi				•						
Kış mevsiminin ılık geçmesinden dolayı Ege Bölgesi'nin yerleşim yeri olarak tercih edilmesi	•									
Taş kömürünün ülkemizde çıktığı tek yer olan Zonguldak'ın yerleşim yeri olarak tercih edilmesi									•	
Yaz sıcaklıklarının uzun sürmesine bağlı olarak denize girme süresinin uzun olduğu, tarihî ve doğal güzellikleri bulunan Antalya'nın yerleşim yeri olarak tercih edilmesi							•			
Engesiz ve yükseltisi fazla olan Hakkâri yöresinin nüfusunun seyrek olması		•								
Gür ormanların bulunduğu Doğu Karadeniz Bölümü'nde nüfusun seyrek olması			•							
Üniversitelerin, sanatsal, kültürel etkinliklerin yoğun olduğu Ankara'nın yerleşim yeri olarak tercih edilmesi										•
Fabrika ve iş imkânlarının fazla olduğu Marmara Bölgesi'nin yerleşim yeri olarak tercih edilmesi					•					
Yolların kavşak noktasında yer alan hava alanı, demiryolu, limanı bulunan İstanbul'un ülkemizin nüfusu en fazla olan şehri olması								•		

- | | | | | | | | |
|-----|---|-----|---|-----|---|-----|---|
| 39. | B | 50. | D | 61. | C | 72. | D |
| 40. | C | 51. | B | 62. | A | 73. | D |
| 41. | D | 52. | D | 63. | B | 74. | B |
| 42. | C | 53. | D | 64. | A | 75. | B |
| 43. | C | 54. | C | 65. | C | 76. | A |
| 44. | A | 55. | D | 66. | D | 77. | C |
| 45. | C | 56. | D | 67. | C | 78. | C |
| 46. | D | 57. | D | 68. | B | | |
| 47. | C | 58. | A | 69. | C | | |
| 48. | B | 59. | C | 70. | C | | |
| 49. | B | 60. | D | 71. | B | | |



meb.gov.tr