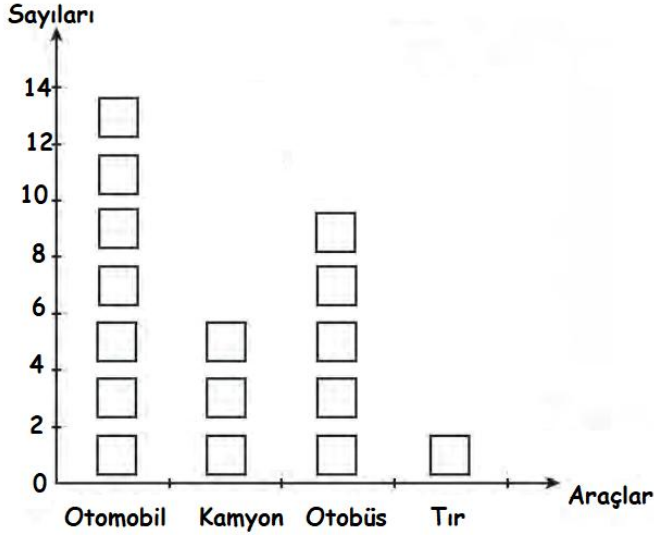


ADI SOYADI:

Grafik bir haftada satılan araçları göstermektedir. Grafiğe göre sıklık ve çetele tablosunu oluşturalım.

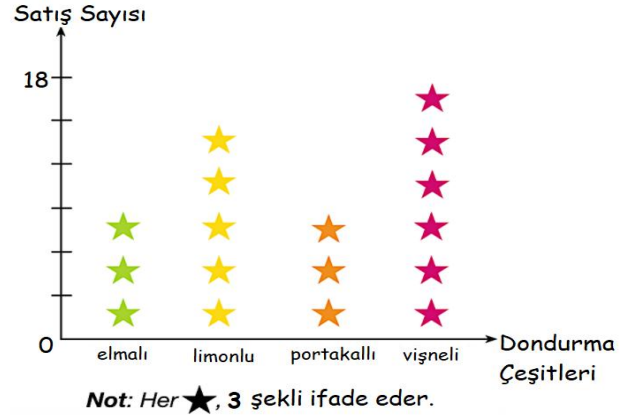


(Her şekil 2 taneyi ifade eder.)

Satılan Araçlar ve Sayıları Sıklık Tablosu	
Araçlar	Sayıları

Satılan Araçlar ve Sayıları Çetele Tablosu	
Araçlar	Sayıları

MINİ TEST



Not: Her ★, 3 şekli ifade eder.

(Soruları grafiğe göre cevaplayalım.)

	En az satılan dondurma kavunludur.
	Elmalı ve limonlu dondurma sayısı eşittir.
	Satılan vişneli dondurma sayısı ,portakallı dondurma sayısının üç katıdır.

Yukarıdaki ifadelere doğruysa "D" harfi, yanlışsa "Y" harfi yazıldığında ,hangi seçenekteki sıralamaya ulaşırız?

A) DYD B) YYY C) YDD

Satılan dondurma sayıları toplamı hangi seçenekte verilmiştir?

A) 56 B) 54 C) 51

Limonlu dondurma sayısını çetele tablosunda gösterdiğimizde hangi seçenekteki gibi görünür?





A) |||| |||| |||| ||

B) |||| |||| |||| |||| |||| ||

C) |||| |||| |||| |||| ||||

Grafięi ęetele tablosunda gsterelim.

3. SINIF MATEMATİK 14

			
lale	papatya	gelincik	menekęe

iekler ve Sayıları etele Tablosu	
iekler	Sayıları

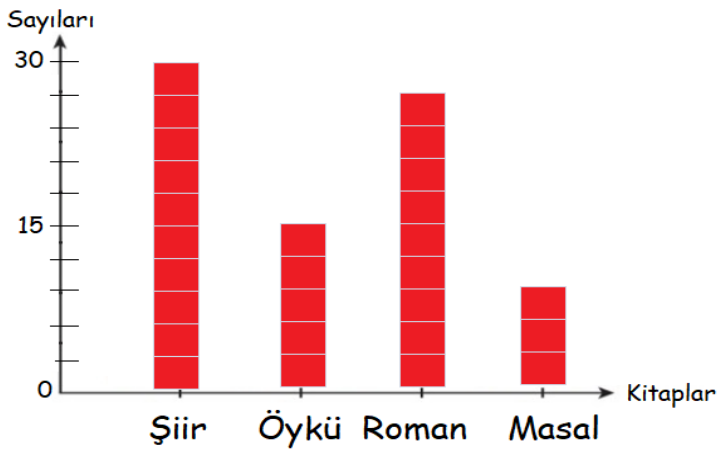
Grafięi nesne ile gsterelim.



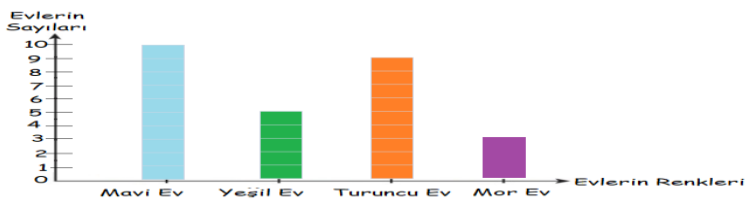
ğrenciler ve Setikleri Spor Dalı Nesne Grafięi	
Spor Dalı	ğrenci Sayıları

Her  4 ğrenciyi ifade etmektedir.

Grafięi sıklık tablosunda gsterelim.



Kitap Türleri ve Sayıları Sıklık Tablosu	
Kitap Türleri	Sayıları



Ev sayılarının toplamı kaçtır?

Mor ev sayısının 8 katı kaçtır?

Mavi ev sayısının yarısı kaçtır?