



SIIRT İL MİLLİ EĞİTİM MÜDÜRLÜĞÜ

2020

# ORTAOKUL

28 ARALIK - 1 OCAK

# 6

ÖDEU TAKİP SİSTEMİ

0484 223 10 28

arge56@meb.gov.tr

siirt.meb.gov.tr

@mem\_siirt

@siirtmem

- 1) Herkesin yüreğine ateş düştü.
- 2) Okula giderken burnu üşümüştü.
- 3) O burnu havalarda gezmeye bayılırdı.
- 4) Yeni aldığı kitabı hevesle okudu.

1) Yukarıdaki cümlelerde altı çizili olan kelimelerin hangileri mecaz anlamlıdır?

- A) 1 ve 2                      B) 2 ve 4  
C) 1 ve 3                      D) 1 ve 4

2) El kelimesi aşağıdaki cümlelerin hangisinde deyim içinde kullanılmamıştır?

- A) Yapacak hiçbir şey olmadığını söyleyen doktor elden ne gelir ki demişti.  
B) Valizimi kaldırmayınca etraftakiler valize el attı.  
C) Yemek pişirirken elime yağ sıçrayınca canım acıdı.  
D) Gecenin bir yarısı sokakta kimse yoktu, el ayak çekilmişti.

3) Uzun zamandır görmediğim arkadaşım ile hasbelkader karşılaştıkça uzun uzun sohbet ettik. Bu cümlede altı çizili kelimenin cümleye kattığı anlam aşağıdakilerin hangisinde vardır?

- A) Sık sık görüştüğümüz için mutluydum.  
B) Nadiren bulabildiğim bir kitabı görünce sevindim.  
C) Okula giderken rastgele Emir'i gördüm.  
D) Bazen benimle birlikte ders çalışırdı.

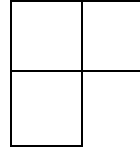
Evleri yandıktan sonra buradan taşındılar.

Kızından ayrılınca yüreğim yanıyor dedi.


Yemeğin altını açık unuttuğu için hepsi yandı.

Ormanda unutulmuş bir camdan ağaçlar yandı.


4) Yukarıdaki tabloda "yanmak" kelimesinin mecaz anlamda kullanıldığı kutucuk tablodan çıkarıldığında yeni oluşacak şekil hangisi olur?



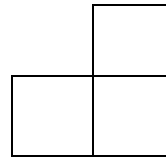
A)



B)



C)



D)

Sevmekten geri kalma

Yapan ol, yıkan olma.

Sevene diken olma

Gülü incitme gönül.

5) Yukarıdaki şiirin ana duygusu nedir?

- A) Özlem                      B) Güzellik  
C) Aile                         D) Sevgi

6) Aşağıdaki cümlelerle ilgili verilen bilgilerden yanlış bilgi verilen kutucuk hangisidir?

	Amaç Sonuç	Neden Sonuç
1) Yemek yemek için mutfığa gitti.		
2) Dinlemediği için anlamadı.		
3) Düğüne gelmek için yalvardı.		
4) Çiçekleri sulamak için bahçeye indi.		

- A)1                      B)2                      C)3                      D)4

7) Aşağıdaki cümlelerin hangisinde terim anlamlı bir kelime kullanılmıştır?

- A) Köpeklerin burnu iyi koku alır  
B) Tatlı sözlerle annesinin gönlünü aldı  
C) İzlediğimiz oyun üç perdeden oluşuyordu  
D) İnce işlerden anlamıyorum.

8) Aşağıdaki cümlelerin hangisinde yakın anlamlı sözcükler bir arada kullanılmıştır?

- A) Aşağı yukarı üç yüz kişi vardı.  
B) İyi kötü hepimiz yaşıyoruz işte.  
C) Yalan yanlış şeyler söyledi.  
D) Bize her akşam hikâye, öykü okurdu.

9)

Teyzemi, ablalarımı çok özledim. İnşallah bu yaz onları kucaklamak nasip olacak. Mehmet'le hepinizi kucaklarız. Kırk veya elli teneke Trabzon peyniri için kaç yüz lira lazım? Bana bildir.

Trabzon peynirinden başkasında iş yok. Hafız teyzemin ellerinden, ablalarımın gözlerinden, senin yanacıklarından öperiz canım anneciğim.  
Bedri Rahmi Eyüboğlu

- A) Anı                      B) Öykü  
C) Deneme                D) Mektup

10) Tehlikeli bir durumu geçiştirmek, o tehlikeden kurtulmak.

Yukarıda açıklaması verilen deyim aşağıdakilerden hangisidir?

- A) Bahtına küsmek
- B) Açık kapı bırakmak
- C) Badireyi atlatmak
- D) Basıp geçmek

11) Kıpkırmızı elbisesi, siyah ayakkabılarıyla herkesin beğenisini almıştı.

Cümlesindeki isimler aşağıdakilerden hangisinde verilmiştir?

- A) Kıpkırmızı-siyah
- B) Siyah-ayakkabı
- C) Ayakkabı-elbise
- D) Kıpkırmızı-herkes

12) Mekanda ..... masa vardı.

Bu cümlede boş bırakılan yere aşağıdaki sözcüklerden hangisi getirilirse “masa” sözcüğünü nitelenmemiş olur?

- A) Yuvarlak
- B) Üç tane
- C) Ahşap
- D) Yeni

13) Aşağıdaki cümlelerin hangisinde altı çizili sözcük soyut anlamlıdır?

- A) Ekmek almaya her gün o gidiyordu.
- B) Mutluluktan havalara uçuyordu.
- C) Çiçeklerini düzenli olarak sulardı.
- D) Dosyada hiçbir eksik yoktu.

14) “Rüzgar uyumuş, ay gülüyordu.” cümlesinde aşağıdaki hangi söz sanatı kullanılmıştır?

- A) Abartma
- B) Konuşturma
- C) Kişileştirme
- D) Benzetme

15) Aşağıdaki cümlelerin hangisinde yazım yanlışı yapılmıştır?

- A) Yağmurdan sonra gök kuşağına bayılıyorum.
- B) Herkes saatinde evde olsun dediler.
- C) Kimse bizimle gelmeyecek mi?
- D) İzmir’den sonra bir de Ankara’ya gideceğiz.

**16)** Tamlayanın ilgi eki (-in), tamlananın iyelik eki (-i) aldığı isim tamlamalarına “belirtili isim tamlaması” denir. Tamlayanın ilgi eki (-in) almayıp tamlananın iyelik eki (-i) aldığı tamlamalara ise “belirtisiz isim tamlaması” denir.

Buna göre aşağıdaki cümlelerden hangisinde belirtisiz isim tamlaması kullanılmıştır?

- A) Herkesin işi başından aşkındı.
- B) Güneş ışığı d vitamini için çok önemlidir.
- C) Denizin derinliğini biz tahmin etmiştik.
- D) Onun kitapları bana çok ağır gelmiştir.

**17)**

- Müdür Beyler henüz gelmediler.
- On yaşlarında bir çocuktü.
- Hasta ateşler içinde kıvranıyordu.
- Anadolu’da Yunuslar bitmez.

Yukarıdaki cümlelerde “-ler,-lar” eki farklı anlama gelecek şekilde kullanılmıştır. Aşağıdakilerden hangisi bu anlamlardan biri değildir?

- A) Saygı
- B) Benzerlik
- C) Aile
- D) Abartma

**18)**

- a. Yarışmayı izlemeye arkadaşım.....geldik.
- b. Heyecanlıyım .....bugün annem geliyor.
- c. Onunla konuştuk ..... ikna edemedik.

Yukarıdaki cümlelerde boş bırakılan yerlere uygun geçiş ve bağlantı ifadeleri getirilirse hangisi boşta kalır?

Fakat- İle- Bu yüzden –Çünkü

- A) Fakat
- B) İle
- C) Bu yüzden
- D) Çünkü

**19)**Aşağıdaki olaylardan hangisi 1.kişi ağzıyla anlatılmıştır?

- A) Eve gittiler ve hemen toparlanıp çıktılar.
- B) Bugün okula geldiğimizde saat henüz çok erkendi, biz de biraz bekledik.
- C) Herkes heyecan içinde kalmıştı çünkü bugün Türkiye maçı vardı.
- D) Aşağı indiler, mutfaktan bir bardak su alıp odaya geçtiler.

20)Aşağıdaki cümlelerin hangisinde büyük harflerin yazımıyla ilgili bir yanlışlık vardır?

- A) Turgut Uyar'ın kitaplarını çok beğeniyorum.
- B) Yarın derste kuzen Anadolu Dağları'nı işleyeceğiz.
- C) İsmail Bey toplantıyı başlatacak.
- D) Programın akışı MEB'in kararıyla belli olacak.

**KAZANIMLAR**

M.6.1.4.3: Bir Tamsayının Mutlak Değerini Belirler ve Anlamlandırır  
M.6.1.5.1: Kesirleri Karşılaştırır, Sıralar ve Sayı Doğrusunda Gösterir.

1) Aşağıdakilerden hangisi yanlıştır?

- A)  $| -13 | = +13$                       B)  $| -5 | = 5$   
C)  $| 0 | = 0$                                 D)  $| +19 | = -19$

2)  $|X|=12$  ifadesine göre X'in alabileceği değerler aşağıdakilerden hangisidir?

- A) 12                                        B) -12  
C) -12 ve +12                          D) -6 ve +6

3) Aşağıdakilerden hangisi diğerlerinden daha büyüktür?

- A) -8                                        B) +4  
C)  $| +10 |$                                   D)  $| -11 |$

4)  $| -10 | + | -2 | + | 0 | - | -5 |$

Yukarıda verilen işlemin sonucu kaçtır?

- A) 6            B) 7            C) 8            D) 9

5) Aşağıdakilerden hangisi  $| -16 |$ 'dan küçüktür?

- A) 16            B)  $| -20 |$             C) 17            D)  $| -4 |$

6)  $(-15)$ 'ten küçük en büyük tamsayı kaçtır?

- A) -14            B) -15            C) -16            D) -17

7) Aşağıdakilerden hangisi doğrudur?

- A) İki basamaklı en büyük negatif tamsayı  $-99$ 'dur.  
B) İki basamaklı en küçük tamsayı  $10$ 'dur.  
C) Üç basamaklı en büyük tamsayı  $-999$ 'dur.  
D) En küçük pozitif tamsayı  $1$ 'dir.

8) Aşağıdaki sıralamalardan hangisi yanlıştır?

- A)  $-7 < -3 < 6$                               B)  $-2 > +4 > -8$   
C)  $+11 > -10 > -14$                       D)  $-3 < -2 < -1$

9) Sayı doğrusu üzerinde (-11),(-3), (+10),(+15) tam sayılarının sıfıra olan uzaklığı en fazladır?

A)-11 B)-3 C)+10 D)+15

10)  $-10 < X < +10$

Yukarıda verilen karşılaştırmaya göre aşağıdakilerden hangisi X'in yerine yazılamaz?

A)-2 B)0 C)|-11| D)5

Denizli = +1 °C  
Ardahan= -12°C  
Kars = -4°C  
Erzurum= -15°C

11)Yukarıda sıcaklıkları verilen illere göre en soğuk olan il aşağıdakilerden hangisidir?

A) Denizli B) Ardahan  
C) Kars D) Erzurum

12)  $|+48| : |-6|$  işleminin sonucu kaçtır?

A)8 B)7 C)6 D)5

13)  $(|-10| + |+3|) \cdot |-2|$  işleminin sonucu kaçtır?

A)-22 B)22 C)-26 D)+26

14) 0'ın 12 birim solundaki tamsayı aşağıdakilerden hangisidir?

A)+12 B)-12 C)+11 D)-11

15) (-4)'ten (+5)'e kadar kaç tane tamsayı vardır?

A)10 B)9 C)8 D)7

16) Aşağıda verilen kesirlerden hangisi en küçüktür?

A)  $\frac{5}{8}$  B)  $\frac{4}{8}$  C)  $\frac{3}{8}$  D)  $\frac{7}{8}$



17) Aşağıdaki kesirlerden hangisi en büyüktür?

- A)  $\frac{1}{4}$       B)  $\frac{3}{5}$       C)  $\frac{8}{20}$       D)  $\frac{5}{10}$

18)  $\frac{5}{8} < \frac{X}{32} < \frac{3}{4}$

Yukarıda verilen karşılaştırmaya göre X'in alabileceği en büyük değeri bulunuz?

- A)23      B)22      C)21      D)20

19)  $\frac{2}{3} < \frac{X}{18} < \frac{8}{9}$

Yukarıda verilen karşılaştırmaya göre X'in alabileceği en küçük tamsayı değeri kaçtır?

- A)10      B)11      C)12      D)13

20)  $\frac{1}{5} < \frac{X}{15} < \frac{2}{3}$

Yukarıda verilen karşılaştırmaya göre X'in alabileceği kaç farklı doğal sayı değeri vardır?

- A)5      B)6      C)7      D)8

**ÜNİTE:** KUVVET VE HAREKET

**KONU:** BİLEŞKE KUVVET

**KAZANIMLAR**

F.6.3.1.1. Bir cisme etki eden kuvvetin yönünü, doğrultusunu ve büyüklüğünü çizerek gösterir.

F.6.3.1.2. Bir cisme etki eden birden fazla kuvveti deneyerek gözlemler.

F.6.3.1.3. Dengelenmiş ve dengelenmemiş kuvvetleri, cisimlerin hareket durumlarını gözlemleyerek karşılaştırır.

**KONU ÖZETİ**

**Bileşke Kuvvet nedir**

İki ya da daha fazla kuvvetin bir cisme yaptığı etkiyi tek başına yapabilen kuvvete Net kuvvet (**Bileşke Kuvvet**) denir.

Bileşke kuvvet R sembolü ile gösterilir.

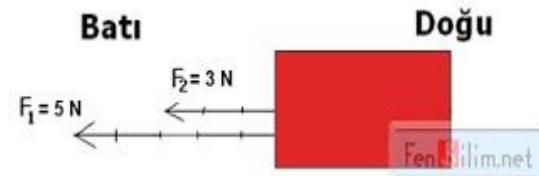
**Bileşke kuvvet nasıl bulunur**

**a- Aynı yöndeki kuvvetlerin bileşkesi**

Bir cisme etki eden doğrultuları ve yönleri aynı kuvvetlerin bileşkesini bulmak için kuvvetler **toplanır**. Cisim, bileşke kuvvetin yönünde hareket eder.

**Bileşke Kuvvet (R)= F<sub>1</sub> + F<sub>2</sub>**

**Örnek:** Bir cismine aynı yön ve doğrultuda 5 N ve 3 N'luk kuvvetler etki ediyor. Cismin hareket yönü ve cisme etki eden net kuvvet nedir?



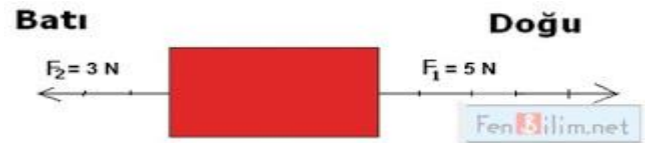
$R = F_1 + F_2 = 4 \text{ N} + 3 \text{ N} = 7 \text{ N}$  ( Net kuvvet 8 N dur.)

**b- Zıt yöndeki kuvvetlerin bileşkesi:** Bir cisme etki eden doğrultuları aynı yönleri zıt ise, kuvvetlerin bileşkesini bulmak için kuvvetler **çıkarılır**. Bileşke kuvvetin yönü büyük kuvvetin yönüdür. Cisim, büyük kuvvetin yönüne doğru hareket eder.

**Bileşke Kuvvet (R)= F<sub>1</sub> - F<sub>2</sub>**

**Örnek:** Bir cismine aynı doğrultuda ve zıt yönde 5 N ve 3 N'luk kuvvetler etki ediyor.

Cismin hareket yönü ve cisme etkiyen net kuvvet nedir?



$R = F_1 - F_2 = 5 \text{ N} - 3 \text{ N} = 2 \text{ N}$  ( Net kuvvet 2 N'dur.)

**Dengeleyici Kuvvet**

Dengeleyici kuvvet net kuvvetle aynı büyüklükte fakat zıt yöndedir. Dengeleyici kuvvet cismin dengede kalmasını sağlar.

**F- Dengelenmiş ve Dengelenmemiş Kuvvetler**

**a-Dengelenmiş**

**kuvvet**

Bileşkeleri sıfır olan kuvvetlere dengelenmiş kuvvetler denir. Dengelenmiş kuvvetlerin etkisinde olan cisim ya hareketsizdir, ya da sabit süratle hareket eder.



Dengelenmiş Kuvvet

**Not:** Cisim dengelenmiş kuvvetlerin etkisinde ise ya durur ya da sabit süratle hareket eder.

### **b-Dengelenmemiş kuvvet**

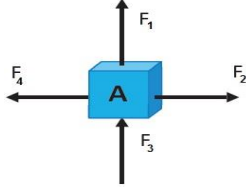
Bileşkeleri sıfırdan farklı olan kuvvetlere dengelenmemiş kuvvetler denir. Cismin hareket yönü ile dengelenmemiş kuvvet aynı yönde ise cismin sürati artar, zıt yönde ise azalır.



Dengelenmemiş Kuvvet

**Not:** Cisim dengelenmemiş kuvvetlerin etkisinde ise ya hızlanır ya da yavaşlar.

1) A cisminde etki eden aşağıdaki kuvvetlerden hangileri aynı doğrultuda ve zıt yöndedir?

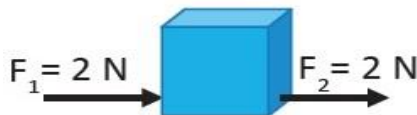


- A)  $F_2$  ve  $F_4$       B)  $F_1$  ve  $F_3$   
C)  $F_1$  ve  $F_4$       D)  $F_2$  ve  $F_3$

2) Net kuvvet ile ilgili olarak aşağıdaki bilgilerden hangisi **yanlıştır**?

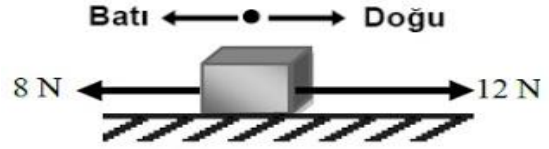
- A) İki ya da daha fazla kuvvetin etkisini tek başına yapan kuvvete net kuvvet denir.  
B) Net kuvvet R sembolü ile gösteriler.  
C) Net kuvvet bulunurken her zaman kuvvetlerin toplamı ile bulunur.  
D) Net kuvvetin diğer adı bileşke kuvvettir.

3) Aşağıdaki kuvvetlerin bileşkesi kaç Newton'dur?



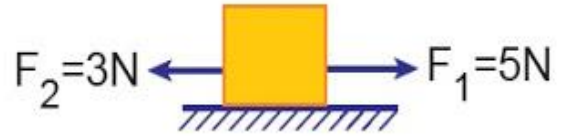
- A) 0 N      B) 2 N  
C) 4 N      D) 7 N

4) Aşağıda verilen kuvvetlerin bileşkesinin yönü ve büyüklüğü nedir?



- A) Doğu 4 N      B) Batı 4 N  
C) Doğu 20 N      D) Batı 20 N

5) Aşağıda cisme etki eden kuvvetlerin bileşkesinin sıfır olabilmesi için üçüncü kuvvetin hangi yönde ve kaç Newton eklenmesi gerekir?



- A) Doğu 2 N      B) Doğu 8 N  
C) Batı 2 N      D) Batı 8 N

6) Aşağıdaki cisme etki eden kuvvetler gösterilmiştir.



Cisme etki eden net kuvvetin  $F_1$  yönünde 2 N olabilmesi için  $F_2$  kuvvetinin kaç N olması gerekir?

- A) 2      B) 4      C) 6      D) 8

7) Aşağıdaki cisme etki eden kuvvetlerle ilgili olarak verilen bilgilerden hangisi **yanlıştır**?



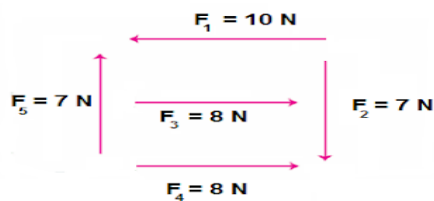
- A) Kuvvetler aynı doğrultudadır.  
 B) Bileşke kuvvet 4 N'dir.  
 C) Cismi dengelemek için batı yönünde 4 N'lik kuvvet uygulanmalıdır.  
 D) Cisim dengelenmiş kuvvetlerin etkisindedir.

8) Aşağıda verilenlerden kaç tanesi dengelenmiş kuvvet etkisi altındadır?

- Yukarıdan aşağıya süzülen paraşütçü
- Duvarda asılı tablo
- Çatıdan düşen kiremit
- Hız sabitleyici ile sürati 90 km/sa ayarlı araç

A) 1 B) 2 C) 3 D) 4

9) Aşağıda verilen kuvvetlerden hangilerinin doğrultuları ve büyüklükleri aynı yönleri zıttır?



- A)  $F_1$  ve  $F_3$  B)  $F_3$  ve  $F_4$   
 C)  $F_2$  ve  $F_5$  D)  $F_1$  ve  $F_4$

10) Dengelenmiş ve dengelenmemiş kuvvetler hakkında verilen bilgilerden hangisi **doğrudur**?

- A) Dengelenmemiş kuvvetlerin etkisindeki cisimler her zaman yavaşlayarak hareket eder.  
 B) Dengelenmiş kuvvetler etkisindeki cisimler sadece dururlar.  
 C) Yer çekimi kuvveti ile yere düşen bütün cisimler dengelenmiş kuvvet etkisindedir.  
 D) Dengelenmiş kuvvetlerde net kuvvet her zaman sıfırdır.

11) Yokuş aşağı inen bisiklet için aşağıdaki bilgilerden hangisi **yanlıştır**?

- A) Dengelenmiş kuvvetlerin etkisindedir  
 B) Dengelenmemiş kuvvetlerin etkisindedir.  
 C) Bileşke kuvvet sıfırdan farklıdır.  
 D) Cismin sürati giderek artar.

12) Dengeleyici kuvvet ile ilgili verilen bilgilerden hangisi **doğrudur**?

- A) Dengeleyici kuvvet net kuvvetle aynı yöndedir.  
 B) Dengeleyici kuvvet etki ederse net kuvvet sıfır olur.  
 C) Dengeleyici kuvvet net kuvvetten büyüktür.  
 D) Dengeleyici kuvvet ile net kuvvetin doğrultuları farklıdır.

13) Limanda bağlı bir gemi için aşağıda verilen bilgilerden hangisi **yanlıştır**?

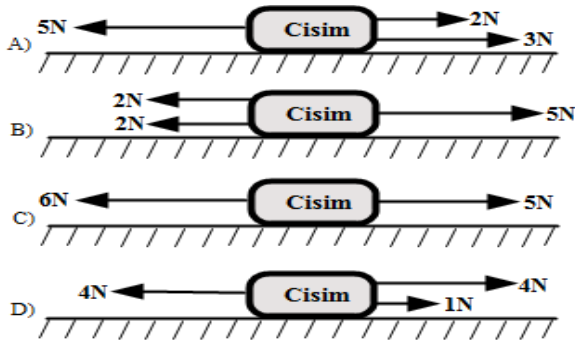
- A) Gemiye yer çekimi kuvveti etki etmez.
- B) Gemi dengelenmiş kuvvetlerin etkisindedir.
- C) Geminin ağırlığı bir kuvvet meydana getirir.
- D) Gemi üzerinde net kuvvet sıfırdır.



14) Yukarıdaki cisme etki eden Net Kuvvet (**Bileşke kuvvet**) in büyüklüğü ve yönü **aşağıdakilerden hangisidir?**

- A) 4 N Doğu yönünde
- B) 5 N Batı yönünde
- C) 1 N Batı yönünde
- D) 2 N Doğu yönünde

15) Aşağıdaki cisimlerden hangisi **dengelenmiş kuvvetlerin etkisindedir?**



Bekliyor



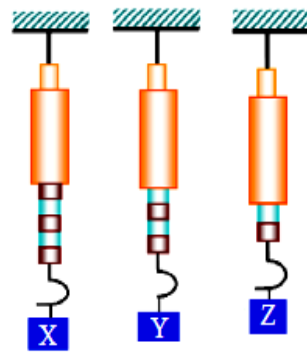
Kaçıyor



16) Aylin yol kenarında arkadaşını beklerken, Sıla bisikleti ile arkasından havlayan köpekten hızlanarak kaçmaktadır. Bisikletlere uygulanan kuvvetler hakkında ne söylenebilir? Aylin'in bisikleti Sıla'nın bisikleti

- A) Dengelenmiş kuvvetler  
Dengelenmiş kuvvetler
- B) Dengelenmemiş kuvvetler  
Dengelenmemiş kuvvetler
- C) Dengelenmiş kuvvetler  
Dengelenmemiş kuvvetler
- D) Dengelenmemiş kuvvetler  
Dengelenmiş kuvvetler

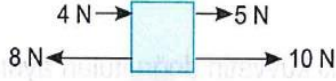
17)



Şekilde verilen dinamometreler özdeş olup, Z cismi 4 N olarak ölçülmüştür. Dinamometrelerde ölçülen X ve Y kaçar N'dur?

	X	Y
A)	8	6
B)	10	6
C)	8	8
D)	10	8

18)

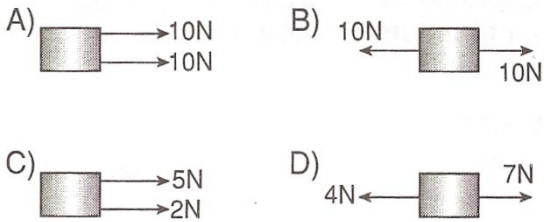


Yukarıdaki cisme etki eden net kuvvet kaç N'dir?

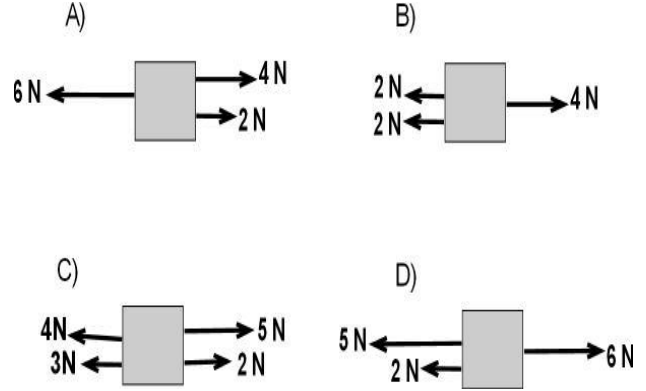
- A) 11      B) 15      C) 19      D) 27

19)

Aşağıdaki durumların hangisinde net kuvvetin büyüklüğü en fazladır?



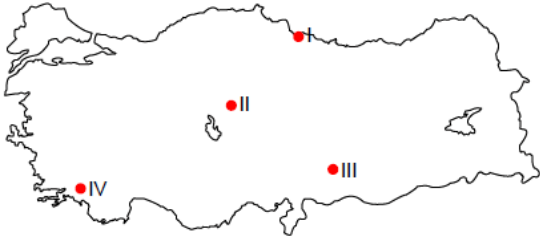
20) Aşağıdaki cisimlerden hangisi dengelenmiş kuvvetlerin etkisinde değildir?



1) Yazları sıcak ve kurak, kışları ise ılık ve yağışlıdır. Yaz turizmi ve seracılık faaliyetlerine elverişlidir.

Yukarıda özellikleri verilen ve ülkemizde görülen iklim türü aşağıdakilerden hangisidir?

- A) Muson iklimi
- B) Karasal iklim
- C) Akdeniz iklimi
- D) Karadeniz iklimi



2) Haritada numaralandırılmış alanlardan hangisini ziyaret edersek Orman bitki örtüsü ile karşılaşırız?

- A) I
- B) II
- C) III
- D) IV

İklim	Karasal	Akdeniz	Karadeniz
	?	?	?

3) Yukarıdaki tabloda soru işareti ile gösterilen yerlere sırasıyla aşağıdakilerden hangisi getirilmelidir?

- A) Bozkır, Orman, Maki
- B) Orman, Bozkır, Maki
- C) Maki, Orman, Bozkır
- D) Bozkır, Maki, Orman

4) Sıcaklık yükseltiye bağlı olarak değişim gösterir. Yükselti arttıkça sıcaklık azalır. Ülkemizde yükseltiye bağlı olarak sıcaklıkların en düşük olduğu bölge aşağıdakilerden hangisidir?

- A) Karadeniz
- B) Doğu Anadolu
- C) Akdeniz
- D) İç Anadolu

5) Türkiye toprak tipleri, tarım ürünleri ve bitki örtüsü çeşitliliği açısından oldukça zengindir. Bu durumun temel sebebi aşağıdakilerden hangisidir?

- A) Farklı iklim tiplerinin görülmesi
- B) Yağış miktarının fazla olması
- C) Yıllık sıcaklık farklarının az olması
- D) Arazinin engebeli olması

6) Türkiye'de en yaygın yeryüzü şekli dağlardır. Ülkemizde birçok dağ kuşağı bulunmaktadır. Aşağıdakilerden hangisi bu durumun sonuçlarındandır?

- A) Dört mevsim yaşanır.
- B) Yükselti ve engebe fazladır.
- C) Yaz turizmi gelişmiştir.
- D) Farklı iklimler görülür.

7) Samet: Benim yaşadığım bölgede ilkbahar yağışlarıyla yeşeren, yaz kuraklığıyla sararan kısa boylu otlardan oluşan bozkırlar vardır.

Buna göre Samet, ülkemizde hangi iklim türünün görüldüğü alanda yaşamaktadır?

- A) Akdeniz iklimi
- B) Karadeniz iklimi
- C) Karasal iklim
- D) Muson iklimi



8) Aşağıda Türkiye’de dağların uzanışıyla ilgili olarak verilen bilgilerden hangisi yanlıştır?

- A) Ege Bölgesi’nde dağlar denize dik olarak uzanır.
- B) Akdeniz Bölgesi’nde dağlar denize paralel uzanır.
- C) Ülkemizde dağlar doğu-batı yönünde uzanır.
- D) En dağlık bölge Marmara Bölgesi’dir.

- ✓ Her mevsim yağışlıdır.
- ✓ Bitki örtüsü ormanlardır.
- ✓ En fazla yağışı sonbahar mevsiminde alır.

Ahmet, bulunduğu bölgede görülen iklim tipi ile ilgili yukarıdaki bilgileri vermiştir.

9) Buna göre, Ahmet’in verdiği bilgilerden hareketle yaşadığı bölgede hangi iklim tipi görülmektedir?

- A) Karadeniz İklimi
- B) Akdeniz İklimi
- C) Karasal İklim
- D) Kutup İklimi

10) Karadeniz ikliminin görüldüğü yerlerde evler genellikle ahşap malzemelerden yapılır. Çay, fındık, mısır gibi ürünler yetiştirilir. Ayrıca ormancılık bu bölgede önemli bir geçim kaynağıdır.

Metinde iklimin hangi alana etkisine örnek verilmemiştir?

- A) Konut tipine
- B) Tarıma
- C) Ulaşım
- D) Ekonomik faaliyetlere

11) Bir fiziki haritada kahverengi rengin fazlaca kullanılması o bölgenin hangi özelliğini gösterir?

- A) Karasal iklim tipinin görüldüğünü
- B) Ortalama yükseltisinin fazla olduğunu
- C) Tarımsal faaliyetlerin yapıldığını
- D) Orman örtüsünün zayıf olduğunu

12) Ülkemizde ortalama yükseltinin en az olduğu bölge Marmara Bölgesi’dir.

Buna göre Marmara Bölgesi’ni gösteren fiziki haritada aşağıdaki renklerden hangisi daha çok kullanılır?

- A) Kahverengi
- B) Sarı
- C) Turuncu
- D) Yeşil

13) Aşağıdakilerden hangisi iklimden etkilenmez?

- A) Tarım ürünlerinin çeşidi
- B) Yer altı kaynakları
- C) Yiyecek ve giyecek türleri
- D) Mesken (Ev) tipleri

14) Ülkemizde Karadeniz ve Akdeniz bölgelerinde yıllık sıcaklık farkı, iç kesimlerde kıyı kesimlerine göre daha fazladır. Kıyı ile iç kesimleri arasında kara ulaşımı zordur.

Yukarıda verilen durumların ortak nedeni aşağıdakilerden hangisidir?

- A) Dağların uzanış yönü
- B) Yağış tipleri
- C) Ormanlık alanlar
- D) İklim özellikleri

15) Aşağıdakilerden hangisi Türkiye'nin göreceli (Özel) konumunun sonuçlarından değildir?

- A) Üç tarafı denizlerle çevrilidir.
- B) Yer altı kaynakları bakımından zengindir.
- C) Ülkemiz petrol ve doğal gaz boru hatlarının geçiş yolları üzerindedir.
- D) Akdeniz'den Karadeniz'e doğru sıcaklık azalır.

16) Ayşe: "Yaşadığım şehirde ormanlar geniş yer tutuyor. Ayrıca deniz kenarında bulunan şehrimizin iklimi de ılıman, güneşli gün sayısı fazladır. Arazilerimiz çok geniş ve verimlidir. Bu şehir herkesin yaşamak isteyeceği bir yerdir."

**Ayşe'nin yaşadığı şehirde aşağıdaki faaliyetlerden hangisinin gelişmesi için gerekli şartlardan söz edilmemiştir?**

- A) Madencilik
- B) Deniz turizmi
- C) Tarımsal üretim
- D) Kereste üretimi

Ahmet: Yaşadığım yer yazları sıcak ve kurak kışları ise ılık ve yağışlıdır.

Merve: Yaşadığım yer yazları sıcak kışlar soğuk ve kar yağışlıdır.

Mehmet: Yaşadığım yer yıl boyunca yağışlıdır.

**17) Yukarıdaki bilgilere bakarak aşağıda verilen iklim sıralaması hangi şıkta doğru verilmiştir.**

- A) Akdeniz, Karadeniz, Karasal
- B) Karadeniz, Akdeniz, Karasal
- C) Akdeniz, Karasal, Karadeniz
- D) Karadeniz, Karasal, Akdeniz

**18) Dünya üzerin de kuzey yarımkürede orta kuşakta yer alan kıtaların kuzeyinden esen rüzgarların soğuk, güneyinden esen rüzgarların ise sıcak olmasının nedeni aşağıdakilerden hangisi ile açıklanabilir?**

- A) Bakı etkisi
- B) Enlem
- C) Rüzgarların yönü
- D) Yükselti

19) Bir yerin denizlerden uzak olması durumuna karasallık denir. Karalar çabuk ısınır çabuk soğumaktadır. Bu nedenle karasal bölgelerimiz yazları çabuk ısınırken kışları çabuk soğur.

**Yukardaki bilgilere bakarak aşağıdaki illerden hangisi bu tanıma uygun olabilir?**

- A) İstanbul                      B) İzmir  
C) Antalya                      D) Muş

20) Nüfusun yeryüzünde dağılışını insan etkisi olmadığı faktörlere **doğal faktörler** denir. **Aşağıdakilerden hangisi nüfusun yeryüzünde dağılışında etkili olan doğal faktörlerden değildir?**

- A) Su kaynakları  
B) Yeryüzü şekilleri  
C) Sanayi  
D) İklim

## 1. Namaz İbadeti ve Önemi



Namaz, Müslümanların belirli şartlara ve kurallara uygun olarak, günde beş vakit yerine getirdikleri bir ibadettir. Akıllı ve ergenlik çağına gelmiş her Müslümana farzdır. Tüm peygamberlere ve ümmetlerine emredilmiştir.

Namaz kılan kişi ahlakını güzelleştirmiş olur. Rabbiyle konuşur ve Peygamberimizin “Secde; kulun Rabbi’ne en yakın olduğu andır.” hadisine göre Allah’a yakınlaşır. Ayrıca Namaz, birlikte yaşama ve dayanışma bilinci geliştirir. İslam’da cemaatle namaz kılmak teşvik etmiştir.

Namaz, Kur’an’ı Kerim’de “salat” kelimesiyle ifade edilir. Salat; namaz kılmak, dua etmek ve yüceltmek anlamına gelir.

### ` Ayet ve Hadislerde Namazın Önemi

/ “...Namazı dosdoğru kılın; çünkü namaz müminler üzerine vakitleri belli bir farzdır.” (Nisa Suresi 103)

/ “Amellerin en faziletlisi vaktinde kılınan namazdır.”

/ “Kıyamet gününde kulun ilk hesaba çekileceği amel namazdır.”

## 2. Namaz Çeşitleri

/ **Farz Namazlar** Beş vakit namaz, cuma namazı ve cenaze namazı gibi Allah’ın kılınmasını kesin olarak emrettiği namazlardır. Bu namazların, unutmaya veya uykuda kalma gibi sebeplerle vaktinde kılınamaması durumunda ilk fırsatta kazası yapılmalıdır.

/ **Vacip Namazlar:** Bayram namazları ve yatsıdan sonra kılınan vitir namazı gibi; hükmü, farz kadar açık ve kesin olmamakla birlikte Hanefi mezhebine göre kılınması emredilen namazlardır.

/ **Sünnet Namazlar:** Beş vakit farz namazın öncesi ve sonrasında kılınan sünnetler namazlar, teravih namazı, teheccüd namazı, tahiyetü'l mescid, yolculuk namazı, tesbih namazı, tövbe namazı, şükür namazı gibi farz ve vacibin dışında Allah’ın (c.c.) rızasını kazanmak amacıyla kılınan namazlardır.

### Namazın dışındaki/Namaz başlanmadan önce yerine getirilmesi gereken şartlar

**Hadestentaharet/Abdest** almak, gerekiyorsa gusül abdesti almak, gerekiyorsa teyemmüm almak,

**Necasetten taharet** /Bedenimizin, elbisemizin ve namaz kılacağımız yerin necasetten arındırılması,

**Setr-i avret/Örtülmesi** gereken yerleri örtmek<sup>1</sup>,

**İstikbâl-Kıble/Kâbe’ye** yönelmek,

**Vakit**/Her namazı vaktinde edâ etmek,

**Niyet** /hangi namazı kılıyorsak ona niyet etmek.

**Namazınıçindeki/Namaz esnasında yerine getirilmesi gereken şartlar/Namazın rükünleri**

\***İftitah tekbiri**/Namaza 'Allâhu Ekber' diyerek başlamak,

\***Kıyam**/Namazda ayakta durmak,

\***Kıraat**/Namazda Kuran'dan bir bölüm okumak,

\***Rükû'**/Namazda elleri dizlere koyarak eğilmek,

\***Secde**/Namazda elleri, dizleri, alını ve burnu aynı anda yere koymak, her rekâta iki kez peş peşe yapılır

\***Ka'de-i âhire**: Namazın sonunda 'Ettehiyyâtü' duasını okuyacak kadar oturmak



1) Hangisi namazın rükunlarından (içindeki şartlardan) biridir?

- A) vakit
- B) niyet
- C) hadesten taharet
- D) kıraat

2) Esra: bugün namaz kılarken ezan okunduğunu fark etmiştir. Esra namazın şartlarından hangisini yerine getirmemiştir?

- A) vakit
- B) niyet
- C) setri avret
- D) istikbal-i kible

3) Hangisi abdestin şartlarından biri değildir?

- A) başı meshetmek
- B) kolları yıkamak
- C) ayakları yıkamak
- D) ağza ve burna su vermek

4) Emre ve arkadaşları pikniğe gitmişlerdi. Birkaç saat sonra namaz vaktinin çıkmak üzere olduğunu fark ettiler. Fakat yanlarına sadece içmeye yetecek kadar su almışlardı. O yüzden toprakla alınan abdest olan..... almaya kara verdiler.

Yukarıdaki boşluğa hangisi getirilmelidir?

- A) setri avret
- B) necasetten taharet
- C) teyemmüm
- D) hadesten taharet

- 5) - farzı kifaye bir namazdır  
- rükusu – secdesi yoktur  
- rekâtı yoktur

Yukarıda verilen bilgilere sahip bu namaz hangisidir?

- A) teravih namazı
- B) Cuma namazı
- C) cenaze namazı
- D) bayram namazı



6) Farz olmayan, Peygamberimiz ' in kıldığı ve bize de tavsiye ettiği namazlara "nafile namaz" denir.

Buna göre hangisi nafile namazlardan biri değildir?

- A) Teheccüd namazı
- B) Teravih namazı
- C) Bayram namazı
- D) İstihare namazı

7) Ayşe annesine namazın şartlarından biri olan ..... in ne anlama geldiğini sordu. Annesi ona ..... namazda, vücudun başkalarına gösterilmesi yasak olan yerlerinin örtülmesi demektir. Namaz kılarken kadınların el, ayak ve yüz dışında tüm vücudunu örtmeleri; erkeklerin ise en az göbekleri ile diz kapaklarının altına kadar olan yerleri örtmesi gerekir." Dedi.

Boşluğa gelmesi gereken kelime hangisidir?

- A) Setr-i avret
- B) Hadesten taharet
- C) İftitah tekbiri
- D) Kade-i ahire

8) "Essalâtu hayrun mine'n-nevm" cümlesi hangi vaktin ezanda yer alır?

- A) sabah namazı
- B) öğle namazı
- C) ikindi namazı
- D) akşam namazı

9) İmam bayram ve Cuma namazlarından sonra merdivenli bir yere çıkıp hutbe okur. Bu merdivenli yapının ismi nedir?



- A) mihrap
- B) minber
- C) saf
- D) kible

10) Bazı namazların mutlaka cemaatle kılınması gerekirken , bazıları ise tek başına da kılınabilir? Aşağıda verilen eşleştirmelerden hangisi yanlıştır?

- A) Cuma namazı – cemaatle kılınmalıdır
- B) Cenaze namazı – cemaatle kılınmalıdır
- C) Bayram namazı – tek başına kılınabilir
- D) Vitir namazı – tek başına kılınabilir

11) Hz Zekeriyya 'nın mesleği aşağıdakilerden hangisidir?

- A) çiftçi
- B) tüccar
- C) marangoz
- D) demirci

**12)** Hz Meryem'in bakımını üstlenen peygamber hangisidir?

- A) Hz Zekeriyya
- B) Hz Musa
- C) Hz Yahya
- D) Hz İdris

**13)** "Orada Zekeriya Rabbine dua etti: "Rabbim, bana Katından tertemiz bir soy armağan et. Doğrusu Sen, duaları işitensin" dedi. O mihrapta namaz kılarken, melekler ona seslendi: "Allah, sana .....'yı müjdeler. O, Allah'tan olan bir kelimeyi (İsa'yı) doğrulayan, efendi, iffetli ve salihlerden bir peygamberdir." ( Al-i İmran 38-39. ayet)

Hz Zekeriyya'nın duasına karşılık Allahu Teala'nın müjdelediği oğlu aşağıdakilerden hangisidir?

- A) Hz İsa
- B) Hz Yahya
- C) Hz Musa
- D) Hz Ömer

**14)** Allah'ın mucizesi eseri babasız dünyaya gelen peygamber hangisidir?

- A) Hz Musa
- B) Hz İsa
- C) Hz İbrahim
- D) Hz Yunus

**15)** Namazı bozan bazı durumlar vardır. Buna göre hangisini yapan kişinin namazı bozulmaz?

- A) namazdayken sesli gülmek
- B) vücudunu kiblede başka bir yöne çevirmek
- C) Allah korkusundan ağlamak
- D) kasten öksürmek

**16)** Namazla ilgili aşağıdakilerden hangisi yanlıştır?

- A) rükuda iken Subhane Rabbiyel Azim denir
- B) Namazı bitirirken önce sola sonra sağa selam veririz
- C) Fatiha suresinden sonra okunan surelere zammı sure denir
- D) secdede iken Subhane Rabbiyel Ala denir



17) Kişi selam vermeden önce sırasıyla  
“ ..... , .....  
, ..... dualarını okumalıdır.  
Cümlesindeki boşuklara hangileri  
gelmelidir?

- A) Rabbena , Salli-Barik , Ettehiyatu
- B) Ettehiyatu , Salli – Barik ,  
Rabbena
- C) Ettehiyatu , Rabbena , Salli – Barik
- D) Salli – Barik , Ettehiyatu , Rabbena

18) Vakit namazlarının hangisinde  
yanlışlık yapılmıştır?

- A) sabah namazı 4 rekat
- B) akşam namazı 5 rekat
- C) öğle namazı 10 rekat
- D) ikindi namazı 10 rekat

19) Namazlar farz, vacip, sünnet (nafile)  
olarak üçe ayrılır. Hangileri vacip  
namazlara örnektir?

- A) Bayram –  
teravih
- B) Bayram – vitir
- C) Cenaze – vitir
- D) Cuma – cenaze



20) Namaz kılmadan önce abdest  
alması gereken kişi namazın hangi  
şartını yerine getirmiş olur?

- A) hadesten taharet
- B) necasetten taharet
- C) setr-i avret
- D) istikbal-i kible

1) **Lisa:** ..... is the weather like in Siirt?

- A) How
- B) What
- C) Why
- D) When

2) **Selin:** It's.....outside, so please be careful while driving home.

- A) sunny
- B) cloudy
- C) foggy
- D) partly sunny

**ANSWER THE QUESTIONS 3, 4, and 5 ACCORDING TO THE PARAGRAPH BELOW.**

Hi! I am Patricia. I am ten years old. I am from Italy. I live with my family in Los Angeles. We live in a farm in the country. I think village life is more peaceful than urban life. I usually get up very early. At the moment, my father is washing his car. My mother is preparing lunch. My sister ,Jessica, is reading book. I am feeding our dog Sam.

3) Which one is false?

- A) Her mother is preparing sandwich.
- B) They have a car.
- C) They don't live in Italy.
- D) They are from Italy.

4) Which of the following can complete their formation given below according to the paragraph?

I. Country.....

II. Sibling.....

III. Pet.....

- A) I. Los Angeles II. Jane III. Jessica
- B) I. Italy II. Jessica III. Sam
- C) I. Italy II. Jane III. Sam
- D) I. USA II. Sam III. A dog

5) ..... now.

- A) They are singing
- B) Jessica is reading book
- C) Her father is washing the dishes
- D) Jessica is feeding Sam

6) **Suzan:** ..... is the temperature in İzmir?

**Seyma:** It is 16 celcius.

- A) how long
- B) what
- C) how
- D) when

7) **Cemil:** ..... do you feel when it's stormy?

**Can:** I feel depressed.

- A) How
- B) Why
- C) Where
- D) Who

8) **Tarık:** Is it rainy ordry ..... desert?

**Melih:** It is always dry and hot.

- A)on
- B)at
- C)-
- D)in

9) Give the corrects pelling for the numbers below.

I.106                      II.47                      III.3300

- A) I.Fourty four    II.One thousand three  
III.Thirty three thousand
- B) I.A hundred and six    II.Fourty seven  
III.Thirty three hundred
- C) I.One hundred six    II.Forty seven  
III.Three thousand three hundred
- D) I.Six hundred    II.Seventy four  
III.Thirty three

10) **Senkal:** What's the matter?.....

**Emre:** I don't know. I feel sleepy. I think it's the weather.

Which of the following completes dialogue above?

- A) You look anxious.
- B) I don't want to listen to music now.
- C) You look so happy.
- D)Why do you like rainy days?

11. **Suzan:** .....

**Esmâ:** Cold and cloudy.

- A) What is the weather like on the weekend?
- B) What is the time?
- C) How does the weather affect your mood?
- D) Is it cold and cloudy on Friday?

12. **Ali:**.....?

**Mehmet:** No, it doesn't. It is usually sunny and dry.

- A) Are you happy with rainy days?
- B) Is it rainy in Dubai?
- C) Does it rain much in Dubai?
- D) Where does it usually rain in Africa?

13)

**Cansu:**.....?

**Canan:** 4 October 2020.

**Cansu:** Oh, today we should visit the National History Museum. Do you want to come with us?

**Canan:** Definitely!

- A) What is the date today?
- B) When is your birthday?
- C) Are you interested in History?
- D) What time is it?

14) **Davut:** Does Melek run errands at home?

**Seyma:**.....

- A) He never runs errands
- B) She usually takes the garbage out
- C) No, she doesn't
- D) At 6 pm

15) (I) He is so ..... that he could not answer the question

(II) Don't go out today. It is ..... out side.

(III) In London, people cannot see the sun because it's so soft.....

(IV) I don't like stormy weather because I'm scared of .....

Fill in the blanks in the sentences above and find the word that is irrelevant.

- A) cloudy
- B) scary
- C) lightning
- D) anxious

**ANSWER THE QUESTIONS 16, 17, and 18 ACCORDING TO THE PARAGRAPH BELOW.**

Hi! My name is Leyla. I am ten years old. I'm from Turkey. I always wake up at 7 on week days. I wash my face and have a shower. I always have breakfast and leave home at at 8:15. My classes start at 8:30. At 12:30, I have lunch with my friends at school canteen.

**16) She always ..... at seven.**

- A) sleeps
- B) gets up
- C) has breakfast
- D) ten years

**17) After breakfast, she leave shome at .....**

- A) seven pm
- B) eight fifteen am
- C) quarter to eight
- D) half past two

**18) What does she do at halfpast twelve?**

- A) She has lunch
- B) She leaves school
- C) She gets up
- D) She has breakfast

**19) I.Erdem always feels sleepy on Monday mornings.**

**II.Erdem dislikes stormy weather.**

**III.Erdem thinks London big gerthan Paris.**

**IV.Erdem enjoys running on sunny days.**

**A.Erdem güneşli günlerde koşmaktan hoşlanır.**

**B.Erdem, Londra'nın Paris'ten daha büyük olduğunu düşünür.**

**C.Erdem pazartesi sabahları daima uykulu hisseder.**

**D.Erdem fırtınalı havaları sevmez.**

**Which of the following matching is True according to Turkish-English meaning?**

- |         |      |       |      |
|---------|------|-------|------|
| A) I-A  | II-B | III-C | IV-D |
| B) I- C | II-D | III-B | IV-A |
| C) I-C  | II-D | III-A | IV-B |
| D) I-D  | II-C | III-B | IV-A |

20) Selin: What do you do after school?

Mustafa: I arrive home at 4 pm., have a rest and do homework. In the evenings, I have dinner with my family.

What time does Mustafa arrive at home?

- A) 14:00                      B) 18:00  
C) 20:00                      D) 16:00

## CEVAP ANAHTARI

## TÜRKÇE

- 1) C
- 2) C
- 3) C
- 4) B
- 5) D
- 6) D
- 7) C
- 8) C
- 9) D
- 10) C
- 11) C
- 12) B
- 13) B
- 14) C
- 15) A
- 16) B
- 17) C
- 18) C
- 19) B
- 20) B

## MATEMATİK

- 1) D
- 2) C
- 3) D
- 4) B
- 5) D
- 6) C
- 7) D
- 8) B
- 9) D
- 10) C
- 11) D
- 12) A
- 13) D
- 14) B
- 15) A
- 16) C
- 17) B
- 18) A
- 19) D
- 20) B

## FEN BİLİMLERİ

- 1) A
- 2) C
- 3) C
- 4) A
- 5) C
- 6) B
- 7) D
- 8) B
- 9) C
- 10) D
- 11) B
- 12) B
- 13) A
- 14) C
- 15) A
- 16) D
- 17) D
- 18) A
- 19) A
- 20) D

## SOSYAL BİLGİLER

- 1) C
- 2) A
- 3) D
- 4) B
- 5) A
- 6) B
- 7) C
- 8) D
- 9) A
- 10) C
- 11) B
- 12) D
- 13) B
- 14) A
- 15) D
- 16) A
- 17) C
- 18) B
- 19) D
- 20) D

DİN KÜLTÜRÜ VE  
AHLAK BİLGİSİ

- 1) D
- 2) A
- 3) D
- 4) C
- 5) C
- 6) C
- 7) A
- 8) A
- 9) B
- 10) C
- 11) C
- 12) A
- 13) B
- 14) B
- 15) C
- 16) B
- 17) B
- 18) D
- 19) B
- 20) A

## İNGİLİZCE

- 1) B
- 2) C
- 3) A
- 4) B
- 5) B
- 6) B
- 7) A
- 8) D
- 9) C
- 10) A
- 11) A
- 12) C
- 13) A
- 14) C
- 15) B
- 16) B
- 17) B
- 18) A
- 19) B
- 20) D

# EMEĞİ GEÇEN ÖĞRETMENLERİMİZ

## SIİRT MİLLİ EĞİTİM AR-GE BİRİMİ

MURAT EKİNCİ

**Koordinatör Okul Müdürü**

KÜBRA SARAN

**Bilişim Teknolojileri Öğretmeni**

ELİF ÖZTÜRK KORKMAZ  
**Türkçe Öğretmeni**

ABDURRAHMAN MARAL  
**Matematik Öğretmeni**

SİNEM YALÇIN  
SONGÜL GEREZ  
ZÜBEYİT ASLANCI  
**Fen Bilimleri Öğretmenleri**

ÖMER FARUK ÇELEPKOLU  
ZAFER YILDIZ  
**Sosyal Bilgiler Öğretmenleri**

EBRU GÜLEÇ  
MEMDUH TOKLU  
**Din Kültürü ve Ahlak Bilgisi  
Öğretmenleri**

KEMAL GÜÇLÜ  
**İngilizce Öğretmeni**